



**Составление
простейших планов
местности.**




Урок географии в 5 классе
18.01.2021
Практическая работа № 5

- **Виды съемок местности.** Глазомерная — съемка местности, проводящаяся простыми приборами, расстояния оцениваются на глаз. Съемка производится в последовательности: подготовка планшета— определение масштаба— определение направлений к предметам — измерение расстояний до них— изображение на планшете условными знаками.
- **Глазомерную съемку можно вести двумя способами:**
 - а) снимать с одной точки — **полярная съемка;**
 - б) двигаться по выбранному маршруту - **маршрутная съемка.**



Оформление плана.



- Записывается название работы.
- В верхнем левом углу листа изображается вертикальная стрелка, показывающая направление «север—юг».
- В правом углу записывают масштаб (масштаб 1: 100000; в 1 см - 1 км).



Составление плана местности по описанию



Содержание задания:
По территории данной местности в направлении с севера на юг проходит шоссе. Его пересекает грунтовая дорога, тянущаяся с юго-запада на северо-восток.

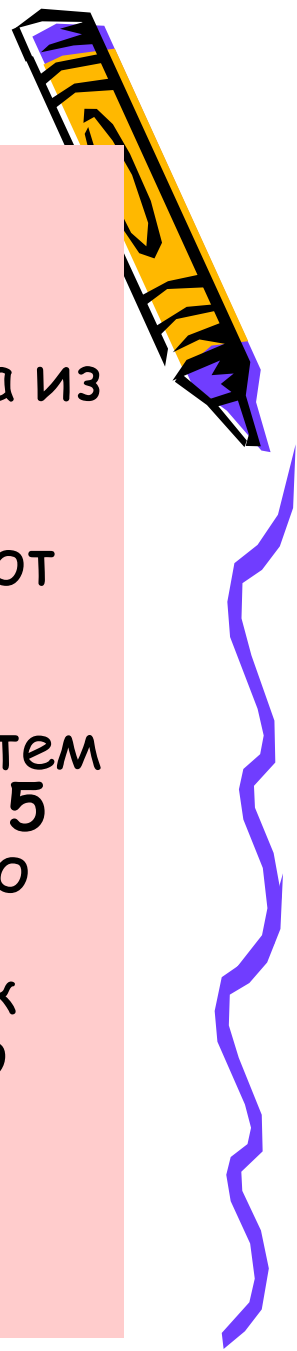
- **Выполняемые действия**
В центре листа обозначают точку, которая будет точкой пересечения шоссе и грунтовой дороги.
- Из этой точки определяют направление на север и обозначают шоссе, проходящее с севера на юг.
- Из этой же точки определяют направление на юго-запад и северо-восток и обозначают грунтовую дорогу.



- **Содержание задания:**
В 5 км к северу от пересечения шоссе с грунтовой дорогой расположен сельский поселок Сорокино, который тянется вдоль шоссе на 1,5 км.



- **Выполняемые действия:**
В соответствии с величиной масштаба из точки пересечения шоссе с грунтовой дорогой откладывают 5 см на север и определяют южную границу поселка. Затем откладывают еще 1,5 см и определяют его северную границу. Обозначают поселок условным знаком по обе стороны шоссе. Подписывают название поселка.




- **Содержание задания:**

Вдоль западной окраины поселка расположен сад.

- **Выполняемые действия:**

Определяют западную окраину поселка и условным знаком обозначают сад, четко показав его северную, южную и восточную границы.





- **Содержание задания:**

В 3 км к югу от места пересечения шоссе и грунтовой дороги построен металлический мост через реку, которая течет в юго-западном направлении.



- **Выполняемые действия:**
- Из точки пересечения шоссе с грунтовой дорогой откладывают к югу 3 см и обозначают металлический мост.
- Из центра моста определяют направление на юго-запад и обозначают реку. Стрелкой показывают направление ее течения.






- **Содержание задания:**

На правом берегу реки лежит луг, а вдоль левого тянется смешанный лес.

- **Выполняемые действия:**
- Определяют правый и левый берег реки. Вдоль правого берега обозначают луг, вдоль левого - смешанный лес, не указывая точные границы их распространения.



- **Содержание задания:**

Вдоль шоссе от моста до поселка протянулась полоса кустарника шириной до 500 м по обе стороны.



- **Выполняемые действия:**
- В соответствии с величиной масштаба на расстоянии 0,5 см к западу и востоку от шоссе рисуют границу распространения кустарника и обозначают его.

Задание на дом

• §11

