

ПОХОДЫ АЛЕКСАНДРА МАКЕДОНСКОГО

**ПОДГОТОВИЛИ
СТУДЕНТКИ ЗБПО-ИСП
БЕЛАН ОЛЬГА И
ГОЛУБЬЕВСКАЯ
АЛЕКСАНДРА**

ЦЕЛЬ УРОКА:

- Познакомить учащихся с восточным походом греко – македонских войск.
- Сформировать умение работать с исторической картой, опираясь на текст учебника и презентацию.

ПЛАНИРУЕМЫЕ РЕЗУЛЬТАТЫ:

ФОРМИРУЕМЫЕ УНИВЕРСАЛЬНЫЕ УЧЕБНЫЕ ДЕЙСТВИЯ:

- Выдвигать версии, планировать деятельность в учебной ситуации, оценивать способы достижения цели в учебной ситуации
- Поиск и нахождение достоверной информации в разных источниках (карты, текст учебника, раздаточный материал); анализировать (выделять главное); определять понятия;
- Обобщать и делать выводы; выделять причины и следствия; представлять информацию в разных формах (таблица, кластер, синквейн, мини-сочинение)

ДАЙТЕ ОТВЕТЫ НА ВОПРОСЫ:

- Где находится Македония?
- Как звали македонского царя? (Филипп II)
- Когда Александр пришел к власти в Македонии? (после смерти своего отца – царя Филиппа)

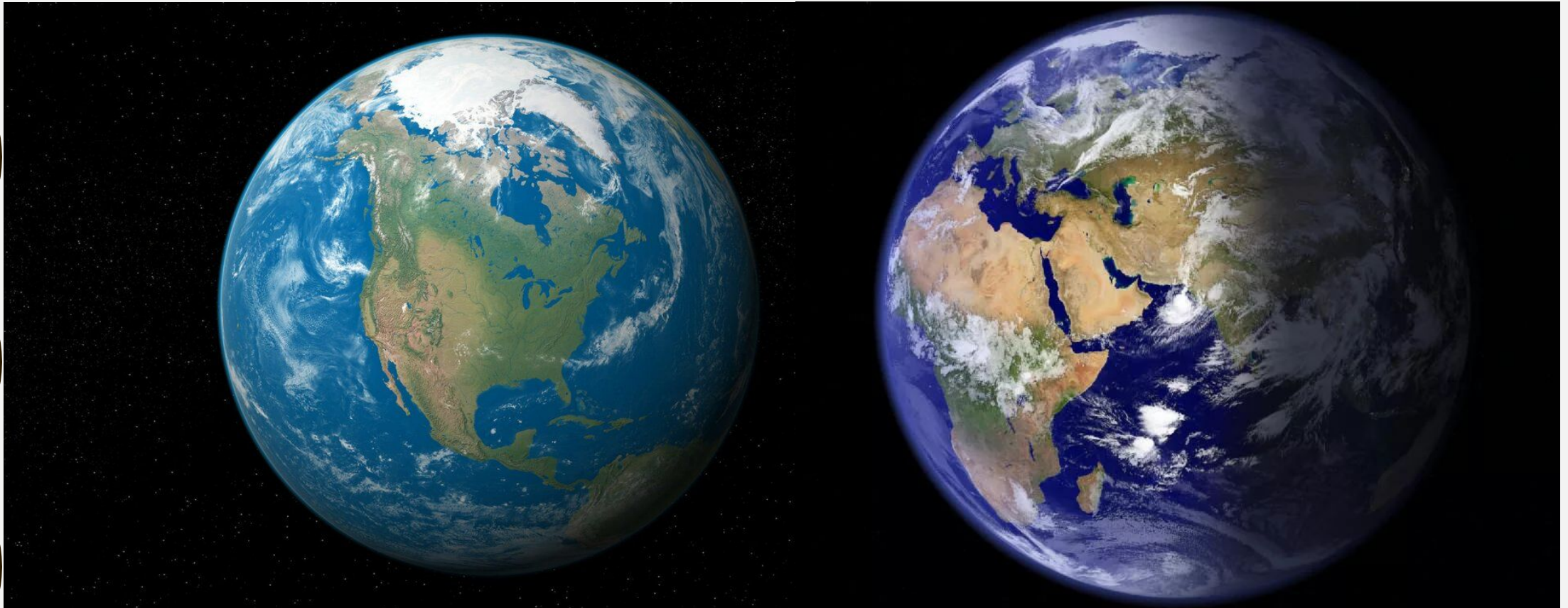
ПРОВЕРЬ СЕБЯ:

- 1.** Македония находится на севере Балканского полуострова
- 2.** Македонского царя звали Филип II
- 3.** Александр пришел к власти после смерти своего отца – царя Филиппа

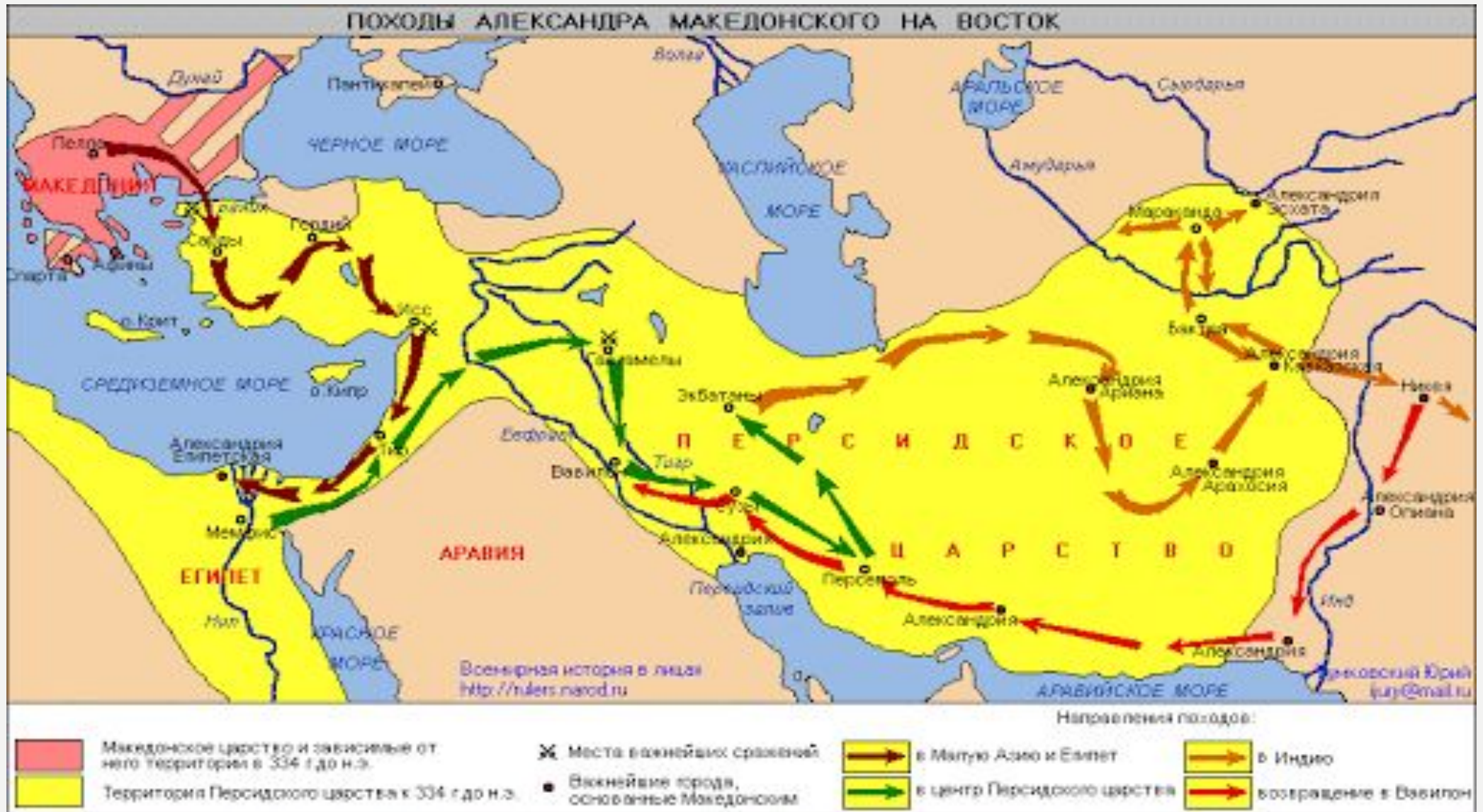
**ЗАДАНИЕ 1.
РАБОТА ПО ИСТОРИЧЕСКОЙ КАРТЕ.
ОТКРОЙТЕ УЧЕБНИК НА СТР.194 - УЧЕБНИК ВИГАСИН А. А.,
ГОДЕР Г.И., СВЕТИЦКАЯ И.С. «ИСТОРИЯ ДРЕВНЕГО МИРА» И
ДАЙТЕ ОТВЕТЫ НА ВОПРОСЫ:**

1. Каким цветом обозначено на карте Македонское царство? (Красным)
2. Каким цветом обозначено Персидское царство? (Желтым)
3. Какие известные нам государства входили в состав Персидского царства?
(Египет, Финикия, Междуречье)
4. В какой части света находятся эти государства? (на Востоке)
5. Какой пролив отделял Европу от Азии? (Дарданеллы).

**ВВОДНОЕ ЗАДАНИЕ: НА КАКОМ ПОЛУШАРИИ
НАХОДИТСЯ ДЕРЖАВА АЛЕКСАНДРА МАКЕДОНСКОГО?
МОЖЕШЬ ЛИ ТЫ ПОКАЗАТЬ ЕЕ ПРИМЕРНОЕ
РАСПОЛОЖЕНИЕ?**



ЗАДАНИЕ 1.



ЗАДАНИЕ 2.

ПРОЧИТАТЬ П.2,3 С. 201-202 §42 УЧЕБНИКА А.А.ВИГАСИНА, Г.И.СВЕНТИЦКОЙ «ИСТОРИЯ ДРЕВНЕГО МИРА»

2. От битвы при Иссе до основания Александрии Египетской. Персидский царь *Дарий Третий* двинулся во главе огромного войска навстречу Александру. Персы и македоняне встретились близ города *Исс*. Александр лично возглавил атаку своих войск и прорвался к самой колеснице персидского царя. Оказавшись в гуще сражающихся, Дарий испугался и бежал с поля битвы. Сопротивление персов было сломлено всего за два часа. Македоняне захватили не только лагерь персов, но и семью царя — мать, жену и двух дочерей. Александр тотчас послал сказать этим женщинам, что воюет только с Дарием, а им будут оказаны те же почести, к каким они привыкли на свободе.

Дальнейшей целью Александра была Финикия. Богатый город Тир решил сопротивляться. Он был расположен на неприступном скалистом острове и окружён стенами. Более полугодом длилась его осада. Жители Тира сражались не за Дария, а за свою свободу. Александру удалось окружить город кораблями, на которых были установлены тараны и метательные машины. Когда под ударами таранов рухнули стены, македо-



Боевой слон.
Рисунок нашего времени.



Боевая колесница персов. Рисунок нашего времени.

няне ворвались в город. Они разграбили и подожгли Тир, убили его мужественных защитников, тысячи жителей обратили в рабство.

В эти дни Александр получил от Дария письмо. Царь персов предлагал мир. Он был готов дать в жёны Александру дочь и половину царства — все земли до Евфрата. «Будь я Александром, — сказал седой Парменион, — я принял бы эти условия!»

Но юному царю полцарства было мало. «Я поступил бы так же, если бы был Парменионом!» — ответил он. Поскольку решал всё царь, война продолжалась.

Египтяне встретили Александра как освободителя от персов. Жрецы объявили его богом и сыном бога Солнца, как было принято в отношении фараонов. Военные успехи настолько вскружили голову Александру, что он принял решение жрецов с благосклонностью. Покорённые народы должны были поверить, что в их страны пришёл бог и ему нужно безоговорочно подчиниться.

В дельте Нила, где остров *Фáрос* защищал от ветра морскую гавань, царь основал город, назвав его *Александрией* в свою честь. Он сам разметил места будущих площадей, улиц и храмов.

3. Гибель Персидского царства. В 331 году до н. э. начался поход Александра в глубь Персии. Целых четыре

ДАЙТЕ ОТВЕТ НА ВОПРОС : КАКИЕ КРУПНЫЕ СРАЖЕНИЯ СМОГ ВЫИГРАТЬ АЛЕКСАНДР МАКЕДОНСКИЙ В ПЕРИОД ВОЕННОГО ПОХОДА НА ВОСТОК?

месяца шло войско. Наконец, переправившись через Евфрат и Тигр, оно оказалось у селения *Гавгамелы*, где в ожидании битвы стояли персы. Даже бывалых македонян встревожил вид огромной равнины, заполненной огнями вражеского лагеря. Дарий Третий собрал невиданную по размерам армию: пехоту, конницу, колесницы и боевых слонов, которых привели индийцы. Македонские военачальники советовали царю напасть на персов ночью. «Я не краду победу», — ответил Александр.

Битва при Гавгамелах началась с атаки персидских колесниц. Бешено неслись кони, грозили смертью остро отточенные косы, приделанные к колёсам и дышлам. Но македоняне вовремя расступились, и колесницы промчались, не причинив им вреда. Возницы гибли под градом македонских стрел.

Построившись клином, македонская конница во главе с Александром в свою очередь атаковала персов, прорвала их строй и устремилась к тому месту, где находился Дарий. За конницей с боевым кличем двинулась фаланга. И снова, как некогда при Иссе, Дария охватил страх. Вскочив на коня, он обратился в бегство, а за ним — его воины.

Одержав победу, Александр занял Вавилон, Персеполь и другие древние города. Управлять вновь завоеванными областями он назначал как македонян, так и знатных персов.



Между тем бежавший от Александра царь-неудачник Дарий Третий был убит своими приближёнными. Войско провозгласило Александра «царём Азии». Он стал требовать, чтобы полководцы отвешивали ему земные поклоны, целовали край его одежды, почитали его как бога. Всё это

раздражало македонских военачальников. Однажды на пиру Клит стал упрекать Александра: «Ты возомнил себя богом! Победы над врагами, добытые нашей кровью, приписал себе одному!» В ярости Александр схватил копьё и нанёс Клиту смертельный удар. Тут же гнев царя угас, он пришёл в ужас от содеянного, но жизнь другу, спасшему его от гибели в битве при Гранике, уже нельзя было вернуть.

ЗАДАНИЕ 3. СОПОСТАВЬТЕ ПРАВИЛЬНО ДАТЫ И СОБЫТИЯ:

Дата	место сражения
334г.до н.э	
333 г. до н.э.	
332 г. до н.э.	
331 г. до.н.э	
327 г. до н.э.	
324 г. до н.э.	
323 г. до н.э.	

1) Битва при г. Иссе.; 2) Смерть А. Македонского; 3) Битва при Гранике; 4) Поход в Индию; 5) Битва при Гавгамелах; 6) Завоевание Тира; 7) Возвращение в Вавилон.

ПРОВЕРЬ СЕБЯ :

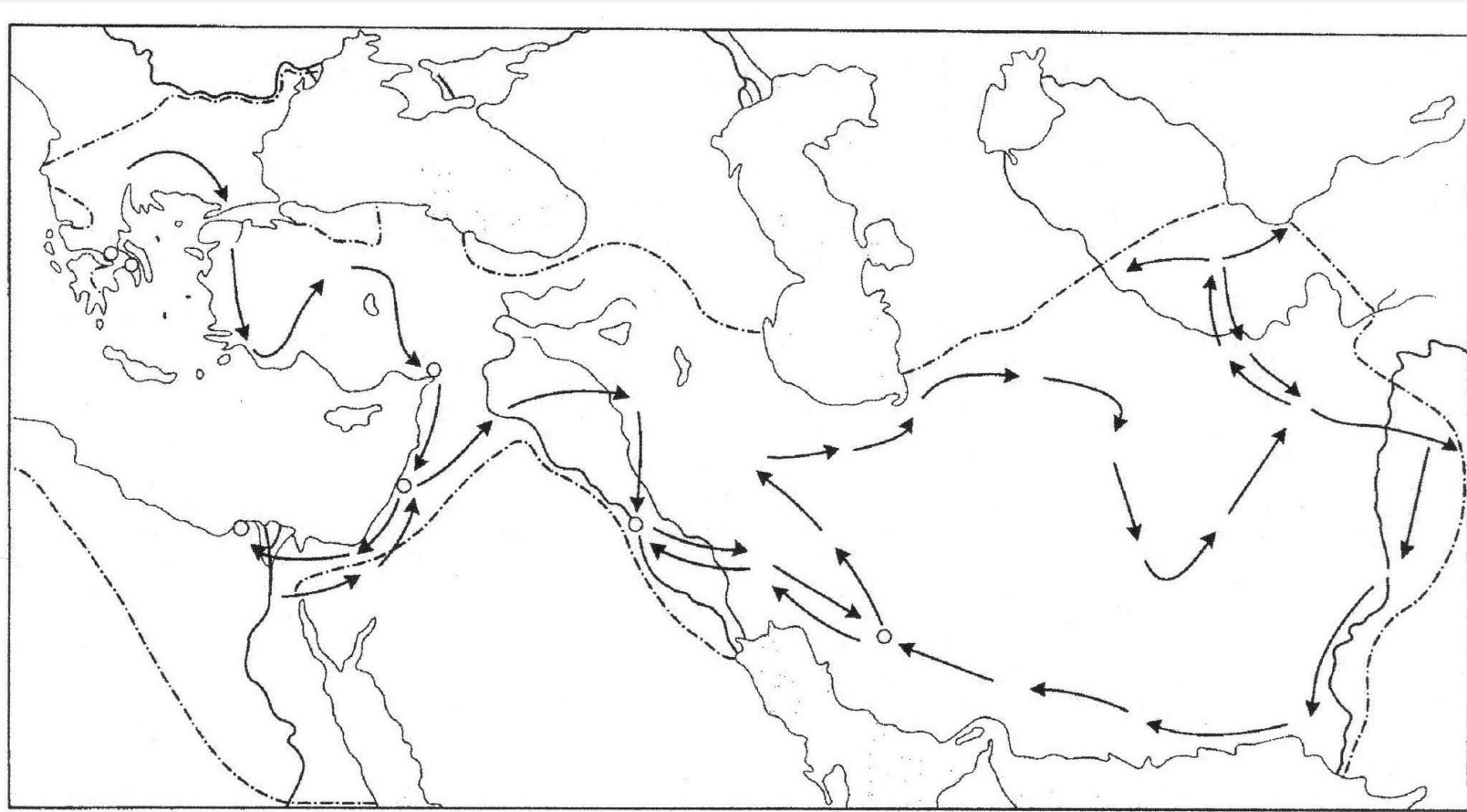
Дата	место сражения
334г.до н.э	Битва при Гранике
333 г. до н.э.	Битва при г. Иссе
332 г. до н.э.	Завоевание Тира
331 г. до.н.э	Битва при Гавгамелах
327 г. до н.э.	Поход в Индию
324 г. до н.э.	Возвращение в Вавилон
323 г. до н.э.	Смерть А. Македонского

ЗАДАНИЕ 4.

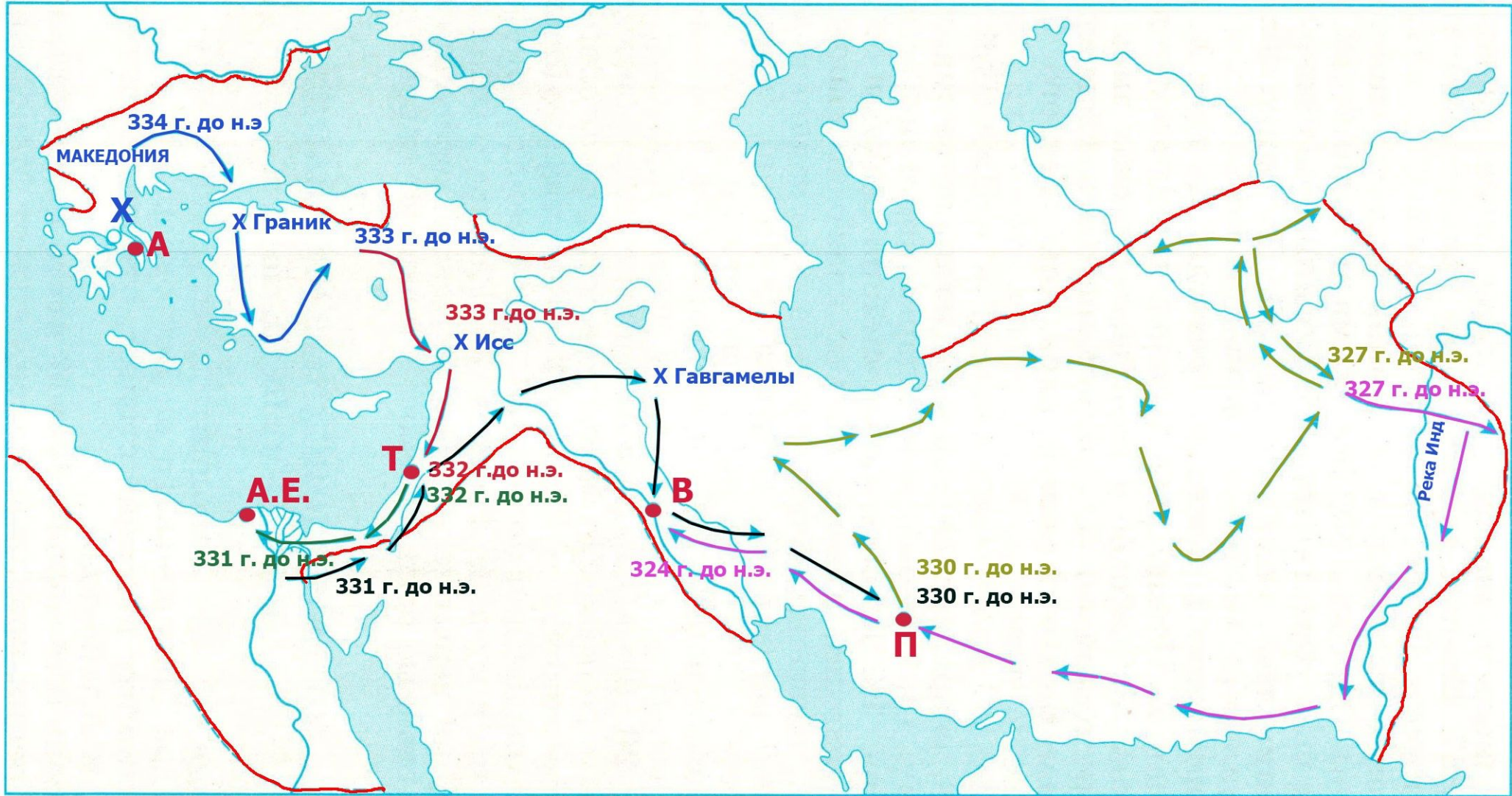
ОТМЕТЬТЕ НА КОНТУРНОЙ КАРТЕ СОБЫТИЯ ПЕРВОГО ЭТАПА ЗАВОЕВАТЕЛЬНОГО ПОХОДА.

ДАЙТЕ ОТВЕТ НА ВОПРОС :

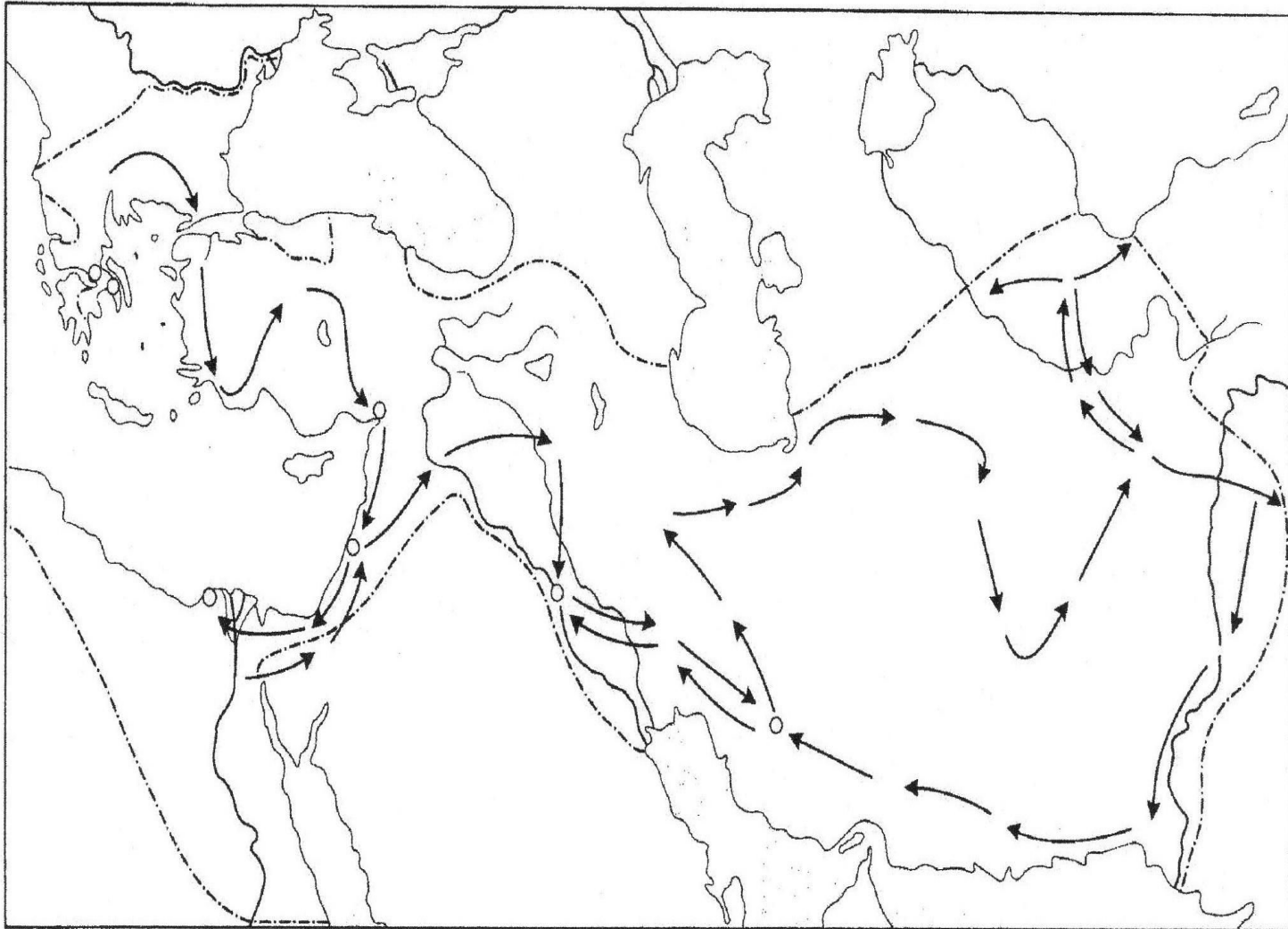
**ГДЕ ВОЕВАЛИ МАКЕДОНЦЫ НАКАНУНЕ ПОХОДА НА ВОСТОК И В НАЧАЛЕ ЕГО?
В КАКИХ ГОДАХ?**



ПРОВЕРЬ СЕБЯ:

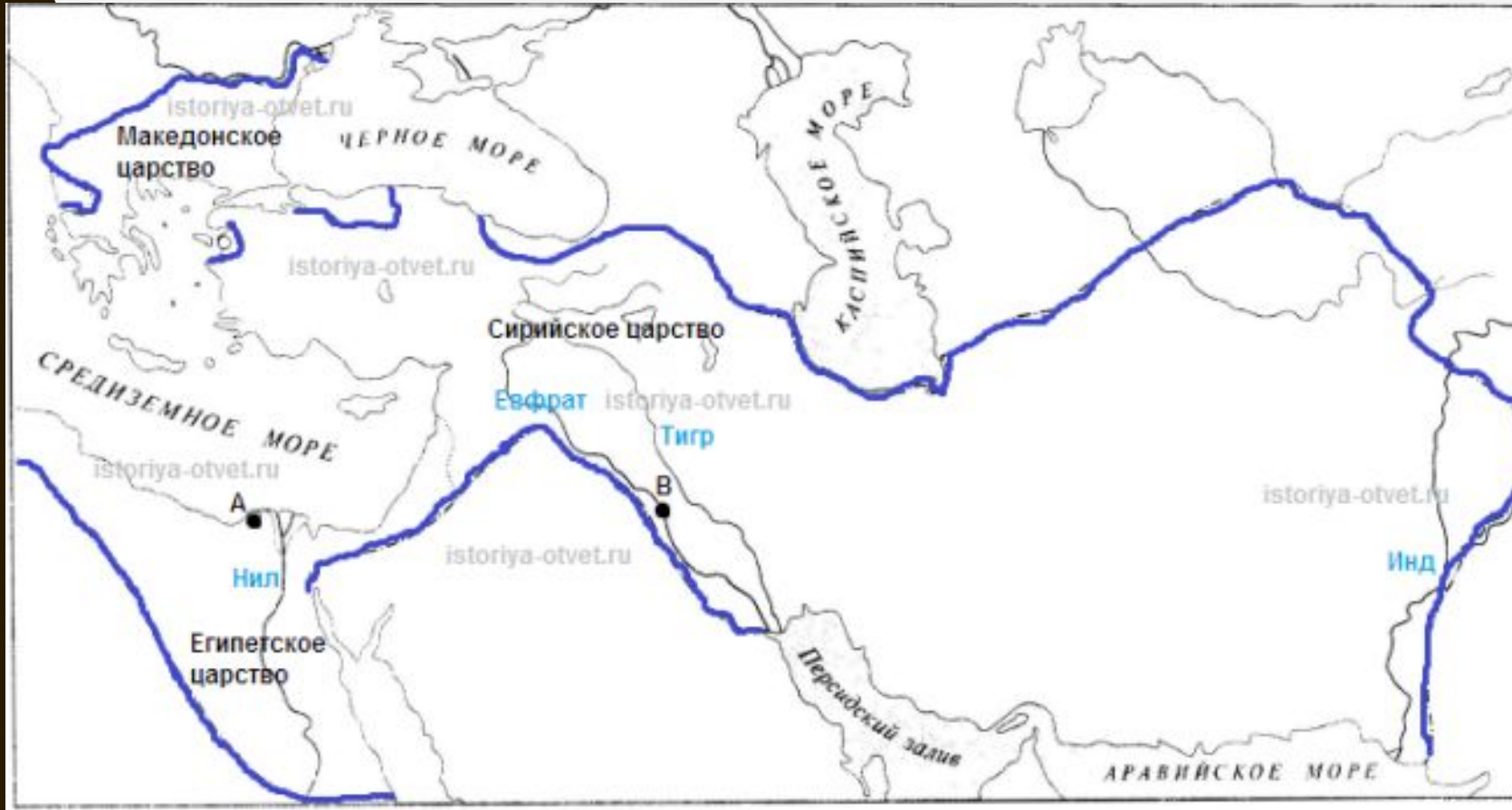


ЗАДАНИЕ 5.



1. Обведите границы державы Александра Македонского.
2. Закрасьте кружочек, обозначающий город, в котором умер Александр. Обозначьте название города первой буквой (**Вавилон**).
3. Закрасьте кружочек, обозначающий основанный Александром город, ставший крупнейшим торговым портом Восточного Средиземноморья (**Александрия**). Обозначьте его название первой буквой.

ПРОВЕРЬ СЕБЯ:



1. Границы выделены синим цветом
2. **Вавилон**
3. **Александрия**