




# Задания для 3 класса

---

30.11.2020

# Обведи то что





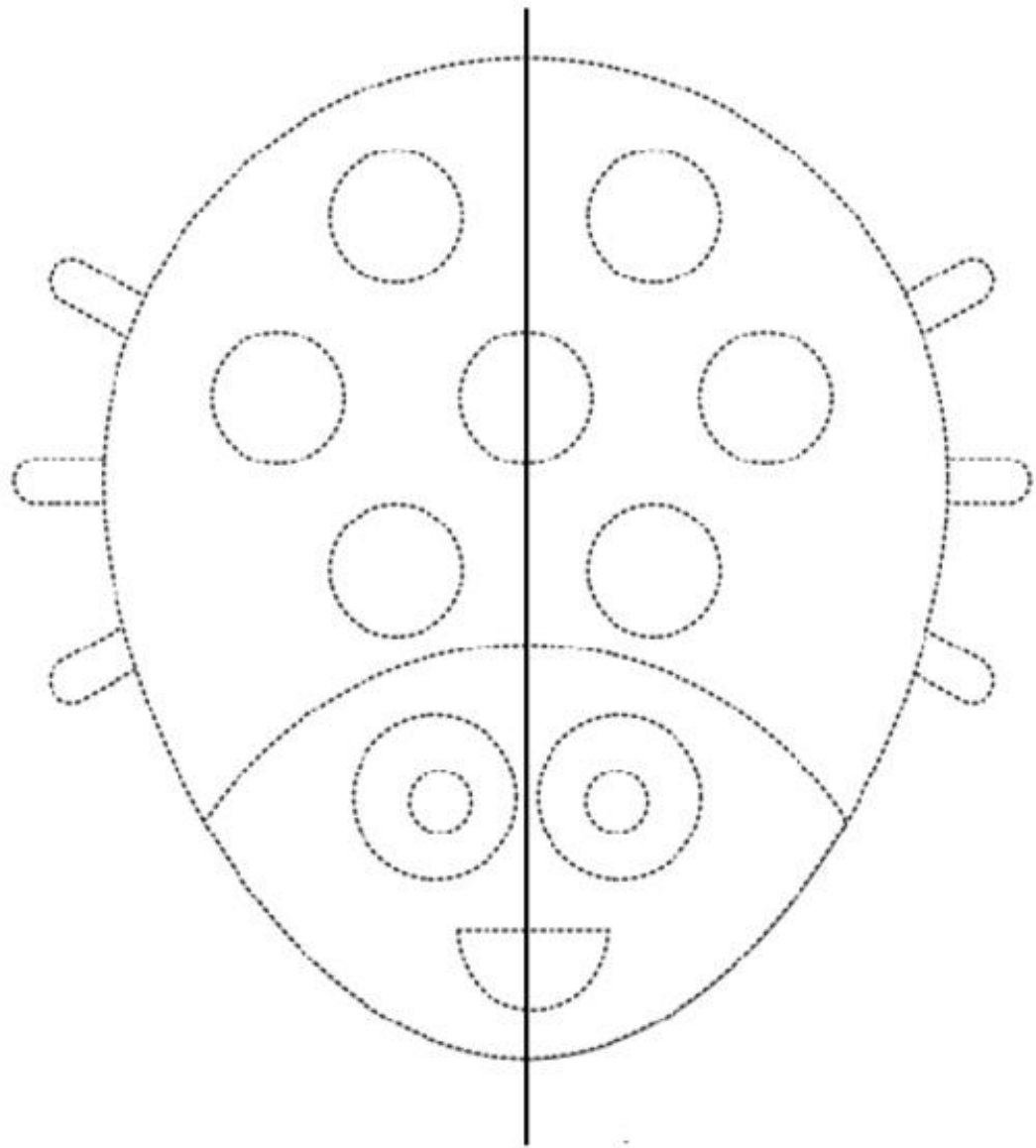
• Распечатай или срисуй три большие фигуры. Затем, как можно точнее обведи их карандашом (можно цветными). После этого поставь карандаш на контур фигуры и закрой глаза. Попробуй обвести фигуры с закрытыми глазами.



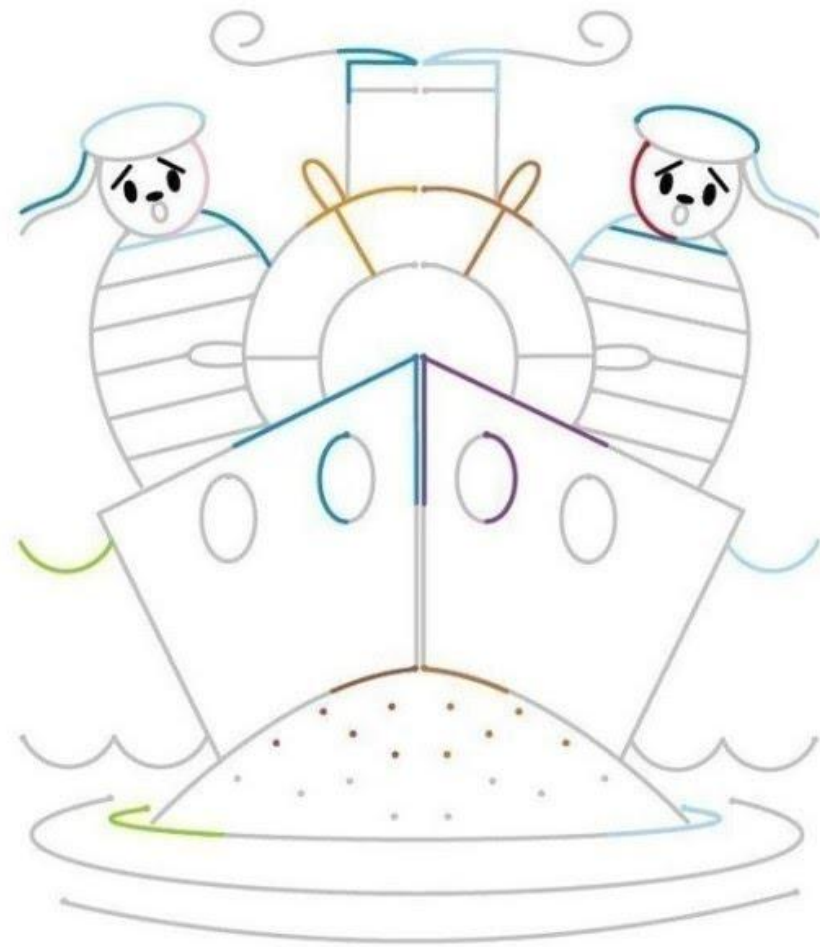
## Гимнастика мозга: рисование двумя руками одновременно

- А теперь возьмите в каждую руку по карандашу и снова обведите геометрические фигуры из прошлого задания, только **двумя руками вместе**. Это непривычно, но, если постараться – получится!





Матросы у штурвала  
Слева и справа.





## Подумай, найди ответ..

### Логическая задача

На рисунке – Коля, Олег, Миша, Гоша и Борис. Миша не самый высокий, но он выше Гоши, Олега и Коли. Олег стоит рядом с Колей и меньше его. Гоше, чтобы дотянуться до выключателя, приходится подставлять скамеечку или просить помощи у своего старшего брата – Олега. В каком порядке стоят мальчики на рисунке?



Назад

Ответ

2. В школьном буфете Наташа, Яна и Алена покупали пирожные — бисквитное с вареньем, бисквитное с кремом и трубочку с кремом. Кто из них что купил, если каждая девочка съела по одному пирожному, Алена и Яна любят пирожные с кремом, а Наташа и Алена купили себе по бисквитному пирожному?





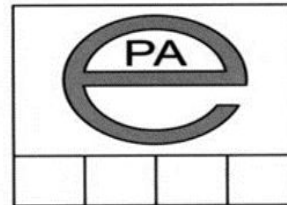
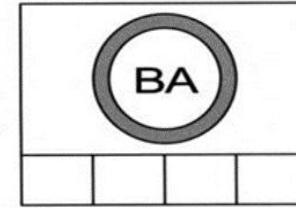

Подпиши под пирожными имена девочек, которые их ели.



# Ребусы.

- Попробуй сделать из своего имени такой же ребус.

Расшифруй и напиши имена детей.





# Учимся на фокусников. Ловкие пальцы.

