

Прибавить и вычесть 3.
Решение текстовых задач
стр. 113

Урок №

57



Школа России
Математика 1 класс





Устный счёт

Собери цветок.



$6 + 1$

$8 - 1$

$5 + 2$

$6 + 2$

7

$9 - 1$

$4 + 3$

$10 - 3$

$5 + 3$

Реши цепочки примеров.



$$7 - 3 + 2 - 1 + 3 = 8$$

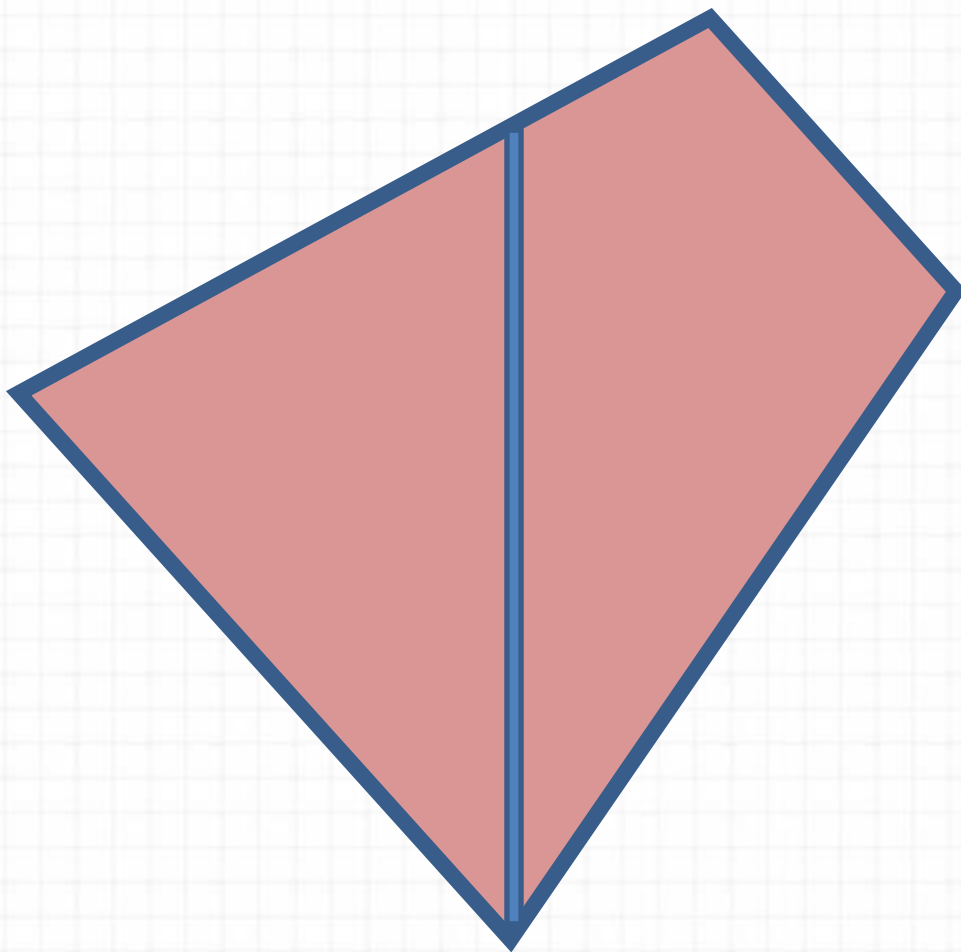
$$10 - 3 - 2 + 0 = 5$$

$$12 - 2 - 3 - 2 + 1 = 6$$

Найди в каждой строчке лишний предмет.



Сколько четырёхугольников вы видите?



2

Прочитай верное неравенство.



$$7 - 3 > 2$$

$$3 + 2 < 6$$


$$8 + 0 < 3$$

$$9 - 3 > 5$$

Составь задачу по картинке.



У Иры **5** кукол, а у Нины на **2** куклы больше.
Сколько кукол у Нины?



$$5 + 2 = 7$$

Зине надо полить **7** грядок с морковкой. Она уже полила **3**. Сколько грядок осталось ей полить?



$$7 - 3 = 4$$

Мише и Кате нужно вырезать **8** снежинок. После того, как они несколько вырезали, им осталось вырезать **3** снежинки. Сколько снежинок они уже вырезали?



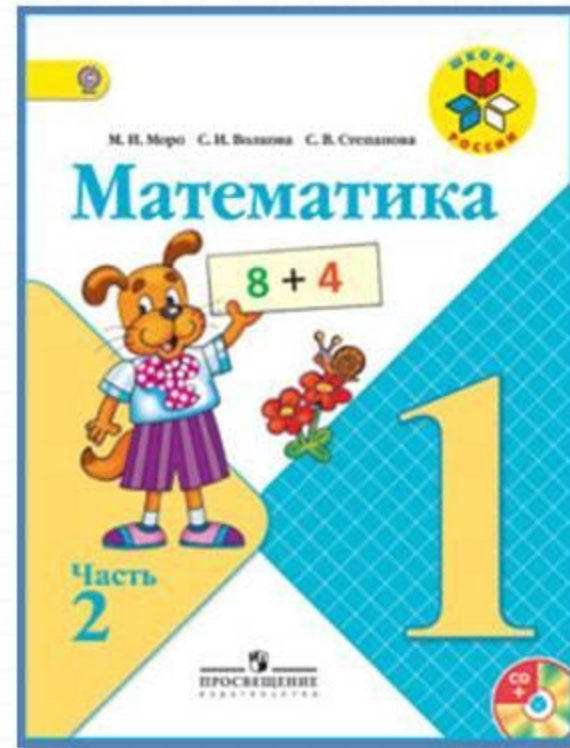

$$8 - 3 = 5$$

Памятка

Как решать задачу

- 1. Прочитать задачу.**
- 2. Узнать о чём (ком) задача.**
- 3. Что об этом известно.**
- 4. Найти вопрос задачи.**
- 5. Написать краткое условие.**
- 6. Решить задачу.**
- 7. Написать ответ.**

Работа по учебнику



стр.
112

6.

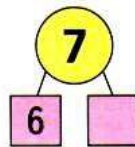
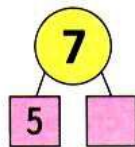
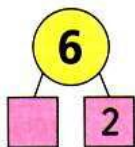


$$\square - \square = \square$$




$$\square - \square = \square$$

7.

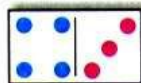


8.



$$8 = 5 + 3$$

$$8 - 3 = \square$$



$$7 = 4 + 3$$

$$7 - 3 = \square$$

9. Измерь отрезки. Сравни их длины.



□ см



□ см



□ см

10. Сосчитай, сколько голубей нарисовал художник.



«Проверочные работы», с. 24, 25.



Работа в тетради

стр.
42



- Составь и запиши верные равенства и верные неравенства, используя числа 7, 2, 5, 9 и знаки +, -, =, >, <.

$7 + \square = \square$

$9 - 2 = 5$

$5 < 2 < 3$

$7 - \square = \square$

$5 + 2 = 9$

$7 < 2 < 4$

- Оля ... 6 кукол: 

Аня — на 2 больше: 

Сколько ... Аня? Ответ:

<input type="checkbox"/>	$2 + 2 + 2 =$	$10 - 2 - = 5$
	$3 + 3 + 3 =$	$10 - 1 - = 6$
	$1 + 2 + 3 =$	$10 - 2 - = 7$

- С одного куста сняли , с другого — 3. Сколько всего ... ?

Ответ:

- Какие числа закрыты карточками? Запиши.

7	2	<input type="checkbox"/>	1	3
	<input type="checkbox"/>	4	<input type="checkbox"/>	<input type="checkbox"/>

8	<input type="checkbox"/>	3	<input type="checkbox"/>	4
	2	<input type="checkbox"/>	1	<input type="checkbox"/>


- Оля старше Кати, а Катя старше Вики. Закрась карточку с именем девочки, которая старше двух других.

Катя Оля Вика


Задания на смекалку



Отгадай ребус.



ИКОТА

В клетке **3** кролика. Трём девочкам дали по одному кролику, и один кролик остался в клетке. Как это могло быть? 

Девочке дали кролика вместе с клеткой.

