

Занимательная

математика



НАЗОВИ ЛИНИИ










Узнай фигуру



Ребусы







число



счёт



1



2



5



8

З

К

Ми



o = y

ДА



““““

Т



4 = A



З

Н

А

К



МИНУС



ЗАДАЧА



Точка

Отгадай ребус

и ты узнаешь о правилах личной гигиены.

ПРЕЖДЕ ЧЕМ ВСЯ

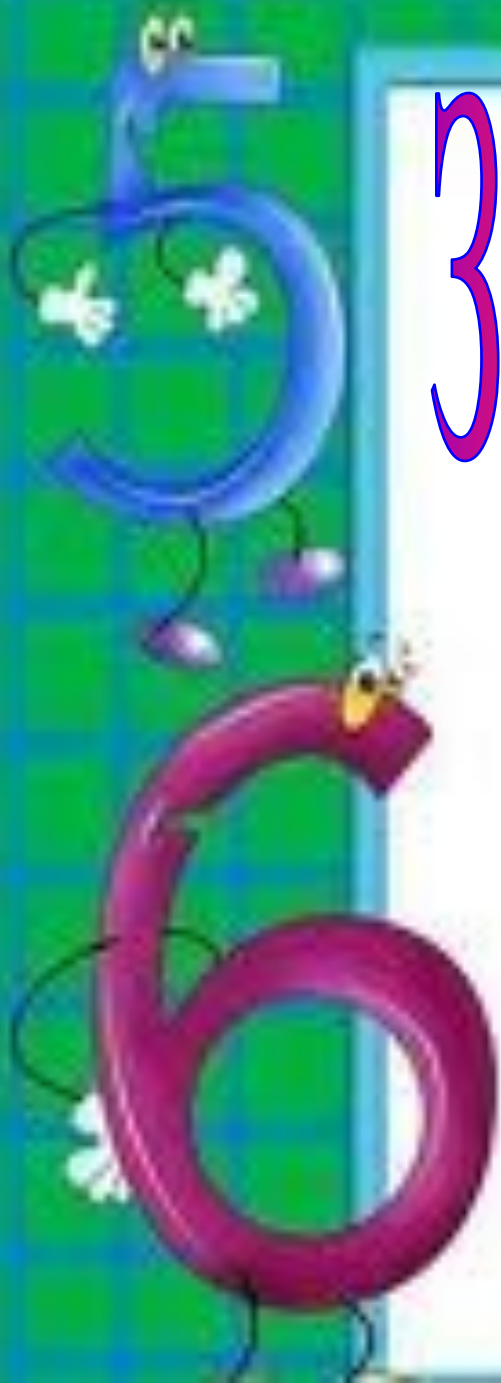
7Я 05 СЯДЕТ ЗА СТОЛ,

ПРЕ2РИТЕЛЬНО

ВЫ3 КЛЕЁНКУ.



Задачи-тесты



Выбери правильный

7 воробьи ответ спустились на
грядки,
Скачут и что - то клюют без
оглядки.

Котик - хитрюга внезапно
подкрался,
Мигом схватил одного и умчался.

Вот как паску клевать, без
оглядки!

Силько тепеь их ста
грядке!

0

6

5



Выбери правильный

ответ



Дед, баба, внучка, Жучка, кошка и мышка тянули-тянули репку и, наконец, вытянули. Сколько глаз смотрело на репку?

10

12

8






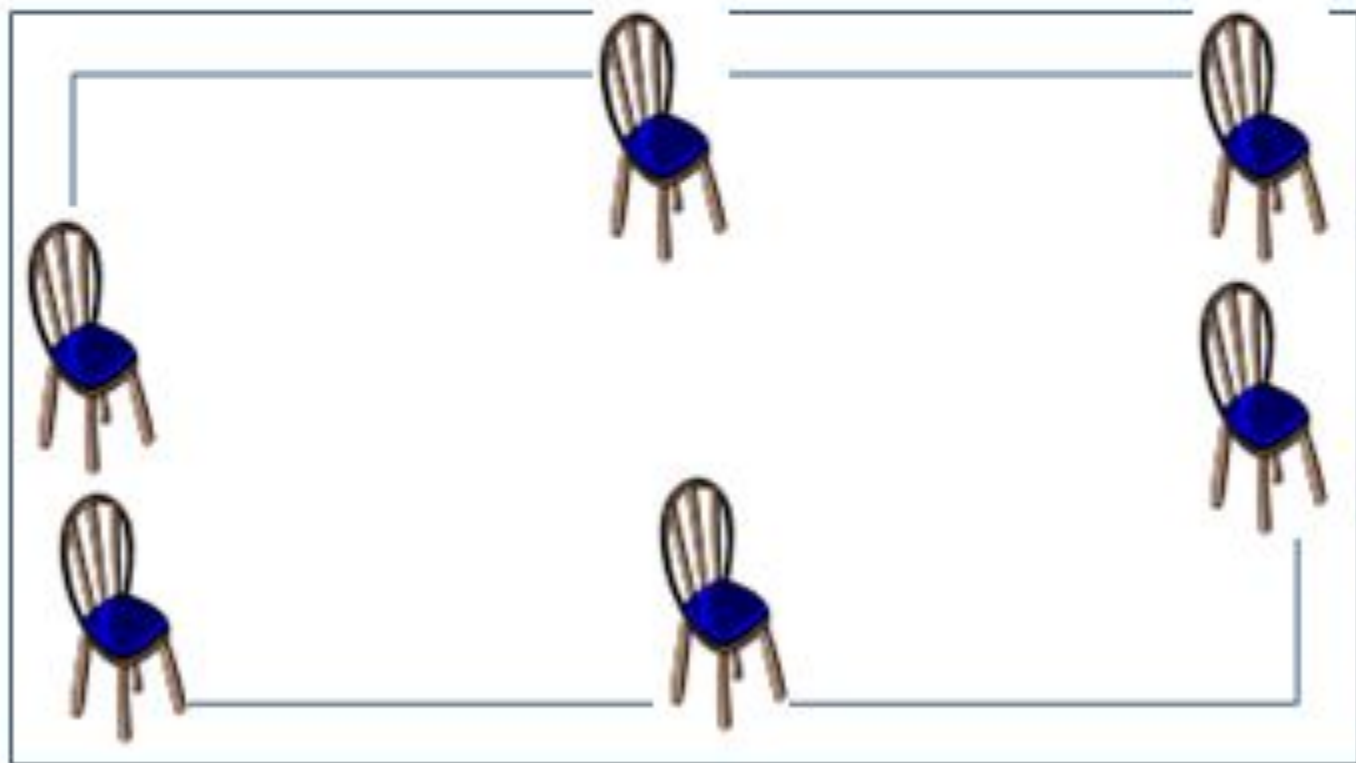
Логические задачи



*Расставьте в комнате 6 стульев так,
чтобы у каждой стены стояло по 2
стула.*

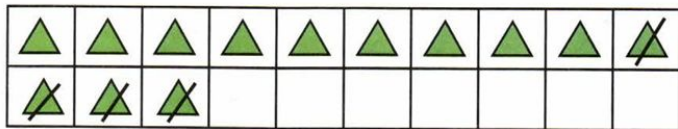


Расставьте в комнате 6 стульев так, чтобы у каждой стены стояло по 2 стула.



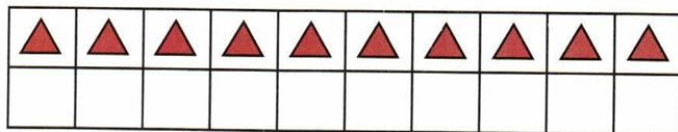
Табличное вычитание

- 1) Объясни, как выполнено вычитание $13 - 4$.



$13 - 4 = 9$	$15 - 7 =$
$13 - 3 - 1 = 9$	$15 - \square - \square =$

- 2) Дополни рисунок, объясни, как можно выполнить вычитание $15 - 7$, и вычисли.



2

$12 - 4 =$	$11 - 5 =$	$13 - 6 =$
$15 - 9 =$	$14 - 8 =$	$16 - 7 =$

- 3) Объясни, как можно рассуждать, выполняя вычитание $13 - 4$, и выполни вычисления.

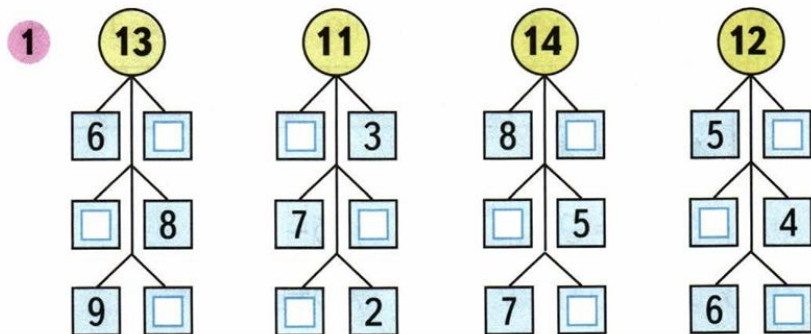
$13 - 4 = \square$	$15 - 7 = \square$	$12 - 3 = \square$

4

$13 - 4 =$	$12 - 5 =$	$11 - 7 =$
$15 - 9 =$	$16 - 9 =$	$13 - 8 =$

$11 - \square$

$12 - \square$



- 2) Дима сделал 7 маленьких лодочек, а больших на 2 лодочки меньше, чем маленьких. Сколько всего лодочек сделал Дима?

В тетради! Запись условия в виде схемы.

Ответ:

1

$8 - 4 = 4$	$5 - 2 = 3$	$10 - 2 = 8$
$11 - 3 = 8$	$9 - 3 = 6$	$12 - 5 = 7$
$10 - 4 = 6$	$7 - 6 = 1$	$13 - 3 = 10$

- 2) На полке было 8 кукол и 11 колясок. Сколько кукол надо ещё поставить на полку, чтобы кукол и колясок стало поровну?

Ответ: