

АФРИКА

Айболит: «Ладно, ладно, побегу,
Вашим детям помогу.
Только где же вы живёте?
На горе или в болоте?»

«Мы живём на Занзибаре,
В Калахари и Сахаре,
На горе Фернандо-По,
Где гуляет Гиппо-по
По широкой Лимпопо».





**АФРИКА.
ИССЛЕДОВАНИЕ МАТЕРИКА**

ИСТОРИЯ ИССЛЕДОВАНИЯ МАТЕРИКА

Исследователи, путешественники	страна	дата	Вклад в исследование материка
Бартоломеу Диаш			

ЗАДАНИЕ: Заполнить таблицу. Учебник, страница 108.

РЕЛЬЕФ И ПОЛЕЗНЫЕ ИСКОПАЕМЫЕ АФРИКИ

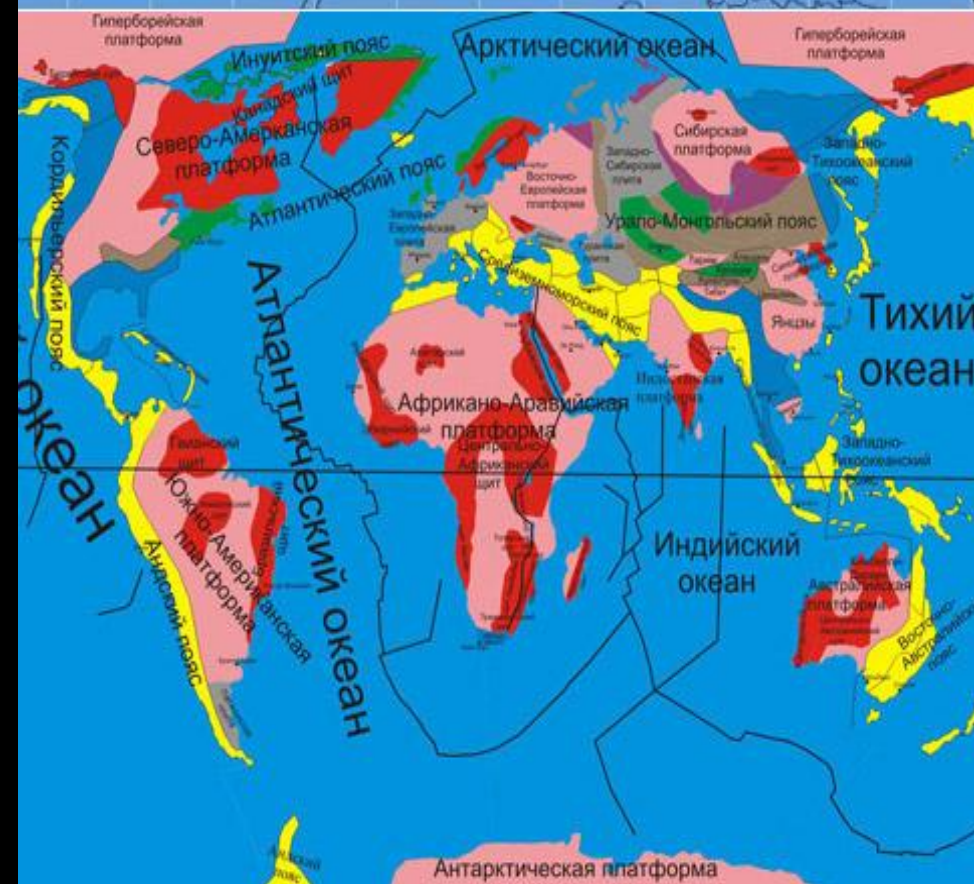


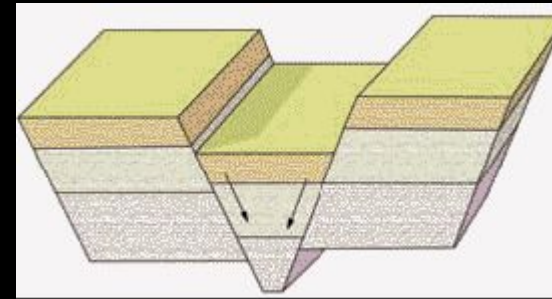


Чем отличается рельеф Африки от рельефа других материков?

Работа с картой «Строение земной коры»

1. Какой элемент земной коры лежит в основании материка?
2. Частью какой литосферной плиты он является?
3. Есть ли районы столкновения с другими плитами?
4. Какие области земной коры выделяются на территории Африки?





Восточная Африка «вспарывается» грандиозной системой глубинных разломов, получивших название Великих Африканских разломов. Начинаясь у нижнего течения реки Замбези, эти разломы тянутся к северу в субмеридиональном направлении. У озера Ньяса полоса разломов расчленяется, давая три ветви. Западная простирается в северо-западном направлении через озера Танганьика и Эдуарда и вскоре затухает. Восточная поворачивает на северо-восток и около южной оконечности полуострова Сомали выходит к Индийскому океану. Центральная ветвь вытянута в северном направлении через озера Рудольфа и Дофине

Атлас стр. 14, учебник стр. 111

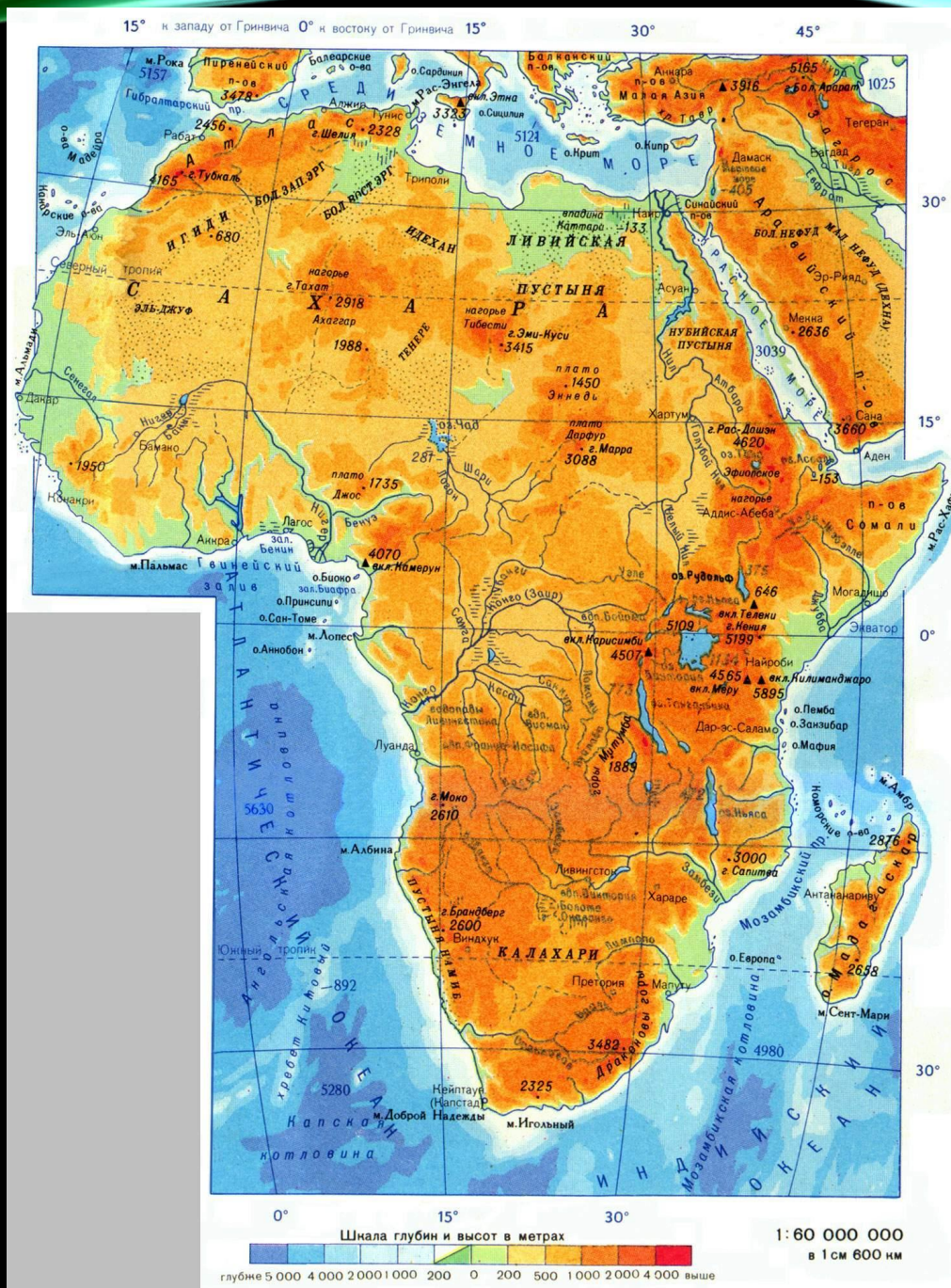


По высоте Африку делят на:

1. Северная и западная Африка (высота ниже 1000 м)
2. Южная и восточная Африка (высота более 1000 м)

На контурную карту нанести:

1. Формы рельефа: Восточно-Африканское плоскогорье, Эфиопское нагорье, Драконовы горы, Капские горы, плато Марра, нагорье Тибести, нагорье Ахаггар, горы Атлас, впадина Конго, вулкан Камерун, вулкан Килиманджаро.
2. Пустыни: Сахара, Намиб





ДОМАШНЕЕ ЗАДАНИЕ:

1. Параграф 19.
2. Нанести на контурную карту формы рельефа и полезные ископаемые Африки.