




Задание по математике в младшей группе

Упражнение на сравнение двух равных и неравных групп предметов, на сравнение по величине, ориентировку в пространстве




Мишек меньше, чем зайчиков. Зайчиков больше, чем мишек.




Кого видите в верхнем ряду? Выложите столько квадратов, сколько зайчат.

Что изображено в нижнем ряду? Выложите ниже столько треугольников, сколько морковок. Чего больше? Чего меньше? На сколько? Что можно сделать, чтобы зайчат и морковок стало поровну?


Что находится **в** машине? Что **перед** машиной?
А что **за** машиной?





Какая игрушка стоит **рядом** с мишкой, какая **рядом** с зайцем, а какая **рядом** с машинкой?



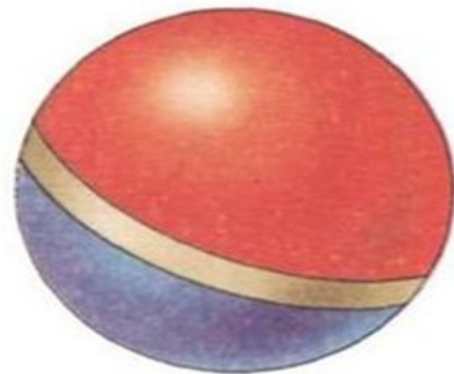
Помоги котенку найти все мячики.



**Найди и назови предмет:
крайний слева на верхней полке;
крайний справа на нижней полке;
крайний слева на средней полке;
между ведром и утюгом;
справа от вазы;
слева от матрёшки.
Расскажи, как расположены остальные предметы.**




Какая игрушка находится слева от пирамидки? А справа? Какая над пирамидкой, а какая под пирамидкой? Какая игрушка между шариком и машинкой? Какая между шариком и мишкой? Объясни, где находятся остальные игрушки.



1 Всё ли правильно нарисовал художник?



2 Поровну ли больших и маленьких клубков? Положи один большой красный клубок в зелёную коробку, а в синюю коробку — много маленьких клубков одинакового цвета.



3 Зачеркни лишний предмет на каждой картинке. Назови оставшиеся предметы одним словом.



4 Поровну ли кубиков и грузовиков?



1 Чего больше — чашек или блюдец? Сделай так, чтобы их стало поровну. Какая чашка не такая, как остальные?




2 Мальчики хотят пригласить девочек на танец. У каждого ли мальчика будет пара? Все ли девочки будут приглашены?




3 Хватит ли каждому зайцу по морковке?



4 На каждой картинке зачеркни лишний предмет.




5




- 1 Можешь ли ты убрать всех маленьких матрёшек в большие? Каких матрёшек больше, а каких — меньше? Найди одинаковые матрёшки.



- 2 Найди рядом с картинкой предмет, который забыли положить на полку. Обведи его.



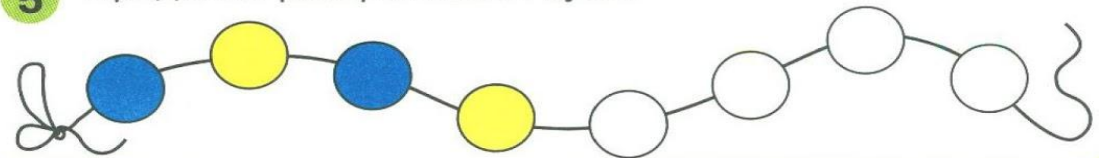
- 3 Чего больше — ваз или цветков? Дорисуй картинку так, чтобы цветков стало столько же, сколько ваз. Какая ваза не такая, как остальные?




- 4 Что было сначала, а что — потом?



- 5 Продолжи раскрашивать бусы.



- 1 Раскрась большие вагоны в разные цвета. В каком поезде больше вагонов? Раскрась маленькие вагоны так же, как большие.




- 2 Раскрась яблоки на дереве в жёлтый цвет, а под деревом — в красный. Где яблок больше — на дереве или под деревом?



- 3 Раскрась грибок, который растёт между ёлками, и берёзку, рядом с которой растёт мухомор. Зачеркни столько зелёных листиков, сколько нарисовано грибов.



- 4 Назови одним словом то, что нарисовано на картинке. Зачеркни лишний рисунок.



- 1 Обведи бабочку над цветком жёлтым карандашом, а на цветке — синим. Раскрась мячик на скамейке в зелёный цвет, а под скамейкой — в красный.



- 2 Повесь сушиться на верёвку три треугольных платочка. Над верёвкой нарисуй солнышко, а под верёвкой — два мячика.



- 3 Посади больших матрёшек в длинный вагон, а маленьких — в короткий. Прикрепи на каждый вагон карточку с числом, которое показывает, сколько матрёшек едет в вагоне.



- 4 На длинном коврике раскрась три круга и два треугольника. На коротком — один треугольник и два круга.

