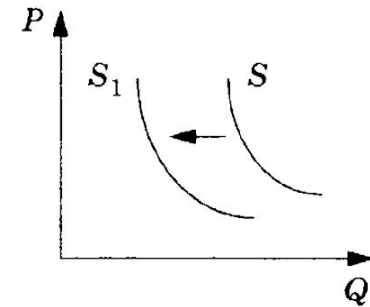


1.

Ответ: _____ .

На графике отражено изменение предложения на рынке банковских услуг: кривая предложения переместилась из положения S в положение S_1 . (На графике P — цена товара, Q — количество товара.) Какие из перечисленных факторов могут вызвать такое изменение? Запишите цифры, под которыми они указаны.

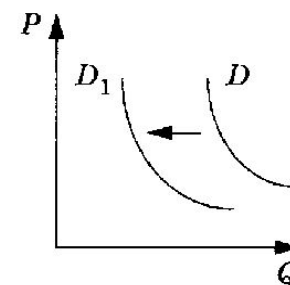


- 1) рост доходов потребителей
- 2) разорение нескольких крупных банков
- 3) увеличение количества клиентов в банковском секторе
- 4) рост популярности банковских услуг
- 5) повышение налоговой нагрузки на банковский сектор

Ответ: _____ .

2

На графике отражено изменение спроса на рынке мебели: кривая спроса D переместилась в новое положение D_1 . (На графике P — цена товара, Q — количество товара.) Какие из перечисленных факторов могут вызвать такое изменение? Запишите цифры, под которыми они указаны.

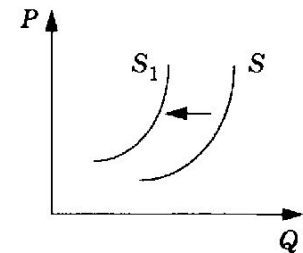


- 1) снижение доходов потребителей
- 2) повышение налогов на производителей мебели
- 3) увеличение объёма транспортных услуг
- 4) ожидание начала рождественских распродаж
- 5) уменьшение издержек производителей мебели

Ответ: _____ .

3.

На графике отражено изменение предложения на рынке жилья: кривая предложения переместилась из положения S в положение S_1 . (На графике P — цена товара, Q — количество товара.) Какие из перечисленных факторов могут вызвать такое изменение? Запишите цифры, под которыми они указаны.

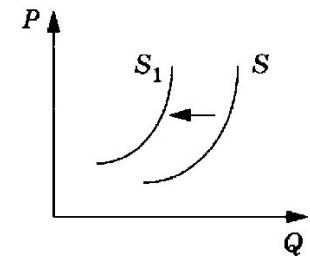


- 1) развитие программ кредитования покупки квартир
- 2) увеличение прибыли продавцов строящегося жилья
- 3) разорение ряда строительных фирм
- 4) рост доходов населения
- 5) повышение стоимости строительных материалов

Ответ: _____ .

4.

На графике отражено изменение предложения на рынке свинины: кривая предложения переместилась из положения S в положение S_1 . (На графике P — цена товара, Q — количество товара.) Какие из перечисленных факторов могут вызвать такое изменение? Запишите цифры, под которыми они указаны.

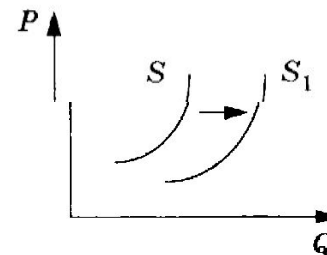


- 1) рост доходов населения
- 2) увеличение налогов на импортёров свинины
- 3) повышение цен на свинину
- 4) снижение цен на куриное мясо
- 5) уменьшение количества переработчиков свинины

Ответ: _____ .

5.

На графике отражено изменение предложения на рынке кухонной мебели: кривая предложения переместилась из положения S в положение S_1 . (на графике P — цена товара, Q — количество товара.) Какие из перечисленных факторов могут вызвать такое изменение? Запишите цифры, под которыми они указаны.

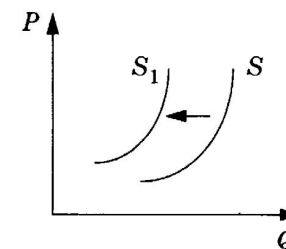


- 1) рост доходов потребителей
- 2) снижение цен на кухонную мебель
- 3) уменьшение стоимости комплектующих для кухонной мебели
- 4) снижение налогов на производителей кухонной мебели
- 5) рост популярности новых моделей кухонной мебели

Ответ: _____ .

6.

На графике отражено изменение предложения на рынке сотовой телефонной связи: кривая предложения переместилась из положения S в положение S_1 . (На графике P — цена товара, Q — количество товара.) Какие из перечисленных факторов могут вызвать такое изменение? Запишите цифры, под которыми они указаны.

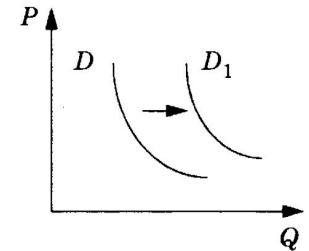


- 1) появление новых операторов сотовой связи
- 2) увеличение налогов на телефонных операторов
- 3) разорение двух крупных операторов сотовой связи
- 4) рост популярности мобильных телефонов
- 5) повышение доходов населения

Ответ: _____ .

7.

На графике отражено изменение спроса на рынке бразильского кофе: кривая спроса переместилась из положения D в положение D_1 . (На графике P — цена товара, Q — количество товара.) Какие из перечисленных факторов могут вызвать такое изменение? Запишите цифры, под которыми они указаны.

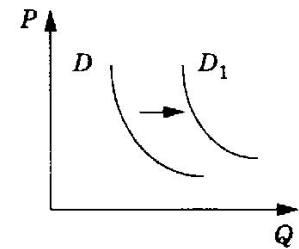


- 1) падение доходов населения
- 2) неурожай кофе в Бразилии
- 3) увеличение количества потребителей кофе
- 4) рост таможенных пошлин на импорт кофе
- 5) увеличение стоимости кофе, произведённого в других странах

Ответ:

8.

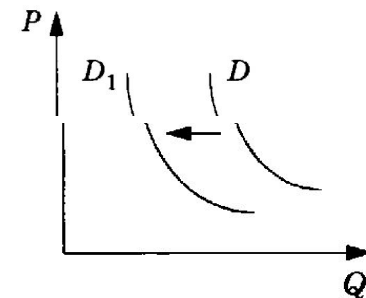
На графике отражено изменение спроса на рынке холодильного оборудования: кривая спроса переместилась из положения D в положение D_1 . (На графике P — цена товара, Q — количество товара.) Какие из перечисленных факторов могут вызвать такое изменение? Запишите цифры, под которыми они указаны.



- 1) рост доходов потребителей
- 2) ожидание роста цен на холодильное оборудование
- 3) уменьшение налогов, взимаемых с продавцов бытовой техники
- 4) увеличение числа магазинов, торгующих холодильным оборудованием
- 5) повышение стоимости производства холодильников

9.

На графике отражено изменение спроса на рынке говядины: кривая спроса переместилась из положения D в положение D_1 . (На графике P — Цена товара, Q — количество товара.) Какие из перечисленных факторов могут вызвать такое изменение? Запишите цифры, под которыми они указаны.

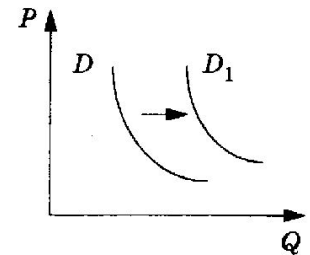


- 1) сокращение количества птицефабрик
- 2) уменьшение налогов на производителей свинины
- 3) падение доходов населения
- 4) снижение цен на иные виды мясной продукции
- 5) сокращение поголовья скота в фермерских хозяйствах

Ответ: _____

10.

На графике отражено изменение спроса на рынке электронных книг: кривая спроса переместилась из положения D в положение D_1 . (На графике P — цена товара, Q — количество товара.) Какие из перечисленных факторов могут вызвать такое изменение? Запишите цифры, под которыми они указаны.



- 1) резкий рост цен на печатные книги
- 2) падение доходов населения
- 3) повышение налогов на производителей электронной техники
- 4) рост издержек производителей электронных книг
- 5) увеличение популярности электронных устройств