

СТРАНЫ АФРИКИ



Определите, какой природной зоне соответствуют эти характеристики

1. Расположена вдоль побережья Гвинейского залива и у экватора.
2. Занимает около трети материка, особенно в северной части.
3. Занимает почти 40% площади материка.
4. Осадки — весь год, особенно после 12 часов дня.
5. Выделяют сухой и влажный сезоны.
6. Иногда дожди не выпадают годами.
7. Почвы практически отсутствуют.
8. Почвы красно-желтые, ферраллитные.
9. Богатые перегноем красно-бурые почвы.
10. Лесная растительность расположена ярусами.
11. Растительность сосредоточена в оазисах.
12. Преобладают травы и редко стоящие деревья.
13. Самое ценное растение — финиковая пальма.
14. Много деревьев с ценной древесиной.
15. Самые распространенные деревья — баобаб и зонтичная акация.
16. Места обитания верблюда, вельвичии, лисицы фенек.
17. Самый богатый и разнообразный животный мир на Земле.
18. Обезьяны, леопард, окапи обитатели этой зоны

а) Экваториальные

б)

в) тропические пустыни.

леса;

саванна;

Название расы	Народы	Место проживания	Характерные черты
1. Европеоидная раса	Алжирцы, марокканцы, египтяне, берберы	Север Африки	Смуглая кожа, темная окраска волос и глаз, удлинённый череп, узкий нос и овальное лицо
2. Экваториальная раса (негроидная)	Тутси, нилоты, масаи Пигмеи	Саванны в северной части материка Зона экваториальных лесов	Очень темная, почти черная кожа, рост 180-200 см Кожа менее темная, губы тонкие, широкий нос, коренастые, малорослые (150 см)
3. Монголоидная	Бушмены, готтентоы	Полупустыни, пустыни	Желтовато-коричневый цвет кожи, широкое плоское лицо
4. Промежуточная раса	Эфиопы Малагасийцы	о. Мадагаскар	Более светлая, но с красноватым оттенком кожа Смешение монголоидной и негроидной рас

Семито-Хамитская (Афразийская) языковая семья



араб



эфиопы



Туарег(бербер) –
«народ покрывала»

Нигеро-Кордофанская языковая семья



Зулу
(банту)




Ф
у
л
ь
б
е



Бушмены
«лесной человек» -
выселенные в
пустыню Намиб

Пигмеи «кулак» -
самые низкие люди на
Земле
(ср. рост 120-140 см)



Ватузи — самые высокие люди на
Земле (ср. рост около 180-200 см)

Австронезийская языковая семья



Малагасийцы – жители о. Мадагаскар

Индоевропейская языковая семья

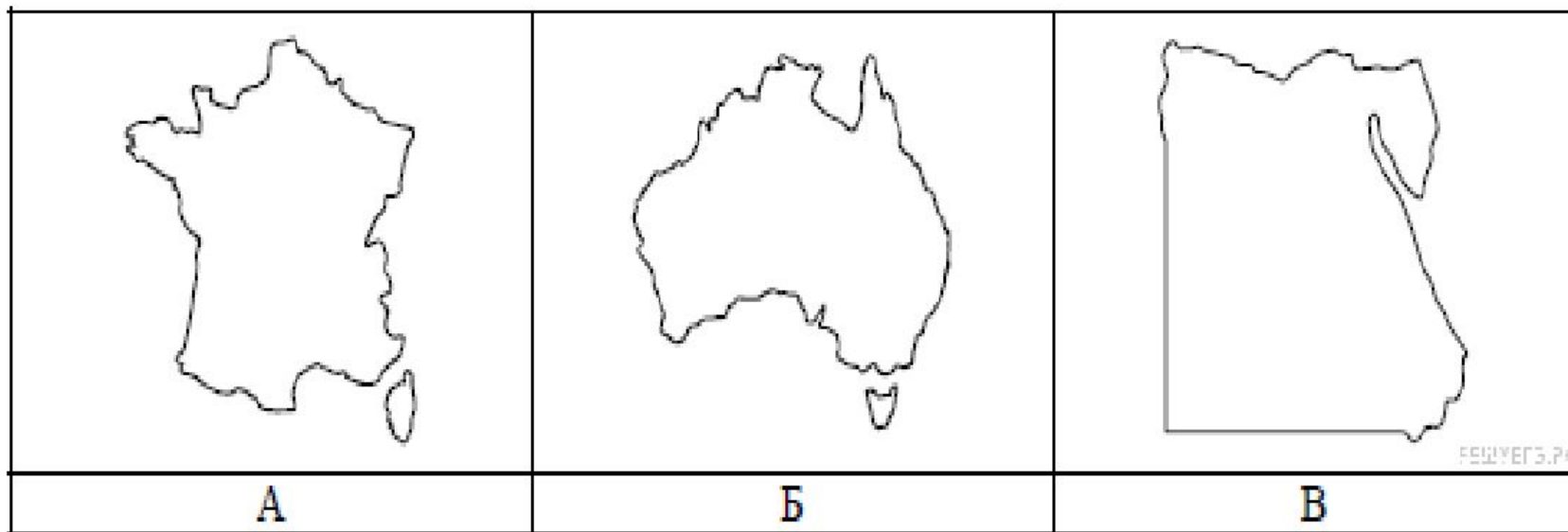


Африканер (бур)-
потомки переселенцев из Европы
(голландцев и англичан)



Переселенцы из
Южной Азии


Рассмотрите представленные ниже рисунки. Выберите рисунок с контуром страны, в которой живёт Ваш сверстник. Запишите в ответе букву, которой обозначен этот рисунок.



[Показать другие задания этого блока](#)

Представьте, что Вам было поручено взять интервью у зарубежного сверстника, чтобы он познакомил Вас со своей страной. Для иллюстрации этого интервью Вы попросили его прислать несколько фотографий, сделанных в стране, в которой он живёт.

Рассмотрите фотографии и ответьте на вопросы.



В какой стране живёт Ваш сверстник?
Как называется столица этой страны?

Предположите, какие ответы на вопросы о своей стране даст Ваш сверстник в ходе интервью. Запишите их в таблицу.

Вопрос	Ответ
1. В какой части света находится твоя страна?	
2. Какие моря омывают берега твоей страны?	
3. Какая река протекает в твоей стране?	
4. Какие крупные города, кроме столицы, есть в твоей стране?	
5. В какой сфере хозяйства занято большинство жителей твоей страны?	
6. Какие сельскохозяйственные культуры выращивают в твоей стране?	
7. Какие достопримечательности можно посмотреть в твоей стране?	

Правильный ответ должен содержать ответы на семь вопросов.

Вопрос	Ответ
1. В какой части света находится твоя страна?	В Африке
2. Какие моря омывают берега твоей страны?	Средиземное и Красное моря
3. Какая река протекает в твоей стране?	Нил
4. Какие крупные города, кроме столицы, есть в твоей стране?	Александрия, Гиза, Суэц
5. В какой сфере хозяйства занято большинство жителей твоей страны?	В сельском хозяйстве
6. Какие сельскохозяйственные культуры выращивают в твоей стране?	Пшеница, хлопчатник, овощи, цитрусовые, финиковая пальма
7. Какие достопримечательности можно посмотреть в твоей стране?	Египетские пирамиды, Луксорский храм, храмы в Абу-Симбеле, Суэцкий канал, Большой Сфинкс

- Домашнее задание параграфы 24-27
- По плану описания страны на стр.333 учебника описать устно Алжир, Нигерию, Эфиопию и ЮАР ,опираясь на карты атласа и текст учебника.