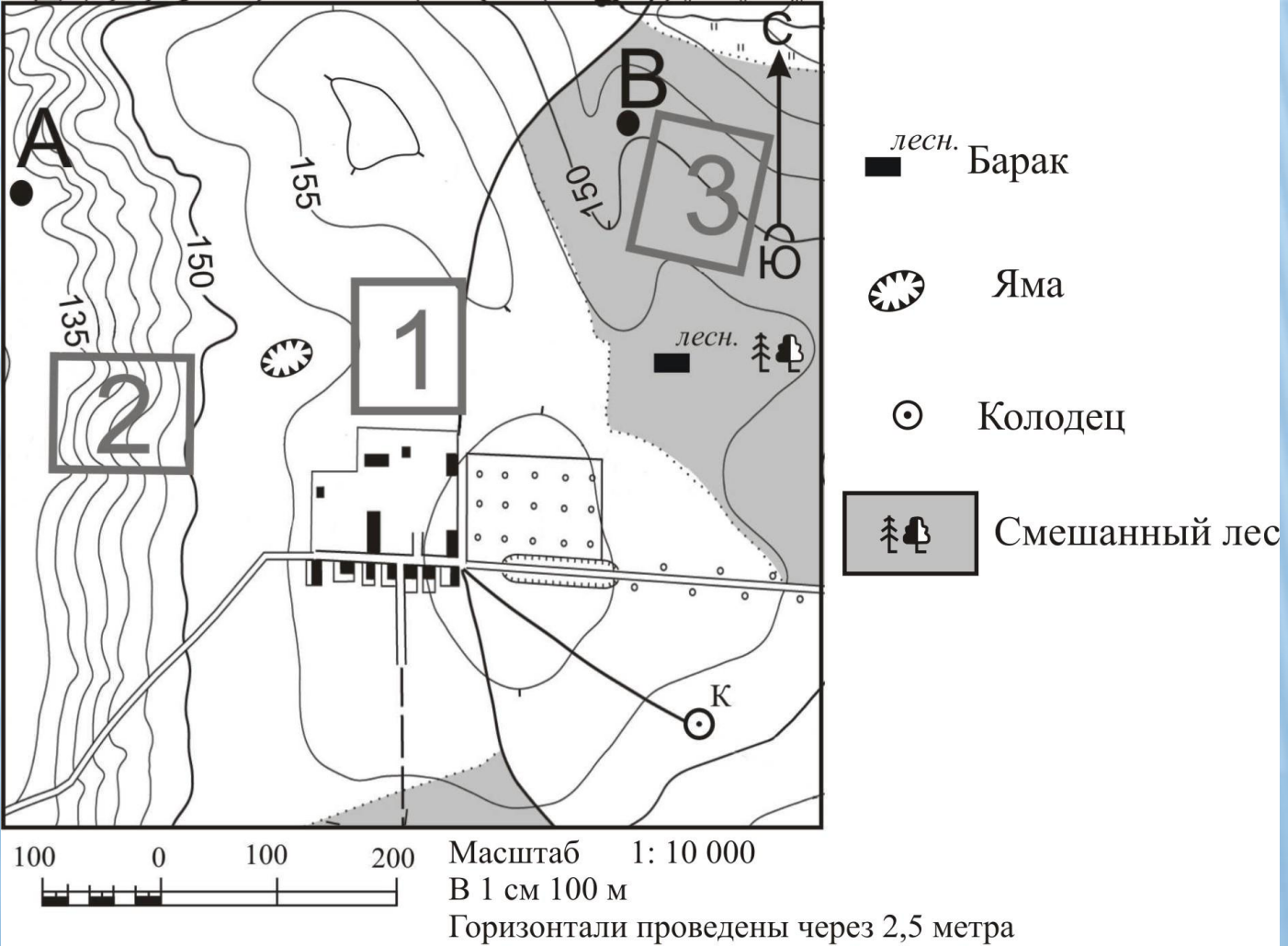


ГИА ОГЭ

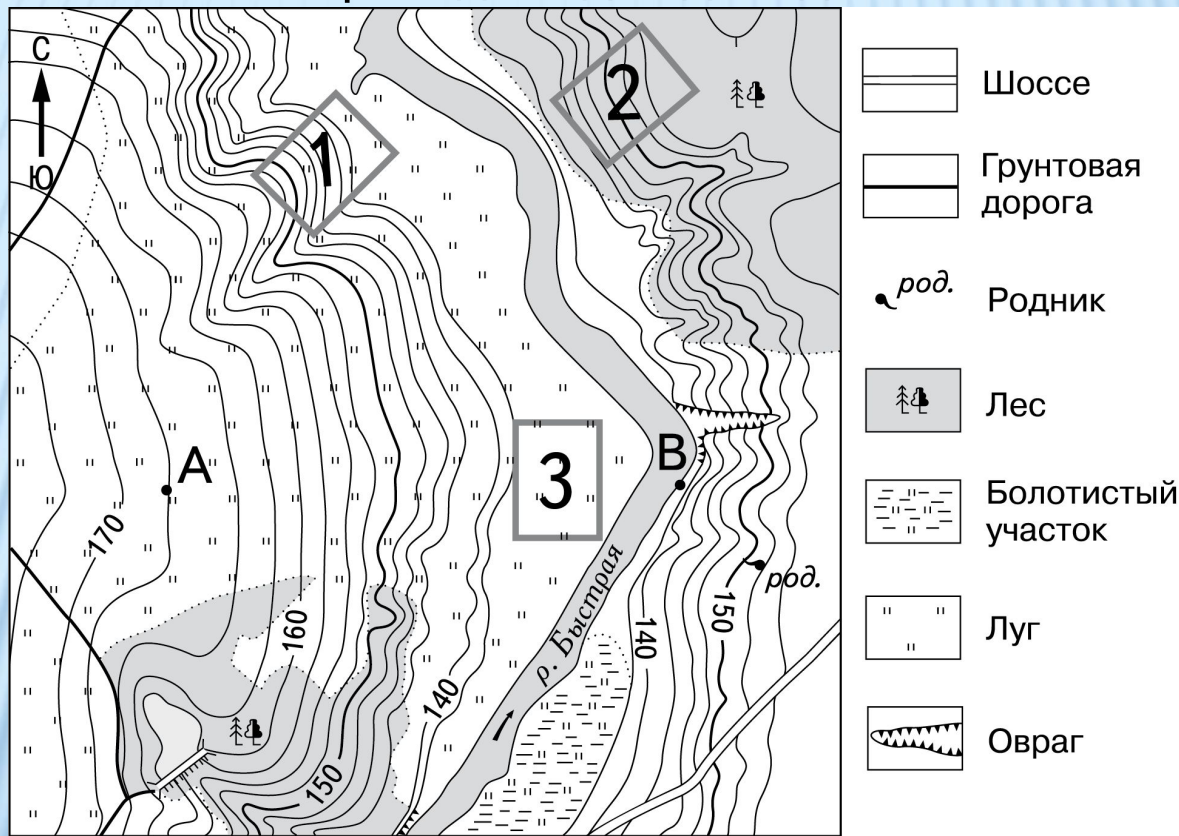
БЛОК ДВЕНАДЦАТЫЙ

*Задания, в которых необходимо
определить наиболее удобный
участок для той или иной
деятельности*

1. Школьники выбирают участок для занятия футболом. Им нужна ровная площадка без лесной и кустарниковой растительности. Их также интересует удобное расположение близ населенного пункта. Определите, какой из участков, обозначенных на карте цифрами 1, 2 и 3, больше всего отвечает указанным требованиям. Для обоснования вашего ответа приведите два довода.




2. Туристическая база выбирает место для строительства зимнего спуска на санках. Ей необходим крутой склон в безлесной местности. На нем также весной не должен рано сходить снег. Определите, какой из участков, обозначенных на карте цифрами 1, 2 и 3, больше всего отвечает указанным требованиям. Для обоснования вашего ответа приведите два довода.



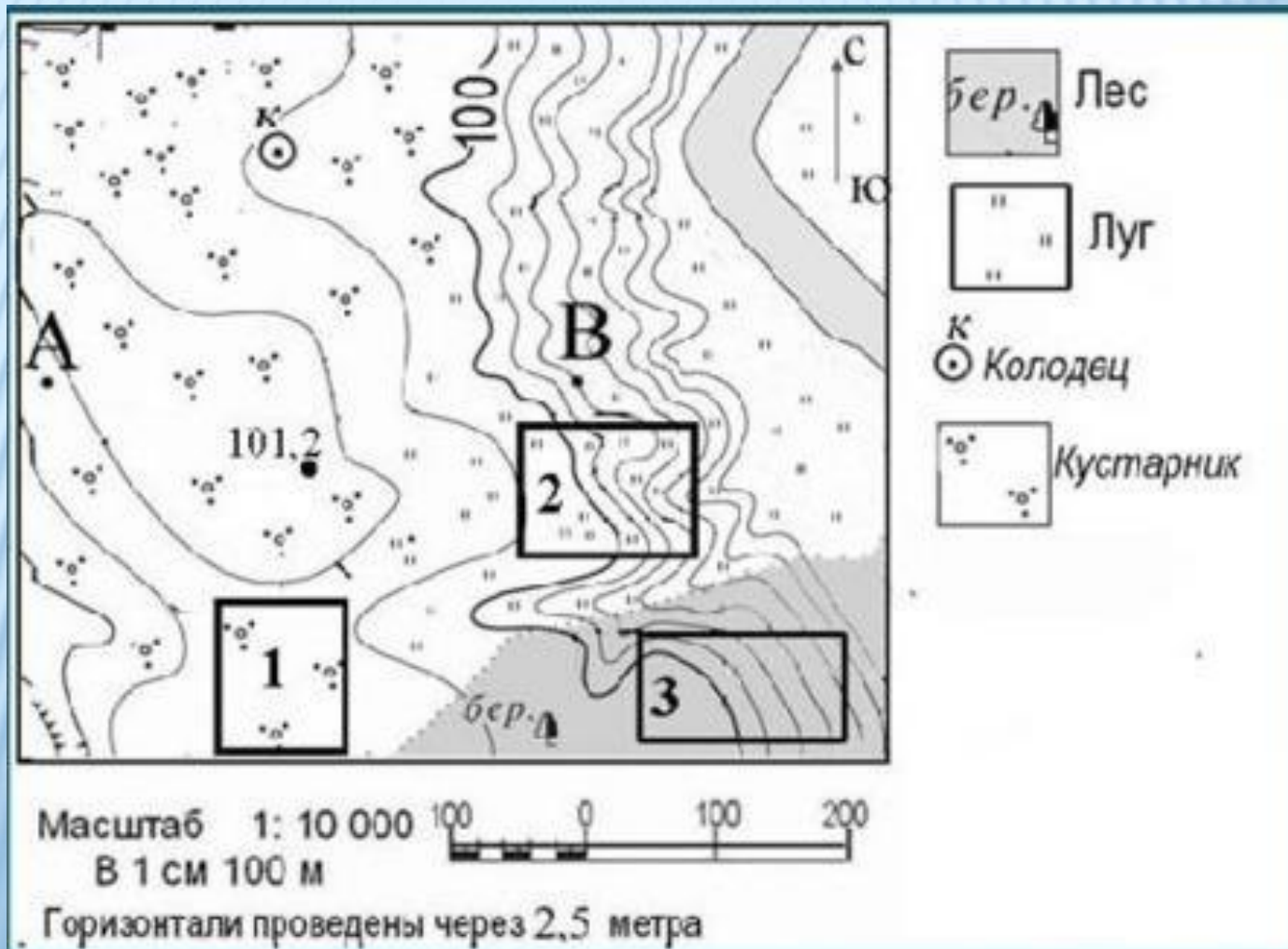
Масштаб 1:10 000

В 1 см 100 м

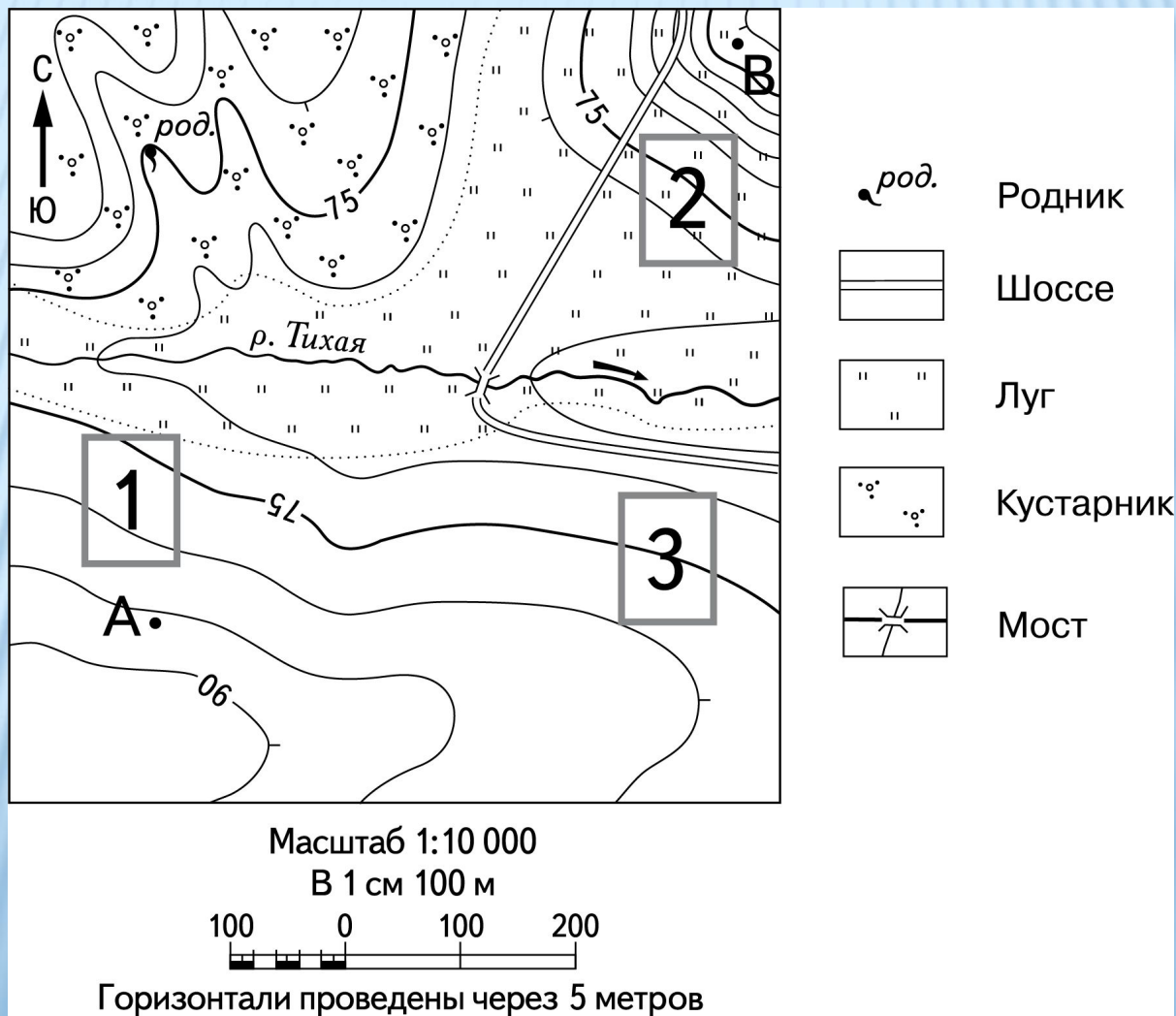


Горизонтالي проведены через 2,5 метра

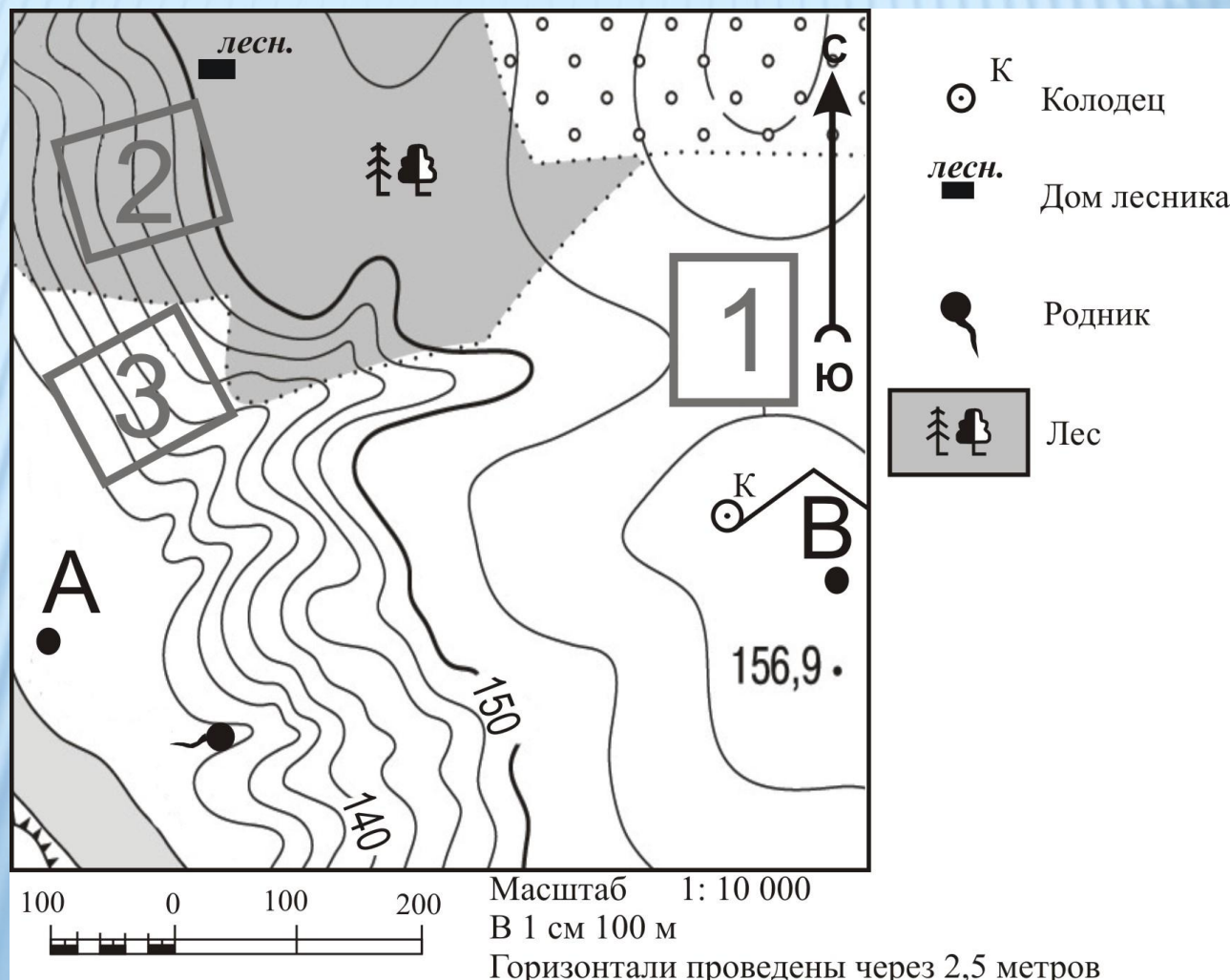
3. Группа отдыхающих выбирает место для сбора грибов и дальнейшего пикника. Ей необходимо найти подберезовики и другие грибы. Кроме того, их интересует отдых под тенью деревьев. Определите, какой из участков, обозначенных на карте цифрами 1, 2 и 3, больше всего отвечает указанным требованиям. Для обоснования вашего ответа приведите два довода.



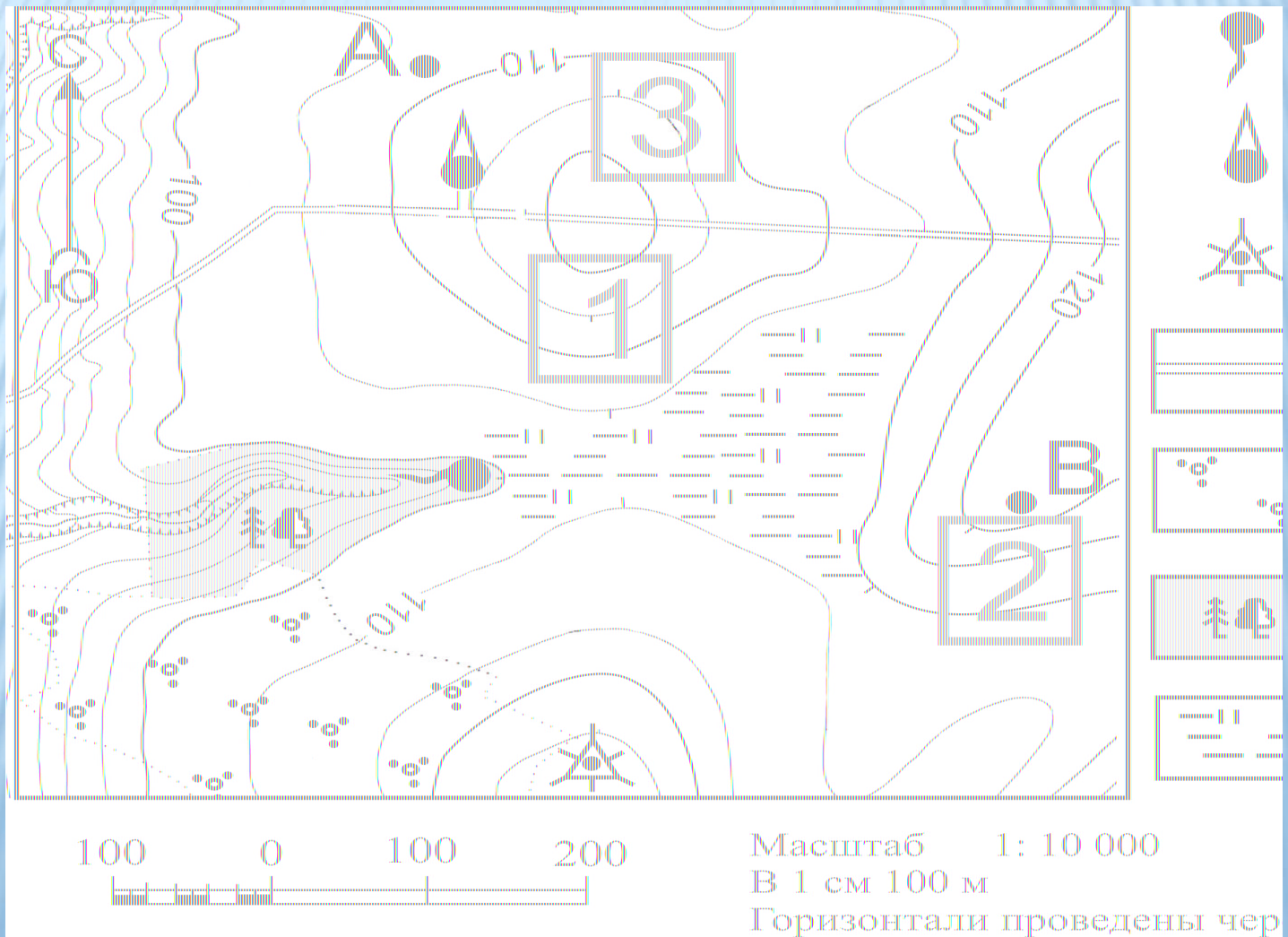
4. Инженеры выбирают место для строительства автозаправки. Им необходимо найти место поближе к дороге. Кроме того, их интересует слабый уклон местности для дешевизны работ. Определите, какой из участков, обозначенных на карте цифрами 1, 2 и 3, больше всего отвечает указанным требованиям. Для обоснования вашего ответа приведите два довода.



5. Группа студентов-экологов проводит исследование лесной растительности. Им необходим участок с указанным выше типом сообщества. После окончания работ они планируют остановиться на отдых в домике лесника. Определите, какой из участков, обозначенных на карте цифрами 1, 2 и 3, больше всего отвечает указанным требованиям. Для обоснования вашего ответа приведите два довода.

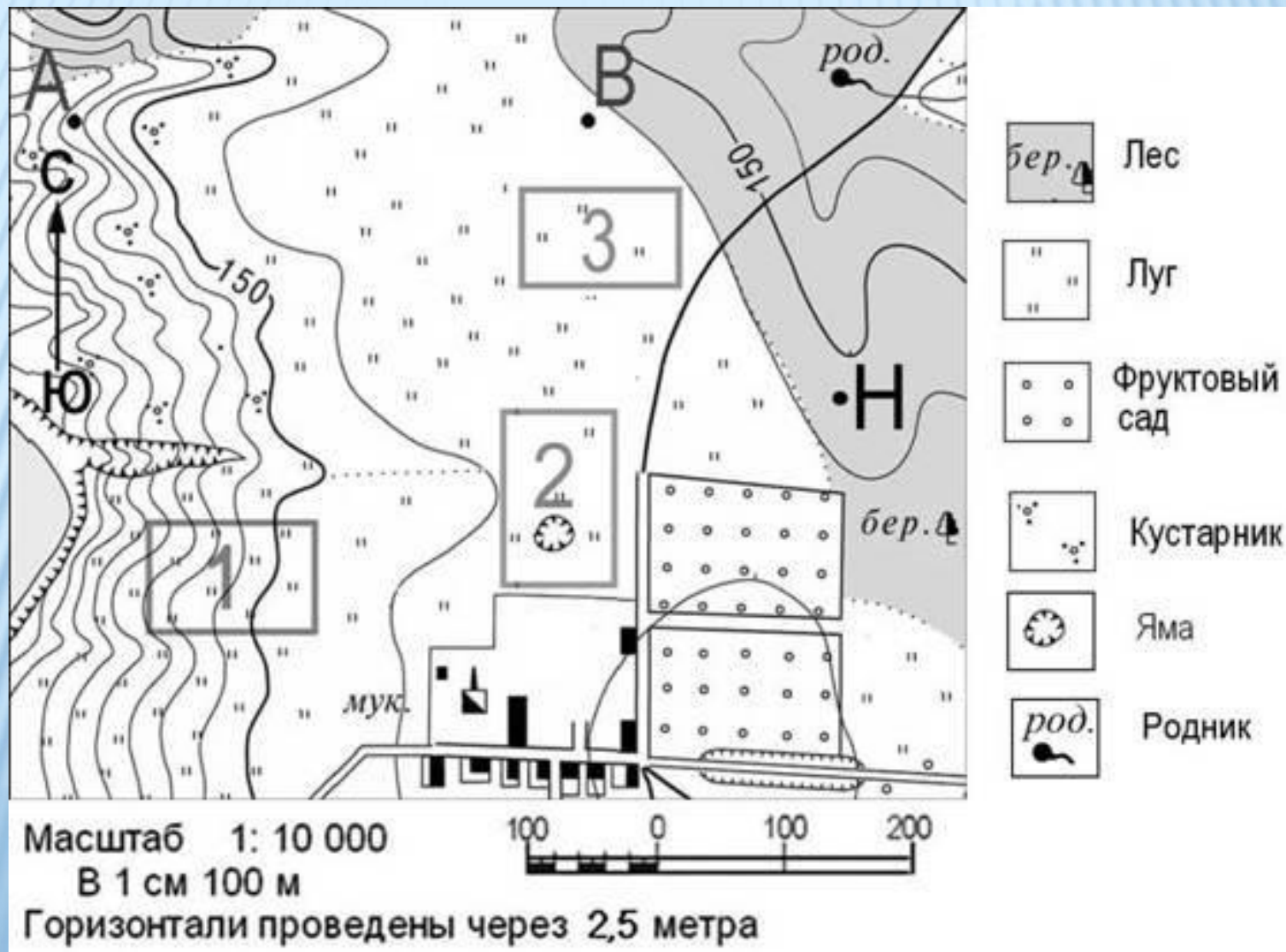


6. Фермер выбирает участок для закладки нового сада. Ему нужен участок удобный для вывоза собранного урожая на консервный завод. Он также должен иметь расположение, удаленное от сырых участков. Определите, какой из участков, обозначенных на карте цифрами 1, 2 и 3, больше всего отвечает указанным требованиям. Для обоснования вашего ответа приведите два довода.

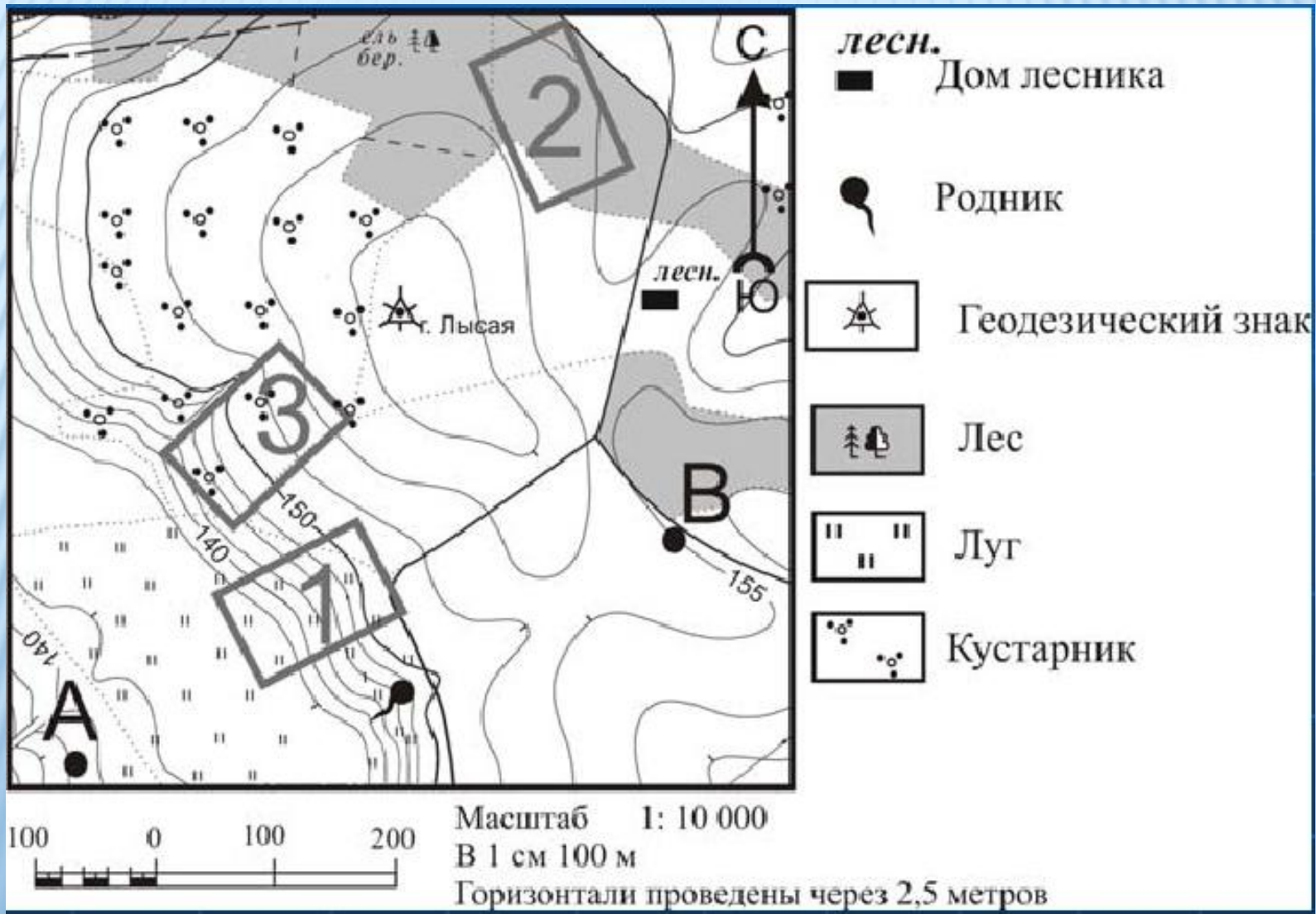


7. Строители выбирают участок для возведения нескольких дач. Им нужен ровный участок. Он также должен иметь расположение с видом на лес, но близ любой дороги. Определите, какой из участков, обозначенных на карте цифрами 1, 2 и 3, больше всего отвечает указанным требованиям.

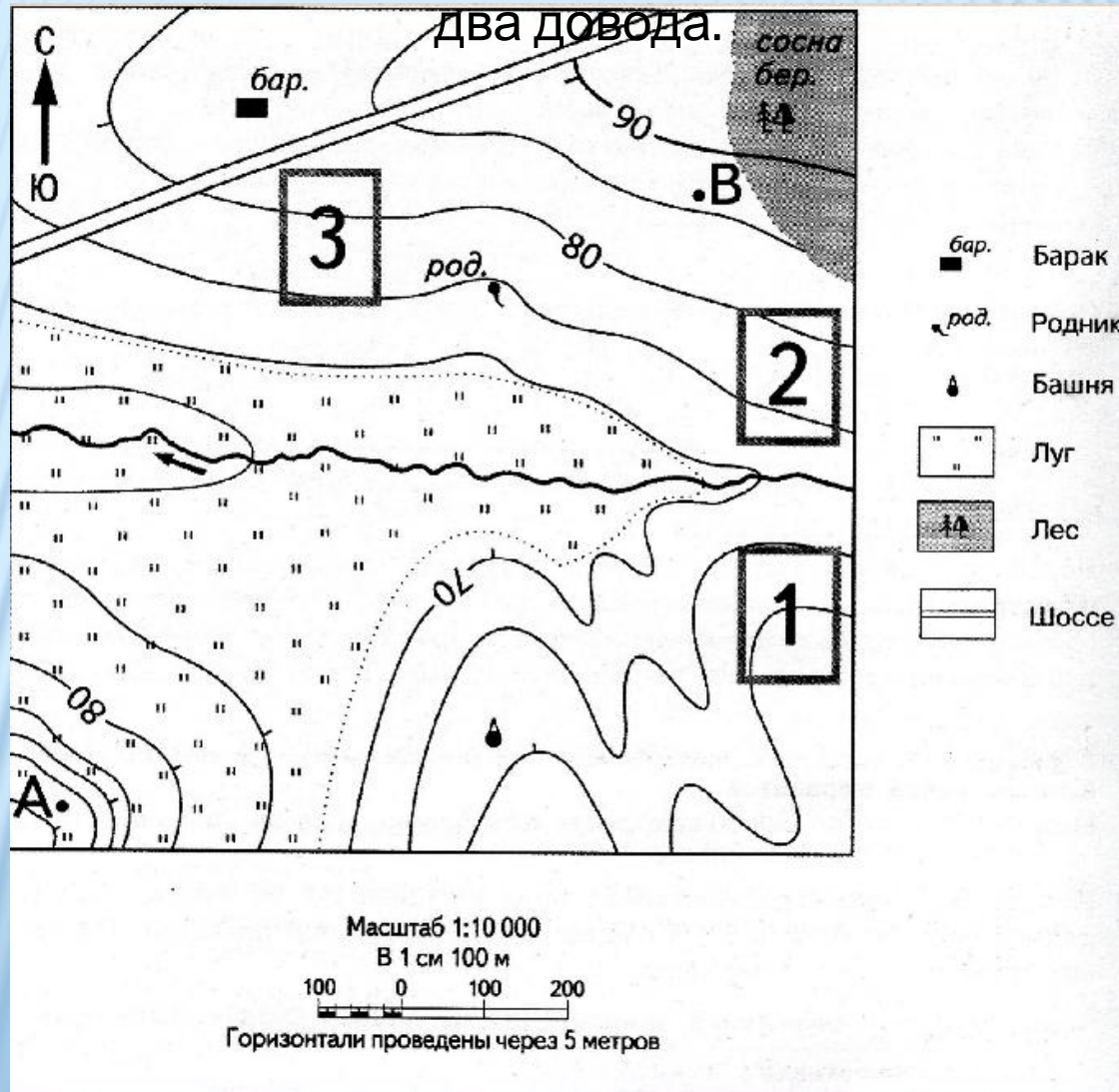
Для обоснования вашего ответа приведите два довода.



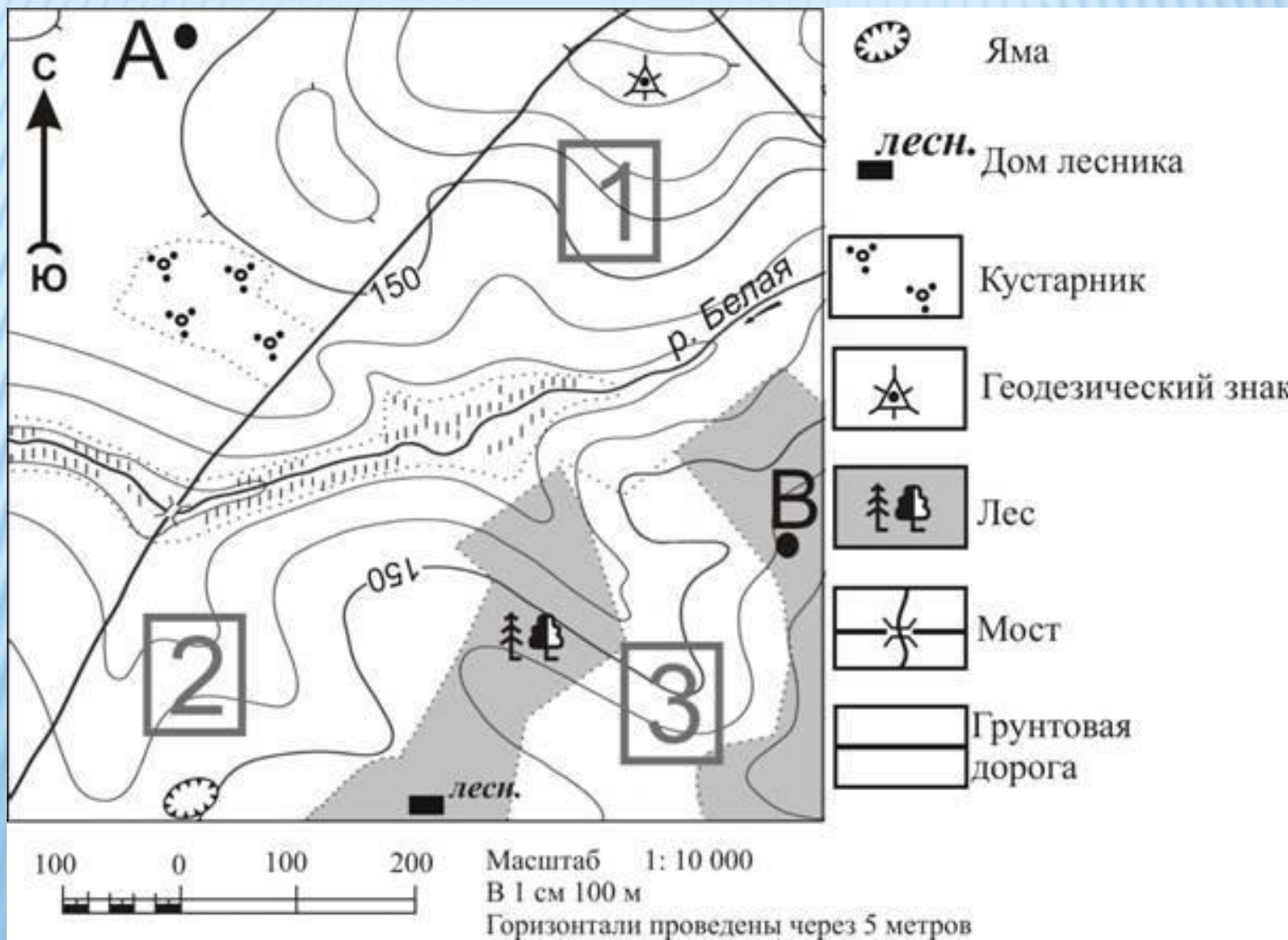
8. Туристы выбирают участок для спуска на лыжах. Им необходим участок с самым крутым уклоном и без препятствий. Определите, какой из участков, обозначенных на карте цифрами 1, 2 и 3, больше всего отвечает указанным требованиям. Для обоснования вашего ответа приведите два довода.



9. Фермер выбирает участок для посева бахчи. Ему нужен участок, на котором летом почва лучше всего прогревается солнцем. Он также планирует быстрый вывоз ягод с поля. Определите, какой из участков, обозначенных на карте цифрами 1, 2 и 3, больше всего отвечает указанным требованиям. Для обоснования вашего ответа приведите



10. Вожатые выбирают место для проведения зарницы. Им необходим участок с пересеченной местностью близ леса. Определите, какой из участков, обозначенных на карте цифрами 1, 2 и 3, больше всего отвечает указанным требованиям. Для обоснования вашего ответа приведите два довода.



БЛОК ДВЕНАДЦАТЫЙ

Верные ответы:

1. Участок 1 – расположен на ровной поверхности без леса и кустарников; близ населенного пункта. Участок 3 находится в лесу, а 2 – на крутом склоне.
2. Участок 1 – расположен на крутом склоне в безлесной местности; на северо-восточном склоне, где дольше задерживается снег. Участок 2 находится в лесу, а 3 – на ровном лугу.
3. Участок 3 – расположен в березовом лесу, где встречаются эти грибы; имеется древесная растительность. Участок 2 расположен на безлесном лугу, а 1 – среди кустарников.
4. Участок 3 – расположен близ дороги; на слабопересеченной изогипсами местности. Участок 2 имеет более крутой склон, а 1 – вдали от дороги.
5. Участок 2 – расположен в лесу; максимально приближен к домику лесника. Участки 1 и 3 не находятся в лесу и расположены дальше от домика лесника.
6. Участок 3 – расположен близ дороги; удален от болотистой местности. Участок 2 расположен вдали от дороги, а 1 – близ болотистой местности.
7. Участок 3 – расположен на ровном лугу; близ леса и грунтовой дороги. Участок 1 расположен на крутом склоне, а 2 имеет яму и отдален от леса.
8. Участок 1 – расположен на самом крутом месте; с луговой растительностью. Участок 2 расположен в лесу, а 3 – не такой крутой склон с кустарниковыми препятствиями.
9. Участок 3 – расположен на склоне южной (теплой) экспозиции; близ дороги. Участок 2 расположен вдали от дороги, а 1 – на склоне северной (холодной) экспозиции.