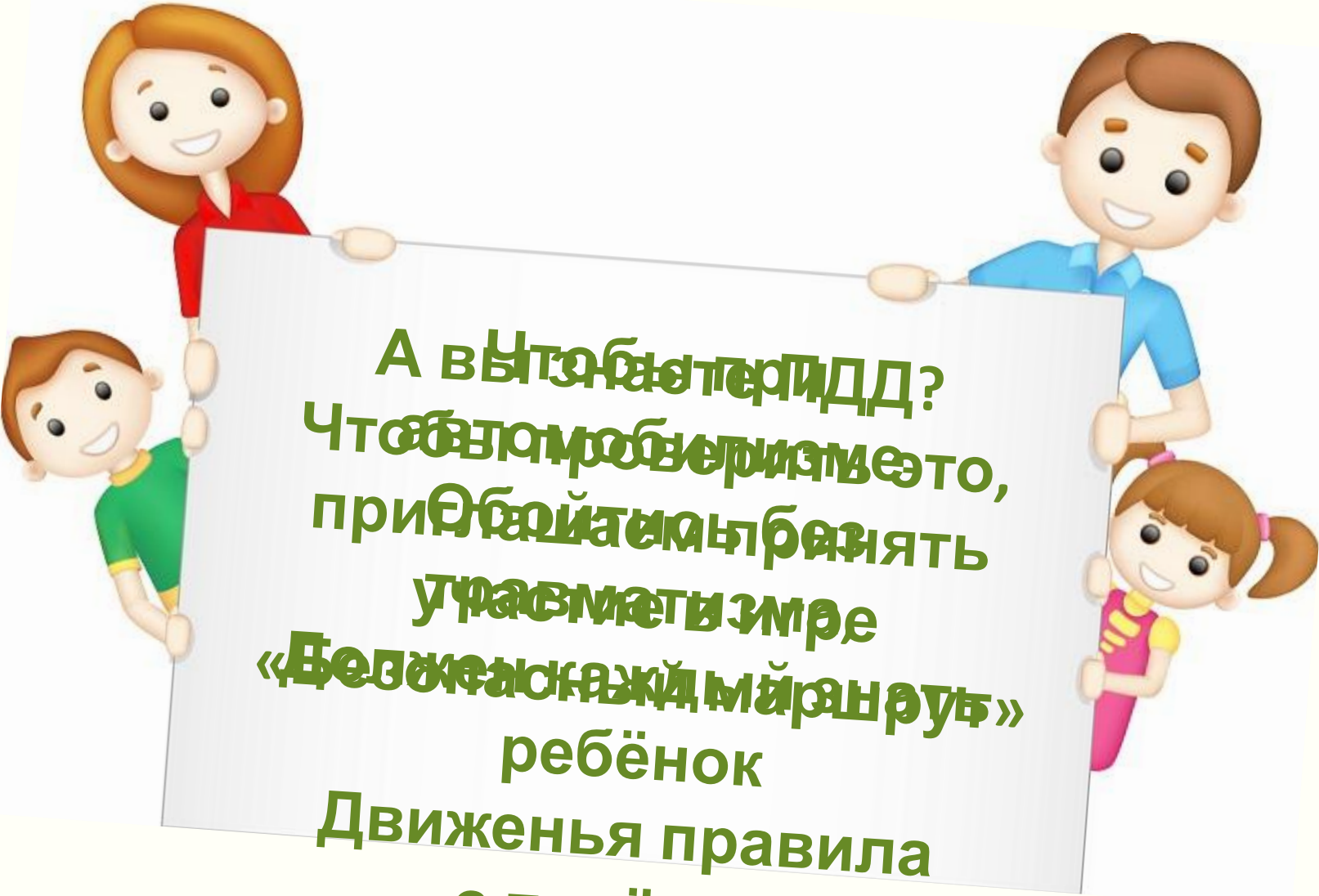


Юным участникам дорожного движения



Андреева Наталья
Николаевна

An illustration of four cartoon children holding a large white sign. On the top left is a girl with long brown hair wearing a red shirt. On the top right is a boy with short brown hair wearing a blue shirt. On the bottom left is a boy with short brown hair wearing a green shirt. On the bottom right is a girl with short brown hair in pigtails wearing a pink and yellow outfit. The sign they are holding contains text in Russian.

А вы знаете ли?
Чтобы избежать
травматизма
ребёнок
Движения правила
с пелёнок!

Правила игры

1. Вам предстоит пройти по маршруту, который представлен овалами разного цвета. Белые овалы – задания, красные и зелёные – сюрпризы.
2. Определить количество ходов можно с помощью игрового кубика, для этого щёлкните по нему мышкой, начиная с первого хода.
3. Узнав количество ходов и выполнив их, щёлкните мышкой по нужному овалу, прочитайте задание и дайте ответ. Проверить его правильность можно нажатием на выбранный вариант ответа. Если ответ неверный, появится красный сигнал. Не огорчайтесь: есть время подумать и найти правильный ответ.
4. В случае перехода, выполняйте задание указанного овала. Затем определите кубиком шаг следующего хода, отсчитайте нужное количество, начиная с соседнего овала.



5. Вернуться к овалу с заданием на игровом поле можно

Безопасный маршрут

**ПОЗДРАВЛЯЕМ, ИГРА ОКОНЧЕНА,
ВПЕРЕДИ ЦЕЛАЯ ЖИЗНЬ!**

Музыкальная
пауза

**Соблюдайте правила
дорожного движения!**

Будьте внимательны на дорогах!

Живите долго и счастливо!



Разгадайте ребусы



ок



Где нарушают ПДД?

1



2



3



4



1, 2, 3



2, 3, 4

1, 2, 3, 4



Где следует обходить автобус?

1. Ни спереди, ни сзади обходить автобус нельзя!
2. Дождитесь, когда он отъедет от остановки и пройдите к пешеходному переходу.
3. Убедившись в безопасности перехода, постоянно наблюдая за дорогой, перейдите на противоположную сторону.



1)


спереди

2) нигде

3) сзади



Какой знак называется «Пешеходная дорожка?»



1, 2

3

3, 4




Дорожные ловушки. Укажите их

1




2



3



4




1, 3, 4

2, 3, 4

1, 2, 4



На каком рисунке правильно показан сигнал поворота налево?



1 и 2

2 и 3

3



Уважно тем фетте графору, в бълви этого щёлак фотте графей мышкой



1



2



3



4



1, 3, 4

2, 4

1, 2



Кто проедет перекрёсток вторым?



1

2

3



Кто является водителем?



1



2



3

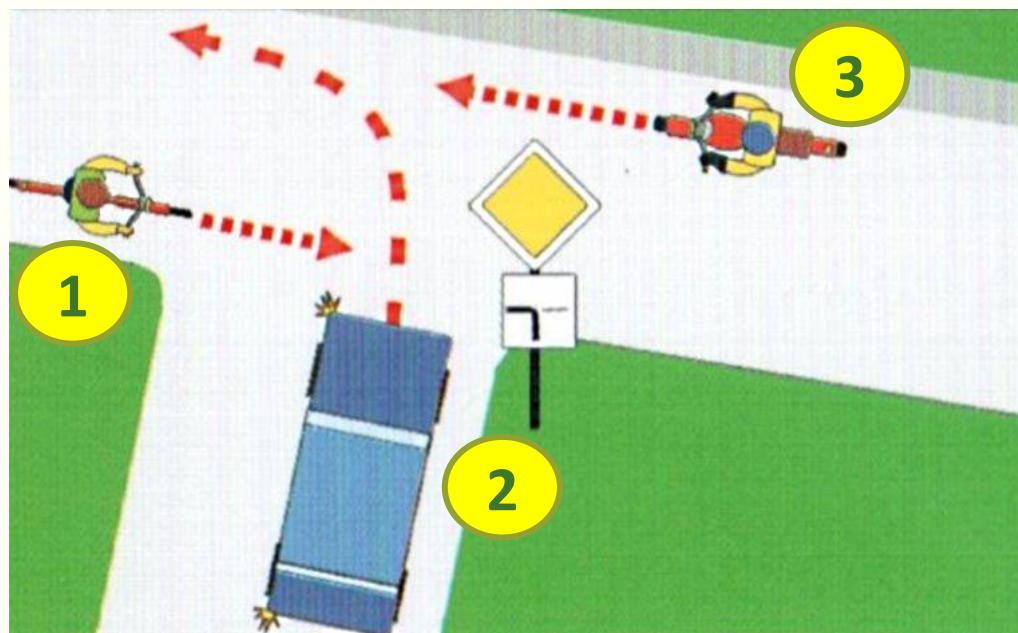
1

1, 2

1, 2, 3



В каком порядке проедут транспортные средства?



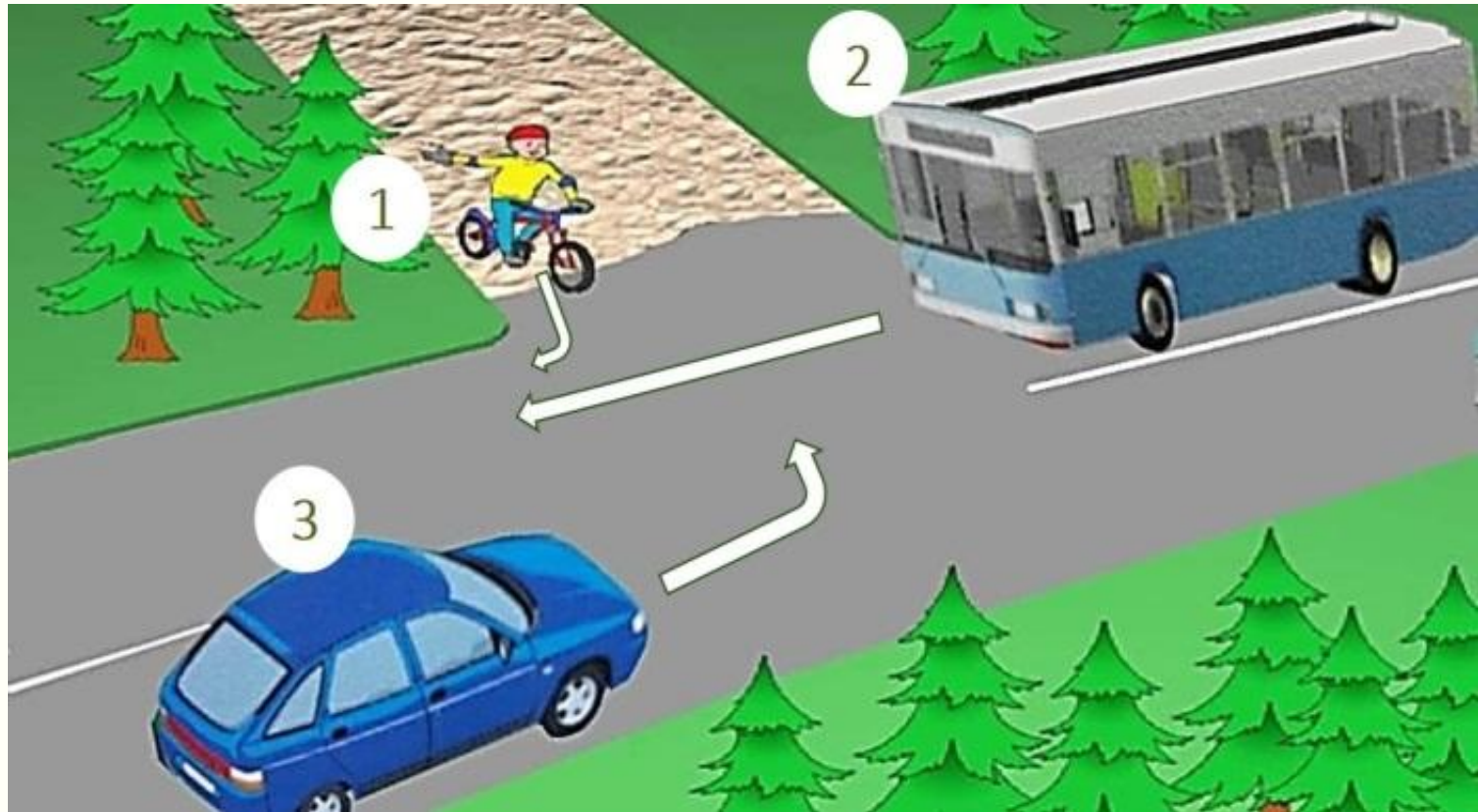
2, 1 и 3

1 и 3, 2

1, 2, 3



Кто проедет перекрёсток первым?



1

2

3



Где запрещён переход дороги?

1



Возле

2



На крутых поворотах




3



Где дорога
хорошо

4



Возле тоннелей

просматривается


1, 2, 3

1, 2, 4

2, 3, 4



**Не оставляйте детей
без внимания на дороге**



Надёжная защита пешехода - фликер




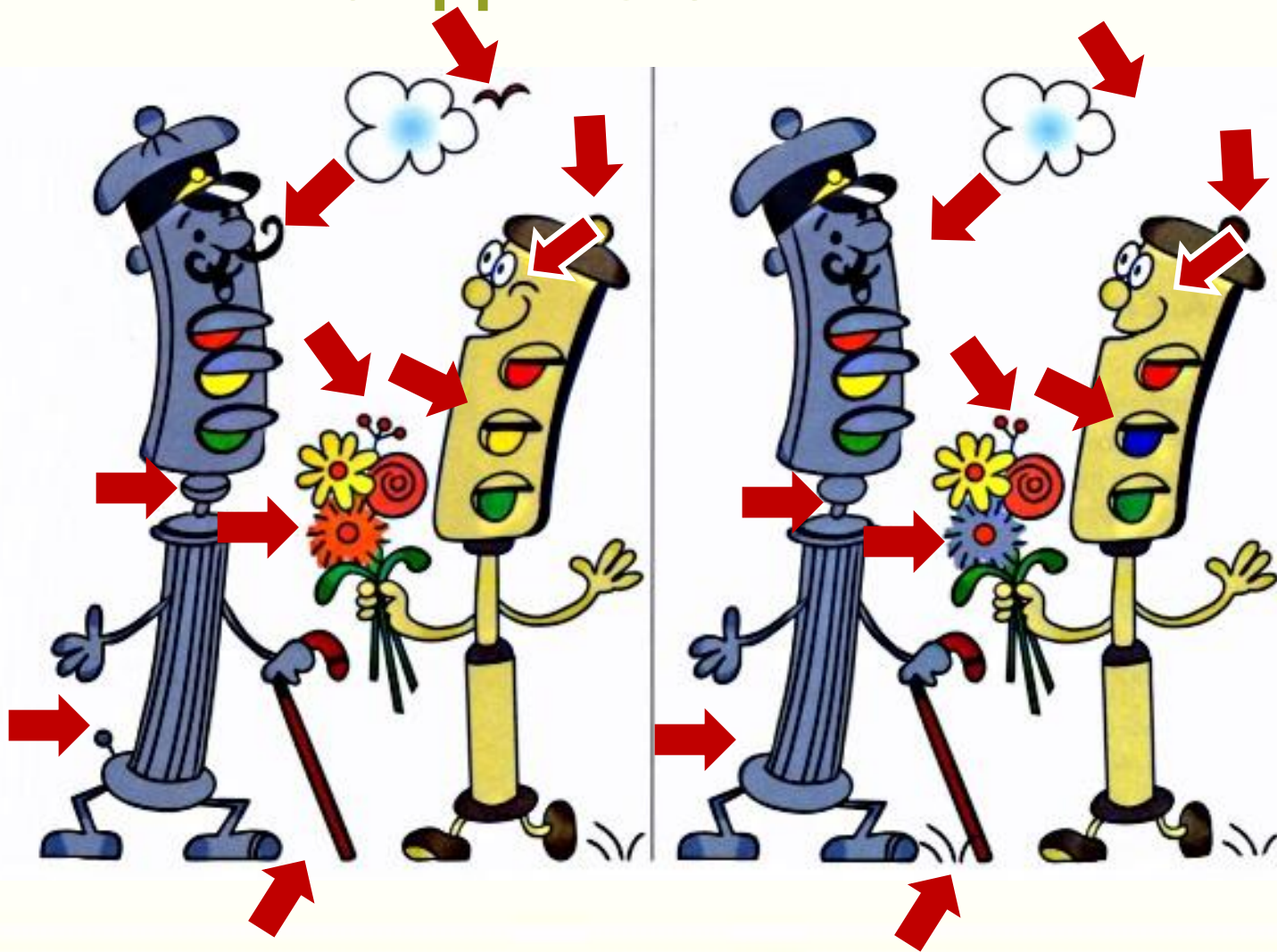
Замените рисунки знаками



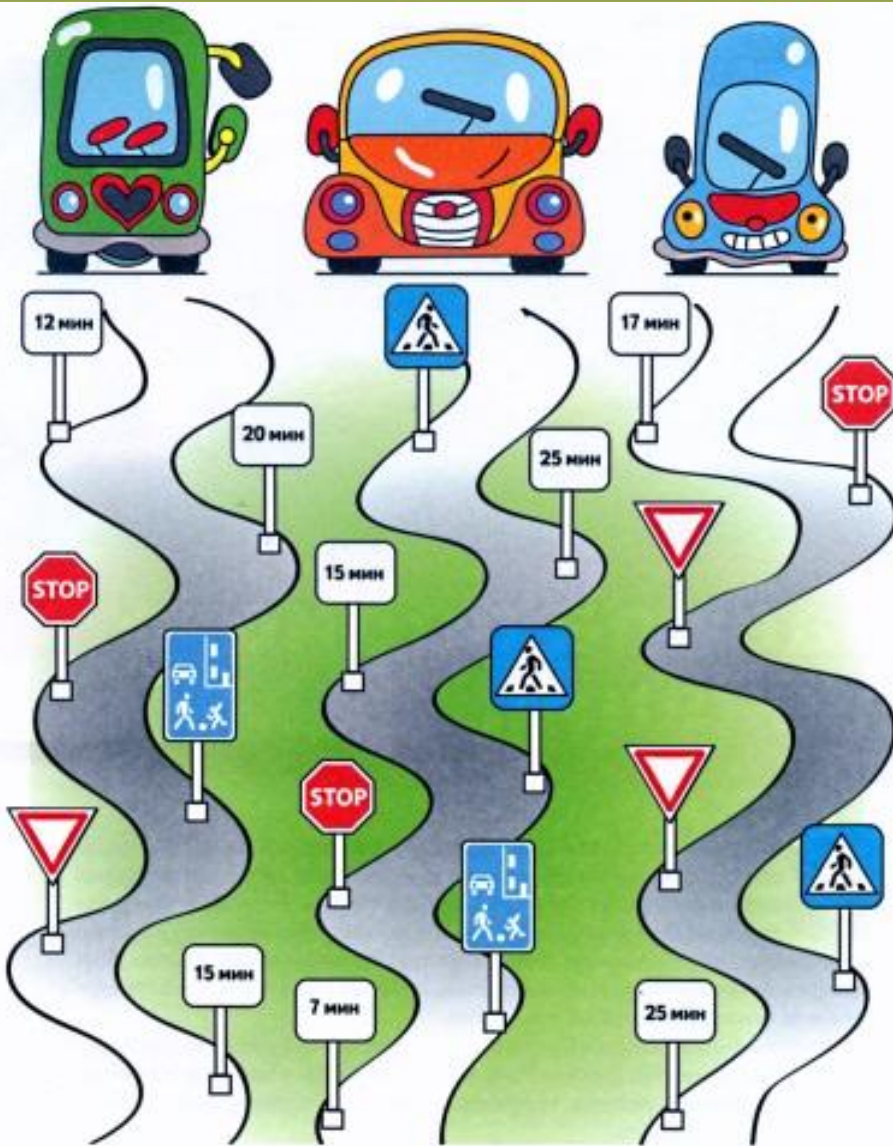
Чтобы проверить себя, щёлкните по рисунку мышкой.
а чтобы вернуть рисунок – по знаку



Учись наблюдать за дорогой: найди 10 отличий



Автозадача



65 Мин

64 Мин

61 Мин



Время остановки перед участком на каждом пути каждой из них будет встречаться пешеходные переходы и дорожные знаки, регламентирующие движение. Про маршрут машин и знаки движущиеся без остановки и запрещающей дороги машина уходит за то время, которое считается сколько времени на дороге затратит каждая машина и какая бы выполнить задание.

Головоломка

1. Рассмотрите эти знаки.



2. Попробуйте за 10 секунд найти такое же сочетание на игровом поле головоломки. Будьте внимательны!

3. Щёлкните по светлому фону мышкой. Рассмотрите игровое поле в течение 5 секунд, а затем активируйте часы командой «Время».

Андреева Наталья Николаевна



natnikandr61@mail.ru

Выпускница факультета
педагогики и методики
начального обучения
Красноярского государственного
ордена Знак Почета
педагогического института

Учитель начальных классов
МОУ Лицей № 1
г. Ачинска Красноярского края

Педагогический стаж 23 года

Увлечения: компьютер,
автомобиль, дача



Информационные источники

Слайд 1: фон авторский, баннер портала СТУ, город, пешеходы, футболист, велосипедист 1, велосипедист 2, знаки;

Слайд 2: семья;

Слайд 4: фон, знаки 1, 2, 3, 4, 5, 6, 7, 8, 9, 10, 11, 12, 13, 14, здания, дети 1, 2, аудио 1, 2, видео;

Слайд 5: ребусы обработаны в программе Paint.net;

Слайд 6, 9: изображения обработаны в программе Paint.net;

Слайд 7 схема взята в дорожном конструкторе;

Слайд 8: знаки слайда 4;

Слайд 17: звуковые файлы, социальный ролик из коллекции УВД ГИБДД Красноярского края – всё из архива материалов автора ресурса;

Слайд 18: фото 1, 2, 3, 4, 5, 6; **Слайды 10 – 16:** содержат задания тестов Центра «Пропаганда», 2008 год, отсканированные и обработанные в программе Paint.net;

Слайды 19 - 22: содержат сканированные задания из журнала «Путешествие на зелёный свет», обработанные в программах Paint, Paint.net? 2011- 2014 г.г.

Слайд 19: знаки слайда 4 и 1, 2, 3, 4;

Слайд 20: ссылка сайта Дидактор на анимированные часы А.Баженова;

Слайд 23: фото из личного архива

Материалы лекций мастер–класса «Создание КОР»-7

Кочкурова Л.В. Оптимизация веса презентации при её сохранении

Кочкурова Л.В. Создание презентации. Правила и рекомендации

Кочкурова Л.В., Миропольская И.А., Скорова Н.К. Анимация в презентации

Кочкурова Л.В. Триггеры в презентации

Лобанова Р.Б. Как создать красивый заголовок

Миропольская И.А. Работа с рисунком (в том числе рисунками SmartArt)

Миропольская И.А. Сжатие рисунка в Диспетчере рисунков

Скорова Н.К. Как сжать рисунок с помощью программы Paint

Скорова Н.К. Оформление гиперссылки

Юркова Е.В. Создание визитной карточки

Анимированные часы А.Баженова

Зорина Т.В. Нестандартные шаблоны

