

Третий этап Республиканской олимпиады по учебному предмету
«География» 2013 г.

МУЛЬТИМЕДИЙНЫЙ ТЕСТ

9 КЛАСС, ВАРИАНТ 1

Уважаемый участник олимпиады!

На выполнение заданий мультимедийного теста олимпиадной работы отводится 1 час (60 минут).

Ты имеешь право воспользоваться интерактивными возможностями пакета PowerPoint (уменьшать и увеличивать рисунки и фотографии; просматривать слайды в произвольном порядке и в свободном ритме и т.п.).

Ответы на задания мультимедийного теста необходимо вписать в предлагаемый бланк ответов.

По результатам мультимедийного тестирования Вы можете получить максимум 50 баллов.

ЖЕЛАЕМ ТЕБЕ УДАЧИ!

Вопрос 1. К какому типу относятся облака нижнего яруса со слабым вертикальным развитием, которые часто можно наблюдать в пасмурную погоду:

А) серебристых; Б) перистых; В) слоистых; Г) кучево-дождевых?

(За правильный ответ – 1 балл)

А)



В)



Б)

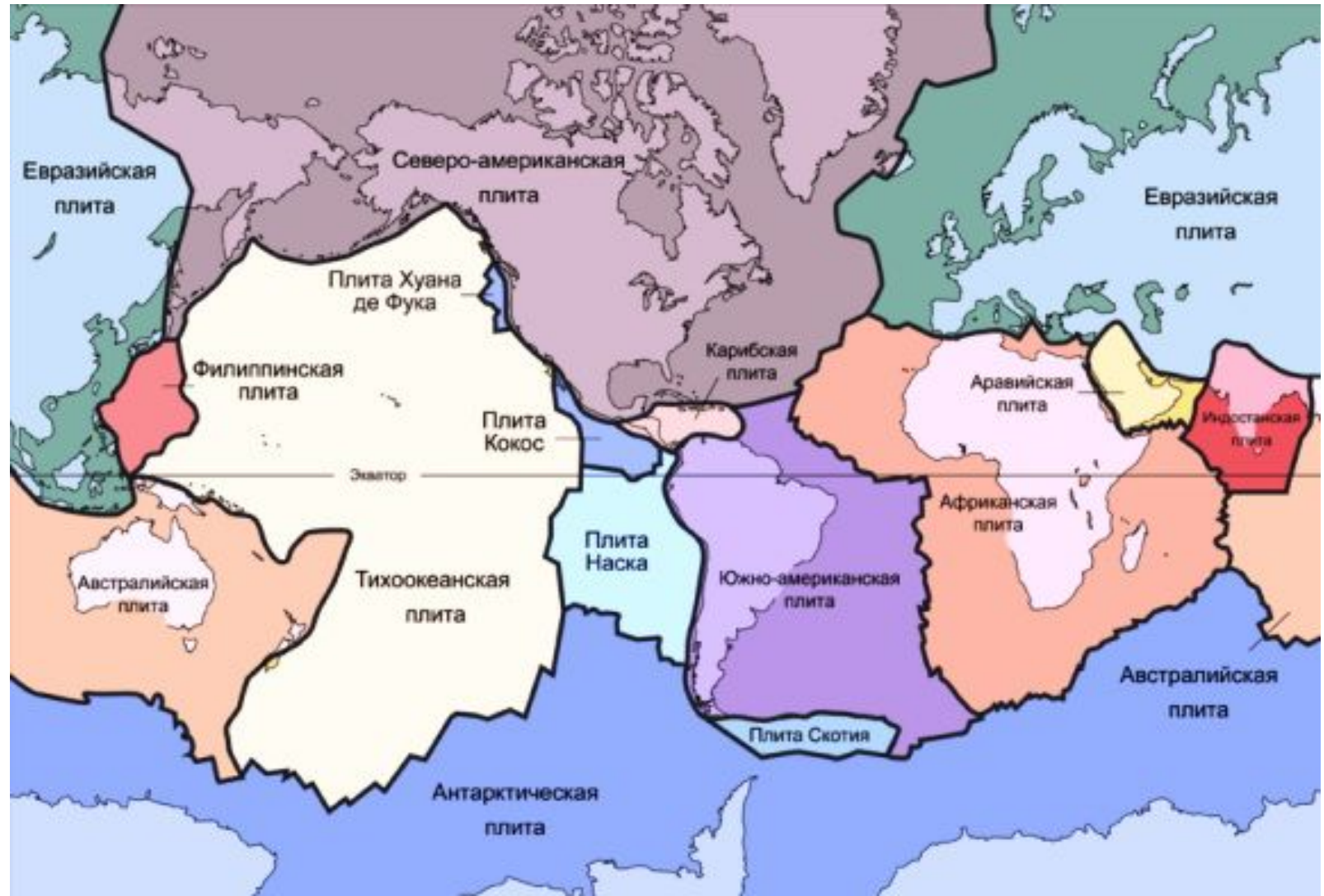


Г)



Вопрос 2: В основании каких материков залегает несколько крупных литосферных плит:
А) Южная Америка; Б) Евразия; В) Австралия; Г) Африка; Д) Антарктида;
Е) Северная Америка?

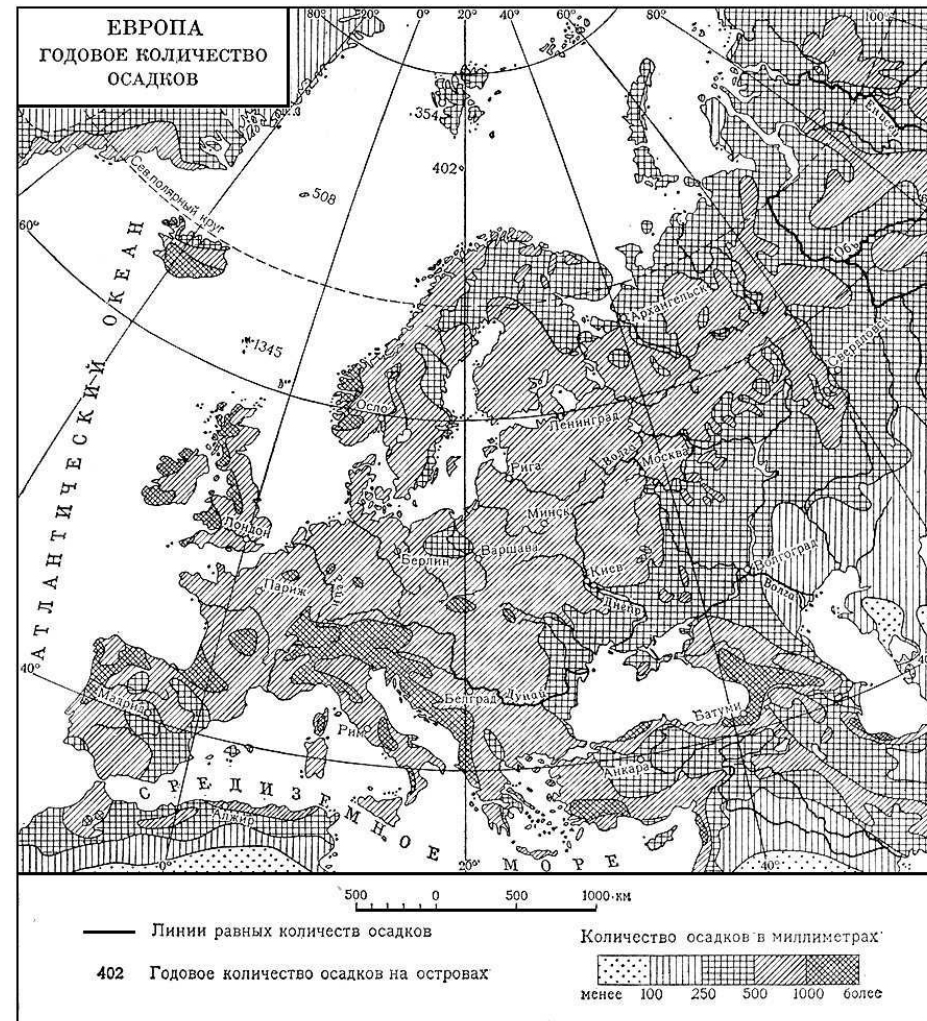
(За правильный ответ – 2 балла)



Вопрос 3: Южное Чили и Западную Колумбию называют «мокрыми углами» Южной Америки. Выберите «мокрый угол» Европы:

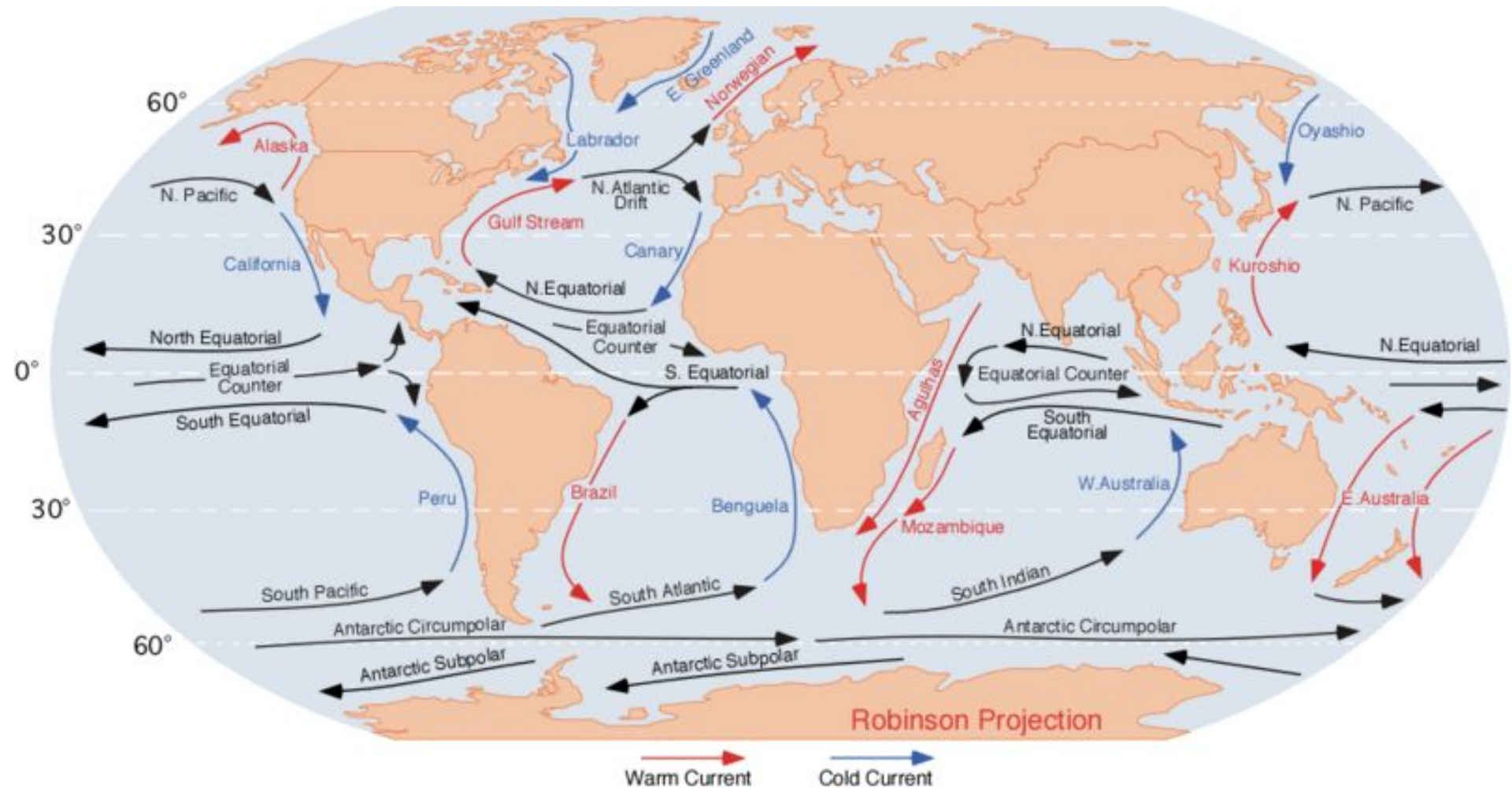
А) побережье Норвежского моря;
Б) северное побережье Адриатического моря;
В) побережье Балтийского моря;
Г) побережье Мраморного моря;
Д) северное побережье Эгейского моря?

(За правильный ответ – 2 балла)



Вопрос 4: Какое единственное течение, идущего от экватора к полюсам, является холодным?

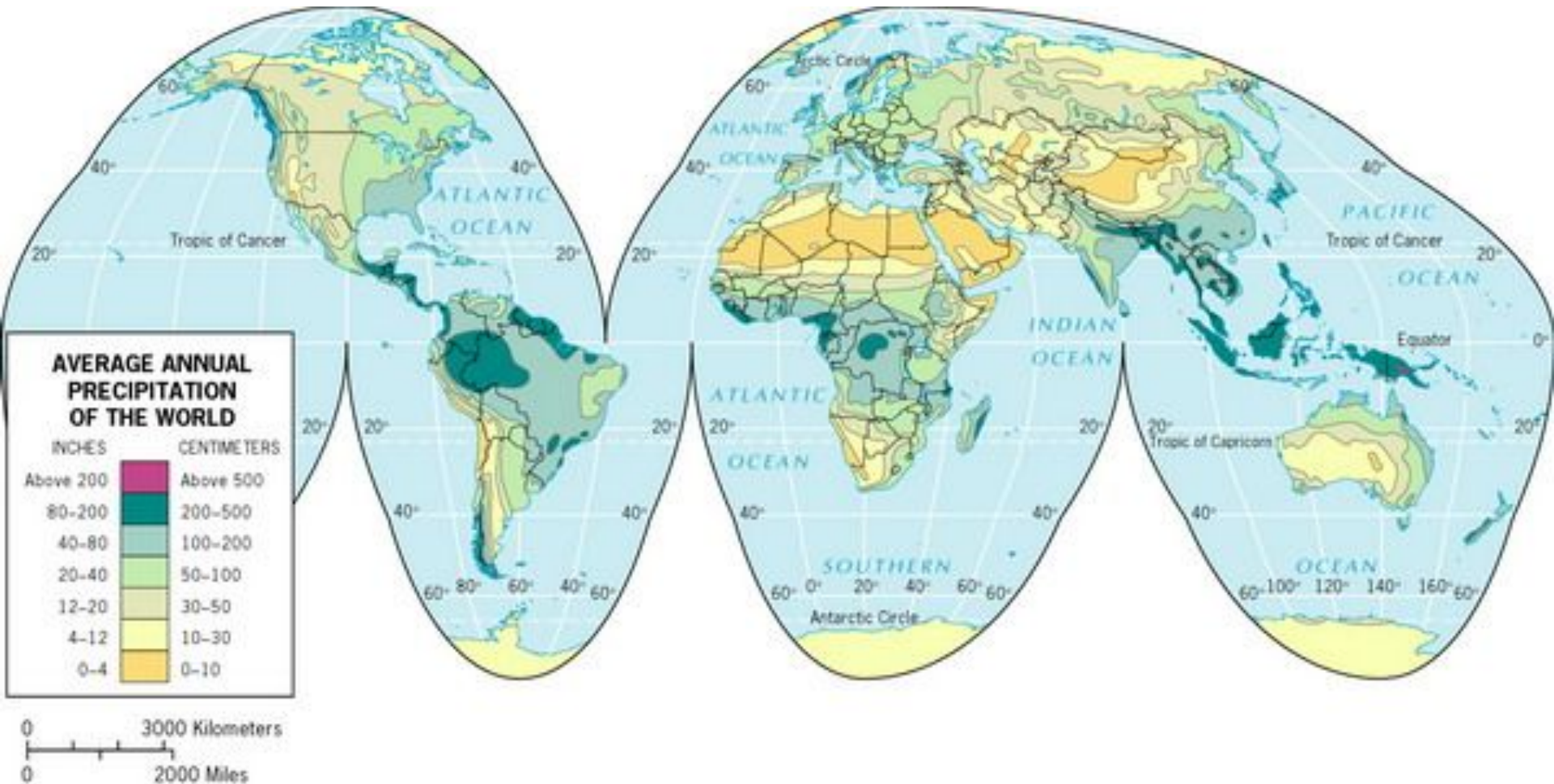
(За правильный ответ 1 балл)



Вопрос 5: Назовите среднегодовое количество осадков на пересечении нулевого меридиана и северного тропика:

А) до 100 мм; Б) от 100 до 150 мм; В) от 150 до 200 мм; Г) от 200 до 300 мм; Д) более 300 мм?

(За правильный ответ – 2 балла)



**Вопрос 6: Какая страна мира является самой южной:
А) Новая Зеландия; Б) Чили; В) Аргентина; Г) ЮАР?**


(За правильный ответ – 1 балл)




**Вопрос 8: Кто первым привел доказательства шарообразности Земли:
А) Галилей; Б) Магеллан; В) Аристотель; Г) Пифей; Д) Коперник?**

(За правильный ответ 1 балл).


А)



Б)



В)



Г)



Д)



Вопрос 9: Какая горная вершина занимает второе место по высоте в Южной Америке:

**А) Бонете; Б) Тупунгато; В) Уаскаран;
Г) Охос-дель-Саладо; Д) Мерседарио?**


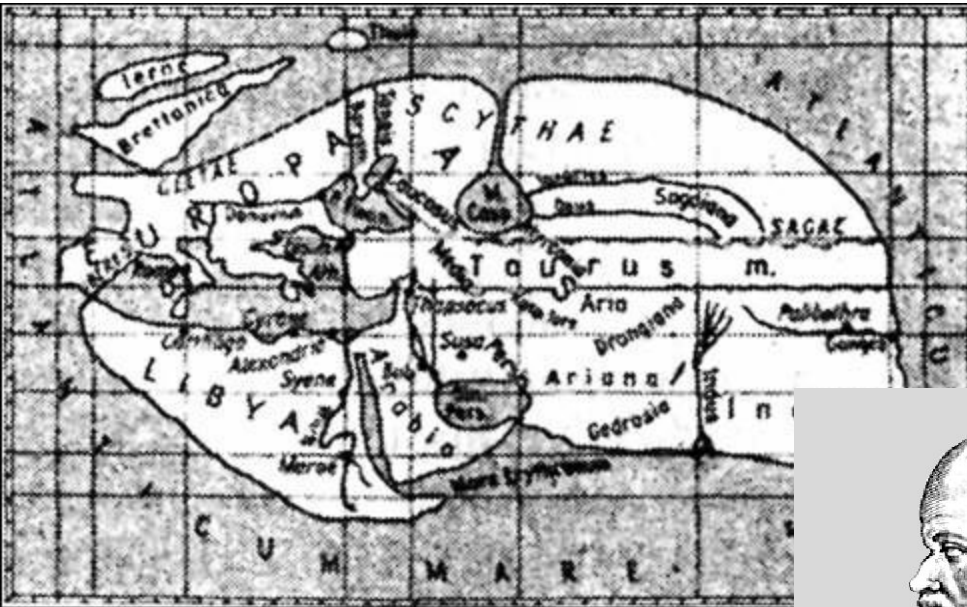
(За правильный ответ – 2 балла)



Вопрос 10: Выберите верный вариант ответа: Живший в Египте греческий учёный Эратосфен:

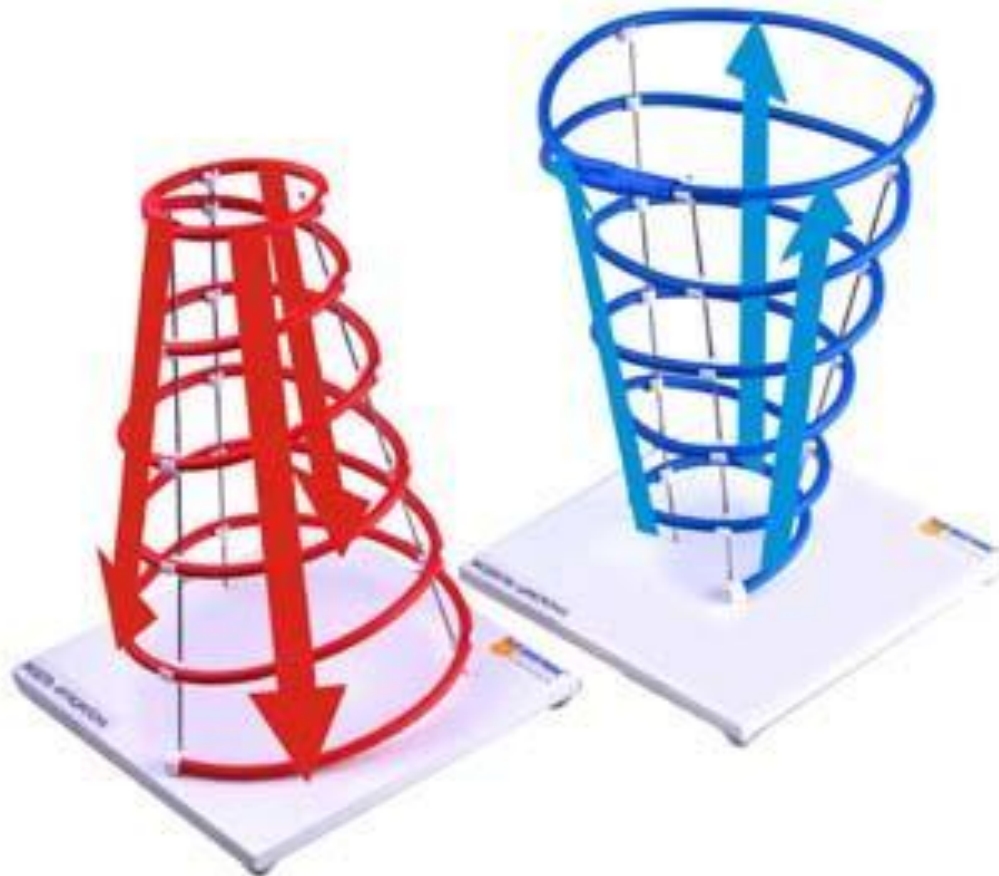
- А) создал глобус;
- Б) составил первую карту мира;
- В) довольно точно вычислил размеры Земли;
- Г) составил карту, на которой Индийский океан окружён сушей?

(За правильный ответ – 2 балла)



**Вопрос 11: В каких широтах в течение всего года преобладает нисходящее движение воздуха:
А) арктических и умеренных; Б) умеренных и экваториальных;
В) экваториальных и тропических; Г) тропических и арктических?**

(За правильный ответ – 2 балла)



Вопрос 12: Какой континент расположен в 2-х полушариях и омывается 3-мя океанами:
А) Евразия; Б) Северная Америка; В) Антарктида; Г) Африка?

(За правильный ответ – 2 балла)



Вопрос 13: Какая экспедиция внесла наибольший вклад в исследование природы Южной Америки:


**А) Дэвида Ливингстона; Б) Джеймса Кука;
В) Александра Гумбольдта; Г) Чарльза Дарвина?**

(За правильный ответ – 1 балл)

А)




В)



Б)



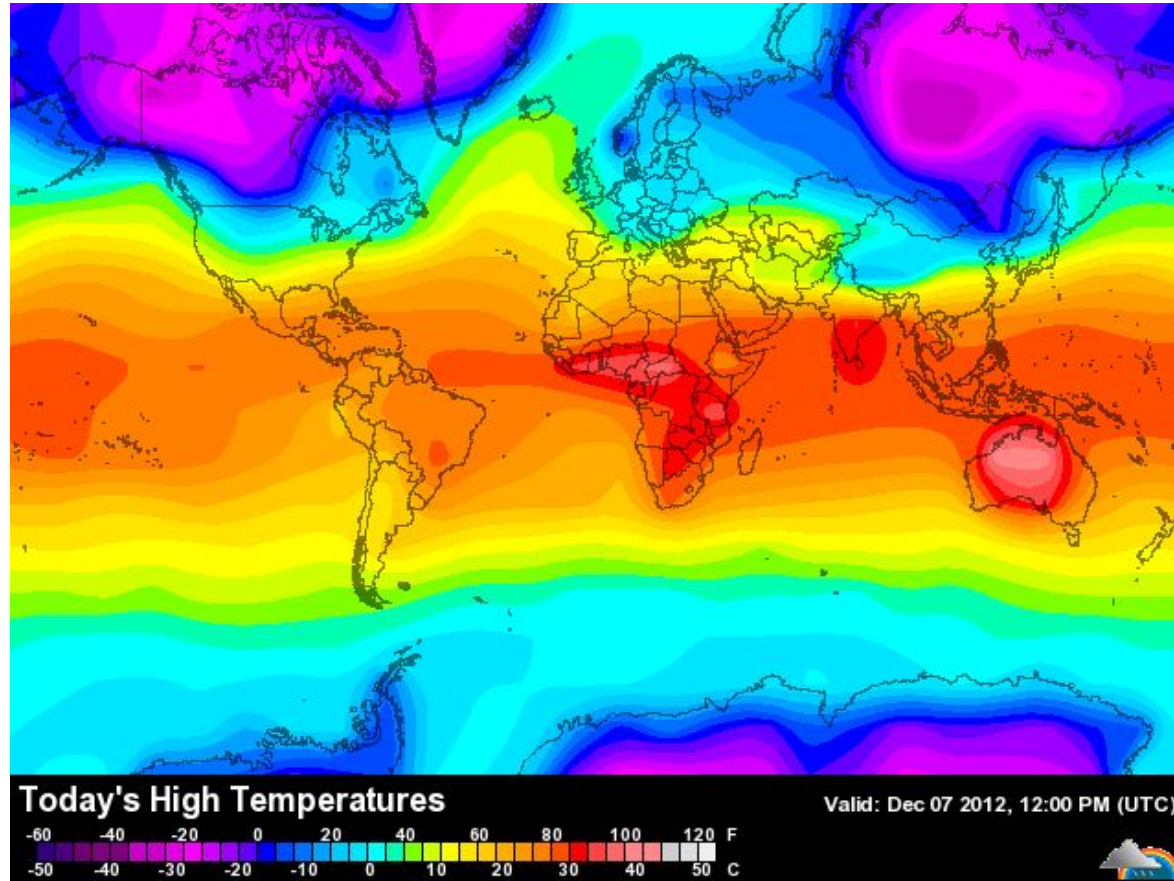
Г)



Вопрос 14: Какова одна из основных причин низких температур в полярных областях Земли:

- А) Отклонение оси вращения Земли от перпендикуляра к плоскости орбиты;**
- Б) Преобладание нисходящих потоков воздуха в полярных областях;**
- В) Высокая отражающая способность снега и льда;**
- Г) Режим полярного дня и полярной ночи?**

(За правильный ответ – 1 балл)



Вопрос 15: В группе Больших Зондских островов выделяются четыре самых крупных. Какой из них расположен в двух климатических поясах: А) Суматра; Б) Ява; В) Борнео; Г) Сулавеси?



(За правильный ответ – 2 балла)



Вопрос 16: Что на языке шона означает «хараре»:

- А) тот, кто не спит; Б) тот, кто не ест; В) тот, кто молчит;
Г) тот, кто не молится?**

(За правильный ответ – 2 балла)



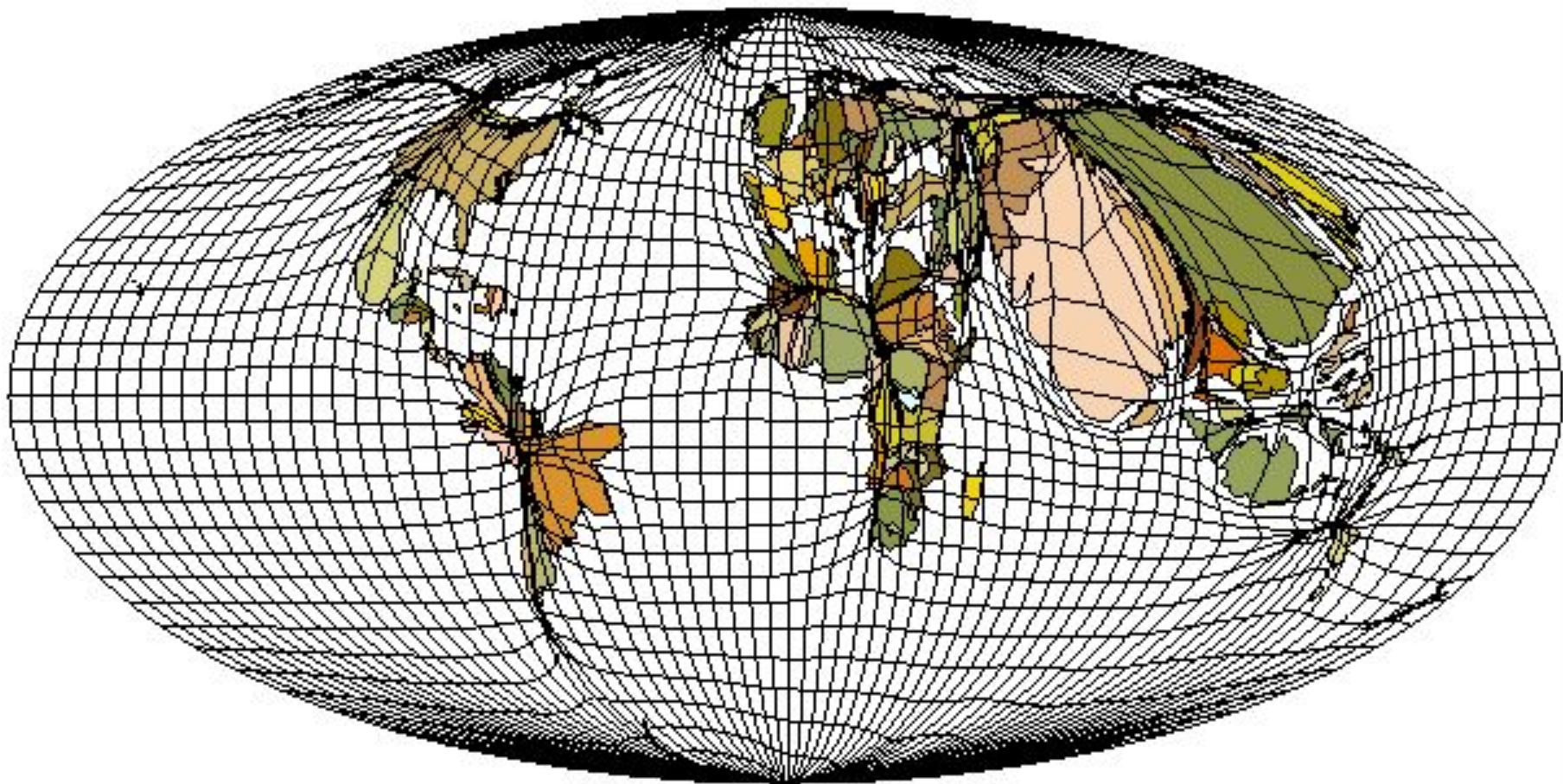
**подделать такие бумажки
сможешь даже ты!**



Вопрос 17: Представленная карта-анаморфоза отражает:

- А) площади стран мира;**
- Б) численность населения по странам мира;**
- В) плотность населения по странам мира;**
- Г) суммарный ВВП по странам мира;**
- Д) среднедушевой ВВП по странам мира?**

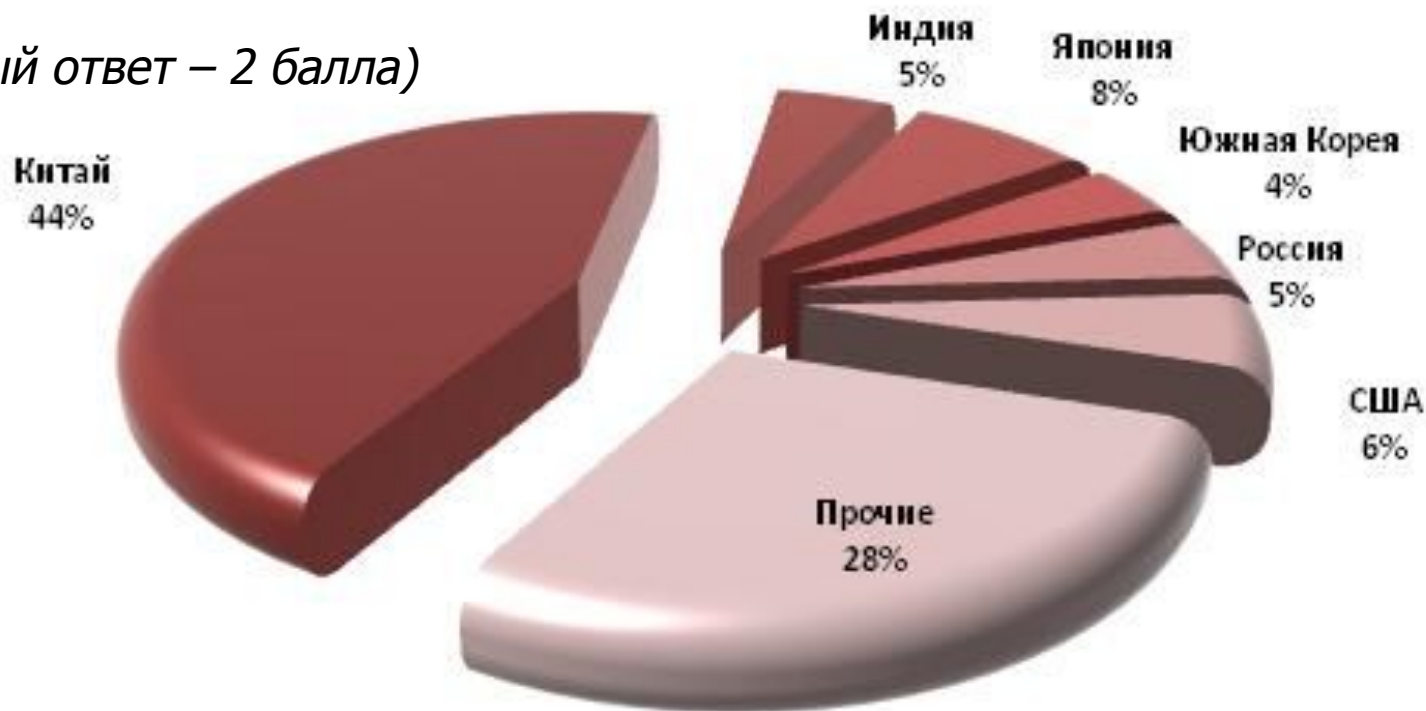
(За правильный ответ – 2 балла)




Вопрос 18: Представленная секторная диаграмма отражает лидеров мирового производства:

- А) железорудных окатышей;**
- Б) чугуна;**
- В) стали;**
- Г) металлических труб;**
- Д) металлолома?**

(За правильный ответ – 2 балла)





Вопрос 19: В какой стране были сделаны эти фотоснимки:
А) Аргентине; Б) США; В) Новой Зеландии;
Г) Исландии; Д) Чили; Е) Канаде; Ж) России?

(За правильный ответ – 2 балла)



Вопрос 20: Какая страна занимает первую рейтинговую позицию в таблице?

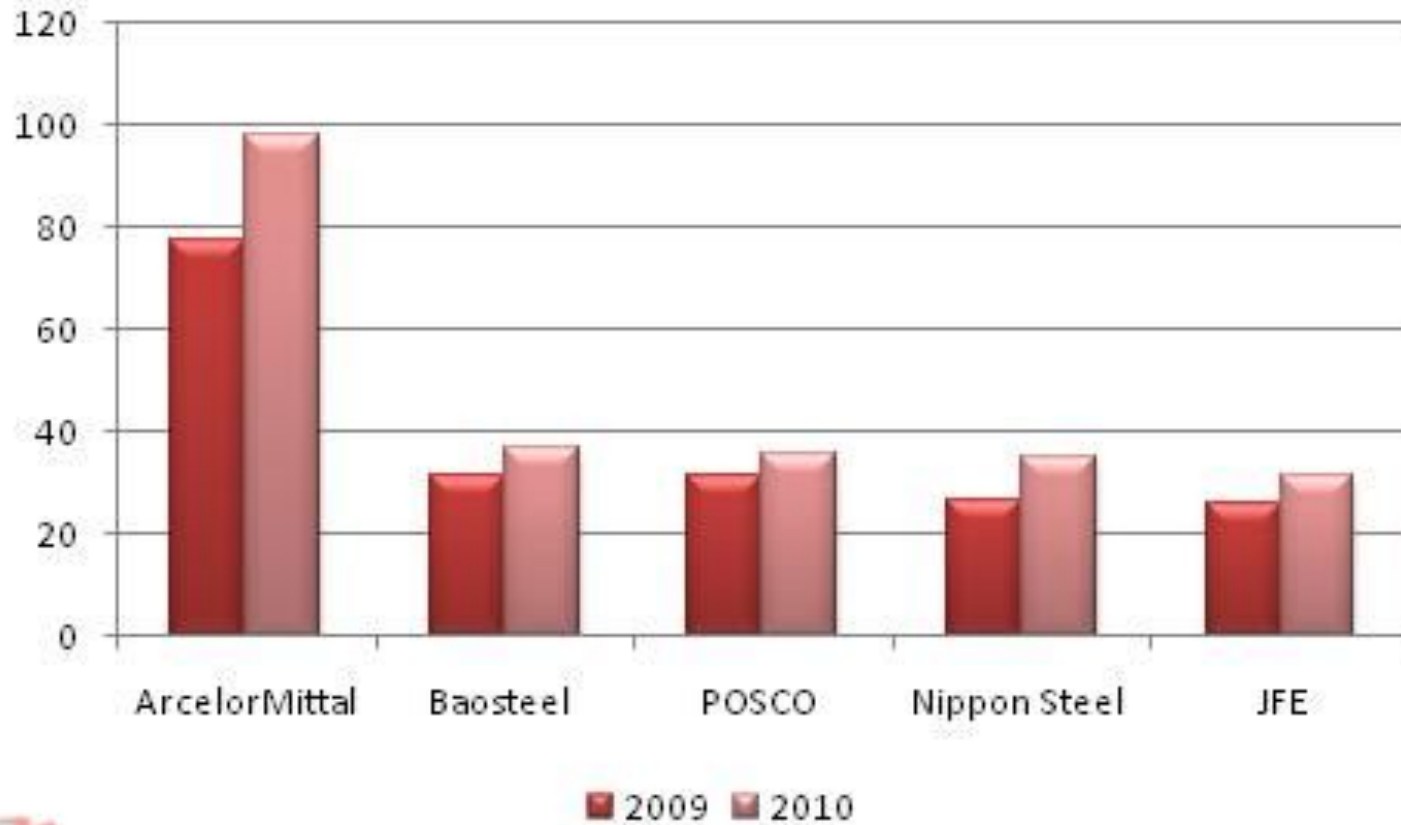
(За правильный ответ – 2 балла)

Страна	Площадь, тыс. км²	Численность населения, тыс. чел	Плотность населения, ч/км²
?	144	153 547	1 066
Тайвань	36	22 921	637
Южная Корея	98,5	49 233	500
Пуэрто-Рико	9,1	3 958	435
Нидерланды	41,5	16 645	401
Ливан	10,4	3 972	382
Бельгия	30,5	10 404	341
Япония	377,8	127 288	337
Индия	3 287,6	1 147 996	349
Сальвадор	21	7 066	336

Вопрос 21: Перед вами основные компании-лидеры на мировом рынке:

А) алюминия; Б) меди; В) стали; Г) чугуна; Д) марганца?

(За правильный ответ – 1 балл)



Вопрос 22: Какая тектоническая структура расположена на севере Казахстана? Укажите ее геологический возраст.

(За правильный ответ – 2 балла)



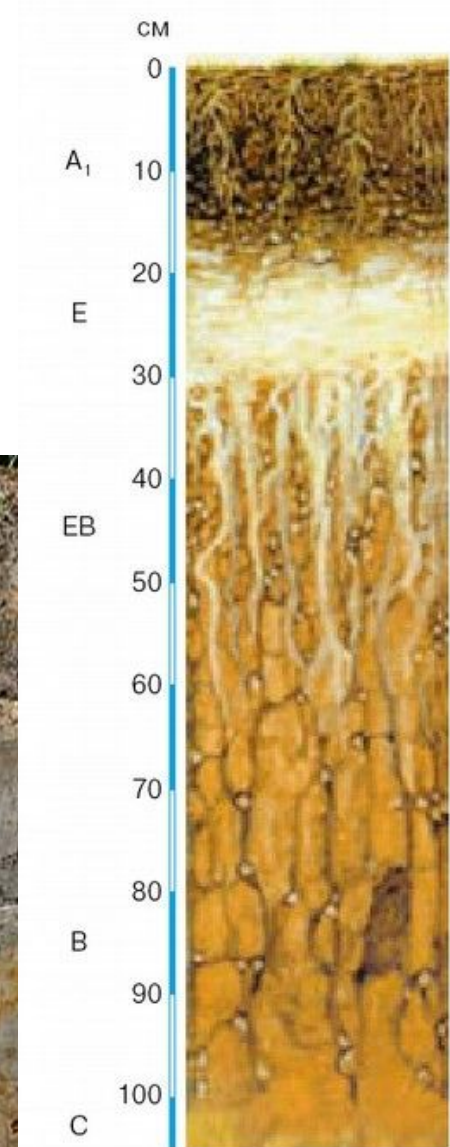
Вопрос 23: Какой генетический тип почвы представлен на фотографиях:

- А) тундрово-глеевая;**
- Б) мерзлотно-таежная;**
- В) подзолистая;**
- Г) дерново-подзолистая;**
- Д) серая лесная?**

(За правильный ответ – 1 балл)




(За правильный ответ – 1 балл)



Вопрос 24: Назовите национальное искусство создания композиций из срезанных цветов, побегов в специальных сосудах и размещение их в интерьере.

(За правильный ответ – 2 балла)



Вопрос 25. Фотографии людей какой смешанной расы представлены на слайде? Смесью каких человеческих рас они являются?

(За правильный ответ – 2 балла)



**Вопрос 26. Назовите город,
валовый городской продукт
которого крупнейший среди
городов мира?**

(За правильный ответ – 2 балла)



Вопрос 27: Это восьмая по численности приверженцев религия мира, возникшая в начале XVI в. на северо-западе Индии. Форма поклонения Богу – медитация. Напишите ее название.
(За правильный ответ – 2 балла)



Вопрос 28. Напишите название второго по площади и четвертого по численности населения города Индии, расположенного в дельте Ганга. До 1911 г. этот город был столицей страны. Главные отрасли – машиностроение и джутовая промышленность (почти 1/2 мирового производства).

(За правильный ответ – 2 балла)



Вопрос 29. Какой стране соответствует данная половозрастная пирамида:

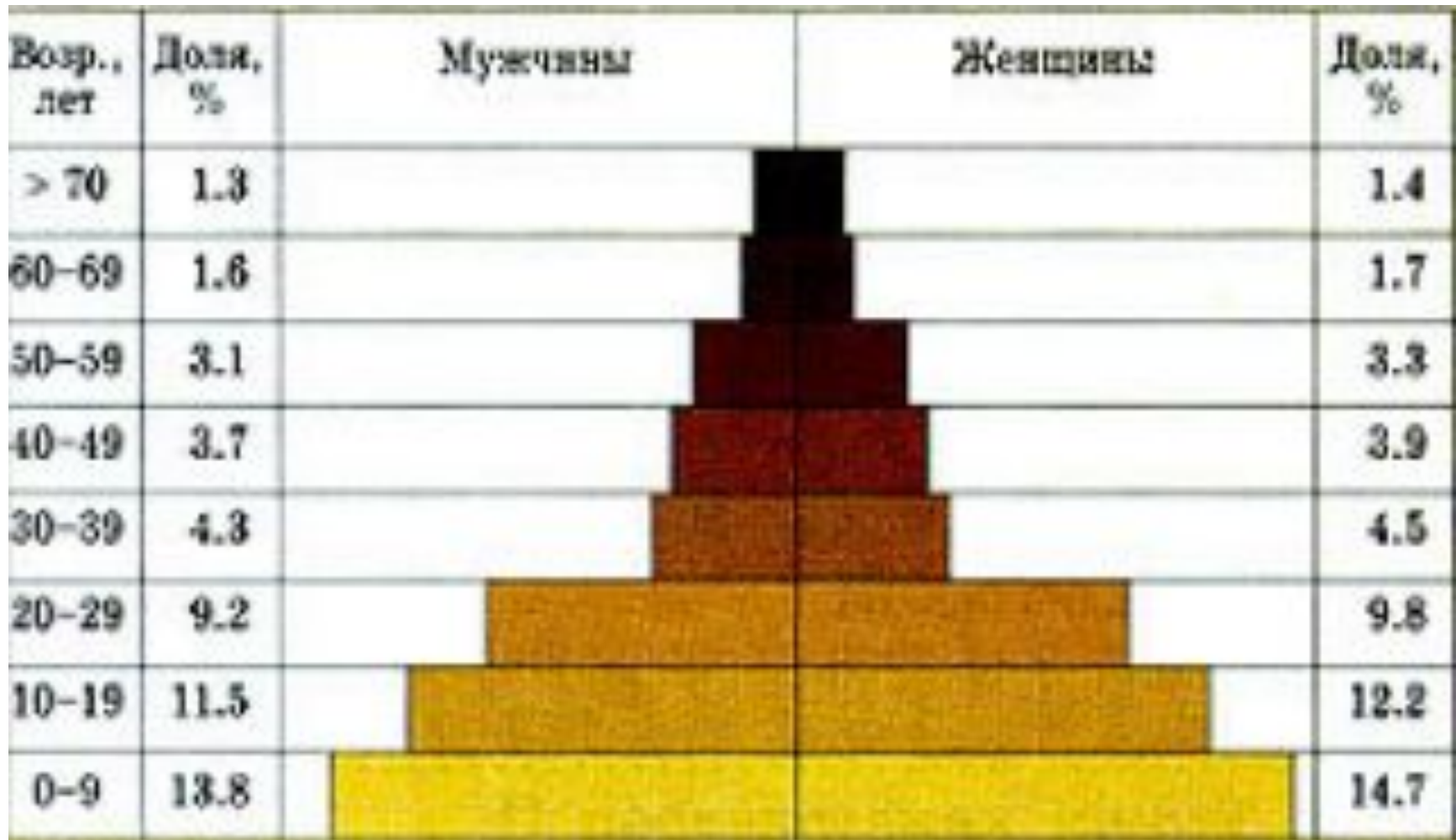
А) Беларусь;

В) Вьетнам;

Б) Бельгия;

Г) Саудовская Аравия?

(За правильный ответ – 2 балла)



Вопрос 30. Название какого азиатского государства состоит из шотландской лошади, окружённой личным местоимением?

(За правильный ответ – 1 балл)

