

Название круглых сотен

6 Выполни вычисления. Расшифруй название математической величины, записав в таблицу значения выражений в порядке уменьшения.

$14 \cdot 3 = \square \text{ Л}$

$(17 + 23) : 8 = \square \text{ Д}$

$81 : 9 \cdot 6 = \square \text{ П}$

$51 : 17 = \square \text{ Ъ}$

$(50 - 29) : 3 = \square \text{ А}$

$4 \cdot 8 : 2 = \square \text{ Щ}$

$42 : 7 \cdot 5 = \square \text{ О}$

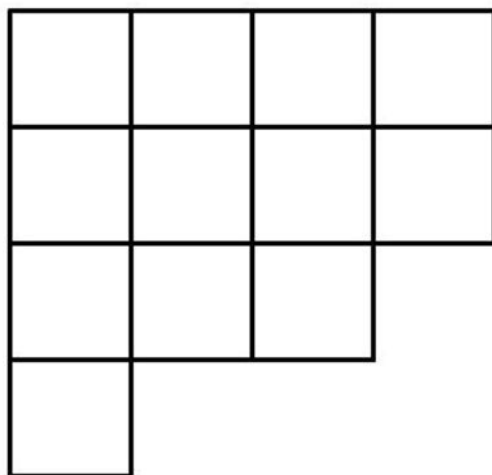
Ответы.

Слово.

П	Л	О	Щ	А	Д	Ъ



- **Вспомни два значения этого слова**



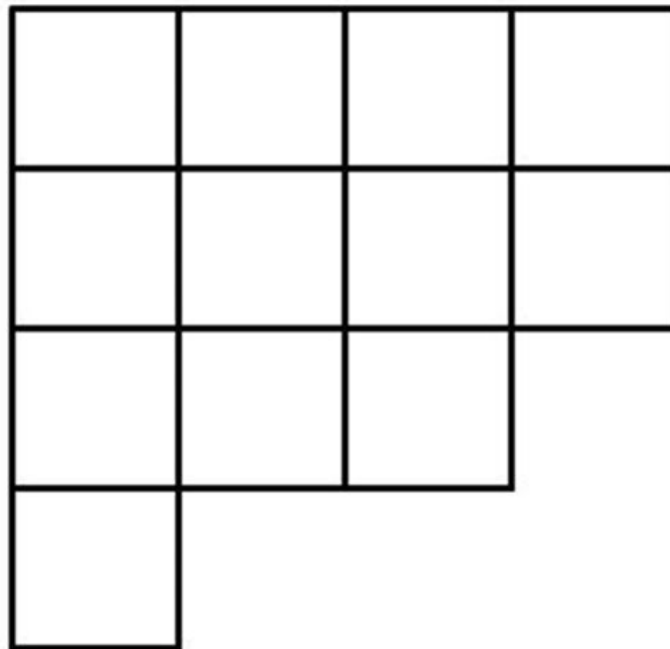
ПЛОЩАДЬ

• Незастроенное большое и ровное место (в городе, селе), от которого обычно расходятся в разные стороны улицы.



ПЛОЩАДЬ

- **В математике: часть плоскости, заключённой внутри замкнутой геометрической фигуры, т.е. место, которое занимает эта фигура на плоскости.**



**Найдите неизвестные числа, ЗАПИСАВ их через запятую.
Что у них общего? Как можно прочитать их по-другому?(На
вопросы отвечай устно, маме)**

$$50 + 40 = \star$$

$$70 - \star = 50$$

$$\star - 10 = 20$$

$$60 + \star = 100$$

$$\star - 20 = 30$$

$$30 + 50 = \star$$

**Прочитайте и сосчитайте выражения,
называя числа по-другому (УСТНО)**

$$2 \text{ сот.} + 3 \text{ сот.} = ?$$

$$5 \text{ сот} + 3 \text{ сот.} = ?$$

$$9 \text{ сот.} - 3 \text{ сот.} = ?$$

$$5 \text{ сот} - 2 \text{ сот.} = ?$$

$$7 \text{ сот} + 1 \text{ сот.} = ?$$

$$7 \text{ сот} - 1 \text{ сот.} = ?$$






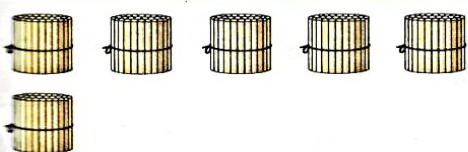
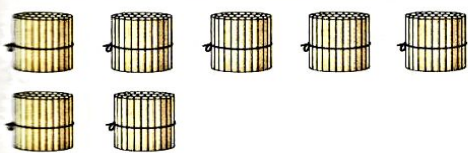



Какой возникает вопрос? (УСТНО)

Тема:

Название круглых сотен

Где найдём информацию?

НАЗВАНИЯ КРУГЛЫХ СОТЕН

	1 сот. = 100	Сто
	2 сот. = 200	Двести
	3 сот. = 300	Триста
	4 сот. = 400	Четыреста
	5 сот. = 500	Пятьсот
	6 сот. = 600	Шестьсот
	7 сот. = 700	Семьсот
	8 сот. = 800	Восемьсот
	9 сот. = 900	Девятьсот
	10 сот. = 1 000	Тысяча

Прочитайте математическую сказку. Какие числа в ней встретились?

Жили-были семь гномов. Хотя их было семь, но лет им вместе был больше тысячи. Умнику было уже целых пятьсот лет. Простаку всего сто. Ворчуну – двести, Весельчаку – четыреста, Соне – триста, Тихоне – шестьсот, а Чихуну – семьсот. Наверное, поэтому он постоянно чихал и стонал. Несмотря на свой возраст, они были бодры, отважны и жизнерадостны.

Заполните таблицу

Имя	Возраст
Весельчак	
Ворчун	
Простак	
Соня	
Умник	
Тихоня	
Чихун	

**Проверь себя. Обведи самое большое число,
подчеркни самое маленькое.**

Имя	Возраст
Весельчак	400
Ворчун	200
Простак	100
Соня	300
Умник	500
Тихоня	600
Чихун	700



Запишите по-другому и сосчитайте

$$2 \text{ сот.} + 3 \text{ сот.} = ?$$

$$5 \text{ сот} + 3 \text{ сот.} = ?$$

$$9 \text{ сот.} - 3 \text{ сот.} = ?$$

$$5 \text{ сот} - 2 \text{ сот.} = ?$$

$$7 \text{ сот} + 1 \text{ сот.} = ?$$

$$7 \text{ сот} - 1 \text{ сот.} = ?$$

Проверь себя

$$2 \text{ сот.} + 3 \text{ сот.} = 5 \text{ сот.}$$

$$5 \text{ сот.} + 3 \text{ сот.} = 8 \text{ сот.}$$

$$9 \text{ сот.} - 3 \text{ сот.} = 6 \text{ сот.}$$

$$5 \text{ сот.} - 2 \text{ сот.} = 3 \text{ сот.}$$

$$7 \text{ сот.} + 1 \text{ сот.} = 8 \text{ сот.}$$

$$7 \text{ сот.} - 1 \text{ сот.} = 6 \text{ сот.}$$

$$200 + 300 = 500$$

$$500 + 300 = 800$$

$$900 - 300 = 600$$

$$500 - 200 = 300$$

$$700 + 100 = 800$$

$$700 - 100 = 600$$

с.50

3. По данному тексту запиши выражение и вычисли его значение.

- 1) Сто плюс пятьсот равно
- 2) Восемьсот минус триста равно
- 3) Тысячу уменьшить на четыреста, получится
- 4) Двести увеличить на пятьсот, получится



Проверь себя

$$100 + 500 = 600 \quad (1 \text{ сот.} + 5 \text{ сот.} = 6 \text{ сот.})$$

$$800 - 300 = 500 \quad (8 \text{ сот.} - 3 \text{ сот.} = 5 \text{ сот.})$$

$$1000 - 400 = 600 \quad (10 \text{ сот.} - 4 \text{ сот.} = 6 \text{ сот.})$$

$$200 + 500 = 700 \quad (2 \text{ сот.} + 5 \text{ сот.} = 7 \text{ сот.})$$

**Реши самостоятельно на оценку. Не забудь
краткую запись.**

- 4.** У папы было 800 рублей. Он купил колбасу за 200 рублей и сыр за 100 рублей. Сколько рублей осталось у папы?



Д/З

с.50 №2 (если поняли, как делать, можно решать сразу, не записывая по образцу)

с.51 № 8. (Не забудь краткую запись)