

Подготовка к ВПР (№ 8)

(геометрические задания)

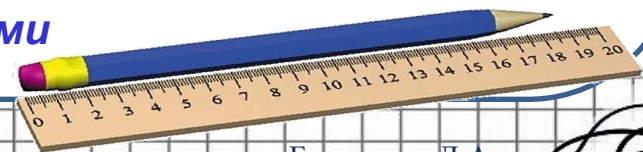
Математика

УМК: любой

6 класс



*Разработано учителем математики
МОУ «СОШ» п. Аджером
Корткеросского района Республики Коми
Мишариной Альбиной Геннадьевной*



Бондарева Л.А.

Задание 1

На рис. 1 на клетчатой бумаге изображены фигуры, симметричные относительно изображённой прямой. Нарисуйте на рис. 2 фигуру, симметричную заштрихованной фигуре относительно данной прямой

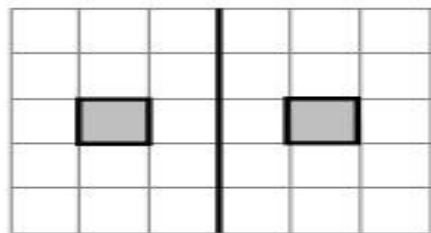


Рис. 1

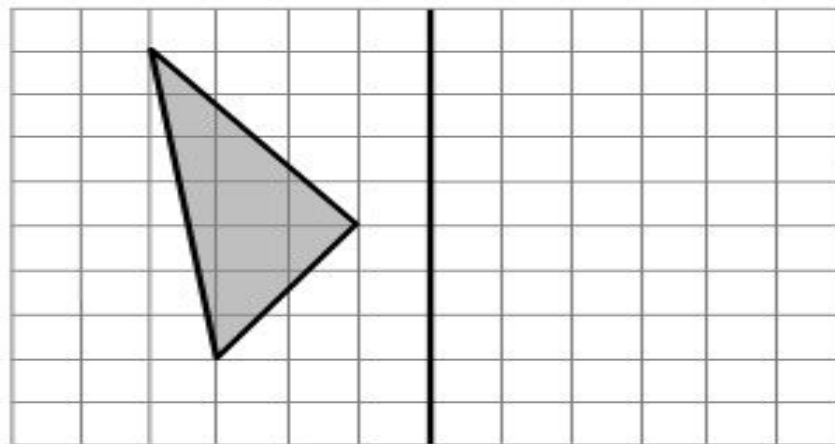
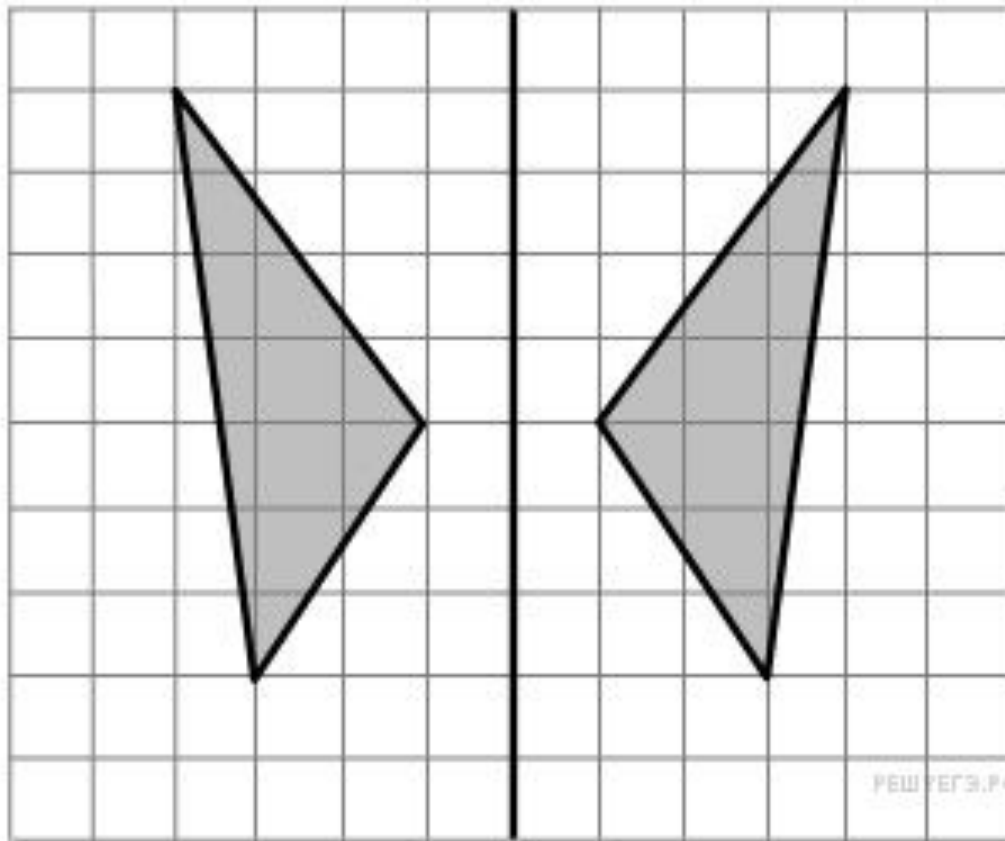


Рис. 2

Ответ



РЕШЕГЭ.РФ

Задание 2

На рис. 1 на клетчатой бумаге изображены фигуры, симметричные относительно изображённой прямой. Нарисуйте на рис. 2 фигуру, симметричную заштрихованной фигуре относительно данной пря

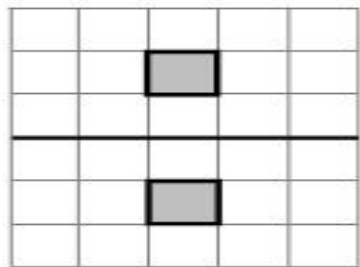


Рис. 1

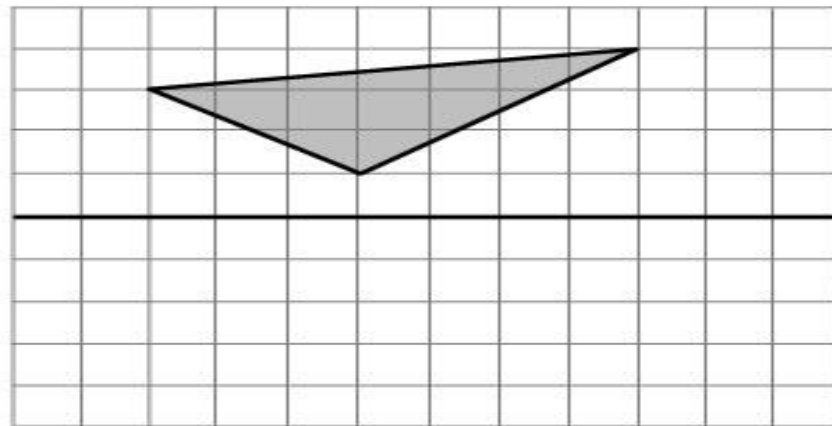
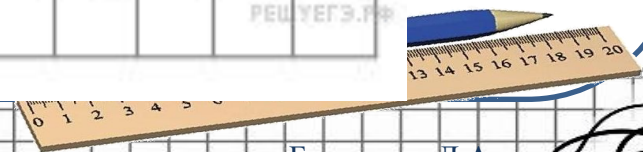
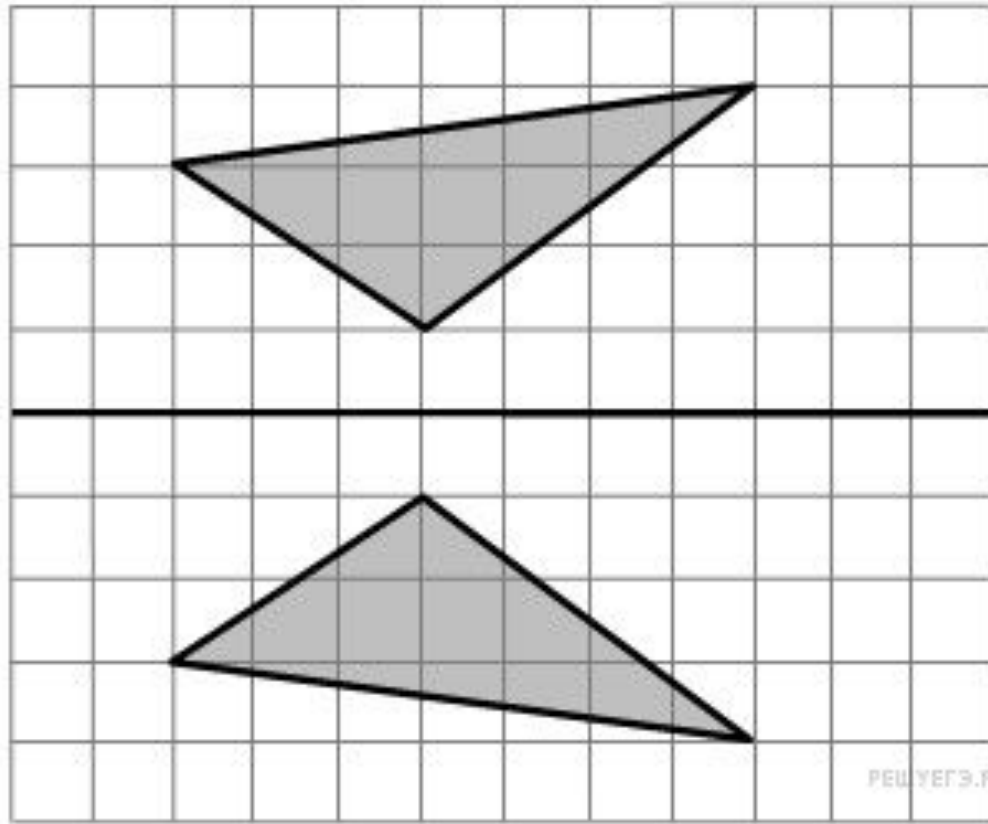


Рис. 2



Ответ



РЕШЕГЭ.РФ

Задание 3

На рис. 1 на клетчатой бумаге изображены фигуры, симметричные относительно изображённой прямой. Нарисуйте на рис. 2 фигуру, симметричную заштрихованной фигуре относительно данной пря

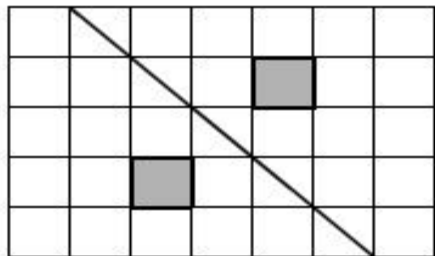


Рис. 1

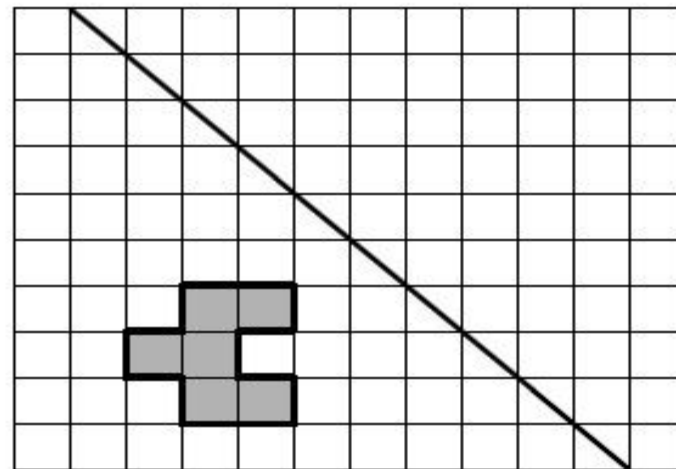
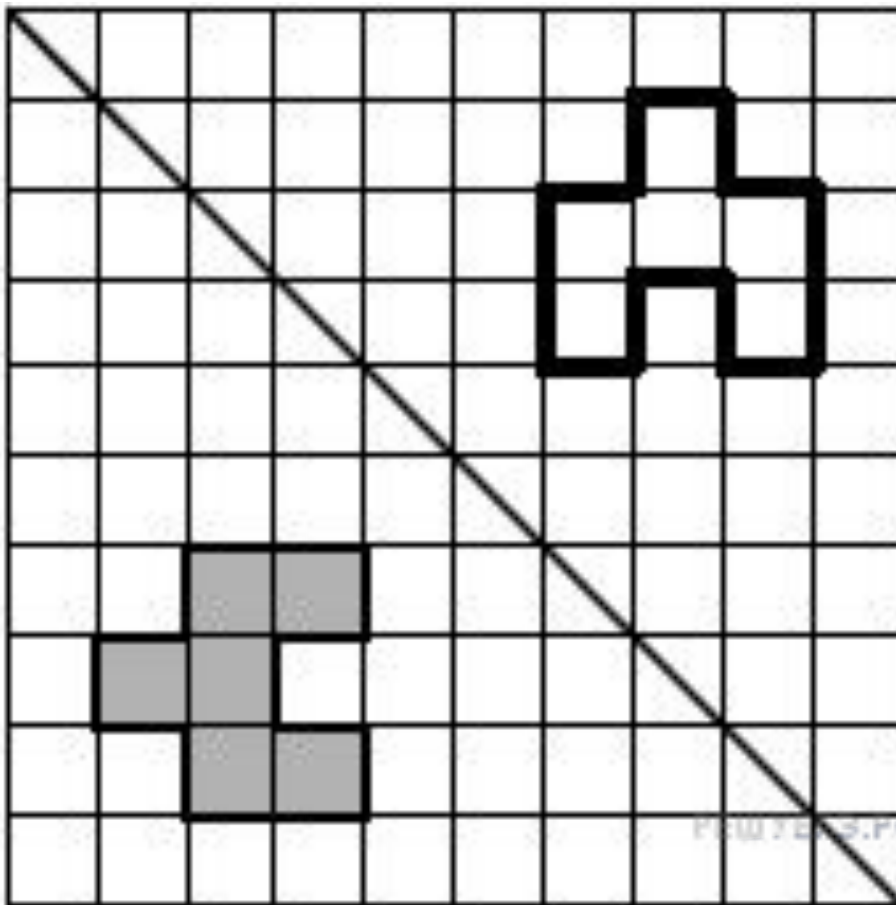


Рис. 2

Ответ



ева Л.А.

Задание 4

На рис. 1 изображены два треугольника. Они разбивают плоскость на четыре части. На свободном поле справа, обозначенном как рис. 2, нарисуйте два треугольника так, чтобы они разбивали плоскость на семь

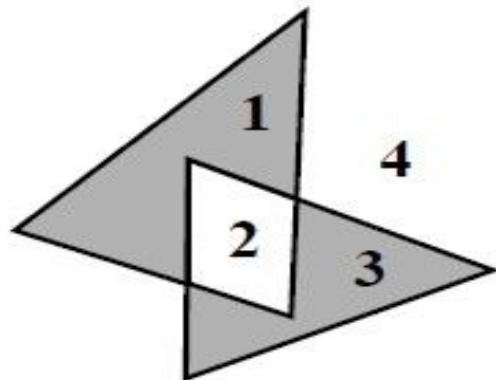
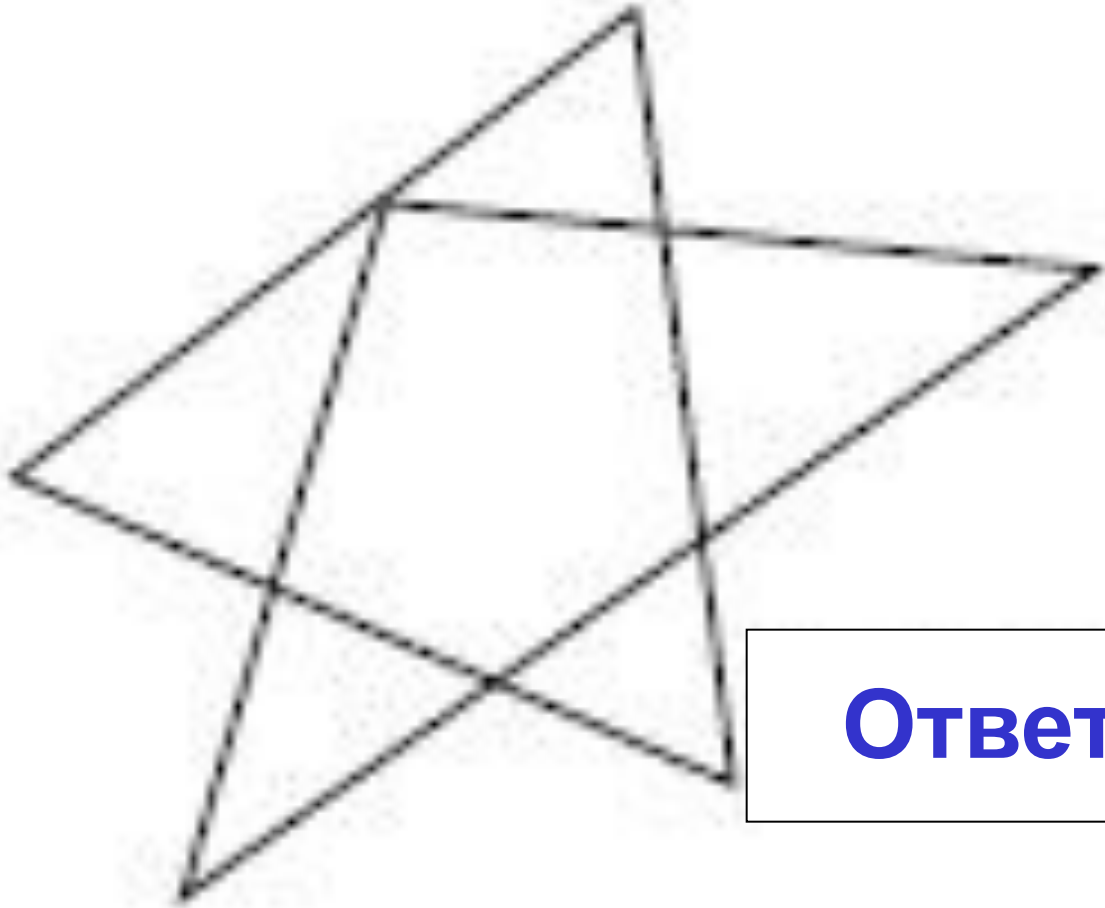


Рис. 1

Рис. 2



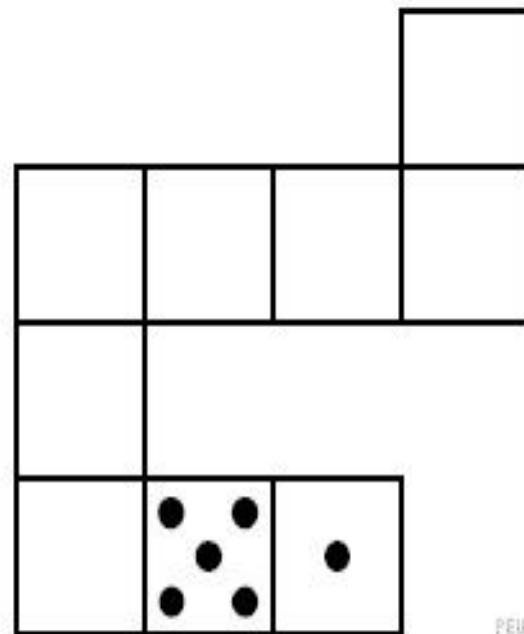


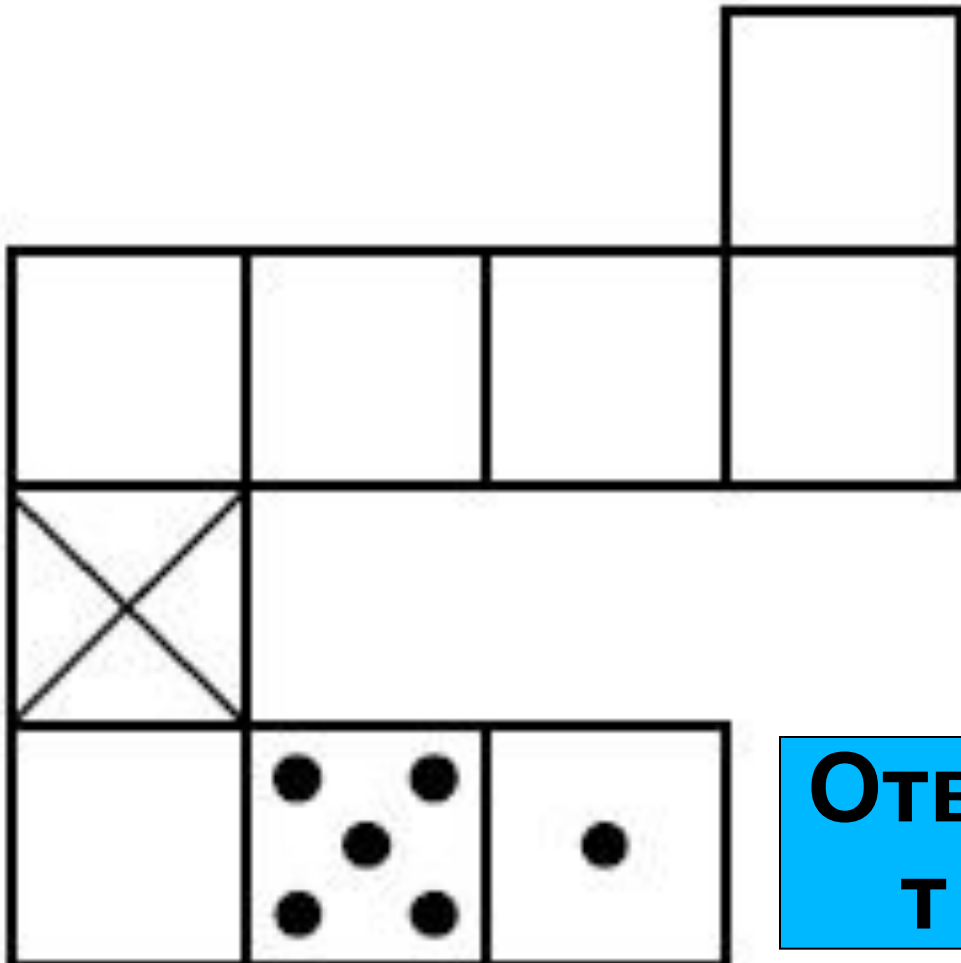
9.9.17

Ответ

Задание 5

Игральный кубик прокатили по столу. На рисунке изображён след кубика. Отметьте на рисунке место, в котором грань с четырьмя точками соприкасалась со столом.





**Отве
т**



Задание 1. (реши самостоятельно)

На рис. 1 на клетчатой бумаге изображены фигуры, симметричные относительно изображённой прямой. Нарисуйте на рис. 2 фигуру, симметричную заштрихованной фигуре относительно данной прямой.

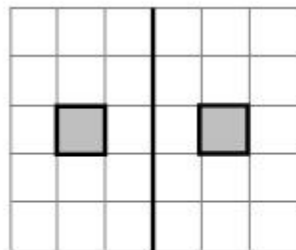


Рис.1

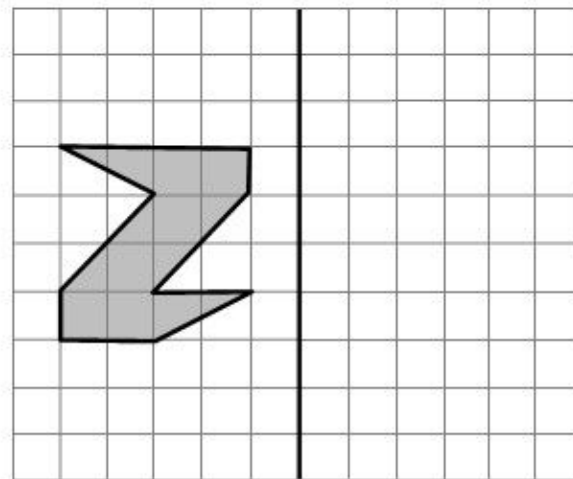


Рис.2



Задание 2. (реши самостоятельно)

На рис. 1 на клетчатой бумаге изображены фигуры, симметричные относительно изображённой прямой. Нарисуйте на рис. 2 фигуру, симметричную заштрихованной фигуре относительно данной прямой.

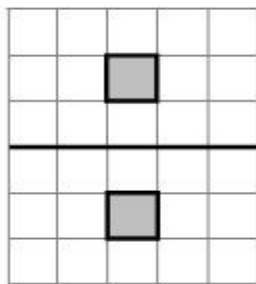


Рис.1

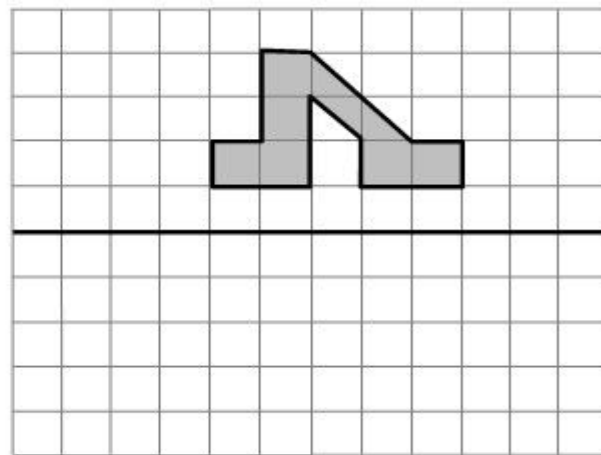


Рис. 2



РЕШЕГЭ.РФ

Задание 3. (реши самостоятельно)

На рис. 1 на клетчатой бумаге изображены фигуры, симметричные относительно изображённой прямой. Нарисуйте на рис. 2 фигуру, симметричную заштрихованной фигуре относительно данной прямой.

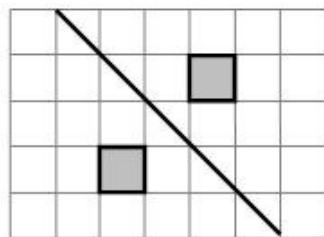


Рис. 1

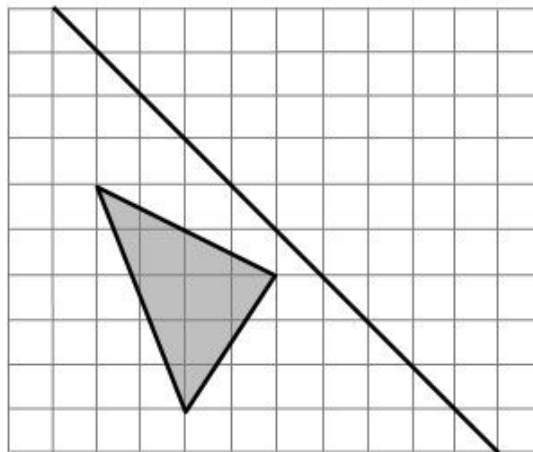



Рис. 2



Задание 4. (реши самостоятельно)

На рис. 1 изображены два прямоугольника. Они разбивают плоскость на четыре части. На свободном поле справа, обозначенном как рис. 2, нарисуйте **два** прямоугольника так, чтобы они разбивали плоскость на **пять**

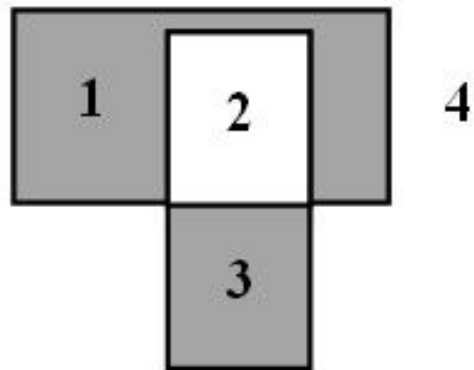


Рис. 1



Рис. 2

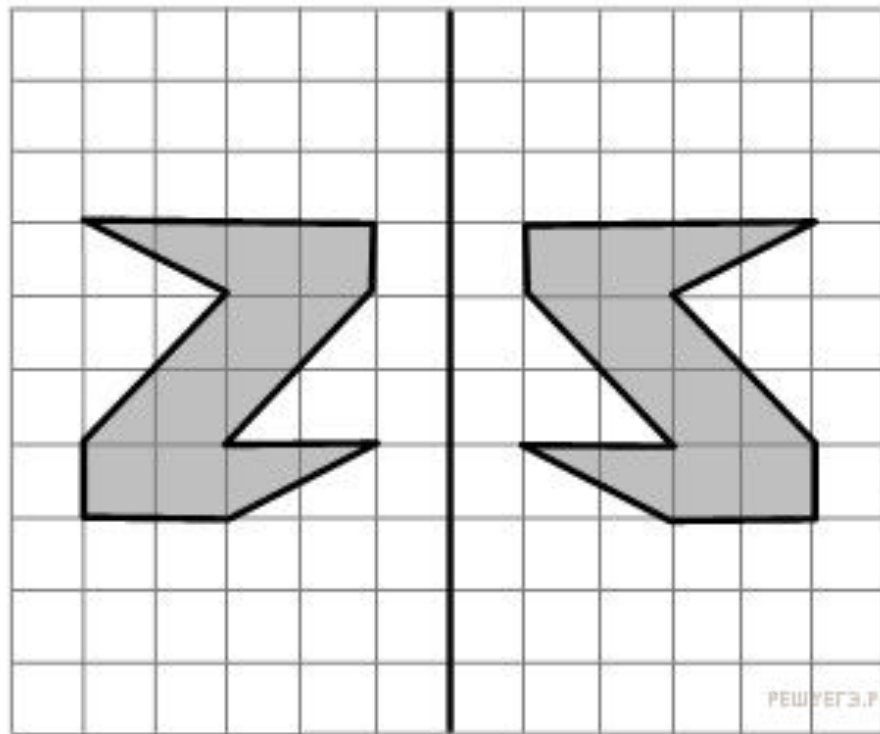
Задание 5. (реши самостоятельно)

Игральный кубик прокатили по столу. На рисунке изображён след кубика. Отметьте на рисунке место, в котором грань с шестью точками соприкасается



Проверим ответы самостоятельной работы

Задание 1.



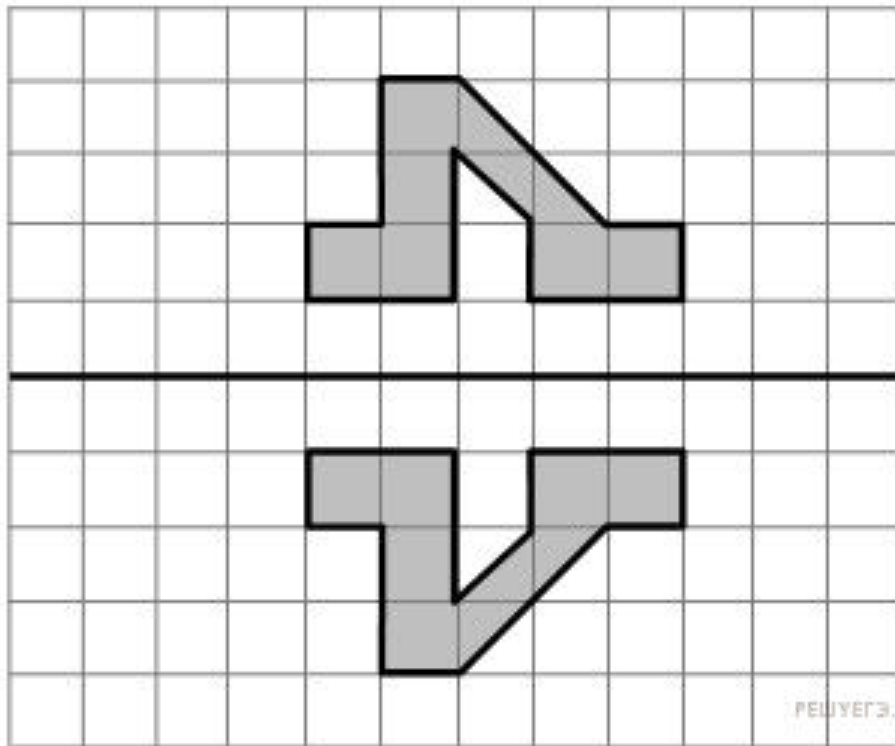
РЕШЕГЭ.РФ

Гарева Л.А.

09.08.17

Проверим ответы самостоятельной работы

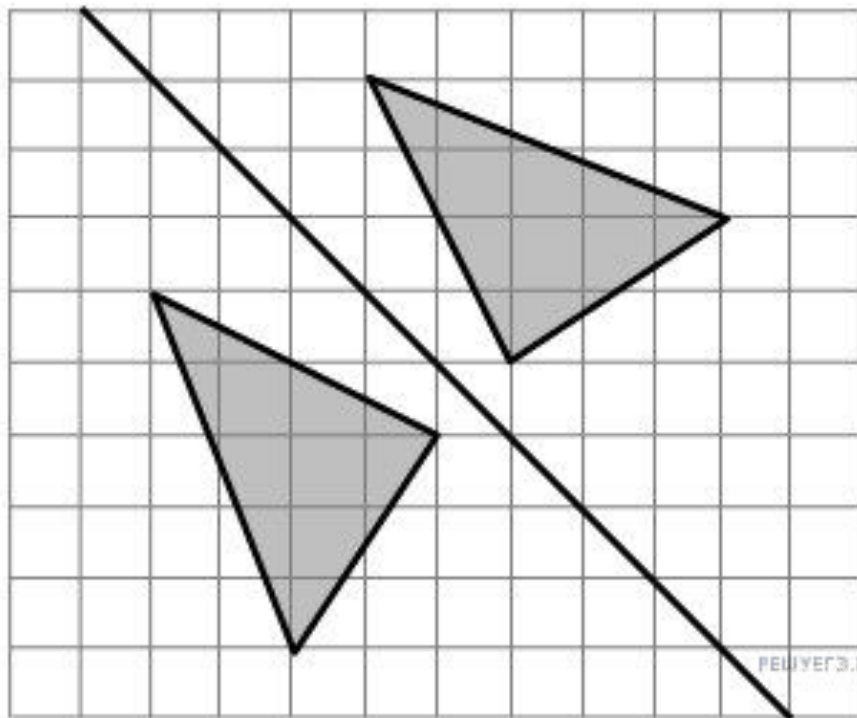
Задание 2.



РЕШУЕГЭ.РФ

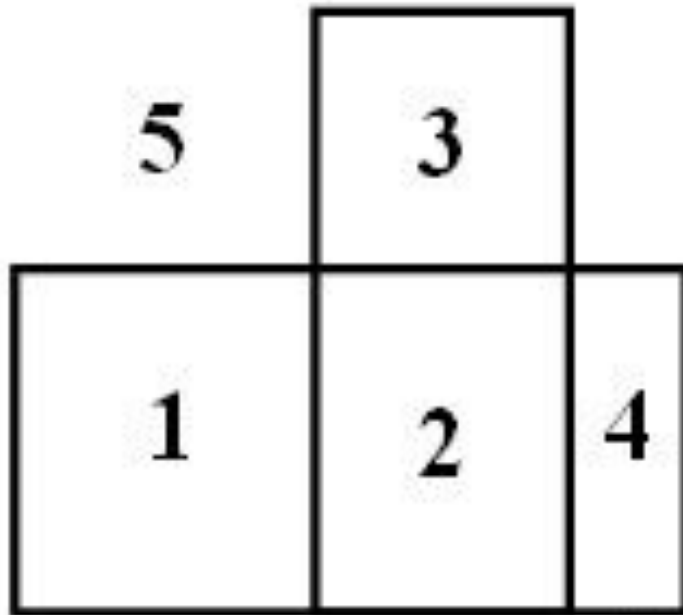
Проверим ответы самостоятельной работы

Задание :



Проверим ответы самостоятельной работы

Задание 4



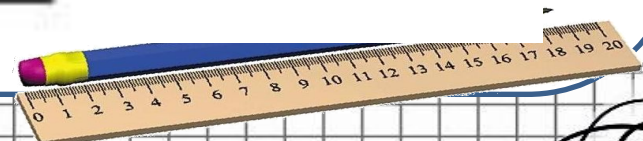
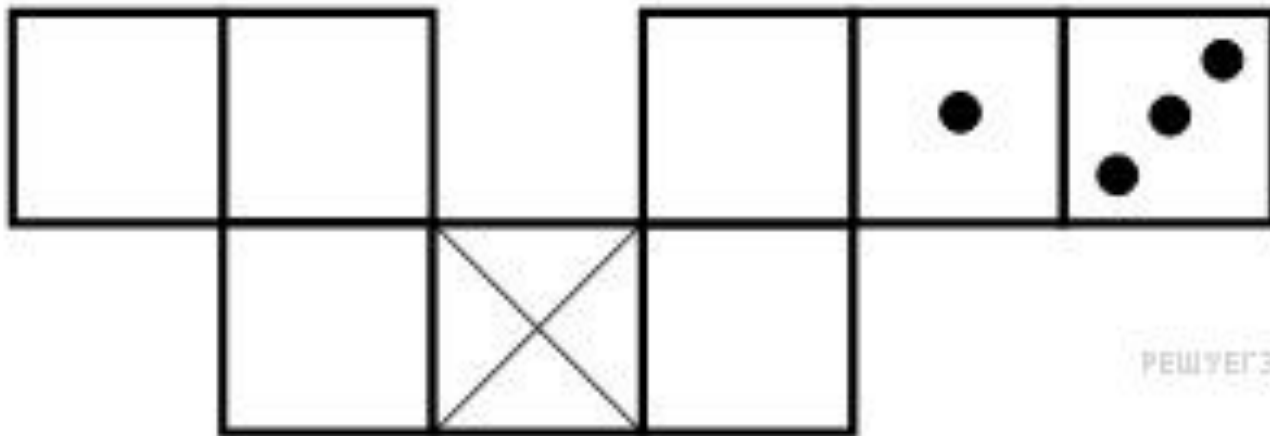
РЕШУЕГЭ.РФ



ондарева Л.А.

Проверим ответы самостоятельной работы

Задание 5.

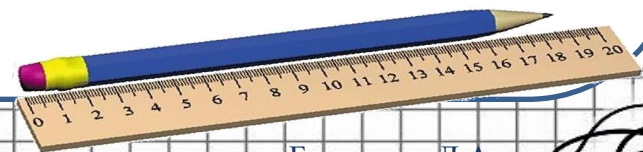


Автор шаблона презентации: **Бондарева Лилия Анатольевна**
учитель начальных классов МБОУ «СОШ №1 г. Льгова им. В.Б.
Бессонова» Курской области 2017 год

Фон клетка

Линейка и карандаш

На уроке



Источники ресурса

Задания взяты с сайта/

<https://math6-vpr.sdangia.ru>

