



15 13 11 9

Тема. Круглые числа.



Найдите значения выражений

$$9\text{д} - 4\text{д} =$$

$$8\text{д} - 3\text{д} =$$

$$7\text{д} - 2\text{д} =$$

$$6\text{д} - 1\text{д} =$$

$$5\text{д} - 0\text{д} =$$



Сравните выражения:

$$a - 8 < a - 5$$

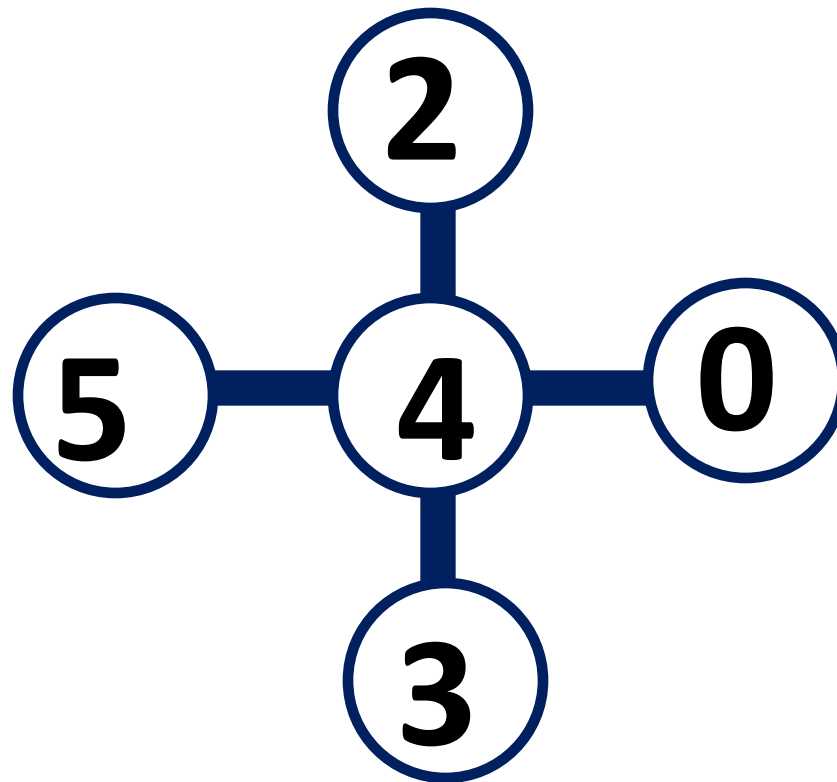
$$v + 4 = 4 + v$$

$$c - 3 < c + 2$$

$$10 - d > 8 - d$$



Вставьте числа 0, 2, 3, 4, 5 так,
чтобы сумма чисел на каждой
линии была равна 9

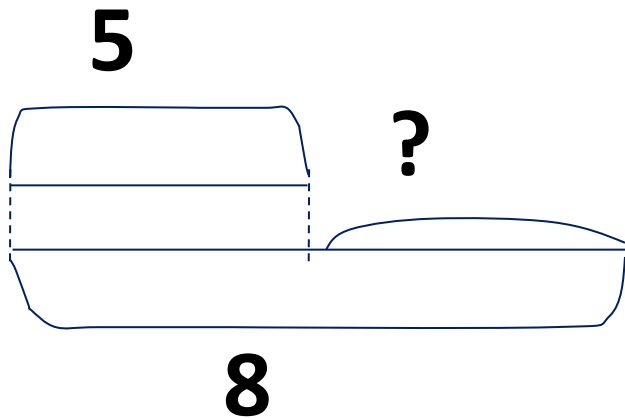


Игра «День - ночь»

$$8 - 5 + 7 - 9 + 8 - 6 + 4 - 2 + 3 - 8 = 0$$



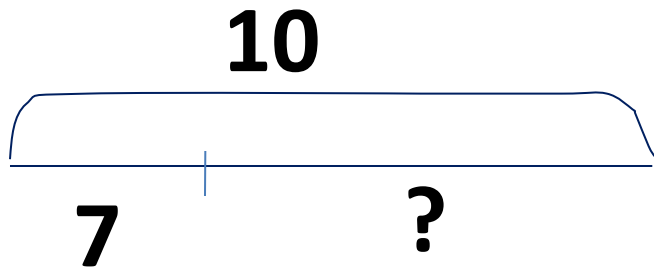
Реши задачу и запиши ответ



Миша забросил мяч в кольцо 5 раз, а Андрей – 8. На сколько больше удачных бросков сделал Андрей, чем Миша?



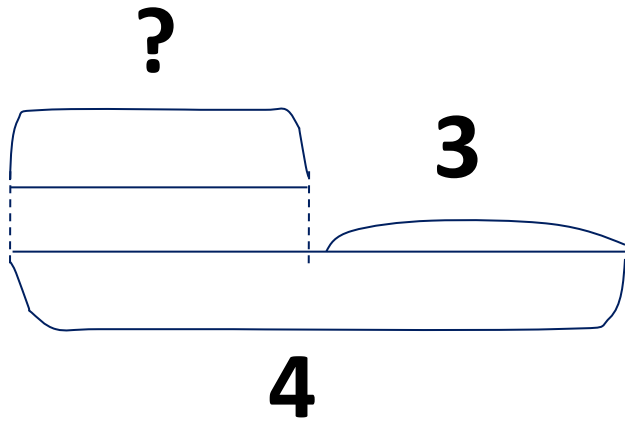
Реши задачу и запиши ответ



Оле надо решить 10 примеров. 7 примеров она уже решила. Сколько осталось?



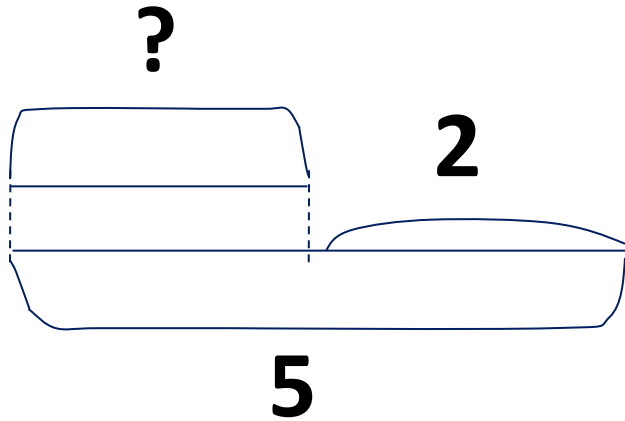
Реши задачу и запиши ответ



Для снежной горки дети принесли 4 ведра воды, а мальчики – на 3 ведра меньше. Сколько вёдер воды принесли мальчики?



Реши задачу и запиши ответ



В бидоне 5 л молока. Это на 2 л молока больше, чем в банке. Сколько литров молока в банке?



Решите задачу:

Хозяйка купила сначала 6 десятков яиц, а
потом – на 2 десятка меньше. Сколько
всего яиц купила хозяйка?

