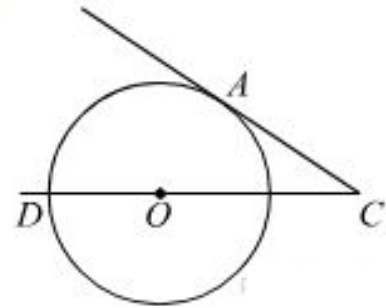


Первый уровень

№1

Найдите угол ACO , если его сторона CA касается окружности, O — центр окружности, а дуга AD окружности, заключённая внутри этого угла, равна 100° .

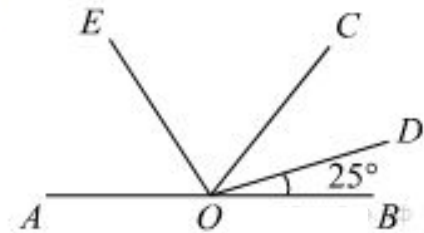


№2

Отрезки AB и DC лежат на параллельных прямых, а отрезки AC и BD пересекаются в точке M . Найдите MC , если $AB = 16$, $DC = 24$, $AC = 25$.

№3

Найдите величину угла AOE , если OE — биссектриса угла AOC , OD — биссектриса угла COB .

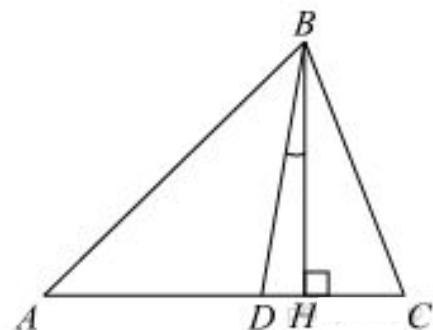


№4

На сторонах угла BAC и на его биссектрисе отложены равные отрезки AB , AC и AD . Величина угла BDC равна 160° . Определите величину угла BAC .

№5

В треугольнике ABC углы A и C равны 40° и 60° соответственно. Найдите угол между высотой BH и биссектрисой BD .



№6

Стороны AC , AB , BC треугольника ABC равны $2\sqrt{5}$, $\sqrt{7}$ и 2 соответственно. Точка K расположена вне треугольника ABC , причём отрезок KC пересекает сторону AB в точке, отличной от B . Известно, что треугольник с вершинами K , A и C подобен исходному. Найдите косинус угла AKC , если $\angle KAC > 90^\circ$.

№7

Отрезки AB и DC лежат на параллельных прямых, а отрезки AC и BD пересекаются в точке M . Найдите MC , если $AB = 10$, $DC = 25$, $AC = 56$.

№8

В треугольнике ABC углы A и C равны 20° и 60° соответственно. Найдите угол между высотой BH и биссектрисой BD .



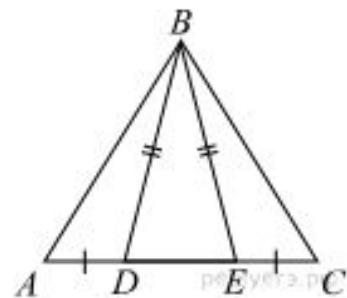
№9

Отрезки AB и DC лежат на параллельных прямых, а отрезки AC и BD пересекаются в точке M . Найдите MC , если $AB = 13$, $DC = 65$, $AC = 42$.

уровень

№1

На стороне AC треугольника ABC выбраны точки D и E так, что отрезки AD и CE равны (см. рисунок). Оказалось, что отрезки BD и BE тоже равны. Докажите, что треугольник ABC — равнобедренный.



№2

Высоты AA_1 и BB_1 остроугольного треугольника ABC пересекаются в точке E . Докажите, что углы AA_1B_1 и ABB_1 равны.

№3

В треугольнике ABC с тупым углом ACB проведены высоты AA_1 и BB_1 . Докажите, что треугольники A_1CB_1 и ACB подобны.

№4

В выпуклом четырёхугольнике $ABCD$ углы ABD и ACD равны. Докажите, что углы DAC и DBC также равны.

№5

Окружности с центрами в точках E и F пересекаются в точках C и D , причём точки E и F лежат по одну сторону от прямой CD . Докажите, что $CD \perp EF$.

№6

Высоты AA_1 и BB_1 остроугольного треугольника ABC пересекаются в точке E . Докажите, что углы AA_1B_1 и ABB_1 равны.