



1. Посчитай, сколько красных мячей?
2. Посчитай, сколько синих мячей?
3. Посчитай, сколько всего красных и синих мячей?


10




10




10

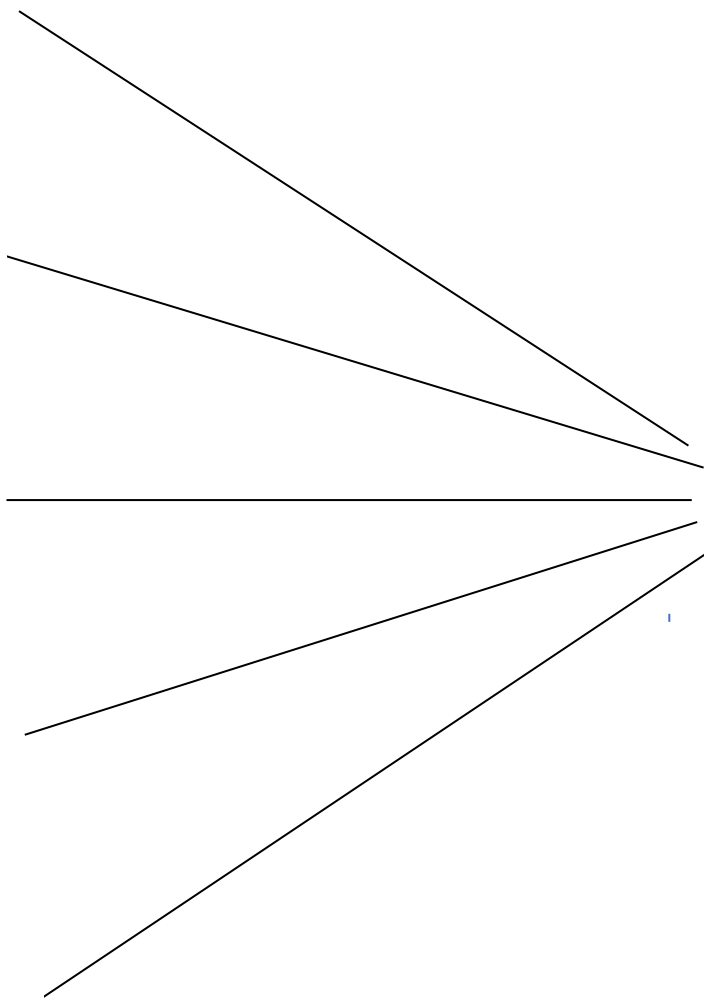



10



10





10

Состав числа 10

10



10

| | |
|---|---|
| 9 | 1 |
| 8 | 2 |
| 7 | 3 |
| 6 | 4 |
| 5 | 5 |
| 4 | 6 |
| 3 | 7 |
| 2 | 8 |
| 1 | 9 |



Вставь пропущенные числа

| | |
|----|----|
| 10 | |
| 3 | |
| | 10 |
| 7 | |
| | 6 |
| 5 | |
| | 4 |
| 2 | |
| | 1 |
| 8 | |
| | 9 |


| | |
|----|---|
| 10 | |
| 1 | |
| | 5 |
| 7 | |
| | 9 |
| 4 | |
| 2 | |
| | 8 |
| 3 | |
| | 6 |
| | 0 |

| | |
|----|---|
| 10 | |
| 5 | |
| | 0 |
| 3 | |
| | 6 |
| | 9 |
| 8 | |
| | 4 |
| 2 | |
| 7 | |
| | 1 |

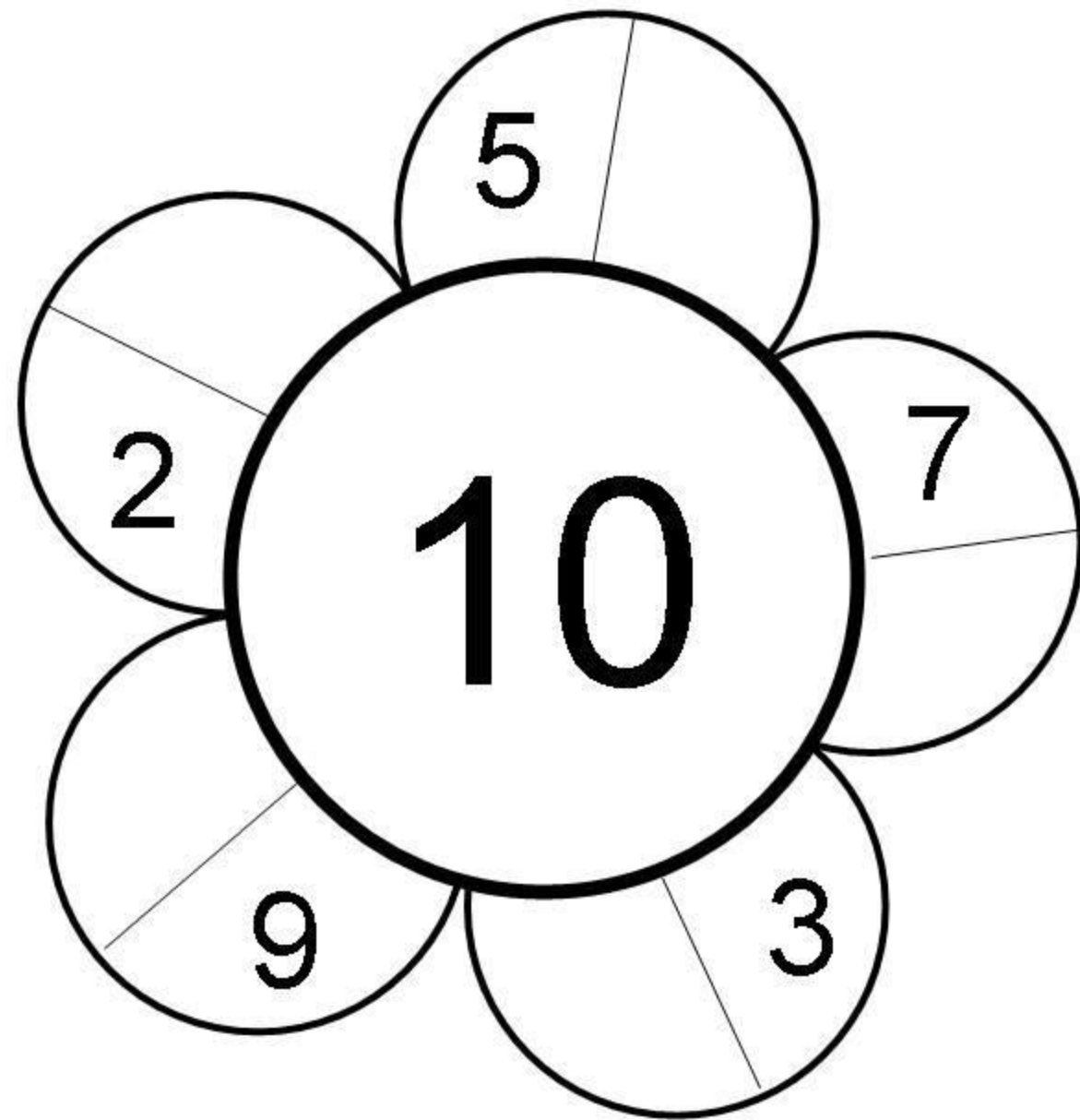
| | |
|----|----|
| 10 | |
| 8 | |
| | 4 |
| 2 | |
| | 1 |
| | 7 |
| 3 | |
| | 5 |
| 6 | |
| | 9 |
| | 10 |

| | |
|----|---|
| 10 | |
| 6 | |
| 3 | |
| | 5 |
| 2 | |
| | 4 |
| 9 | |
| | 1 |
| 7 | |
| 8 | |
| | 0 |

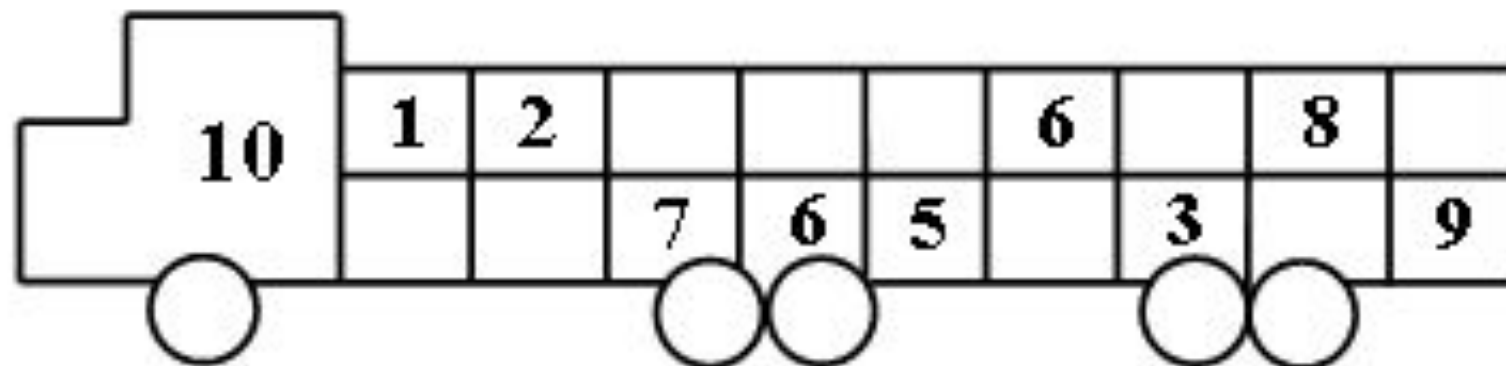
В каждом стручке должно быть по десять горошин. Некоторые горошины выпали. Напиши, сколько их выпало и дорисуй горошины.



Впиши недостающие числа так, чтобы в каждом лепестке в сумме получилось то же число, что и в середине цветка.




Вставь пропущенные
числа



УЧИМСЯ СЧИТАТЬ ДО 10

<http://www.tvoyrebenok.ru/>

УРОК 1: "СЛОЖЕНИЕ"



$$1+1 = 2$$



$$2+1 = \square$$




$$1+3 = \square$$



$$2+2 = \square$$

САМОСТОЯТЕЛЬНАЯ РАБОТА

<http://www.tvoyrebenok.ru/>



$$1+2 = \square$$



$$3+1 = \square$$



$$2+3 = \square$$




$$4+1 = \square$$

Составить задачу по картинке и решить её



$$\square + \square = \square$$

$$\square - \square = \square$$



$$\square + \square = \square$$

$$\square - \square = \square$$

Посчита

й

