


# БЕЗОПАСНОЕ КОЛЕСО


2015

этап ПДД

# 1. Определите очередность проезда перекрестка



2. Водитель какого транспортного средства имеет право на первоочередное движение?



А) Велосипедист;

Б) Водитель автомобиля.





### 3. Транспортные средства проедут перекрёсток в следующем порядке:



- А) Автобус, велосипед, легкой автомобиль.
- Б) Велосипед, автобус, легкой автомобиль.
- В) Легковой автомобиль, автобус, велосипед.
- Г) Автобус, легкой автомобиль, велосипед.



4. Водитель какого транспортного средства должен уступить дорогу?



- А) Водитель автомобиля;
- Б) Водитель велосипеда.



# 5. Определите очередность проезда перекрестка



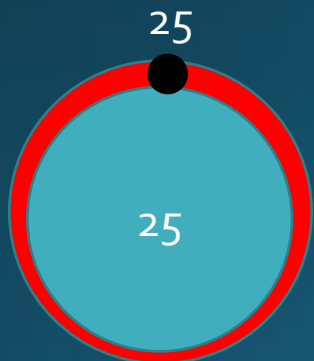
# 6. Сигнал регулировщика



А) Движение разрешено в лево;

Б) Движение запрещено прямо;

В) Нет правильного ответа.





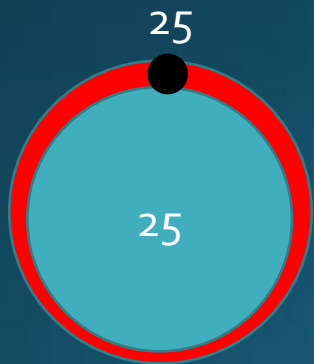
# 7. Сигнал регулировщика



А) Движение разрешено влево и вправо;


Б) Движение разрешено влево;

В) Движение разрешено во всех направлениях.



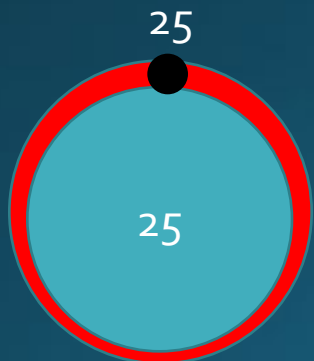


# 8. Правильно ли поступают велосипедисты?




А) нет;

Б) да.



# 9. Сколько детей нарушают ПДД?



А) 6;

Б) 4;

В) 2.

25

25

# 10. Как правильно обходить автобус при переходе дороги?




А) Машины, автобусы или троллейбусы нужно обходить сзади;

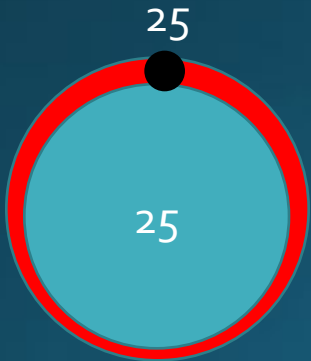
Б) По пешеходному переходу.



# 11. Нарушает ли велосипедист ПДД



- А) да;
- Б) нет.





# 12. К какому типу относится дорожный знак

## знак



- А) Предупреждающие;
- Б) Запрещающие;
- В) Предписывающие.



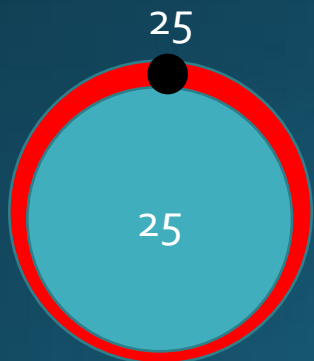
# 13. Что обозначает дорожный знак



А) велосипедная дорожка или полоса для велосипедистов;

Б) Место стоянки велосипедистов;

В) Движение велосипедистов запрещено.



# 14. Что обозначает дорожный знак



А) Ограничение минимальной скорости;

Б) Ограничение максимальной скорости.

