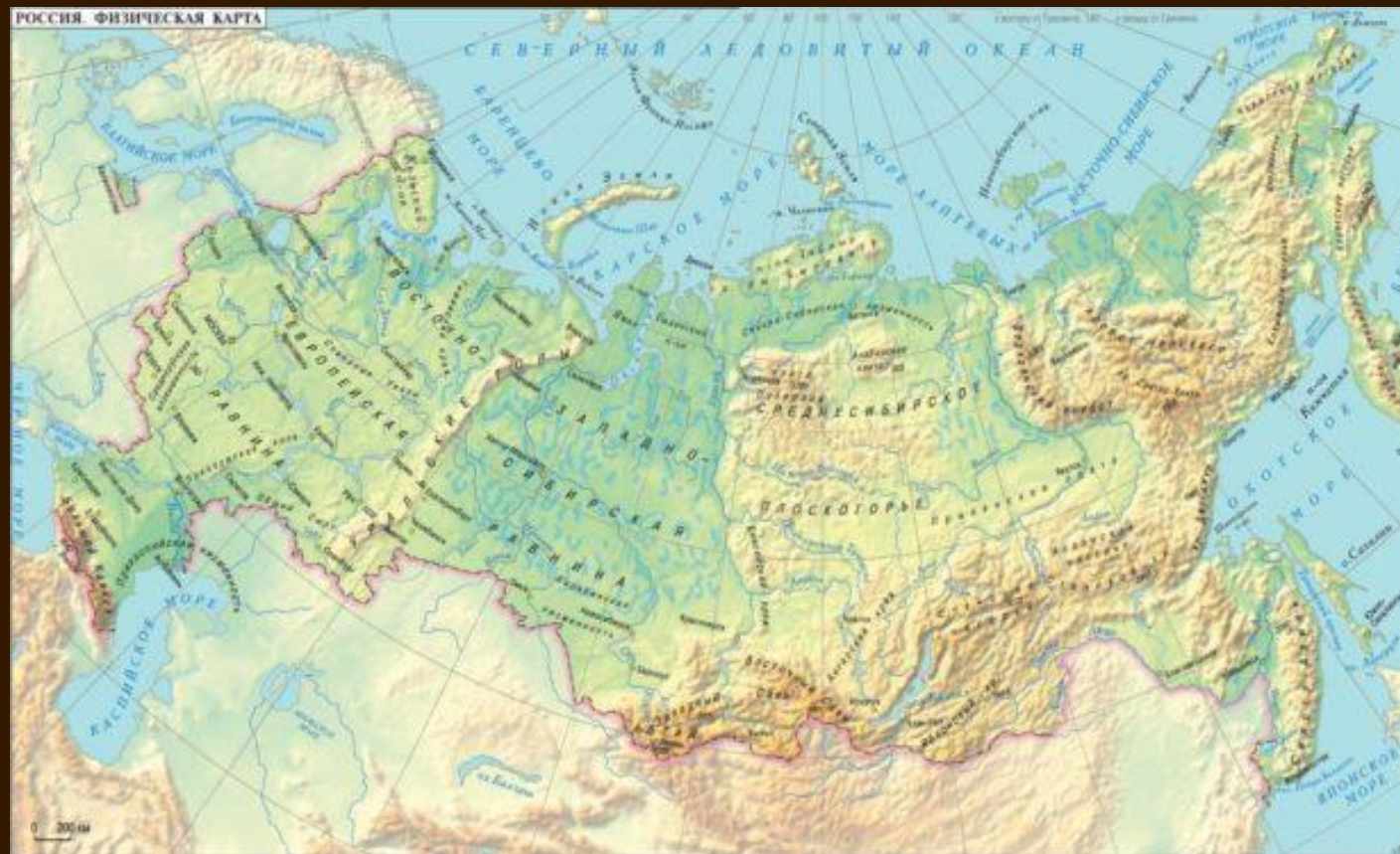


ОСОБЕННОСТИ РЕЛЬЕФА РОССИИ.

**МБОУ «СУВОУ для ОсДП»,
Пермский край, г.Лысьва.**

**Учитель 1 кв.категории
ВАСИЛЬЕВА ОКСАНА ЕВГЕНЬЕВНА**



**ВНУТРЕННИЕ
СИЛЫ –
СОЗДАЮТ
НЕРОВНОСТИ**

**РЕЛЬЕФ -ЭТО
СОВОКУПНОСТЬ
НЕРОВНОСТЕЙ
ЗЕМНОЙ
ПОВЕРХНОСТИ**

**ВНЕШНИЕ
СИЛЫ –
ВЫРАВНИ-
ВАЮТ
НЕРОВНОСТИ**

**ГОРЫ – ВЫПУКЛАЯ
ФОРМА ПОВЕРХНОСТИ
С ХОРОШО
ВЫРАЖЕННОЙ
ВЕРШИНОЙ,
ПОДОШВОЙ И
СКЛОНОМ**

**РАВНИНЫ – ЧАСТЬ
ЗЕМНОЙ
ПОВЕРХНОСТИ С
РАЗЛИЧИЕМ
ОТНОСИТЕЛЬНЫХ
ВЫСОТ НЕ БОЛЕЕ 200м.**

ВЕРШИНА


СКЛОН

СКЛОН

ПОДОШВА



НИЗКИЕ
(500-1000м)



СРЕДНИЕ
(1000-2000м)



ВЫСОКИЕ
(более 2000м)





НИЗМЕННОСТИ
(до 200м)




ВОЗВЫШЕННОСТИ
(200-500м)





ПЛОСКОГОРЬЯ
(более 500м)

ВНУТРЕННИЕ ПРОЦЕССЫ



ОПУСКАНИЯ
ПОДНЯТИЯ
ВУЛКАНЫ
ЗЕМЛЕТРЯСЕНИЯ

ВНЕШНИЕ ПРОЦЕССЫ




РЕКИ
ВЕТРЫ
ВОЛНЫ
ЛЕДНИКИ
РАСТЕНИЯ
ЖИВОТНЫЕ
ЧЕЛОВЕК

РЕЛЬЕФ РОССИИ РАЗНООБРАЗЕН








ВОСТОЧНО-ЕВРОПЕЙСКАЯ (РУССКАЯ) РАВНИНА





ЗАПАДНО-СИБИРСКАЯ РАВНИНА



СРЕДНЕ- СИБИРСКОЕ ПЛОСКОГОРЬЕ




ГОРЫ РАСПОЛОЖЕНЫ НА ЮГЕ И ВОСТОКЕ СТРАНЫ.







**г.ЭЛЬБРУС –
5642м**

**г.НАРОДНАЯ ,
1895м**






**АЛТАЙ,
г.БЕЛУХА
4506м**





**ВЛК.
КЛЮЧЕВСКАЯ
СОПКА
4750 м,**



**ПРИКАСПИЙСКАЯ
НИЗМЕННОСТЬ – САМОЕ
НИЗКОЕ МЕСТО РОССИИ.**

**НИЖЕ УРОВНЯ МОРЯ НА
28м.**



**ОБЩИЙ УКЛОН СТРАНЫ
НА
СЕВЕР.**



**ВСЕ КРУПНЫЕ РЕКИ ТЕКУТ
НА СЕВЕР.**

ЗАДАНИЕ №1

**НАЙДИТЕ НА ФИЗИЧЕСКОЙ КАРТЕ РОССИИ
ТЕРРИТОРИИ СО СЛЕДУЮЩИМИ АБСОЛЮТНЫМИ
ВЫСОТАМИ И ОПРЕДЕЛИТЕ, КАКИЕ ЭТО ФОРМЫ
РЕЛЬЕФА:**

200м –

-28м –

1895м –

4506м –

4750м –

5642м –

ЗАДАНИЕ №2

ОБОЗНАЧИТЬ ЦИФРАМИ НА КОНТУРНОЙ КАРТЕ:

- 1. ВОСТОЧНО-ЕВРОПЕЙСКАЯ РАВНИНА**
- 2. УРАЛЬСКИЕ ГОРЫ**
- 3. ЗАПАДНО-СИБИРСКАЯ РАВНИНА**
- 4. ГОРЫ АЛТАЙ**
- 5. ГОРЫ КАВКАЗ**
- 6. ВОСТОЧНЫЙ САЯН**
- 7. ЗАПАДНЫЙ САЯН**
- 8. ХРЕБЕТ ЧЕРСКОГО**
- 9. ГОРА ЭЛЬБРУС**
- 10. ГОРА БЕЛУХА**
- 11. ВУЛКАН КЛЮЧЕВСКАЯ СОПКА**
- 12. ЧУКОТСКОЕ НАГОРЬЕ**
- 13. ХРЕБЕТ ЧЕРСКОГО**
- 14. ГОРЫ СИХОТЭ-АЛИНЬ**

ЗАДАНИЕ №3

НА КОНТУРНОЙ КАРТЕ ПОКАЖИТЕ, В КАКИХ РАЙОНАХ РОССИИ МОГУТ ПРОИСХОДИТЬ:

- ЗЕМЛЕТРЯСЕНИЯ И ВУЛКАНИЗМ (КРАСНЫМ ЦВЕТОМ);**
- СЕЛИ, ЛАВИНЫ (СИНИМ ЦВЕТОМ);**
- ОПОЛЗНИ (КОРИЧНЕВЫМ ЦВЕТОМ).**

ДОМАШНЕЕ ЗАДАНИЕ

§ 10, 11, 12

**ВОПРОСЫ стр.39
(ОТВЕТИТЬ ПИСЬМЕННО)**

**НАНЕСТИ НА К.К.
КРУПНЫЕ ФОРМЫ
РЕЛЬЕФА РОССИИ**