

Сидим дома




Математические ребусы




Материал подобрали:
ученики 8б класса.
Оформил: Покалюхин Илья

Попробуй решить все наши





”

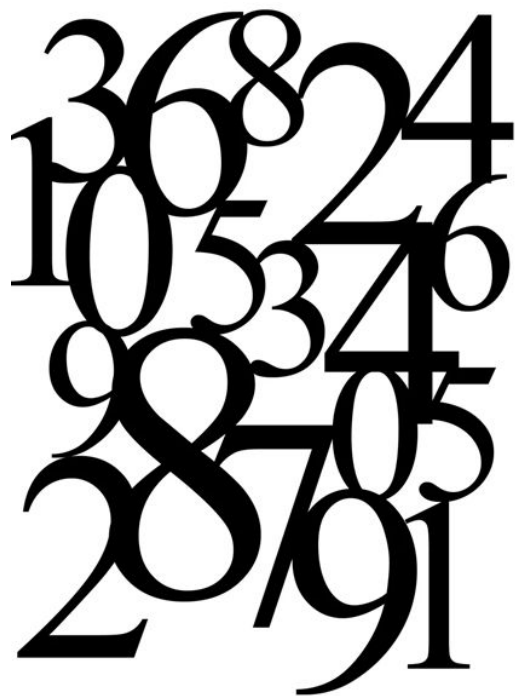


Ребус №1

ЧИ



Ответ к ребусу №1



Ответ: Число

Ребус №2

Б=Р



,

Ответ к ребусу №2



Ромб

Ромб – это параллелограмм, у которого все стороны равны. Ромб с прямыми углами называется квадратом.

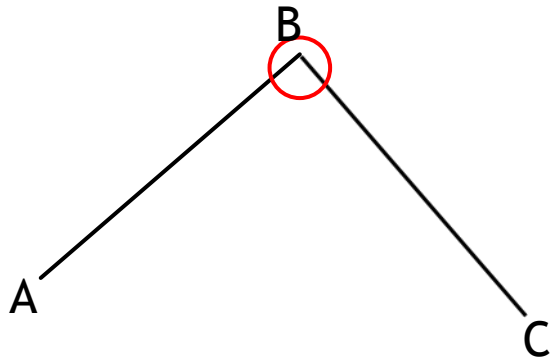
Параллелограмм – это четырехугольник, у которого противоположные стороны параллельны

Ребус №3

ВЕР



Ответ на ребус №3



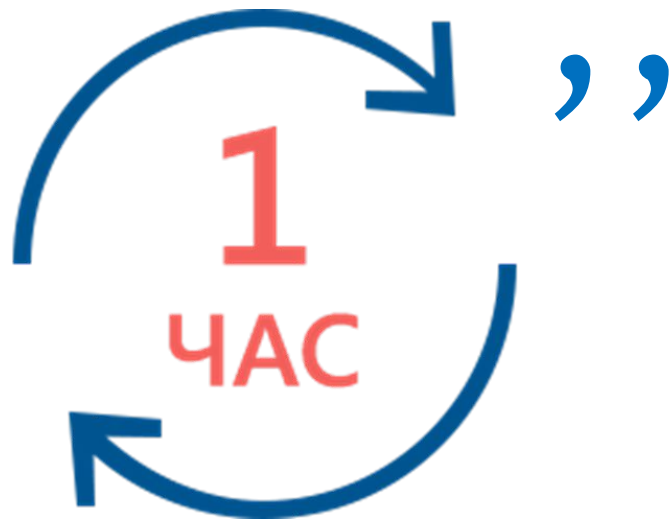
Вершина

Угол – геометрическая фигура, образованная двумя лучами (сторонами угла), выходящими из одной точки (которая называется вершиной угла)

Ребус №4




,



”

Ответ на ребус №4



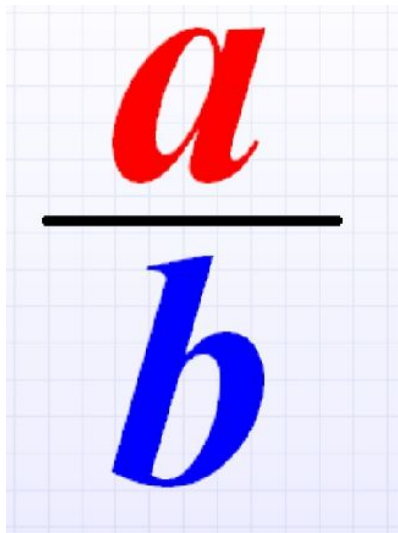
Луч

Луч - это часть прямой, имеет начало (точку) и неограниченная с другого конца

Ребус №5




Ответ на ребус №5



Дробь

Дробь – форма представления
рационального числа

Ребус №6



Ответ на ребус №6



Честность

Ребус №7



Ответ на ребус №7



Ученик

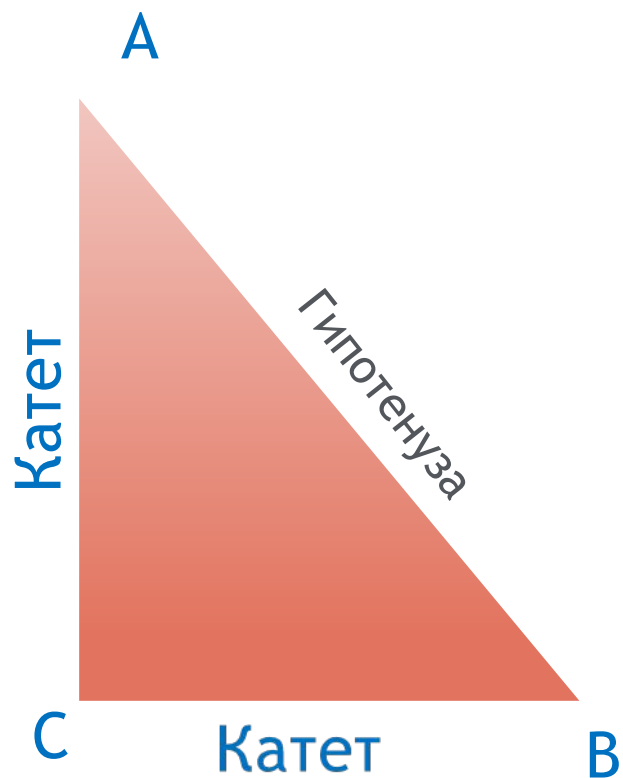
Ребус №8



O=A

ET

Ответ на ребус №8



Катет

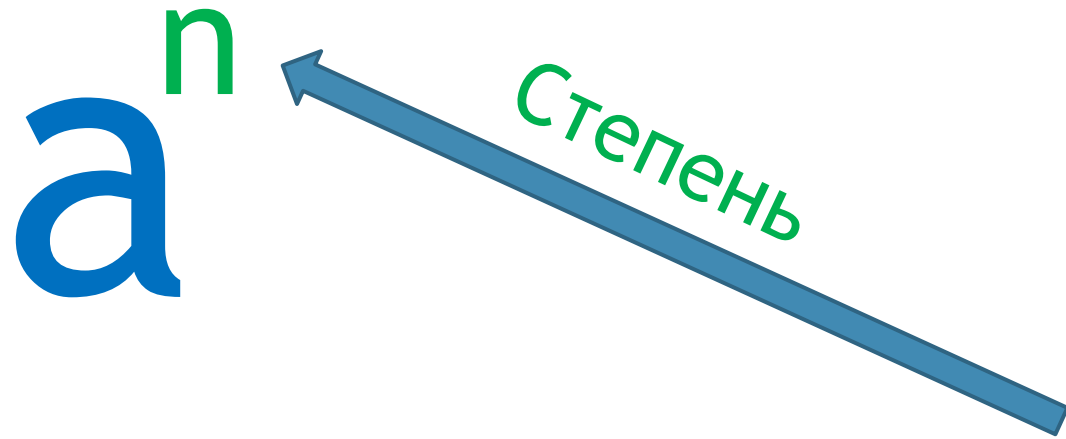
Катет — одна из двух сторон прямоугольного треугольника, образующих прямой угол. Противоположная прямому углу сторона называется гипотенузой. Для непрямоугольного треугольника катеты не существуют.

Ребус №9

100' E



Ответ на ребус №9



Степенью числа "а" с натуральным показателем "n", большим 1, называется произведение "n" одинаковых множителей, каждый из которых равен числу "а".

Ребус №10

И



,



”

НИЕ

Ответ на ребус №10

Единицы измерения длины


- 1 мм
- 1 см = 10 мм
- 1 дм = 10 см = 100 мм
- 1 м = 100 см = 1000 мм
- 1 км = 1000 м

Чтение единиц измерения длины:

- мм – миллиметр
- см- сантиметр
- дм – дециметр
- м – метр
- км - километр

Измерение

Ребус №11

З' + Е +  ЪНИК

Ответ на ребус №11



Треугольник

Треугольник - геометрическая фигура, образованная тремя отрезками, которые соединяют три точки, не лежащие на одной прямой.

Ребус №12




Ответ на ребус №12



Отрезок

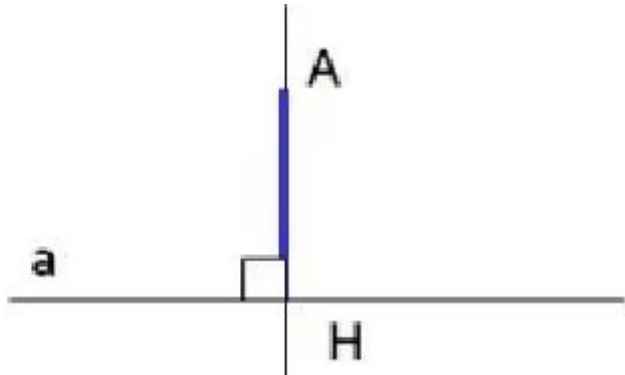
Отрезок- это часть прямой вместе с ограничивающими ее точками, геометрическая фигура

Ребус №13



ЯР

Ответ на ребус №13



Перпендикуляр

Линия, составляющая прямой угол с другой прямой линией, плоскостью

Ребус №14



Ответ на ребус №14



Доказательство

Ребус №15



З - - - Я

,

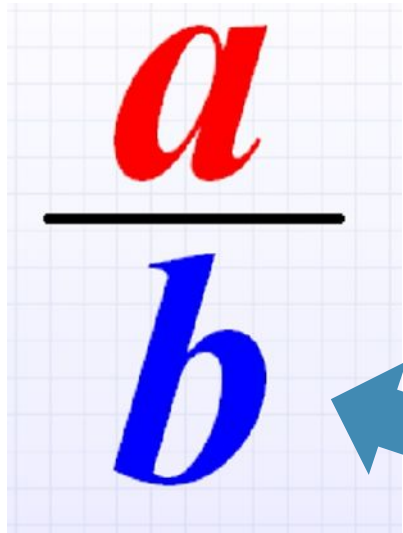


”

‘



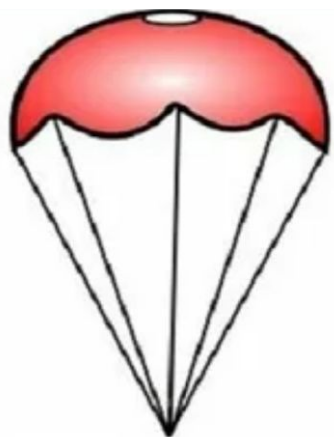
Ответ на ребус №15



Знаменатель



Ребус №16



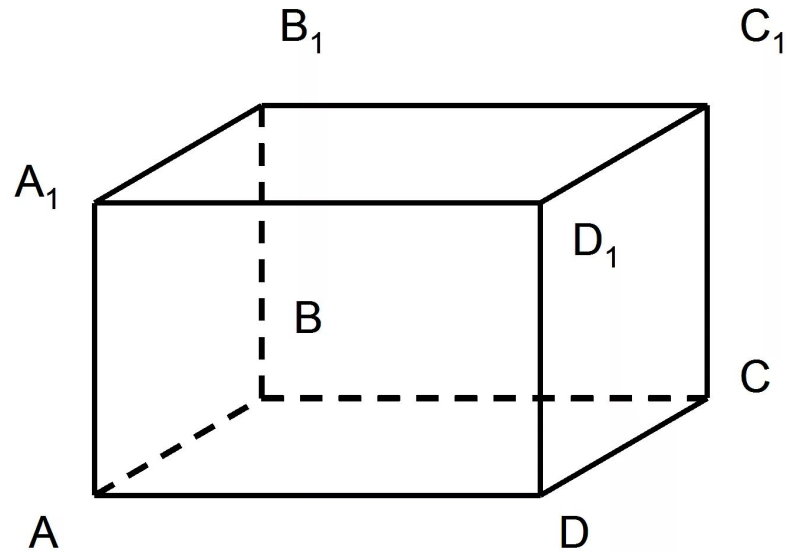
ШЮТ=Л

(ле)²



Т=Д

Ответ на ребус №16



Параллелепипед — многогранник, у которого шесть граней и каждая из них параллелограмм.

Параллелограмм — это четырехугольник, у которого противоположные стороны параллельны.

Ребус №17



4 = Т



Число

Ответ на ребус №17

КРАТНОЕ ЧИСЛО

Ребус №18



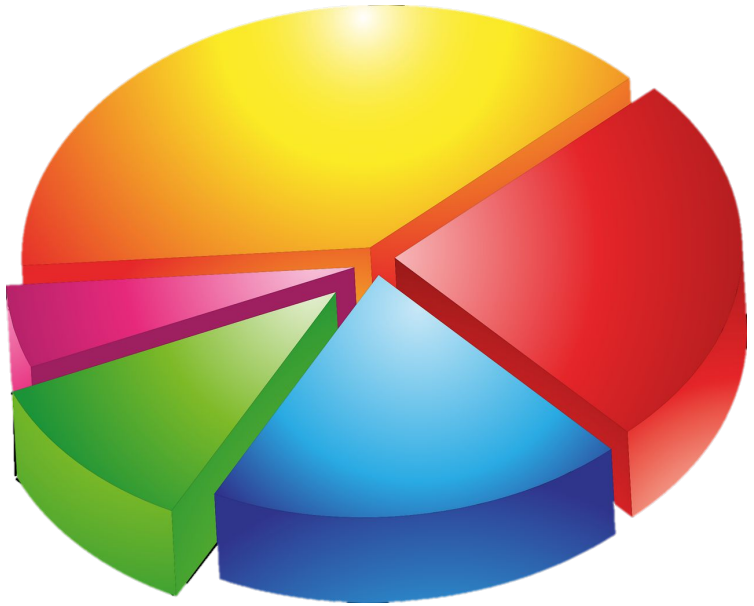
Ответ на ребус №18

Делитель

Ребус №19



Ответ на ребус №19



Диаграмма

Диагра́мма – графическое представление данных линейными отрезками или геометрическими фигурами, позволяющее быстро оценить соотношение нескольких величин.

Спасибо за внимание

