

Тест № 21

**Пешеходные переходы и места остановок
маршрутных транспортных средств**

Движение через железнодорожные пути

Движение по автомагистралям

При приближении к остановившемуся транспортному средству с включенной аварийной сигнализацией, которое имеет опознавательные знаки "Перевозка детей", водитель должен:

Категория АВМ Билет №6 вопрос №16

- 1 Снизить скорость.
- 2 При необходимости остановиться и пропустить детей.
- 3 Осуществить все перечисленные действия.

Подъехав к трамваю попутного направления, остановившемуся у посадочной площадки, которая расположена посередине дороги, водитель должен:

Категория АВМ Билет №38 вопрос №16

- 1 Уступить дорогу пешеходам, идущим к трамваю или от него.
- 2 Остановиться и продолжить движение только после закрытия дверей трамвая.
- 3 Остановиться и продолжить движение только после начала движения трамвая.

Где необходимо остановиться, если сразу за пешеходным переходом образовался затор?


Категория АВМ Билет №26 вопрос №16

- 1 На пешеходном переходе, если нет пешеходов.
- 2 Непосредственно перед пешеходным переходом.
- 3 Не ближе 5 м до пешеходного перехода.

В каком случае водитель транспортного средства, приближающегося к нерегулируемому пешеходному переходу, обязан уступить дорогу пешеходам?

Категория АВМ Билет №30 вопрос №16

- 1 Если пешеходы переходят дорогу.
- 2 Если пешеходы вступили на проезжую часть (трамвайные пути) для осуществления перехода.
- 3 В обоих перечисленных случаях.



Разрешается ли водителю выполнить объезд грузового автомобиля?

Категория АВМ Билет №2 вопрос №16

- 1 Разрешается.
- 2 Разрешается, если между шлагбаумом и остановившимся грузовым автомобилем расстояние более 5 м.
- 3 Запрещается.



Разрешено ли Вам проехать железнодорожный переезд?

Категория АВМ Билет №5 вопрос №16


- 1 Разрешено, поскольку дежурный по переезду запрещает движение только встречному автомобилю.
- 2 Разрешено, если отсутствует приближающийся поезд.
- 3 Запрещено.



Разрешен ли Вам въезд на железнодорожный переезд в данной ситуации?

Категория АВМ Билет №10 вопрос №16

- 1 Разрешен.
- 2 Разрешен, если отсутствует приближающийся поезд.
- 3 Запрещен.



Можно ли Вам въехать на железнодорожный переезд?

Категория АВМ Билет №40 вопрос №16

- 1 Можно.
- 2 Можно, если отсутствует приближающийся поезд.
- 3 Нельзя.



В данной ситуации Вы должны остановиться:

Категория АВМ Билет №20 вопрос №16

- 1 У знака «Движение без остановки запрещено».
- 2 У знака «Однопутная железная дорога».
- 3 За 5 м до ближайшего рельса.



В данной ситуации Вы:

Категория АВМ Билет №24 вопрос №16


- 1 Можете объехать шлагбаум, так как светофор не запрещает движение.
- 2 Должны остановиться и можете продолжить движение только при открытом шлагбауме.



Как Вам следует поступить в данной ситуации?

Категория АВМ Билет №25 вопрос №16

- 1 Проехать железнодорожный переезд без остановки перед знаком.
- 2 Остановиться перед знаком и продолжить движение сразу же после проезда поезда.
- 3 Остановиться перед знаком и продолжить движение, убедившись в отсутствии приближающегося поезда.



На каком наименьшем расстоянии до ближайшего рельса Вы должны остановиться?

Категория АВМ Билет №27 вопрос №16

- 1 5 м.
- 2 10 м.
- 3 15 м.
- 4 20 м.

Сигналом остановки для машиниста поезда служит следующее расположение руки или рук (днем с лоскутом яркой материи либо каким-нибудь хорошо видимым предметом, ночью — с факелом или фонарем):

Категория АВМ Билет №34 вопрос №16

1 Вытянутые в стороны руки.

2 Круговое движение руки.

3 Поднятая вверх правая рука.

4 Поднятые вверх обе руки.

При вынужденной остановке на железнодорожном переезде, если в транспортном средстве находятся пассажиры, водитель должен:

Категория АВМ Билет №35 вопрос №16

1 Немедленно высадить людей.

2 Высадить людей, если принятые меры не позволяют убрать транспортное средство с переезда.

3 Высадить людей при появлении поезда.



Обязан ли водитель мотоцикла уступить Вам дорогу?

Категория АВМ Билет №2 вопрос №15

1 Обязан.

2 Не обязан.

Следующий вопрос →

или нажмите пробел



Кто из водителей нарушил правила остановки?

Категория АВМ Билет №3 вопрос №16

1 Только водитель легкового автомобиля.

2 Только водитель грузового автомобиля.

3 Оба.

Остановка на автомагистрали разрешена:

Категория АВМ Билет №8 вопрос №16

- 1 В любых местах за пределами проезжей части.
- 2 Только правее линии разметки, обозначающей край проезжей части.
- 3 Только на специальных площадках для стоянки, обозначенных соответствующими знаками.

Разрешается ли движение задним ходом на автомагистрали?

Категория АВМ Билет №9 вопрос №16

- 1 Разрешается.
- 2 Разрешается, если транспортное средство находится правее сплошной линии разметки, обозначающей край проезжей части автомагистрали.
- 3 Запрещается.

Разрешается ли учебная езда на автомагистрали?

Категория АВМ Билет №12 вопрос №16

- 1 Запрещается
- 2 Разрешается только по крайней правой полосе.
- 3 Разрешается



Кто из водителей нарушает правила разворота на автомагистрали?

Категория АВМ Билет №14 вопрос №16

- 1 Оба.
- 2 Только водитель легкового автомобиля.
- 3 Только водитель грузового автомобиля, выполняющего работы по ремонту или содержанию дорог.
- 4 Никто не нарушает.



Разрешено ли Вам остановиться на автомагистрали правее линии, обозначающей край проезжей части?

Категория АВМ Билет №16 вопрос №16

- 1 Разрешено.
- 2 Разрешено только в случае вынужденной остановки.
- 3 Запрещено.



Нарушил ли водитель Правила при вынужденной остановке на автомагистрали?

Категория АВМ Билет №39 вопрос №16

- 1 Нарушил.
- 2 Нарушил, если не выставил знак аварийной остановки.
- 3 Не нарушил.

На каких участках автомагистрали запрещается движение задним ходом?

Категория АВМ Билет №37 вопрос №16

- 1 Только в местах въезда или выезда с нее.
- 2 Только в местах остановок маршрутных транспортных средств.
- 3 На всем протяжении дороги.



Где Вам разрешается остановиться при движении по автомагистрали?

Категория АВМ Билет №28 вопрос №16

- 1 Только через 500 м.
- 2 В любом месте правее линии, обозначающей край проезжей части.
- 3 В любом месте у края проезжей части.



Можно ли Вам, управляя грузовым автомобилем, осуществить опережение в данной ситуации?

Категория АВМ Билет №29 вопрос №16

- 1 Можно.
- 2 Можно, если разрешенная максимальная масса автомобиля не более 2,5 т.
- 3 Нельзя.



Разрешено ли обучать вождению на этой дороге?

Категория АВМ Билет №31 вопрос №16

- 1 Запрещено.
- 2 Разрешено, используя для движения только правую полосу проезжей части.
- 3 Разрешено.

Разрешается ли движение по автомагистрали на транспортном средстве, скорость которого по техническому состоянию менее 40 км/ч?

Категория АВМ Билет №32 вопрос №16

- 1 Разрешается.
- 2 Разрешается только по крайней правой полосе.
- 3 Запрещается.



Кто из водителей нарушает Правила?

Категория АВМ Билет №33 вопрос №16

- 1 Водители грузового автомобиля с разрешенной максимальной массой 3 т и мопеда.
- 2 Только водитель мопеда.
- 3 Никто не нарушает.