



Математика.

«Внешняя оценка качества образования
МЦКО в начальной школе».

(Практикум для родителей)

1. Укажи числовое выражение, в котором порядок действий установлен правильно.

$$1) 453 - (260 - 232 : 4) \cdot 57$$

1 2 3 4

$$2) 453 - (260 - 232 : 4) \cdot 57$$

4 3 1 2

$$3) 453 - (260 - 232 : 4) \cdot 57$$


3 2 1 4

$$4) 453 - (260 - 232 : 4) \cdot 57$$

4 2 1 3

Толя вырезал из бумаги квадрат со стороной 6 см, разрезал его на квадраты со стороной 2 см и выложил полученные квадраты в ряд. Сколько квадратов в этом ряду?

Ответ:





2 CM

2 CM

2 CM

6 CM



Ира посмотрела на рисунок и сказала: «На этом рисунке все треугольники закрашены». Права Ира или не права?




Витя купил два пакета апельсинового сока по 1 литру и заплатил 110 рублей. Катя купила 3 пакета яблочного сока по 1 литру и заплатила 120 рублей. Кто из ребят купил сок по более низкой цене?

Решение

- 1) $110 : 2 = 55$ (р.) - за один пакет апельсинового сока.
- 2) $120 : 3 = 40$ (р.) – за один пакет яблочного сока.
- 3) $55 > 40 \Rightarrow$ Катя купила сок по более низкой цене.

Сколько треугольников изображено на картинке?



В таблицу записаны размеры некоторых динозавров. На сколько брахиозавр тяжелее тираннозавра?

динозавр	длина, в метрах	высота, в метрах	масса, в тоннах
амфицелия	60	12	122
тираннозавр	13	5	7
брахиозавр	25	10	37
индрикотерий	8	6	15

На диаграмме указано, сколько школьников выбрали экскурсии в Суздаль, Муром и Углич. Затем половина детей, которые хотели поехать в Углич, передумали и выбрали Муром. Сколько школьников теперь собираются в Муром?

