

Сложение вида

+ 2, + 3

стр. 66



Школа России
Математика 1 класс



17 апреля
Домашняя работа





Устный счёт

Какие кораблики приплывут к 9 причалу?

 $11-1$

 $5+4$

 $12-3$

 $7+2$

 $3+4$

 $7+1$



9



 $7+3$

Составь задачи по выражениям.



$$10 + 2 = 12$$

$$10 - 2 = 8$$



В одной вазе **5** роз, а в другой на **2** больше. Сколько роз во второй вазе? Сколько всего роз в двух вазах?


$$5 + 2 = 7$$


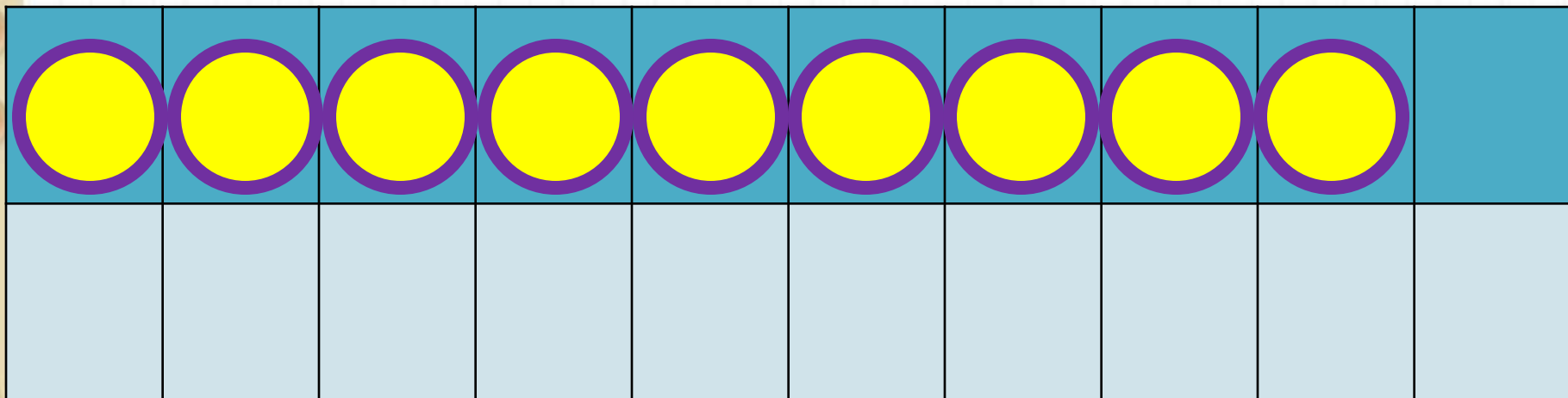
$$5 + 7 = 12$$



**? на 2
больше**


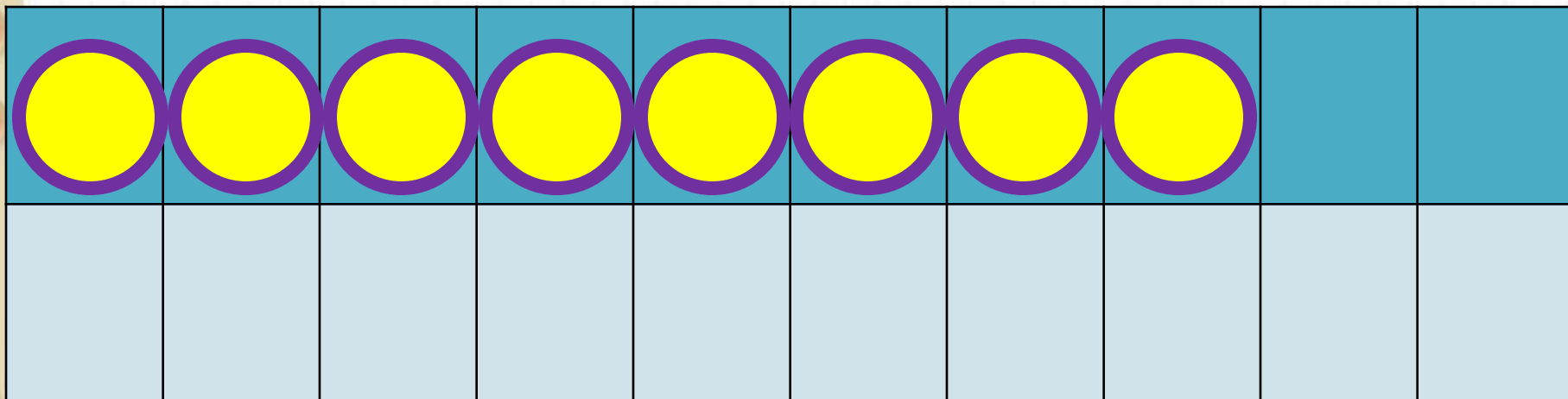
Новый материал





$$9 + 2$$


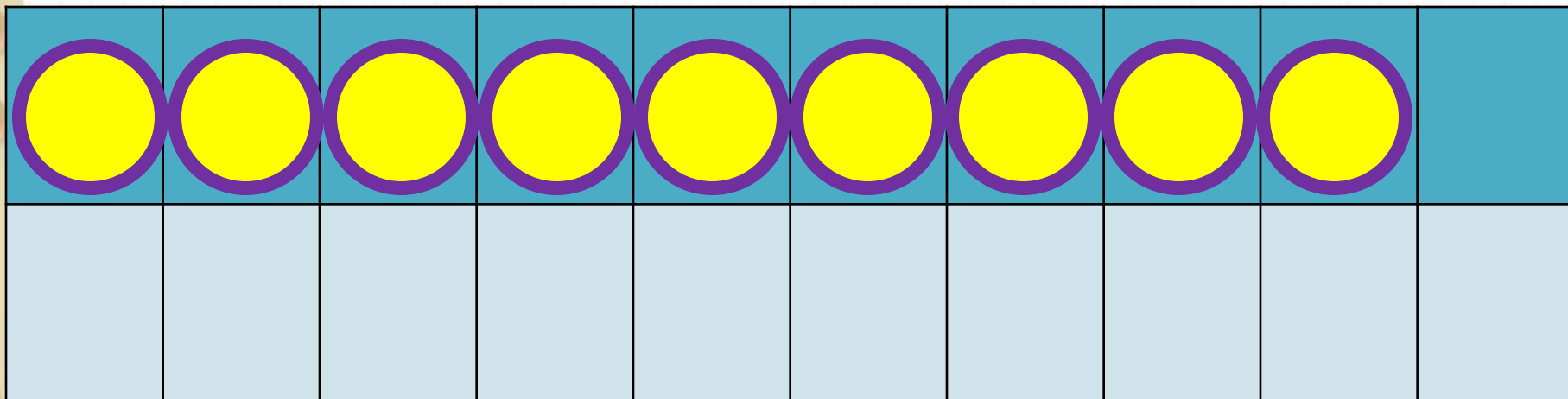
$$9 + 1 + 1$$



$$8 + 3$$

$$8 + 2 + 1$$

Какие числа будем учиться прибавлять?



$$9 + 3$$

$$9 + 1 + 2$$

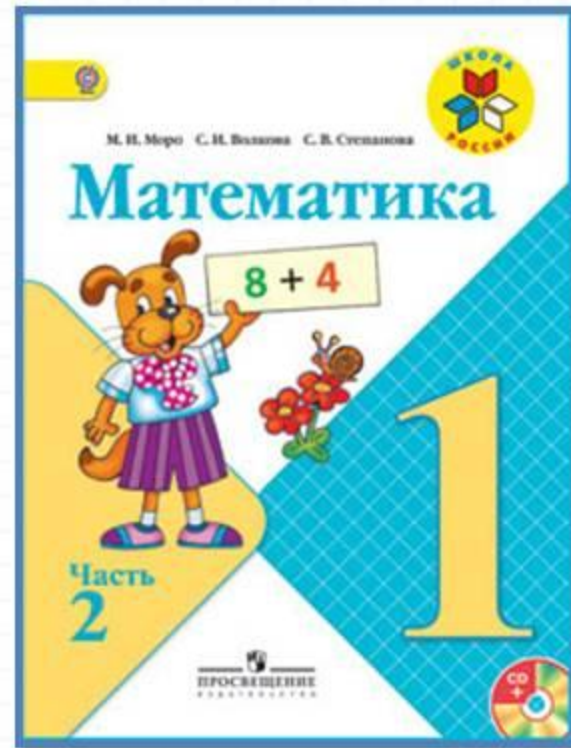

Запомни!

$$9 + 2 = 11$$

$$8 + 3 = 11$$

$$9 + 3 = 12$$

Работа по учебнику



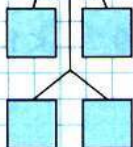
стр. 66

$$\square + 2$$

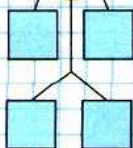
$$\square + 3$$



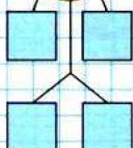
7



8



9



Объясни, как к числу 9 прибавить 2.



$$\begin{array}{r} 9 + 2 \\ \hline 9 + 1 + 1 \end{array}$$



Рассуждая так же, вычисли.

$$\begin{array}{r} 9 + 3 \\ \hline 9 + 1 + \square \end{array}$$

$$\begin{array}{r} 8 + 3 \\ \hline 8 + 2 + \square \end{array}$$

Запомни!

$$9 + 2 = 11$$

$$9 + 3 = 12$$

$$8 + 3 = 11$$

- $8 - 5 - 2$ $0 + 9 - 8$ $8 - 6 + 10$
 $10 - 7 - 2$ $8 + 2 - 4$ $7 - 5 + 10$
 $10 - 8 - 2$ $6 + 0 - 5$ $9 - 7 + 10$
- Зина купила 6 тетрадей в клетку, а тетрадей в линейку на 2 меньше. Сколько всего тетрадей купила Зина?
- В большом ведре помещается 10 л воды, а в маленьком — 4 л. Сколько всего ... ?
- Мама собрала 16 кг яблок. Из 6 кг яблок она сварила варенье. Сколько ... ?
- Определи, как зовут каждую девочку.



Это Таня и Оля.

Это Оля и Катя.

$$12 \text{ } \bigcirc \text{ } 20$$

$$10 \text{ } \bigcirc \text{ } 9$$

$$1 \text{ дм } \bigcirc \text{ } 9 \text{ см}$$

$$12 \text{ см } \bigcirc \text{ } 1 \text{ дм}$$

$$7 \text{ } \bigcirc \text{ } 4$$

$$0 \text{ } \bigcirc \text{ } 1$$

Объясни, как к числу 9 прибавить 2.



$$\begin{array}{r} 9 + 2 \\ \hline 9 + 1 + 1 \end{array}$$

Рассуждая так же, вычисли.

$$\begin{array}{r} 9 + 3 \\ \hline 9 + 1 + \square \end{array}$$

$$\begin{array}{r} 8 + 3 \\ \hline 8 + 2 + \square \end{array}$$

Запомни!

$$9 + 2 = 11$$

$$9 + 3 = 12$$

$$8 + 3 = 11$$

1. $8 - 5 - 2$

$10 - 7 - 2$

$10 - 8 - 2$

$0 + 9 - 8$

$8 + 2 - 4$

$6 + 0 - 5$

$8 - 6 + 10$

$7 - 5 + 10$

$9 - 7 + 10$

2. Зина купила 6 тетрадей в клетку, а тетрадей в линейку на 2 меньше. Сколько всего тетрадей купила Зина?

3. В большом ведре помещается 10 л воды, а в маленьком — 4 л. Сколько всего ... ?

Примеры №1 и задачу №2 реши и запиши в тетрадь. К задаче № 3 поставь вопрос и реши. Запиши в тетрадь только выражение –решение.

4. Мама собрала 16 кг яблок. Из 6 кг яблок она сварила варенье. Сколько ... ?
5. Определи, как зовут каждую девочку.



Это Таня и Оля.



Это Оля и Катя.

▶ 12 ○ 20
10 ○ 9

1 дм ○ 9 см
12 см ○ 1 дм

7 ○ 4
0 ○ 1

Поставь вопрос к задаче №4 и реши её. Запиши в тетрадь только выражение – решение.
№5 о задание под чертой выполни устно

