

Математика



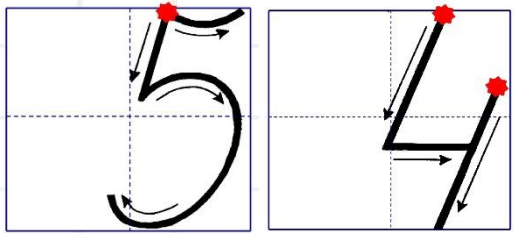
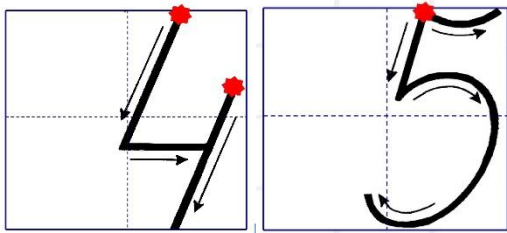
Сегодня вы сможете узнать, где можно отдохнуть летом.

За каждое выполненное задание будете получать подсказку – будут открываться квадратики на большом рисунке.

Когда будут выполнены все задания, вы сможете узнать место отдыха.



Минутка чистописания



№1

Решите ребусы

$$* \cdot 3 = 18$$

$$4 \cdot * = 8$$

$$1* : 3 = 4$$

$$*7 : 3 = *$$



Проверка

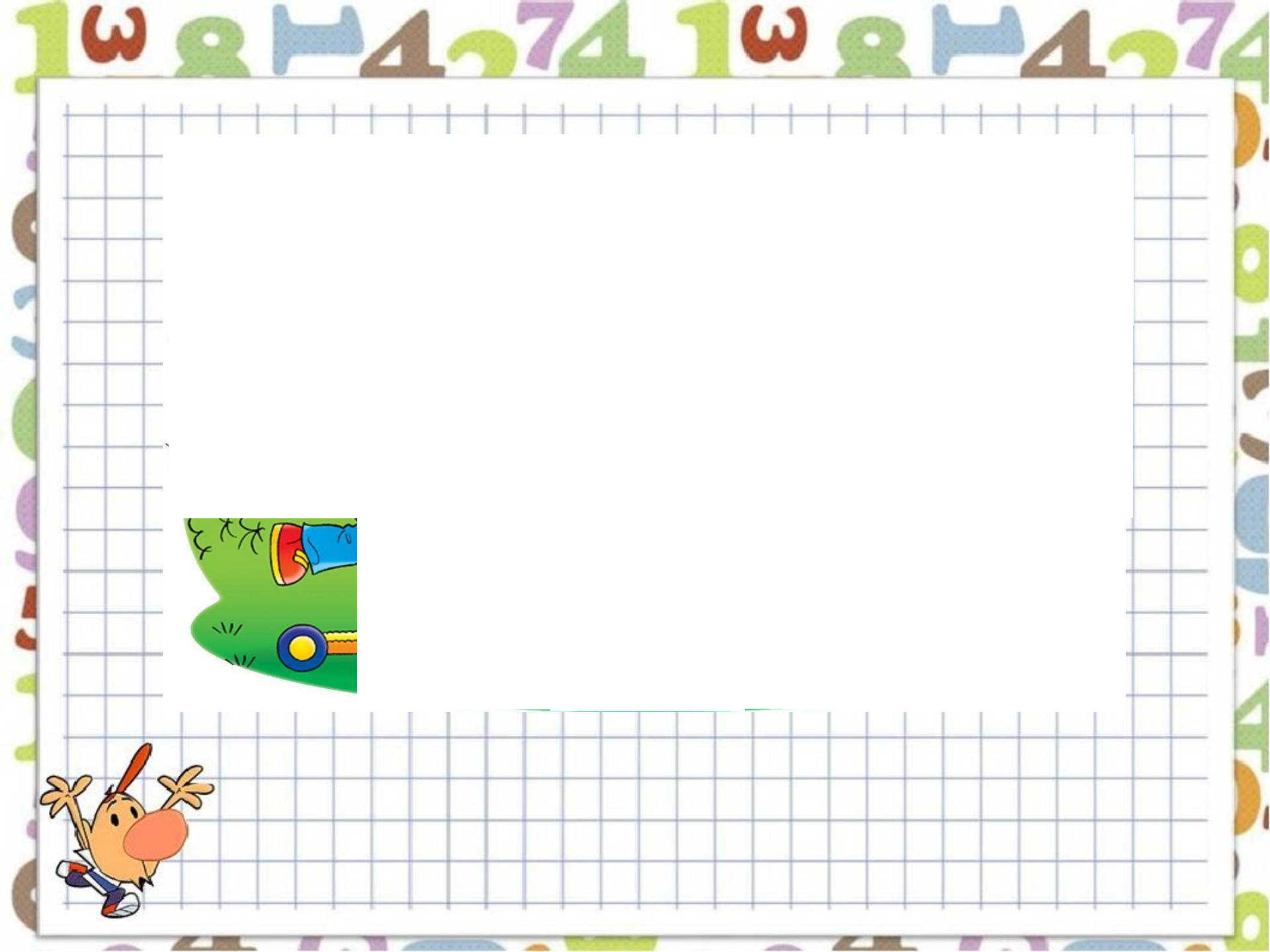
$$6 \cdot 3 = 18$$

$$4 \cdot 2 = 8$$

$$12 : 3 = 4$$

$$27 : 3 = 9$$





№2

Числовые выражения

- Запиши сумму, разность, произведение и частное чисел 18 и 2.
- Выполни вычисления.
- Проверь.



№2

Проверка

$$8 + 2 = 20$$

$$18 - 2 = 16$$

$$18 \cdot 2 = 36$$

$$18 : 2 = 9$$





№3

Решите задачу

На одной полке стоит 25 книг, на другой - на 10 книг больше. Сколько всего книг на двух полках?



Проверка

Запись решения по действиям.

1) $25 + 10 = 35$ (книг) – на второй полке

2) $25 + 35 = 60$ (книг) – всего

Ответ: 60 книг на двух полках.

Запись решения выражением.

$$25 + (25 + 10) = 60 \text{ (книг)}$$

Ответ: 60 книг на двух полках.

(Запись решения сделай или по действиям, или выражением.)





№4

Буквенные выражения

Найди значение выражения $x + 8$
при $x = 36$, $x = 42$, $x = 57$.



№4

Проверка


$x + 8$

если $x = 36$, то $36 + 8 = 44$

если $x = 42$, то $42 + 8 = 50$

если $x = 57$, то $57 + 8 = 65$





№5

Геометрический материал

- Найди периметр прямоугольника со сторонами 8 см и 5 см.



№5

Проверка

$$P = (8 + 5) \cdot 2 = 26 \text{ (см)}$$

Ответ: периметр равен 26 см.





Отличного отдыха!



Задание на повторение

Повторить таблицу
умножения
и деления на 2 и на 3.

