

Закрепление знаний по теме
«Нумерация.
Числа от 1 до 10 и число 0
стр. 76-78

Урок 34-35




Школа России
Математика 1 класс





Устный счёт


Назови предыдущие числа.




Назови последующие числа.



Уменьши числа на 2.




Увеличь числа на 4.




Реши цепочки примеров.




$$10 - 3 + 2 = \square$$



$$9 - 2 - 4 = \square$$



**Реши
задачу.**




**Мы большущая семья.
Самый младший – это я.
Таня есть и Вася есть,
Юра, Шура, Зина, Маша,
И Наташа тоже наша.
Сколько детей в семье?**



8

Реши
задачу.

Дарит бабушка лисица
Трёх внучатам рукавицы:
"Это вам на зиму, внуки,
рукавичек по две штуки.
Берегите, не теряйте,
Сколько всех, пересчитайте!"




6

На сколько больше жирафов, чем
пингвинов?



$$6 - 3 = 3$$

НА 3



Сосчитай, если не трудно, примеры.




$$16 - 0 - 3 = 13$$

$$14 - 3 + 3 = 14$$

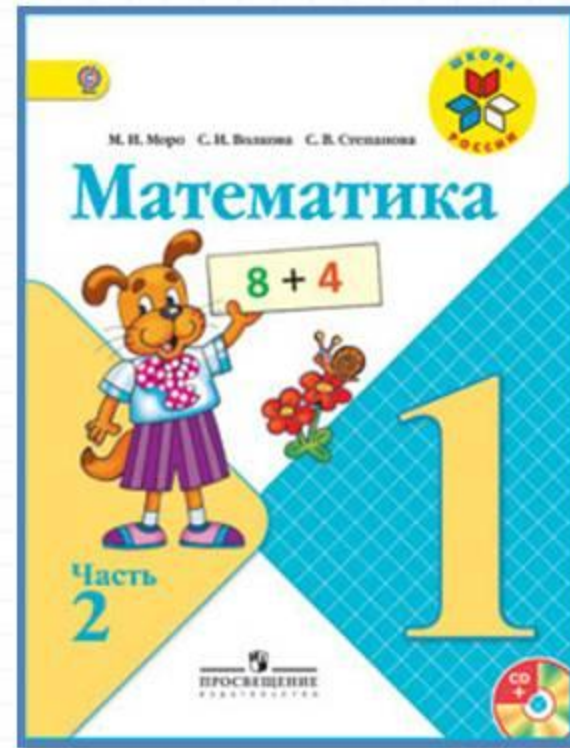

$$16 - 4 + 1 = 13$$

Физкультминутка

**Ёж спешил к себе домой,
Нёс запасы он с собой.
Через кочки он скакал,
Быстро по лесу бежал.
Вдруг он сел и изменился,
В шарик круглый превратился.
А потом опять вскочил
И к детишкам поспешил.**



Работа по учебнику



стр. 76 –
78

? ЧТО УЗНАЛИ. ЧЕМУ НАУЧИЛИСЬ

Закрой квадратами примеры с ответом 4.




$4 - 2$	$3 + 1$	$6 - 1$
$5 - 1$	$5 - 4$	$1 + 3$
$2 + 1$	$2 + 2$	$3 - 2$

У почтальона в сумке было 10 писем. Одно письмо он уже отнёс по адресу. Сколько писем осталось в сумке у почтальона?

Мальчик решал пример $8 - 1$, и у него получилось 9. В чём его ошибка?

Игра «Лесенка»



Закрой квадратами примеры с ответом 4.

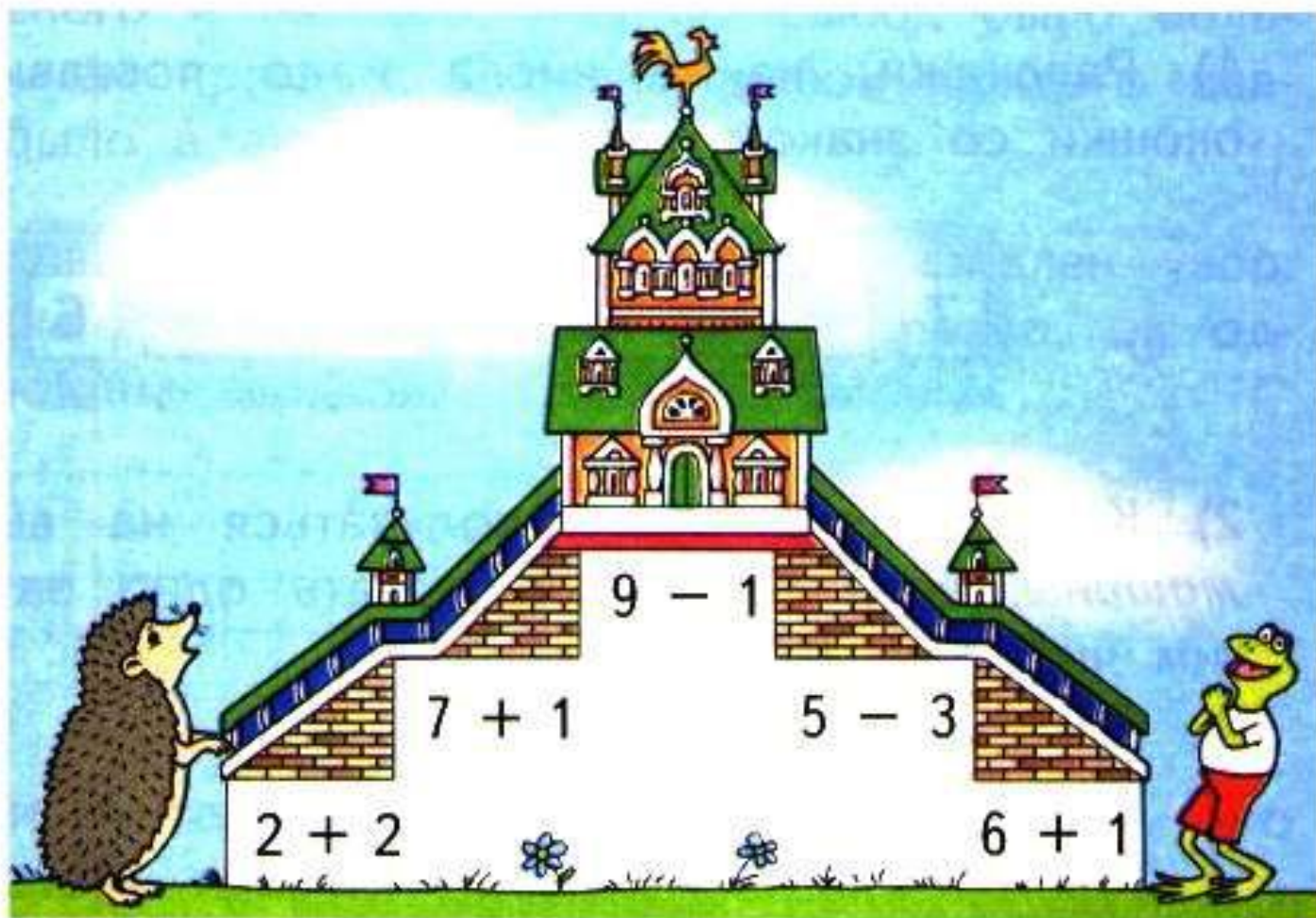


$4 - 2$	$3 + 1$	$6 - 1$
$5 - 1$	$5 - 4$	$1 + 3$
$2 + 1$	$2 + 2$	$3 - 2$

У почтальона в сумке было 10 писем. Одно письмо он уже отнёс по адресу. Сколько писем осталось в сумке у почтальона?

Мальчик решал пример $8 - 1$, и у него получилось 9. В чём его ошибка?

Игра «Лесенка»

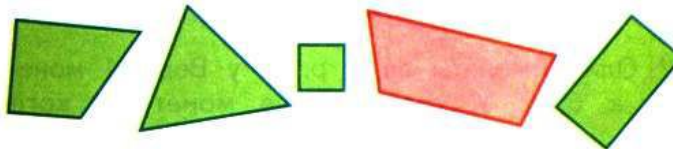


Закрой кругами примеры с ответом 5.

$1 + 4$	$3 + 1$	$4 + 1$
$5 - 3$	$3 + 2$	$5 - 2$
$6 - 1$	$4 - 3$	$2 + 3$



Как можно одним словом назвать все фигуры на чертеже?



Какую фигуру можно назвать лишней?

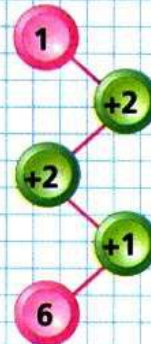
Игра



Где моё место?



ЦЕПОЧКА:

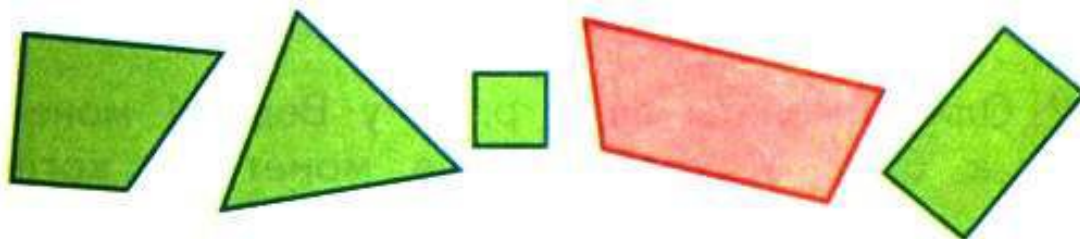


Закрой кругами примеры с ответом 5.

$1 + 4$	$3 + 1$	$4 + 1$
$5 - 3$	$3 + 2$	$5 - 2$
$6 - 1$	$4 - 3$	$2 + 3$



Как можно одним словом назвать все фигуры на чертеже?



Какую фигуру можно назвать лишней?

Игра



Где моё место?

Закрепление изученного



Выберите примеры с ответом 3.



$4-1$

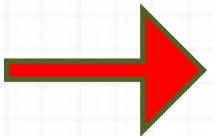
$7-3$

$8-5$


$6-3$

$7+1$



$4+4$



Какие геометрические фигуры ты видишь?




Найдите отличия.



Работа в тетради

стр.
28




- Выбери для каждого рисунка свою запись.



$6 + 1 = \square$

$5 + 2 = \square$

$6 - 1 = \square$



- Вставь пропущенные числа.



$3 - 3 =$	$8 + 0 =$	$9 + \quad = 9$
$7 - \quad = 0$	$5 - 0 =$	$9 - \quad = 9$
$\quad - 6 = 0$	$0 + 4 =$	$\quad + 7 = 7$

- Бабушка связала внукам носки, по одной паре каждому. Сколько внуков у бабушки?

Запиши:



- $4 + 1 =$ $8 + 1 =$ $6 + 0 =$
 $5 - 1 =$ $9 - 1 =$ $6 - 0 =$



● Выбери для каждого рисунка свою запись.




5



$6 + 1 = \square$

$5 + 2 = \square$

$6 - 1 = \square$



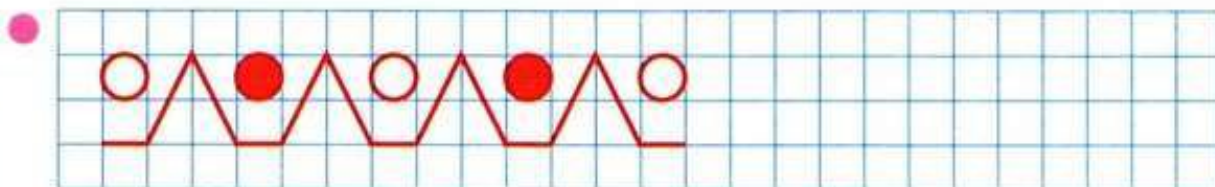
- Вставь пропущенные числа.

<input type="checkbox"/>	$3 - 3 =$	$8 + 0 =$	$9 + \quad = 9$
	$7 - \quad = 0$	$5 - 0 =$	$9 - \quad = 9$
	$\quad - 6 = 0$	$0 + 4 =$	$\quad + 7 = 7$

- Бабушка связала внукам носки, по одной паре каждому. Сколько внуков у бабушки?
Запиши:



●	$4 + 1 =$	$8 + 1 =$	$6 + 0 =$
	$5 - 1 =$	$9 - 1 =$	$6 - 0 =$



Задания на смекалку



Вася переломил плитку шоколада, потом переломил одну из получившихся частей. На сколько частей переломил Вася плитку шоколада?



3

Костя родился на 2 года раньше Васи. Сейчас Косте 5 лет. Сколько лет Васе?



3 ГОДА

Рефлексия

- Что нового узнали?
- Что бы хотели выполнить ещё?
- Какое задание оказалось для вас самым простым?
- Какое задание было выполнить труднее всего?
- Какое задание было самым интересным?



