


Величины

Длина



**Учитель начальных классов
Авдеева Ирина Викторовна
МАОУ «Гимназия №7 имени
святителя Питирима,
епископа Тамбовского»
города Тамбова**

1 2 3 4 5 6 7 8 9 10



10 9 8 7 6 5 4 3 2 1

.

.

Какие карточки перевернуты?

10	9	8	7	6	5	4	3	2	1
----	---	---	---	---	---	---	---	---	---

1	2	3	4	5	6	7	8	9	10
---	---	---	---	---	---	---	---	---	----

Какие числа

спрятались в окошках?

7		6		8		9	
6	1	5	1	7	1	8	1
5	2	4	2	6	2	7	2
4	3	3	3	5	3	6	3
3	4	2	4	4	4	5	4
2	5	1	5	3	5	4	5
1	6			2	6	3	6
				1	7	2	7
						1	8

Найди нужную запись.

$5-3$

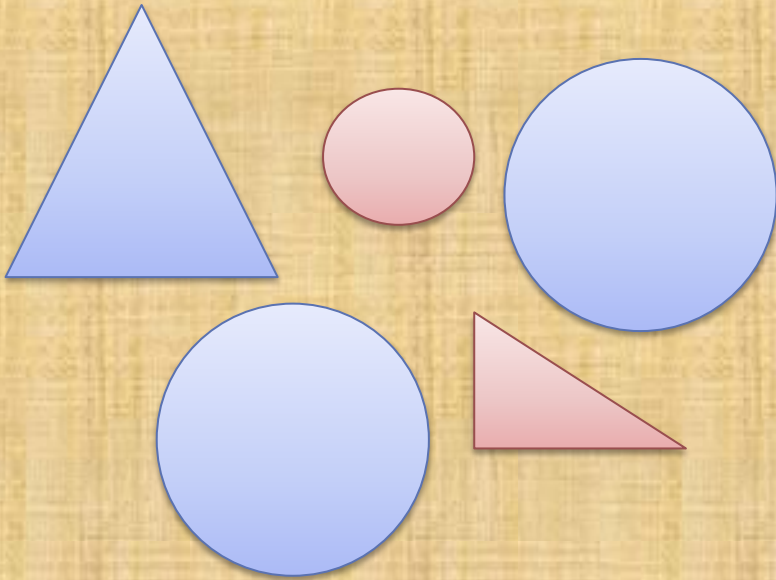
$1+4$

$2+2$

$4-2$

$2+3$

$5-2$




**Свойства
(признаки)**

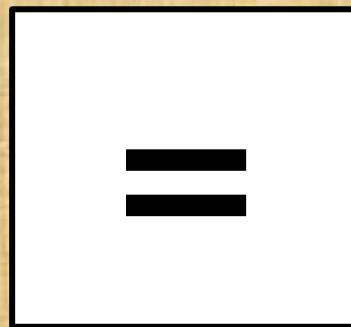


- Цвет
- Форма
- Размер

«Зарядка для хвоста!»



Какую коробку выбрать для карандаша?





величины

длина

**Длина предмета – это
величина.**

**Величина – это свойство
(признак).**

1. Измерить.

2. Результат записи числом.



Удав = 38 попугаев

Удав = 5 мартышек

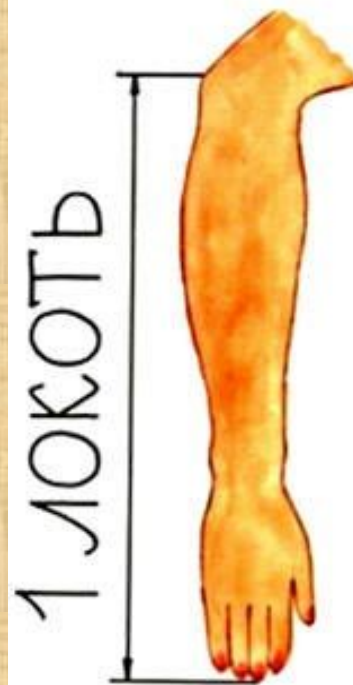
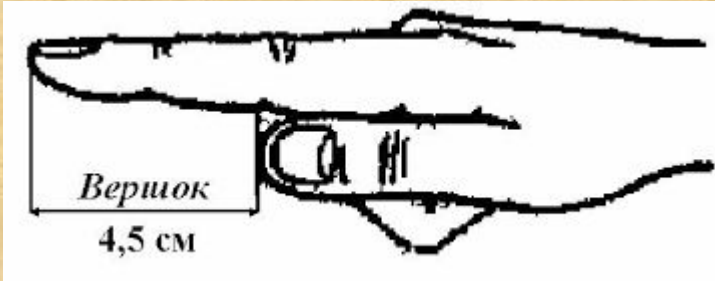
Удав = 2 слоненка

Ярмарка XIX века





МАХОВАЯ САЖЕНЬ



CM

Задачи бабушки Удава

$$2 \text{ см} + 3 \text{ см} + 1 \text{ см} = 6 \text{ см}$$

$$1 \text{ см} + 4 \text{ см} + 3 \text{ см} = 8 \text{ см}$$

$$4 \text{ см} + 1 \text{ см} + 5 \text{ см} = 10 \text{ см}$$

$$3 \text{ см} + 1 \text{ cm} + 5 \text{ см} = 9 \text{ см}$$





Спасибо за внимание!

