




2-й урок

Тема: «Задачи, обратные данной».






Учимся составлять
обратные задачи



Совершенствуем
вычислительные
навыки



Повторяем названия
чисел при + и -

15 ноября

Классная работа

- Задание 1 с 27
- Начерти и раскрась узор, расположи его горизонтально в тетради.
- Задание 2,3 устно
- Решить примеры 4 (1- 2 столбик)

Задача

Условие
Вопрос
Решение
Ответ



Остановка «Глазково»



ОБРАТНЫЕ ЗАДАЧИ



Остановка «Задачкино»



Задача 1)

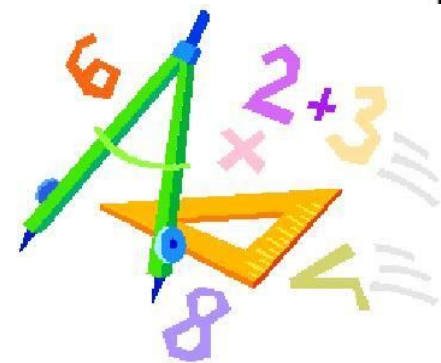
Выполни чертёж . Реши задачу.

Обратная задача 2)

Выполни чертёж. Реши задачу. (Почему данная задача обратная?)



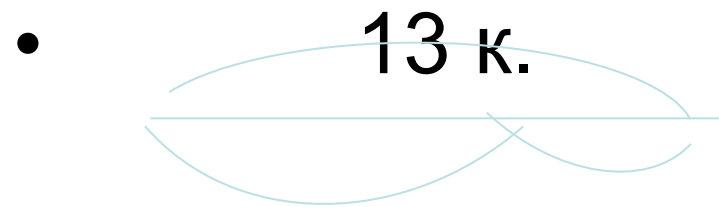
Учебник: стр. 27 № 5 (устно)




Д. 3

- С. 27 задача 6


- Схема




- $7 \text{ к.} \quad ?$



**Отлично!
Было интересно!**



**Я старался,
и всё получилось.**



**Нужно повторить
материал.**



**Спасибо
за внимание**