




Счастливое
поколение
УЧЕНИЕ В РАДОСТЬ

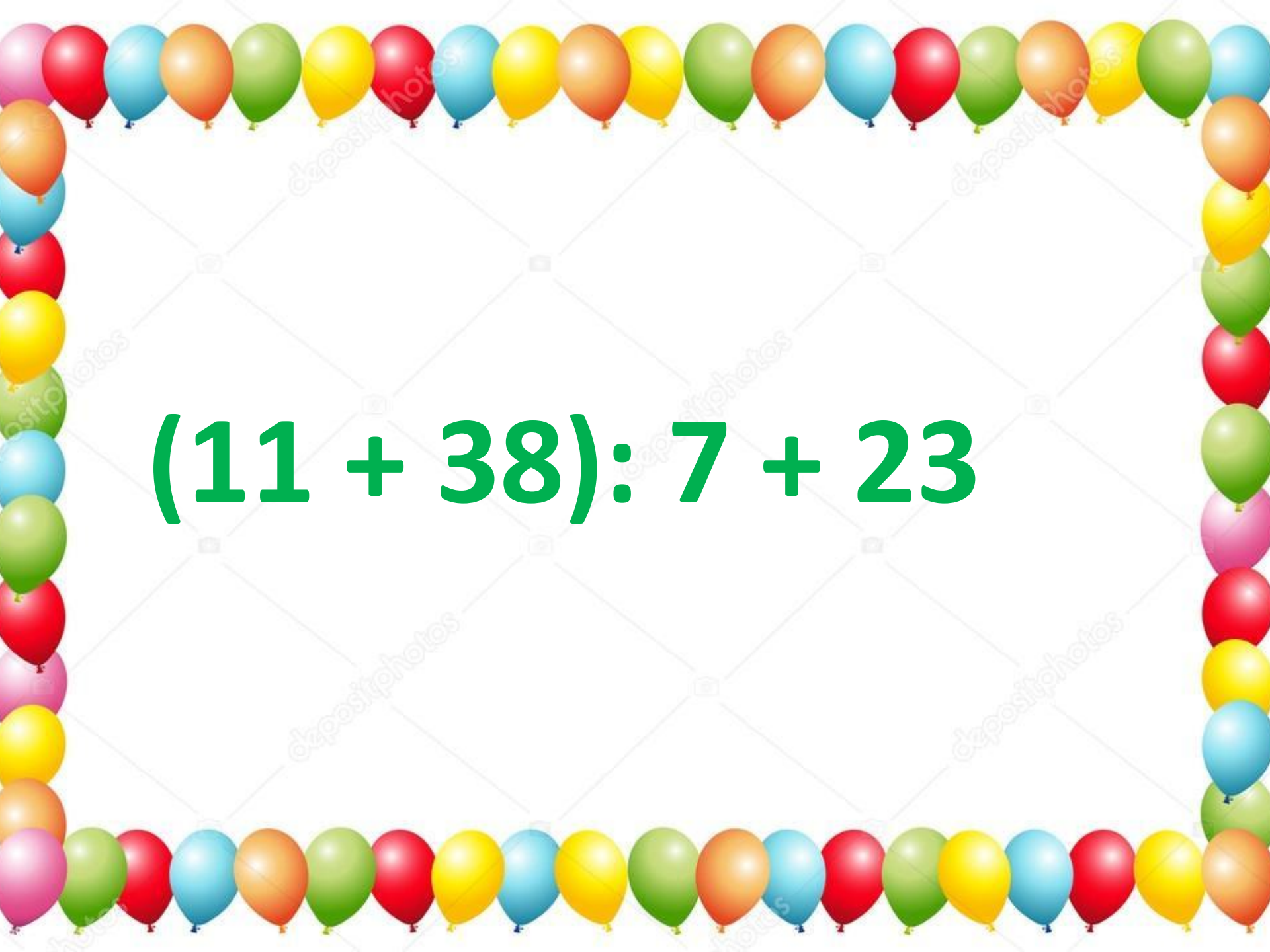
**(Закрепление решения задач
на приведение к единице).**

A decorative border of colorful balloons in shades of pink, red, blue, orange, green, and yellow surrounds the central text. The balloons are arranged in a repeating pattern along the top, bottom, and sides of the page.

Математический ДИКТАНТ


$$(38 + 2) : 8 \cdot 10$$


$$32 : 8 + 16 : 4$$

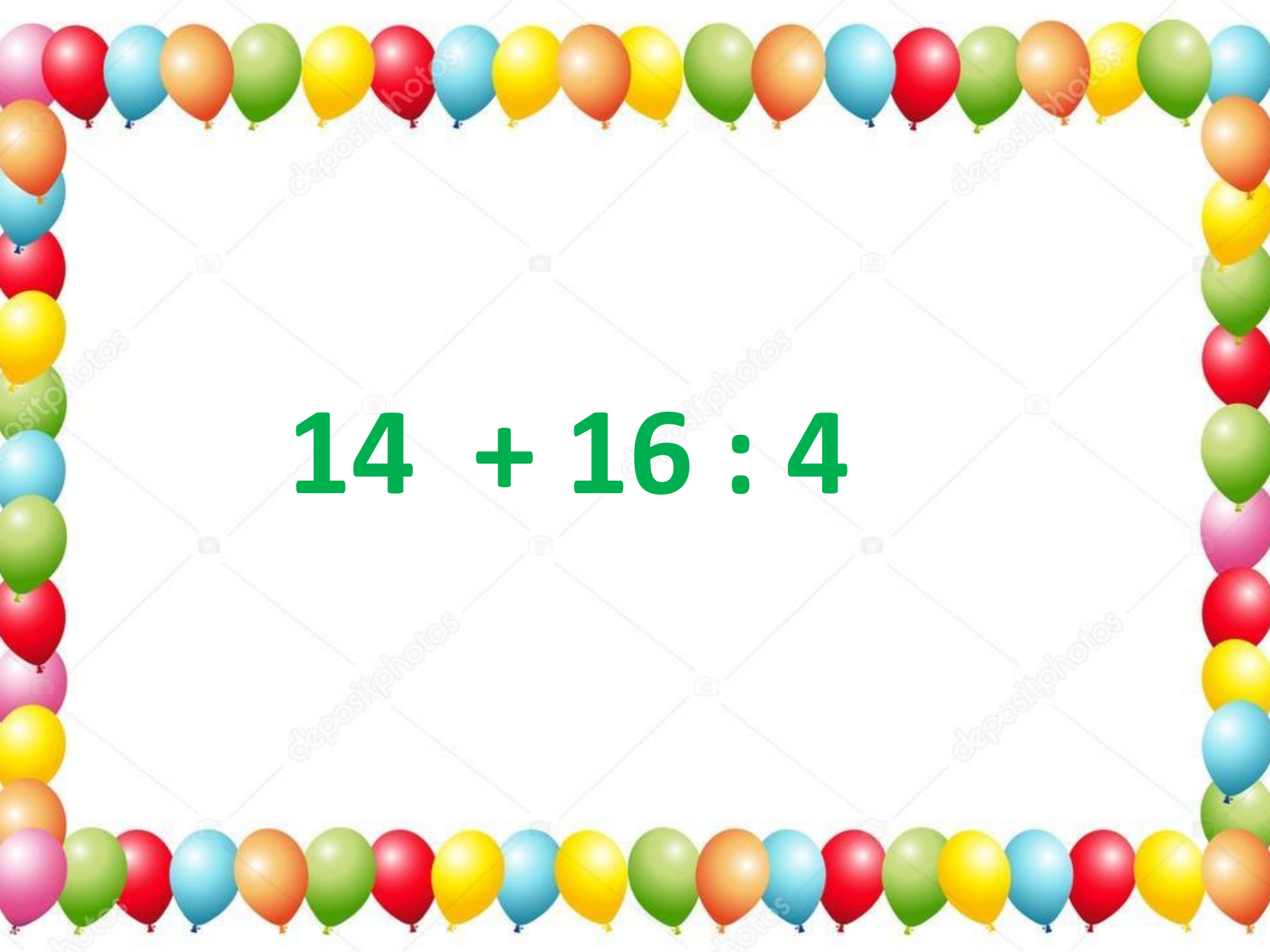

$$(11 + 38) : 7 + 23$$


$$95 - 7 \cdot 5 + 14$$


$$2 \cdot 9 + 15 - 7 : 7$$


$$80 - 9 \cdot 4$$


$$48 : 8 \cdot 5 - 21$$


$$14 + 16 : 4$$


$$32 - 27 : 3 + 7$$


$$(4 \cdot 6 + 4) : 7$$



Проверяем ответы:

50 8 30 74 32 44 9 18 30 4

Задача №1

В 5 гирляндах 50 флажков, во всех поровну. Сколько флажков в 7 таких гирляндах?

5 гирлянд – 50 флажков

7 гирлянд - ?

Сколько флажков в 1 гирлянде?

Сколько флажков в 7

гирляндах? в одной гирлянде.

$10 * 7 = 70$ (ф.) – в 7 гирляндах.

Ответ: 70 флажков в 7 гирляндах.

Задача №2

В 9 банок разлили 27 литров компота поровну. Сколько литров компота в 10 таких же банках?

В 9 б. – 27л

В 10 б. – ?л

В 1 б. - ?л

$27 : 9 = 3(\text{л})$ - в одной банке

$3 * 10 = 30 (\text{л})$ – в 10 банках.

Ответ: 30 литров.




Задача №3

Цена блокнота 27 рублей. Сколько рублей сдачи получит Маша со 100 рублей, если купит 3 таких блокнота?



Задача №4 (самостоятельно)

**30 цветов разложили поровну в 6
букетов. Сколько получится
одинаковых букетов из 40 цветов?**



**Из 30 цветов – 6 букетов.
Из 40 цветов - ? букетов.
Из ? цветов – 1 букет.**

Задача №5

Составь самостоятельно задачу и реши её.

..... КГ ГВОЗДЕЙ – В 9 ЯЦ.

..... КГ ГВОЗДЕЙ - В ? ЯЦ.

? КГ ГВОЗДЕЙ - В 1 ЯЦ.