

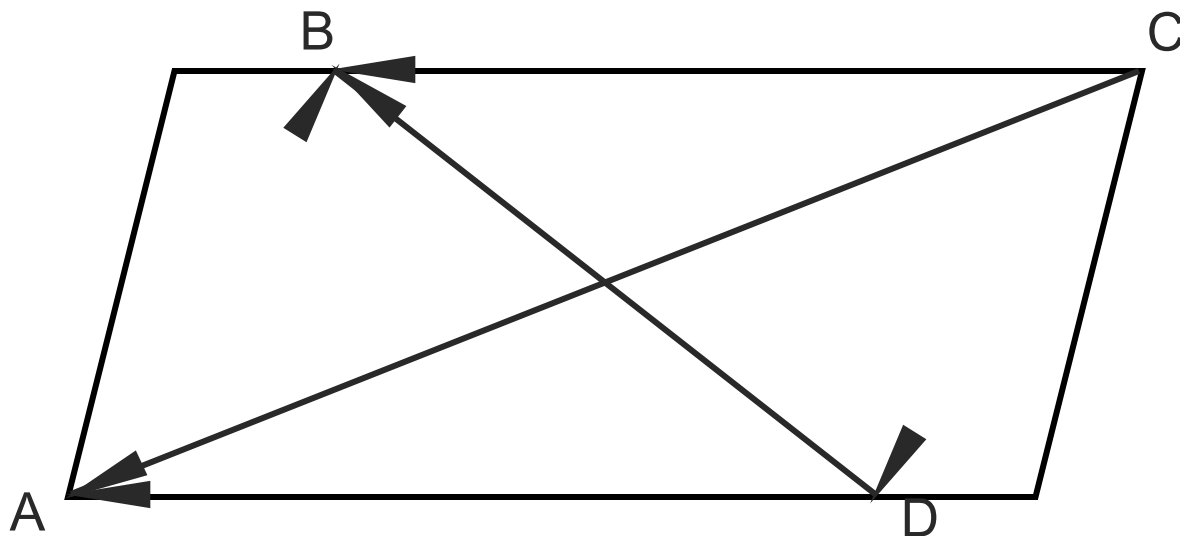


Понятие вектора

Демонстрационный материал

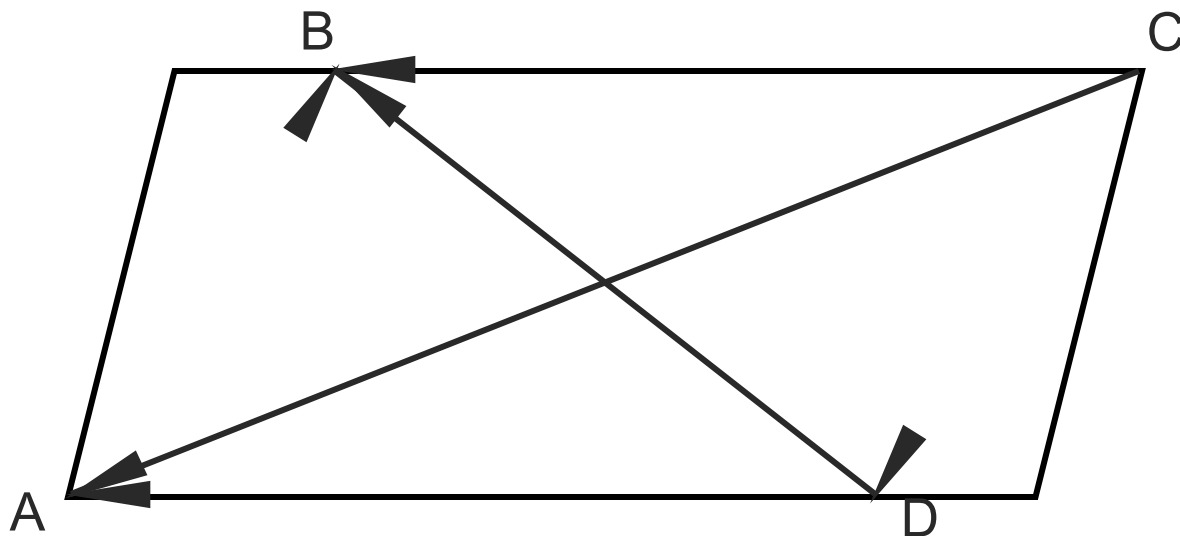
9 класс

ABCD - параллелограмм



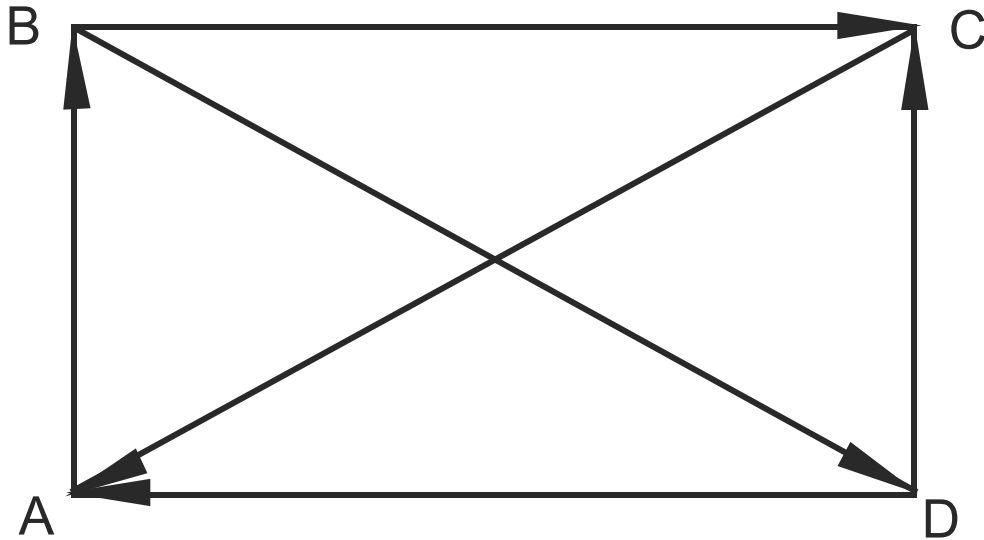
- Назовите векторы, изображенные на рисунке.
- Назовите коллинеарные векторы.
- Назовите сонаправленные векторы.
- Назовите противоположно направленные векторы.
- Назовите равные векторы.

ABCD - параллелограмм



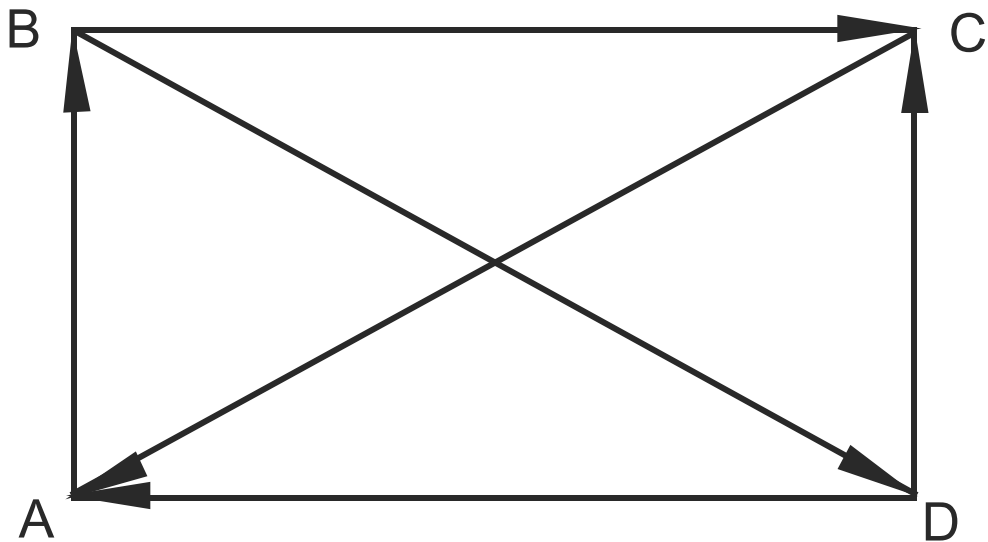
- Назовите векторы, одинаковой длины
- Назовите вектор, у которого большая длина.
- Назовите вектор, у которого меньшая длина.

ABCD - прямоугольник



- Назовите векторы, изображенные на рисунке.
- Назовите коллинеарные векторы.
- Назовите сонаправленные векторы.
- Назовите противоположно направленные векторы.
- Назовите равные векторы.

ABCD - прямоугольник



Сравните длины векторов:

$$|\overrightarrow{AB}| \text{ ? } |\overrightarrow{DC}|$$

Закреть