

Безопасное колесо

Знатоки правил дорожного движения

Тренинг 10

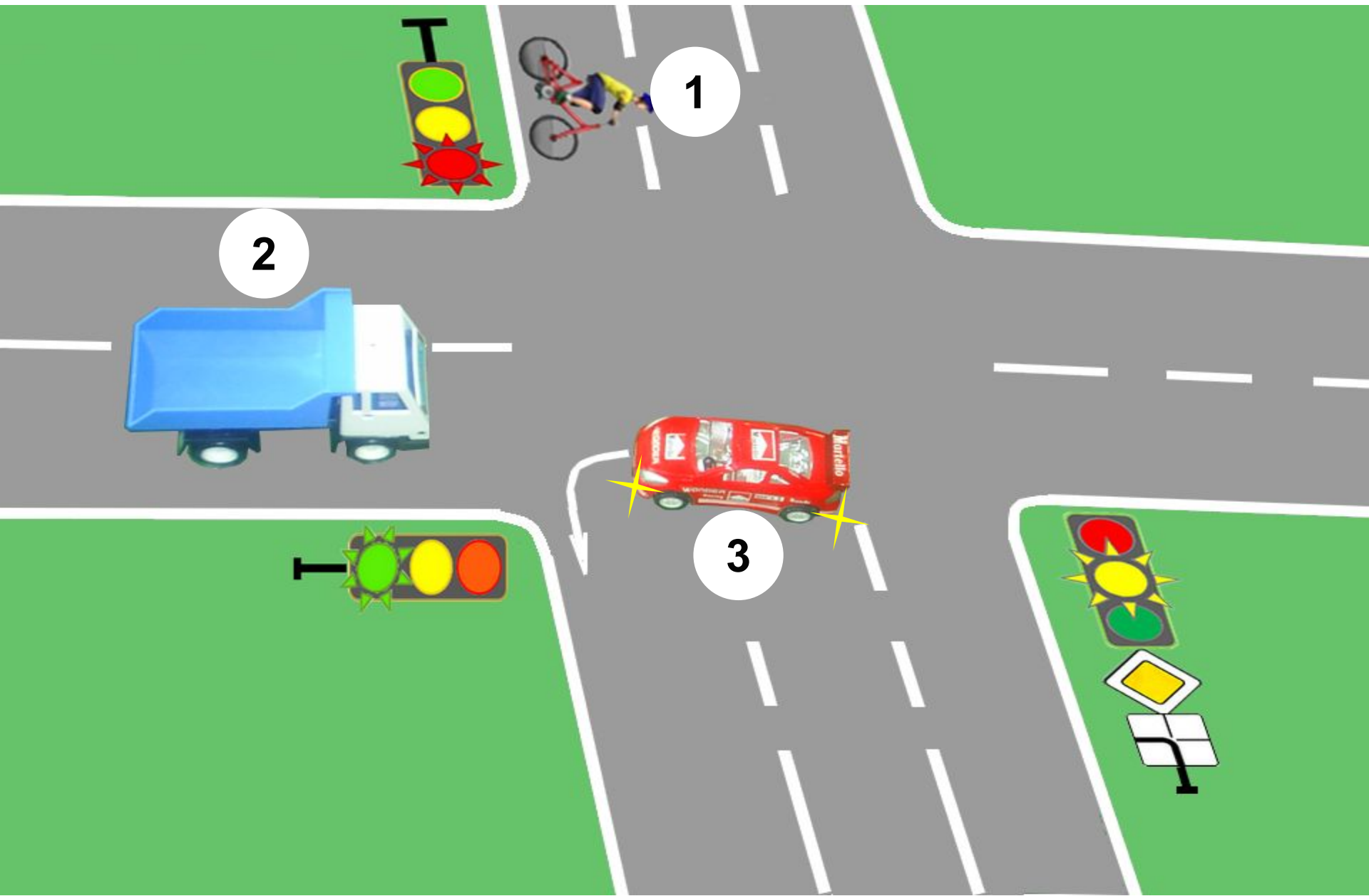
Вопрос № 1

□ Кто проедет перекресток первым?



Вопрос № 1 .

Кто проедет перекресток первым?



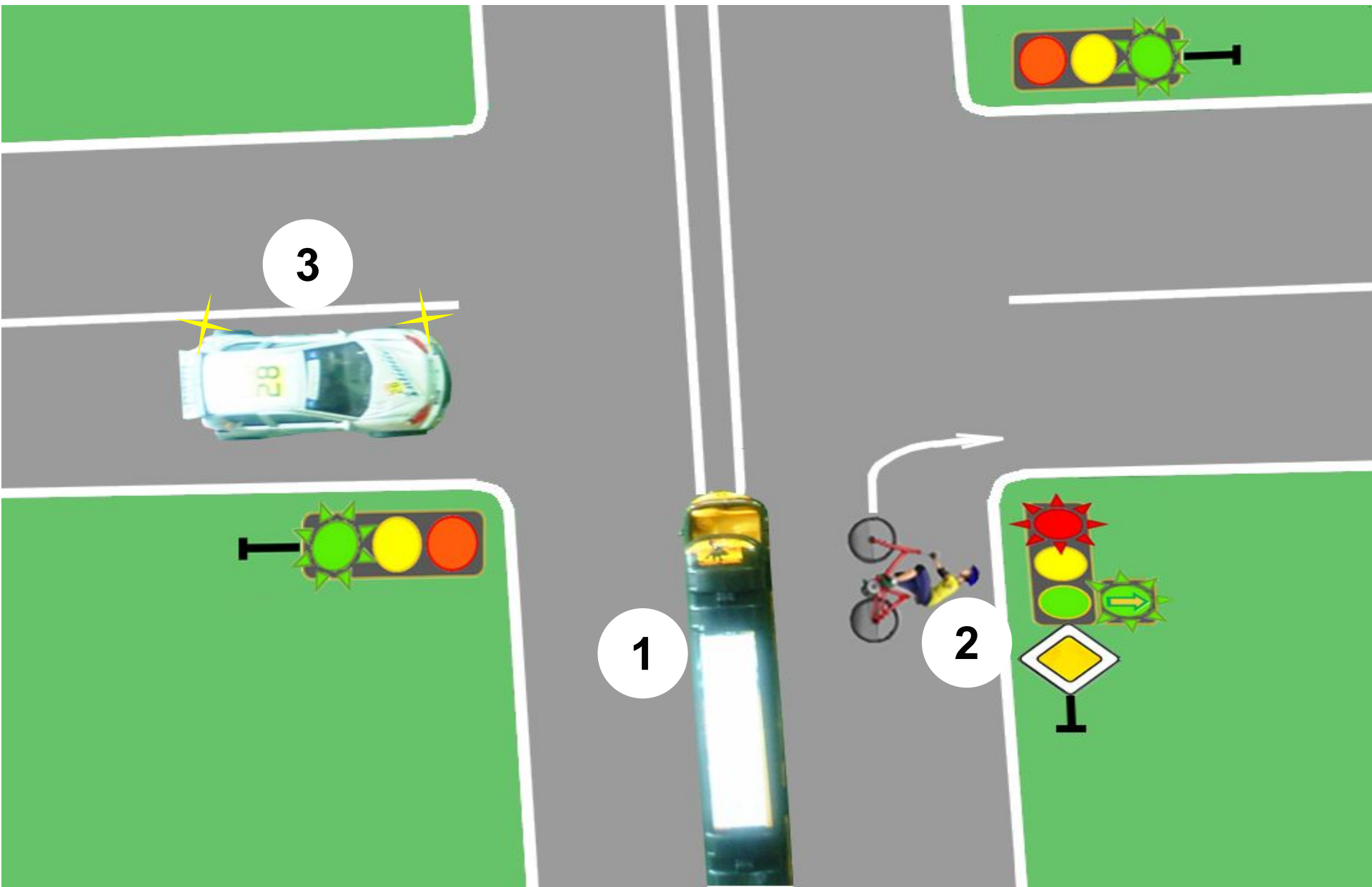
Вопрос № 2

- Определите кому движение запрещено?



Вопрос № 2 .

Определите кому движение запрещено?

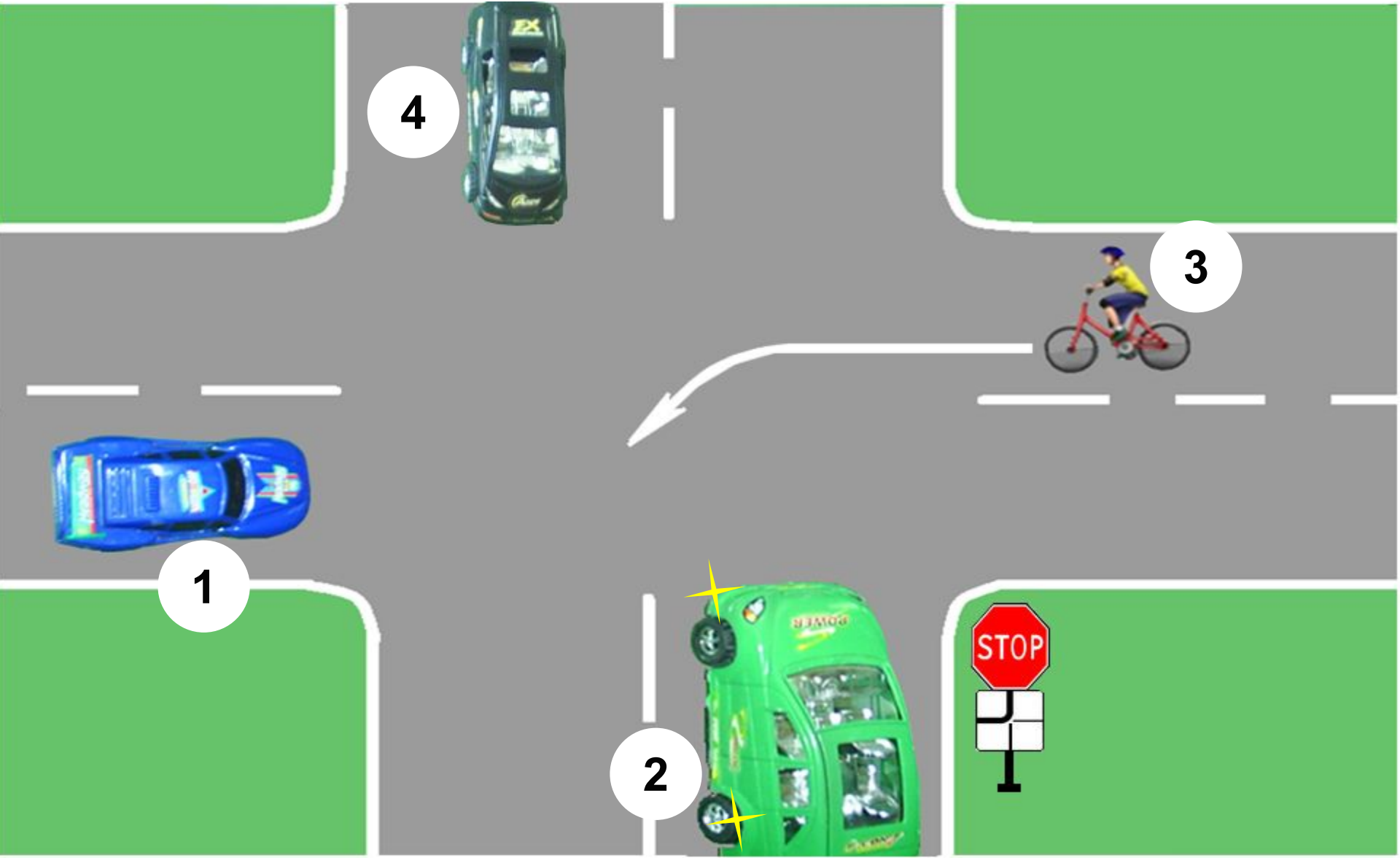


Вопрос № 3

- В какой последовательности должны проехать перекресток транспортные средства?

Вопрос № 3

В какой последовательности должны проехать перекресток транспортные средства?



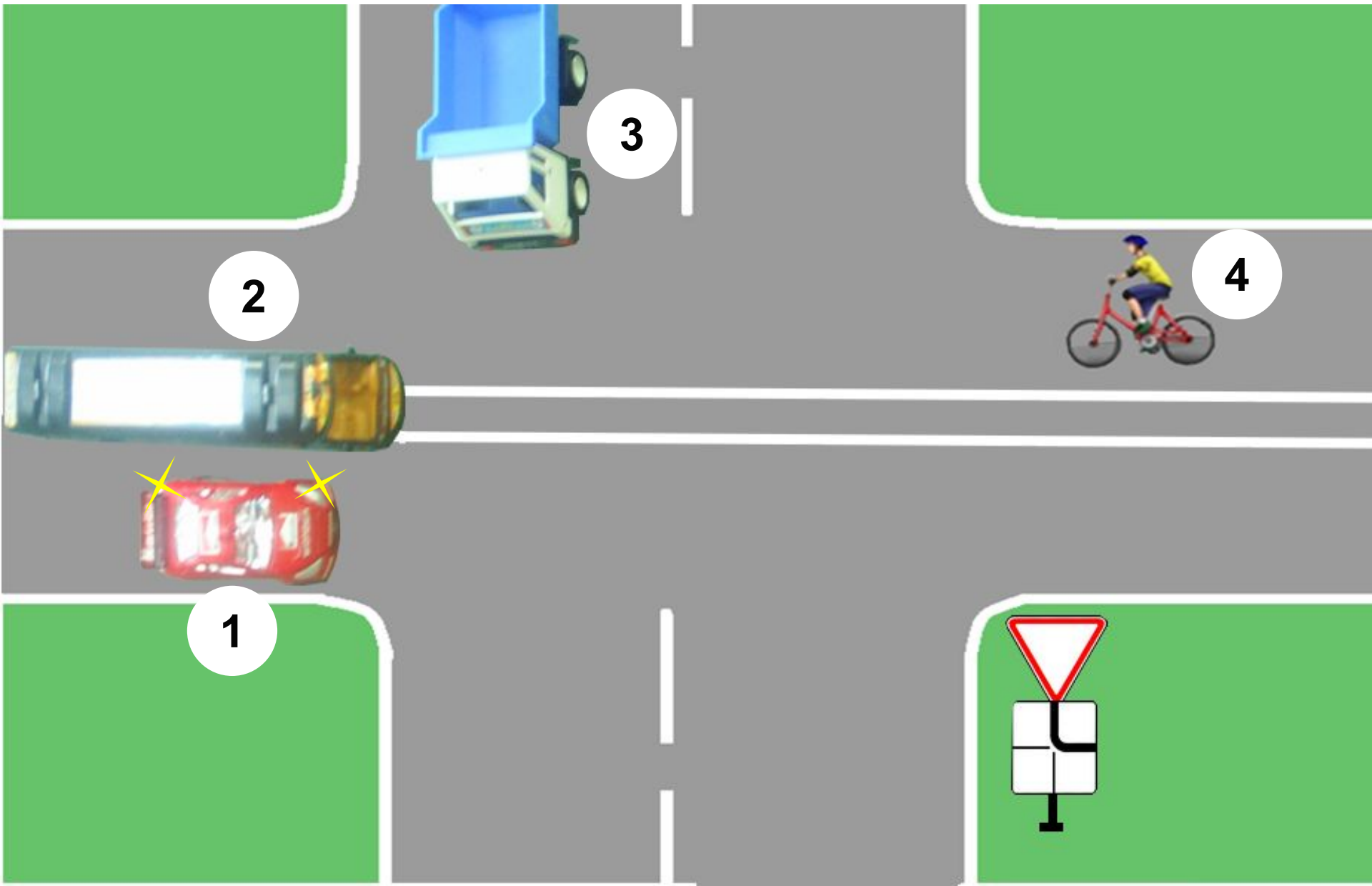
Вопрос № 4

□ Кто проедет перекресток вторым?



Вопрос № 4 .

Кто проедет перекресток вторым?

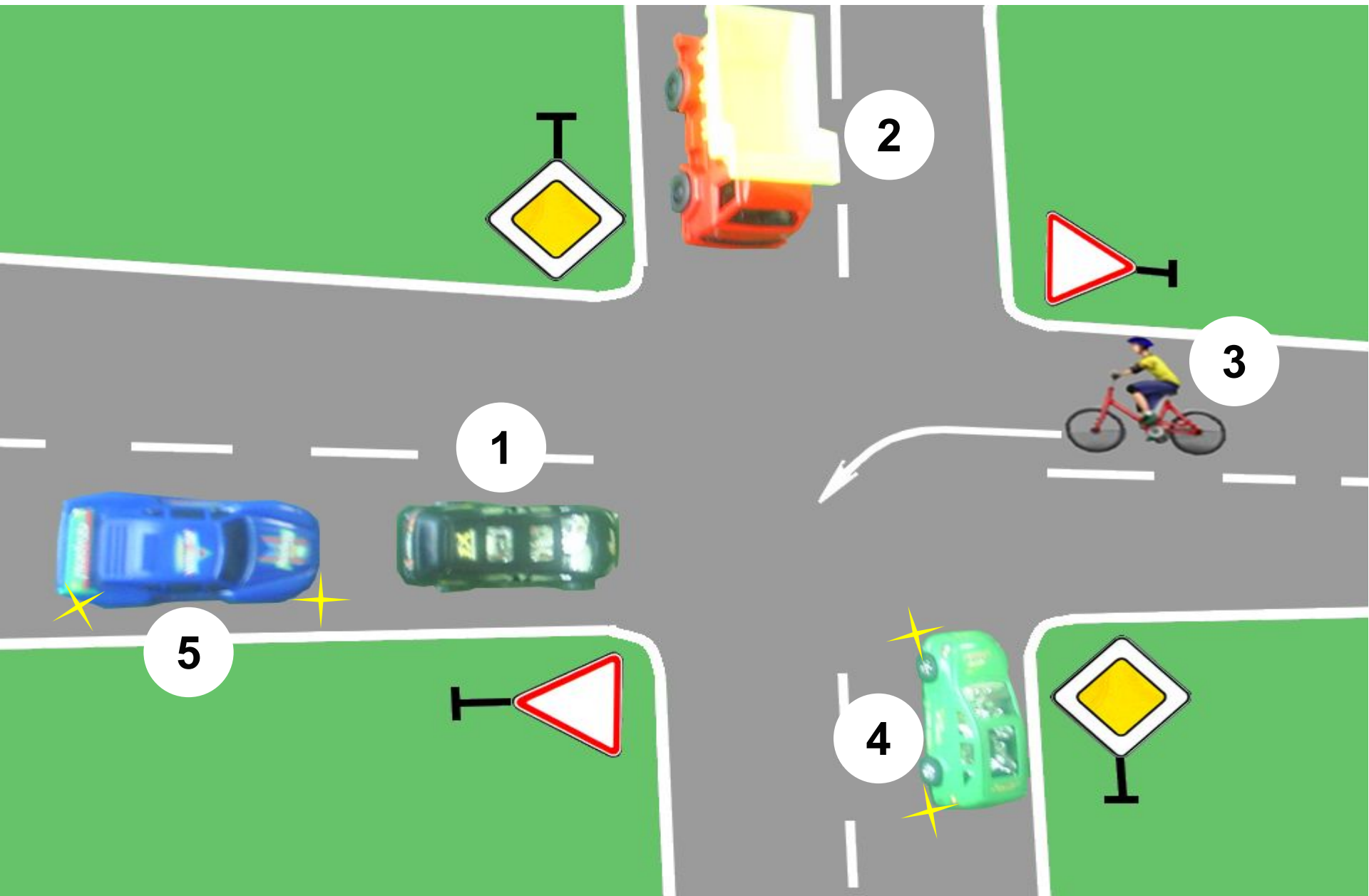


Вопрос № 5

□ Кто проедет перекресток
четвертым?



Вопрос № 5 . Кто проедет перекресток четвертым?

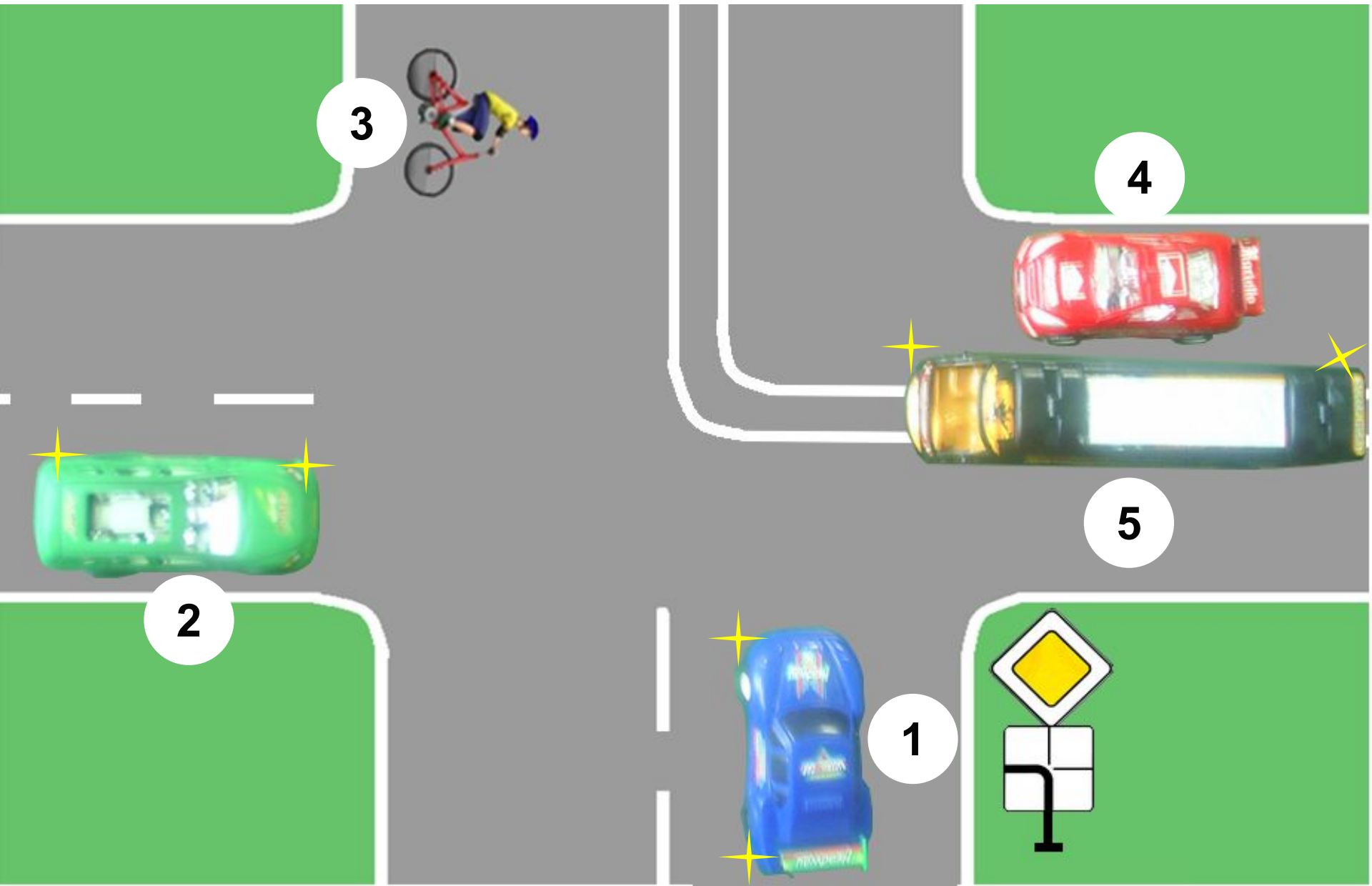


Вопрос № 6

- Определите кто проедет перекресток последним?

Вопрос № 6 .

Определите кто проедет перекресток последним?



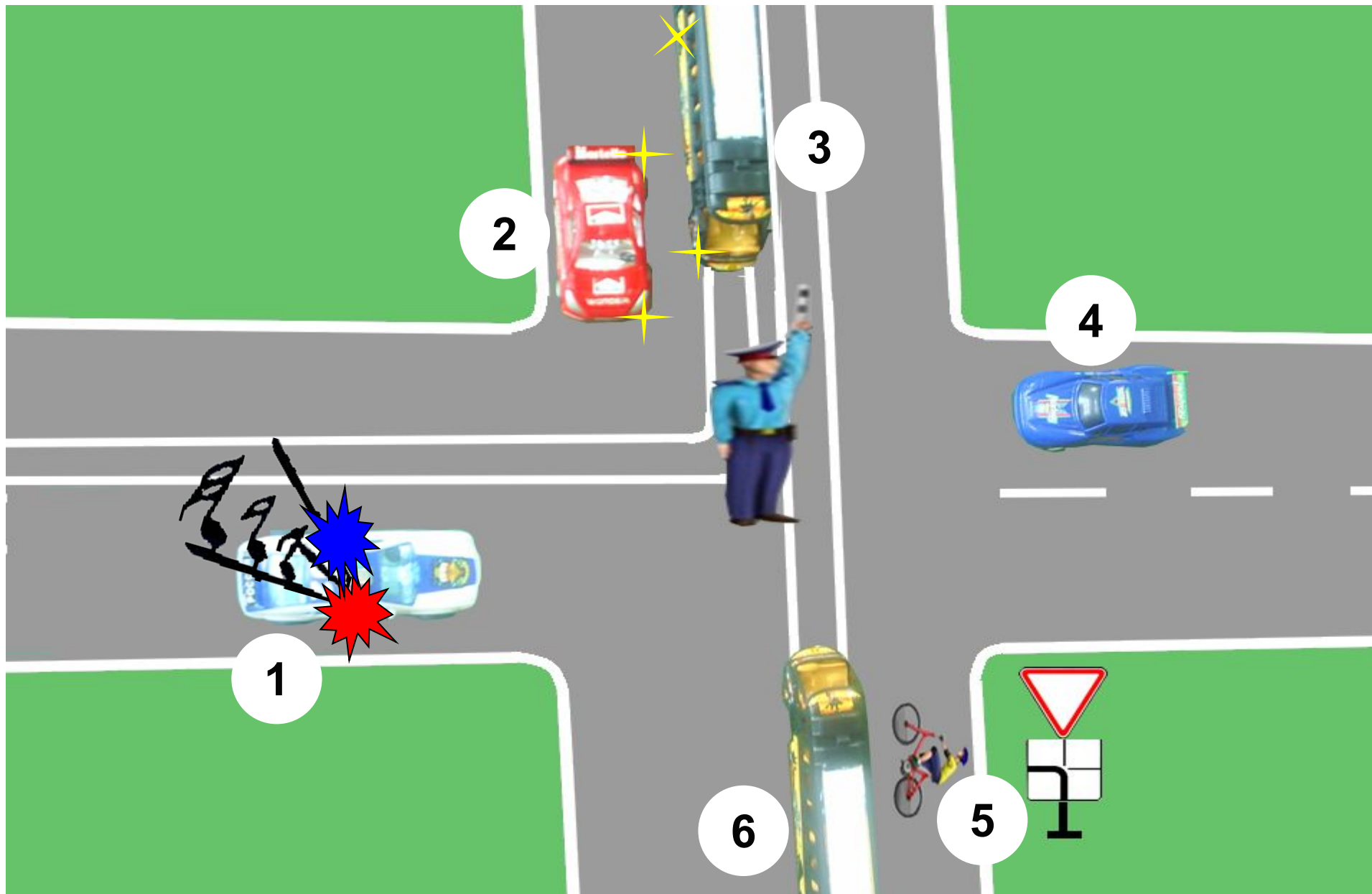
Вопрос № 7

- Определите кому движение запрещено?



Вопрос № 7 .

Определите кому движение запрещено?



Вопрос № 8

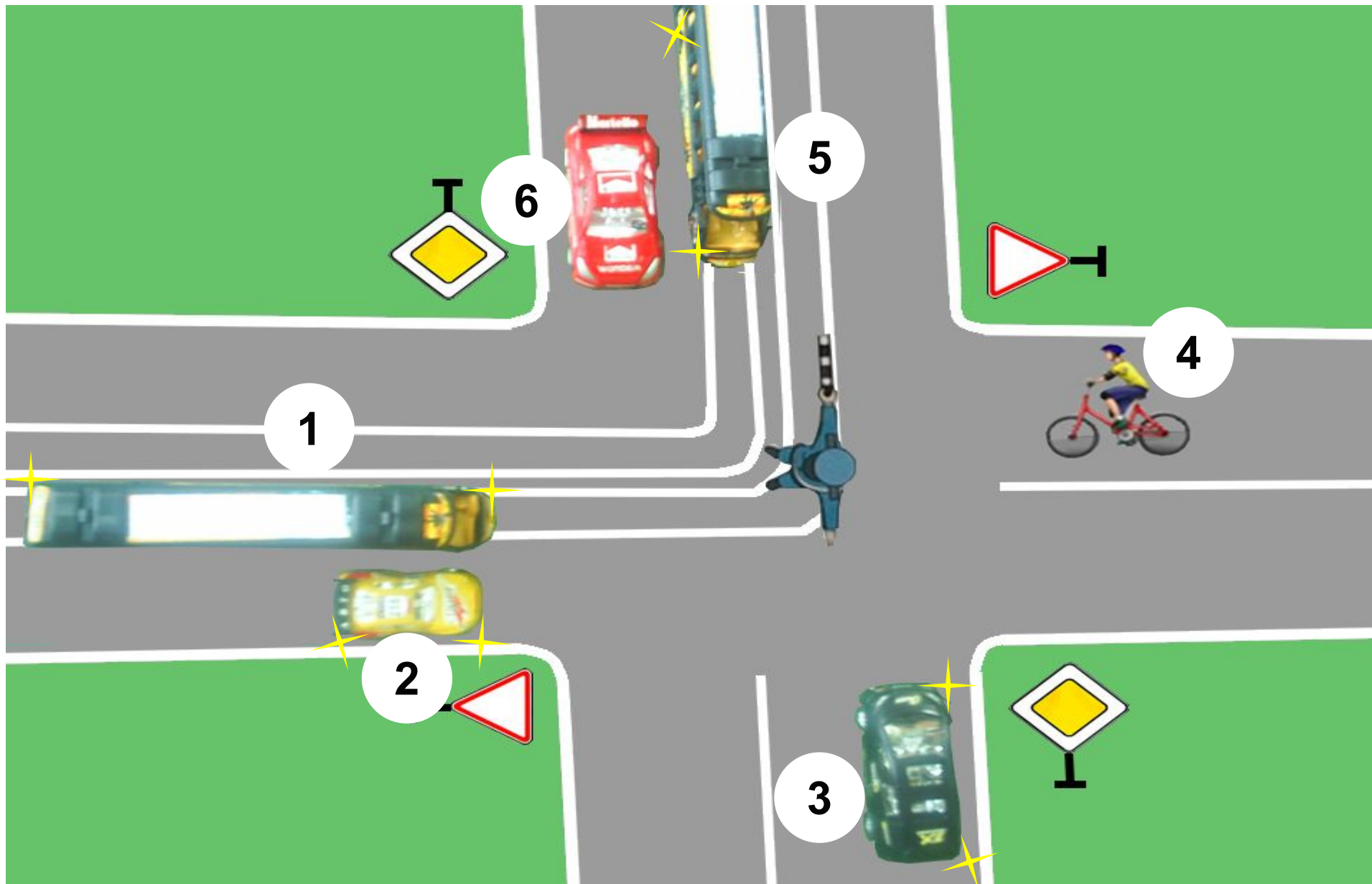


Определите кому движение разрешено?



Вопрос № 8 .

Определите кому движение разрешено?



Вопрос № 9

□ **Внимательно посмотрите на фотографию.**





УЧЕБНЫЙ ЦЕНТР
"ДЕЛЬ"
ГОРОДСКАЯ ШКОЛА
ИНФОРМАТИКИ И КОМПЬЮТЕРНЫХ ТЕХНОЛОГИЙ

АНК

ДЕЛЬ
ГОРОДСКАЯ ШКОЛА
ИНФОРМАТИКИ И КОМПЬЮТЕРНЫХ ТЕХНОЛОГИЙ

ИНГОССТРАХ
Ingosstrakh
Все виды страхования

салон цветов
Виды Цветов

ФОТО
НА ЗАКАЗ

ВАЗ

ВАЗ

ВАЗ

ВАЗ

ВАЗ

ВАЗ

ВАЗ

ВАЗ

ВАЗ

ВАЗ

ВАЗ

ВАЗ

ВАЗ

ВАЗ

ВАЗ

ВАЗ

ВАЗ

ВАЗ

ВАЗ

ВАЗ

ВАЗ

ВАЗ

ВАЗ

ВАЗ

ВАЗ

ВАЗ

ВАЗ

ВАЗ

ВАЗ

ВАЗ

ВАЗ

ВАЗ

ВАЗ

ВАЗ

ВАЗ

ВАЗ

ВАЗ

Выберите два фотофрагмента
не относящиеся к фотографии





А



Б



В



Г

Задание: уберите 2 лишних фрагмента

Варианты ответа: 1) АБ; 2) АВ; 3) АГ

Вопрос № 10

- **Внимательно посмотрите на фотографию.**





↑ 200м ↑



Формат и цвет - проблема нет!



НЕОМ

НАРЖИДАН ДАДАМ
УМУНДУГАА
УУСЭН ГРАВИЯ
СЛУБЛИ 55-300
06-96
АУТИС
PIZZA.TU



Идеально с Вами!

(3842) 39 67 11

РОСНО



kr

СЭНДВ
МЕТАЛ



ТМНО

Выберите два фотофрагмента
не относящиеся к фотографии






А



Б



В



Г

Задание: уберите 2 лишних фрагмента

Варианты ответа: 1) АВ; 2) БВ; 3) БГ

Вопрос № 11

□ Укажите дорожные знаки, у которых группы принадлежности обозначены верно?

Вопрос № 11 .

Укажите дорожные знаки, у которых группы принадлежности обозначены верно?



1

Знаки
дополнительной
информации



2

Предупреждающие
знаки



3

Запрещающие
знаки



4

Знаки
приоритета



5

Информационные
знаки



6

Знаки особых
предписаний



7

Предписывающие
знаки



8

Знаки
сервиса

Вопрос № 12

- ▣ **Выберите те дорожные знаки, которые относятся к группе знаков особого предписания?**

Вопрос № 12 .

Выберите те дорожные знаки, которые относятся к группе знаков особого предписания ?



1

2

3

4



5

6

7

8



Конец задания

ОТВЕТЫ

1. 3

2. 1

3. 1, 4, 3, 2

4. 4

5. 5

6. 4

7. 2 / 3 / 4 / 5 / 6

8. 3 / 6

9. 2 (А, В)

10. 2 (Б, В)

11. 2 / 4 / 6 / 8

12. 1 / 4 / 6 / 7