

**Математическая викторина**  
**«В гостях у мудрой совы»**  
**2 класс**



# ***Меню викторины***


- конкурс «Разминка»
- конкурс «Острый глаз»
- конкурс «Логический»
- конкурс «Отгадай ребус»
- конкурс «Математические бусы»
- конкурс «Сказочный»






# Разминка


● Около столовой, где стояли лыжники, пришедшие из похода, лежали 20 лыж, а в снег было воткнуто 26 палочек. Сколько лыжников ходило в поход? **10 лыжников**



● Десять ребят привели в школу петушка, утку, кошку и мышку. Сколько глаз у животных? **12 глаз**



● Бабушка вяжет своим внукам сапожки, варежки и перчатки. Всего она связала 12 варежек. Сколько внуков у бабушки? **3 внука**






# Острый глаз



Сколько  
треугольников  
нарисовано?

9 треугольников







# Логический




Кто старше?

Три брата - Ваня, Саша, Коля - учились в разных классах. Ваня был не старше Коли, а Саша – не старше Вани. Назовите имена старшего, среднего и младшего братьев.

Коля

Ваня

Саша






# Отгадай ребус



ЧИ



Число

О



Один

Д

„



Два





# Математические бусы



Из разных цифр я сделал бусы,  
А в тех кружках, где чисел нет,  
Расставьте минусы и плюсы,  
Чтоб данный получить ответ.

$$44 \circ 15 \circ 13 \circ 7 = 23$$

$$86 \circ 45 \circ 34 \circ 3 = 78$$





# Сказочный

• Сколько к  
у многодетн



Семеро

• у



было

Сорок

• С  
стар  
Пуш  
рыб



л старик со  
в сказке Д.О.  
о рыбаке  
Тридцать  
три