

Второй этап Республиканской олимпиады по учебному предмету «География»
2020/2021 учебный год.

МУЛЬТИМЕДИЙНЫЙ ТЕСТ

9 КЛАСС

Уважаемый участник олимпиады!

На выполнение заданий мультимедийного тура олимпиадной работы отводится 60 минут.

Ответы на задания мультимедийного теста необходимо вписать в отдельные проштампованные листы. За каждый верный ответ Вы получаете 1 балл. Частично верные ответы не засчитываются.

По результатам мультимедийного тестирования Вы можете получить максимум 30 баллов.

ЖЕЛАЕМ ТЕБЕ УДАЧИ!

1. Какой национальный парк изображен на фото?

- А) Йеллоустон, США
- Б) Парк Денали, США
- В) Эверглейдс, США
- Г) Гранд-Каньон, США



2. Как называется явление?



- А) Ирризация облаков
- Б) Гало
- В) Глория
- Г) Огни Святого Эльма

3. Этот ветер срывает с домов крыши, выбивает стекла, корчует деревья, сбрасывает с рельсов поезда. Вода в бухтах «кипит» и клокочет. Суда обволакиваются льдом и тонут, иногда ветер выбрасывает их на берег. Два-три дня свирепствует этот ветер, затем надолго затихает. О каком ветре идет речь?



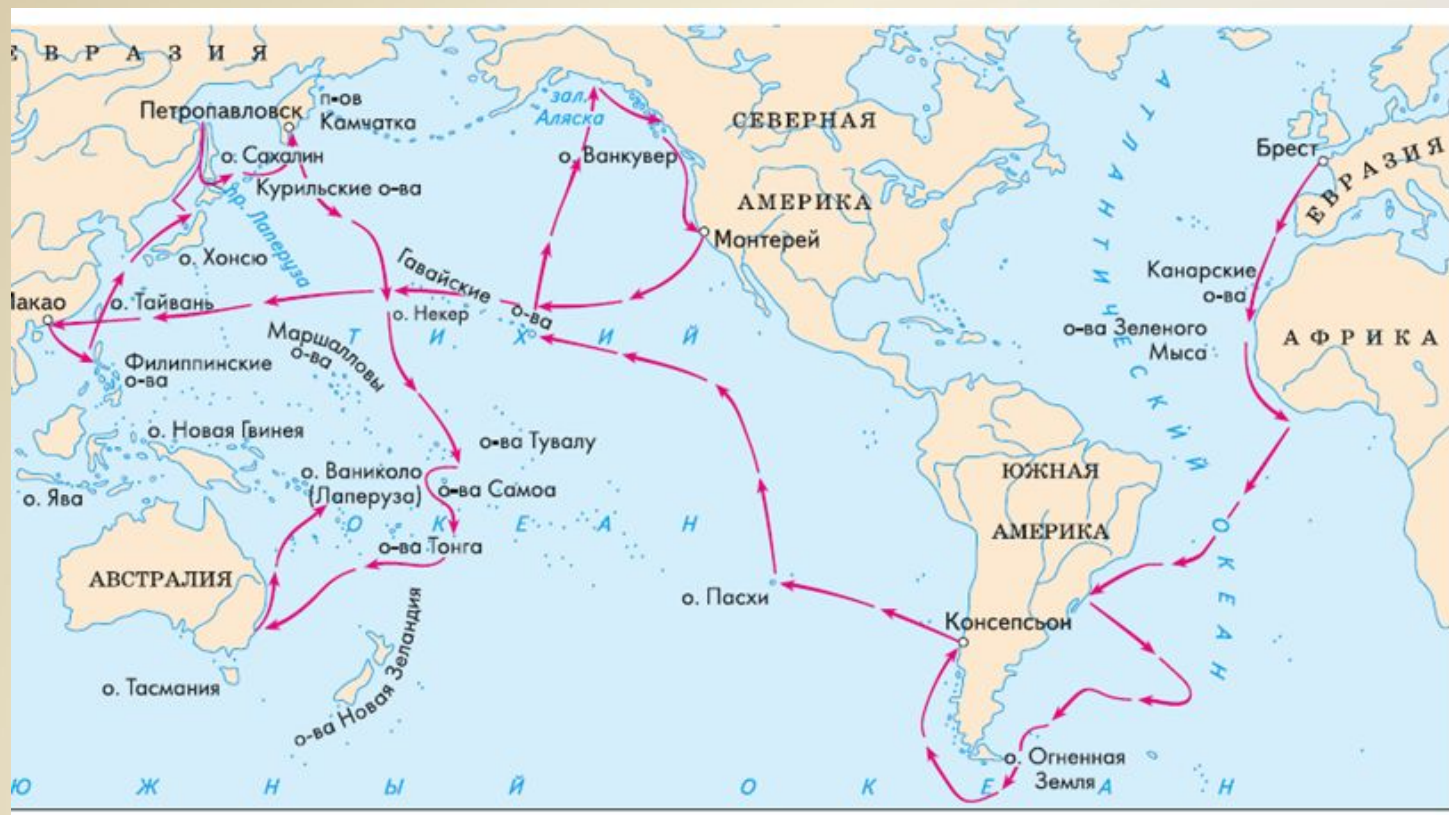
- А) Бора**
- Б) Гарбий**
- В) Трамонтана**
- Г) Харматан**

4. Какой пролив изображен на фото?



- А) Баб-эль-Мандебский**
- Б) Ормузский**
- В) Бассов**
- Г) Малаккский**

5. Маршрут какого путешественника показан на схеме?



- А) Жана Лаперуза
- Б) Фрэнсиса Дрейка
- В) Христофора Колумба
- Г) Фернана Магеллана

6. Это озеро находится на севере Италии в области Ломбардии, недалеко от границы с Швейцарией, в 40 километрах от Милана. Глубина озера достигает 410 метров. На берегу озера жил римский поэт Вергилий и великий Леонардо да Винчи. На озере сняли некоторые сцены для фильма «Звёздные войны. Эпизод II: Атака клонов», «Двенадцать друзей Оушена» и одну из частей бондианы – «Казино Рояль».




- А) Меларен**
- Б) Комо**
- В) Сайма**
- Г) Инари**

7. Индийский писатель Рабиндранат Тагор так описал мир этой природной зоны: «Трава ищет на земле толпы себе подобных; дерево ищет на небе свое одиночество».



- А) степь**
- Б) тундра**
- В) саванна и редколесья**
- Г) пустыня**

8. Это один из самых северных архипелагов нашей планеты расположен в 900 км от Северного полюса. Он состоит более чем из 190 островов. Почти весь архипелаг находится севернее 80-го градуса северной широты.



- А) Шпицберген
- Б) Северная Земля
- В) Канадский Арктический архипелаг
- Г) Земля Франца-Иосифа

9. Разрежённые заросли низкорослых вечнозелёных ксерофитных кустарников (можжевельник, розмарин, ладанник), карликовой пальмы хамеропса приземистого, кустарникового кермесового дуба, держи-дерева и многолетних трав, устойчивых к засухе (тимьяна, улекса) в районе Средиземноморья называют?..



- А) гаррига**
- Б) маквис**
- В) фригана**
- Г) шибляк**

10. Представленные на фото растения являются представителями субтропических пустынь ...



- А) Северной Америки**
- Б) Южной Америки**
- В) Африки**
- Г) Австралии**



11. Для какой зоны характерны представленные почвы



А) пустынь

Б) степей

В) саванн

Г) широколиственных лесов

12. Массовое развитие микроскопических планктонных водорослей и высшей растительности в водоемах называется

- А) дистрофирование**
- Б) заболачивание**
- В) заиление**
- Г) эвтрофирование**

13. Ученый, заложивший основы климатологии Беларуси. Под его руководством был издан в 1927 г. «Климатический атлас Беларуси», включающий 78 тематических карт. Академик НАН Беларуси.

- А) П.А. Лярский**
- Б) А.А. Смолич**
- В) Н.Т. Романовский**
- Г) И.А. Кайгородов**

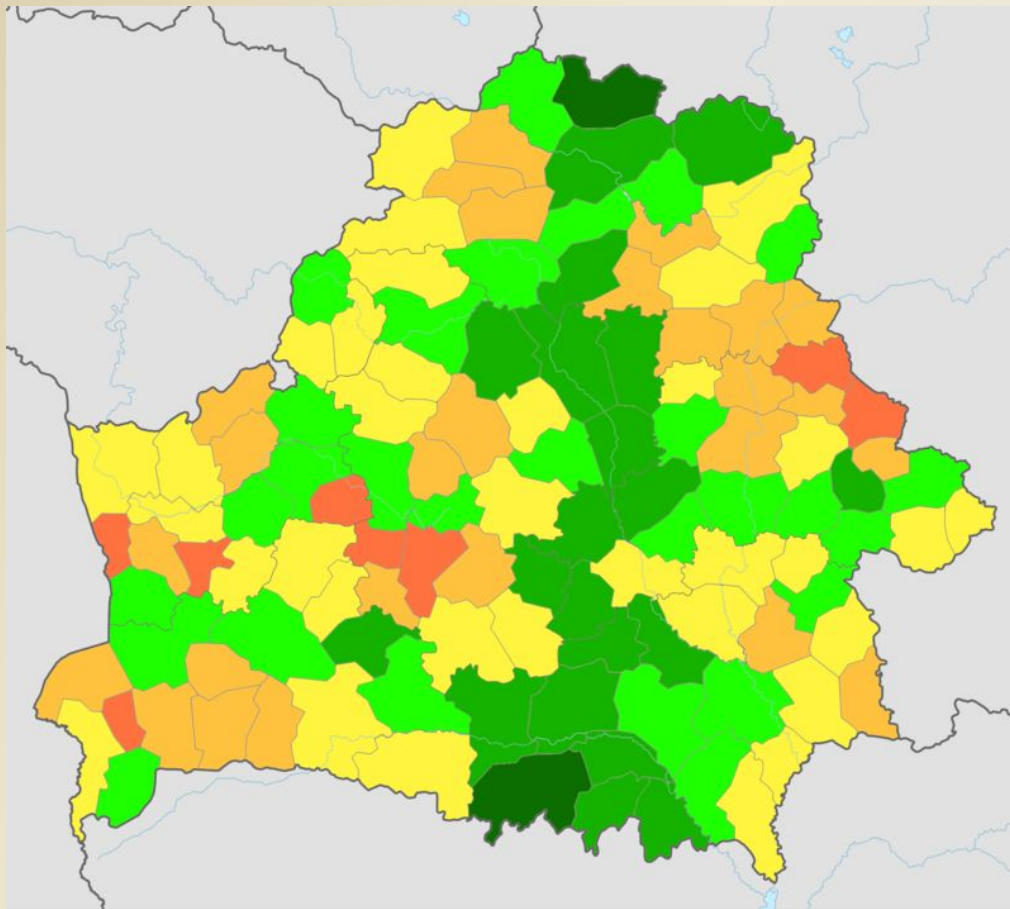


14. Какие типы почв представлены на фото почвенных разрезов?



- А) торфяно-болотные**
- Б) вулканические**
- В) аллювиальные**
- Г) мерзлотно-таежные**

15. Представленная картограмма отражает




- А) среднюю лесистость по районам**
- Б) среднюю заболоченность по районам**
- В) средний балл урожайности пахотных земель**
- Г) общий балл кадастровой оценки земель**

16. В какой пустыне находится оазис Уакачина?



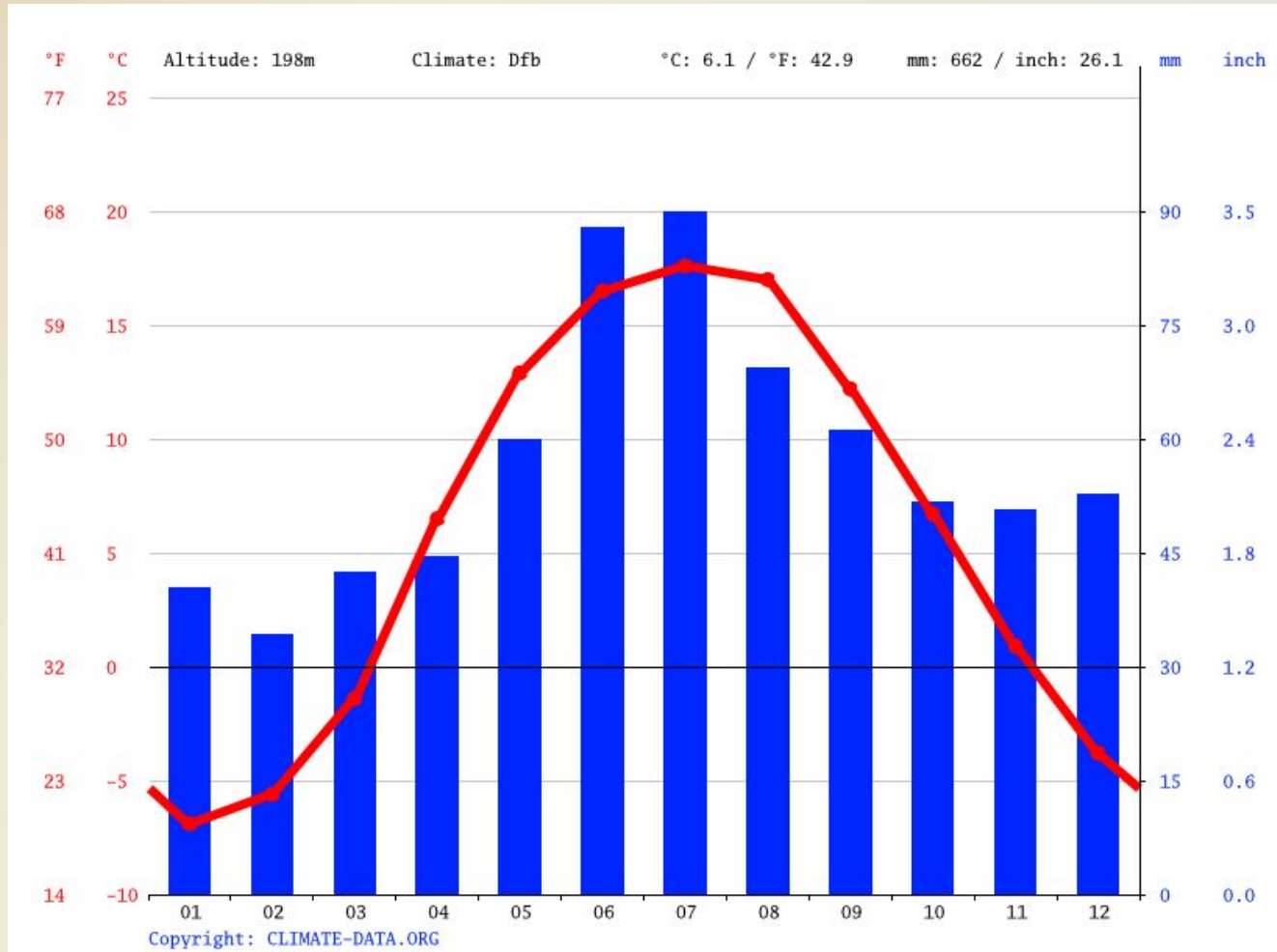
- А) Намиб**
- Б) Сечура**
- В) Сахара**
- Г) Гоби**

17. В каком городе были сделаны эти фотографии?



- А) Багдад
- Б) Тегеран
- В) Эр-Рияд
- Г) Дубай

18. Определите, для какого города характерна эта климатограмма?



- А) Минск
- Б) Париж
- В) Ванкувер
- Г) Квебек

19. В какой стране были сделаны эти фотографии?



- А) Армения
- Б) Азербайджан
- В) Грузия
- Г) Иран

20. Какая река протекает через десять государств?



- А) Нил**
- Б) Амазонка**
- В) Конго**
- Г) Дунай**

21. Этот канал, протяжённость которого 77 км, был открыт 12 июня 1920 года. Известен факт, что символическое нажатие кнопки для открытия канала произвёл 28-ой президент США Вудро Вильсона прямо из своего кабинета.



- А) Суэцкий**
- Б) Кильский**
- В) Панамский**
- Г) Коринфский**

22. Постоянным членом Совета Безопасности ООН является:

- А) Канада
- Б) Китай
- В) Япония
- Г) Германия
- Д) Италия



23. Сумма стоимости экспорта и импорта ...



А) оборот

■ Экспорт

■ Импорт

Б) ВВП

В) квота


Г) сальдо

24. Продовольственная и сельскохозяйственная организация Объединенных Наций – это:



- А) ФАО
- Б) ЮНЕСКО
- В) ВОЗ
- Г) ЮНКТАД
- Д) ЮНФПА

25. Какой стране принадлежит остров, фотографии с которого представлены на слайде?



- А) Чили
- Б) Перу
- В) Новой Зеландии
- Г) Аргентине

26. Один из 4 сахарных заводов Беларуси размещен в городе:



- А) Слуцке
- Б) Славгороде
- В) Солигорске
- Г) Светлогорске



27. Из представленных государств не имеет выхода к морю?..

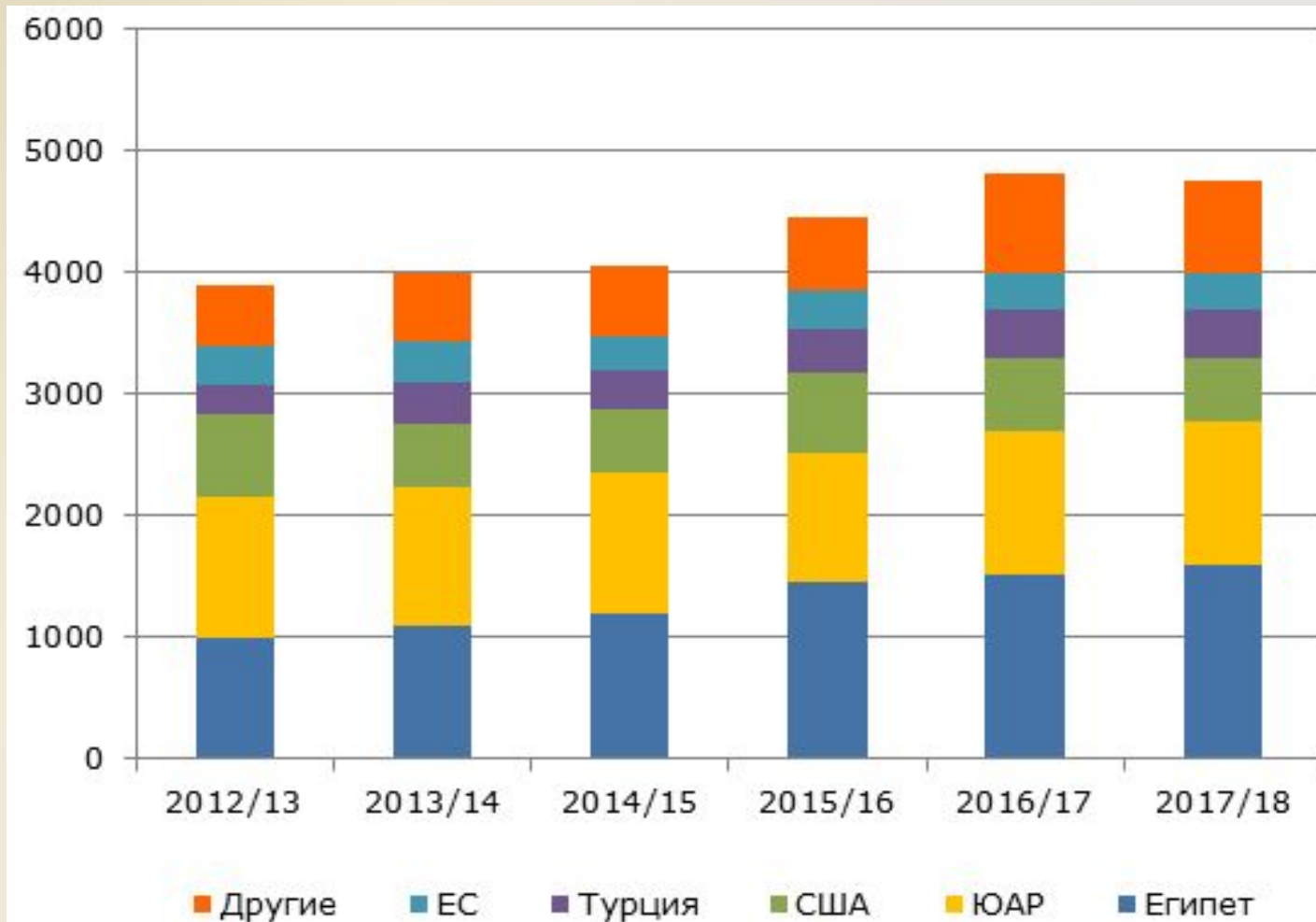


- А) Словения
- Б) Иордания
- В) Камбоджа
- Г) Лаос




28. Крупнейшим экспортером апельсинов в мире выступает:

- А) Испания
- Б) ЮАР
- В) США
- Г) Египет





29. Назовите национальную географическую школу, к которой принадлежат ученые, изображенные на фото.



- А) Французская
- Б) Немецкая
- В) Русская
- Г) Американская

30. Какая сельскохозяйственная культура изображена на фото?



- А) Пробковый дуб**
- Б) Масличная пальма**
- В) Олива**
- Г) Бананы**

Спасибо за участие