
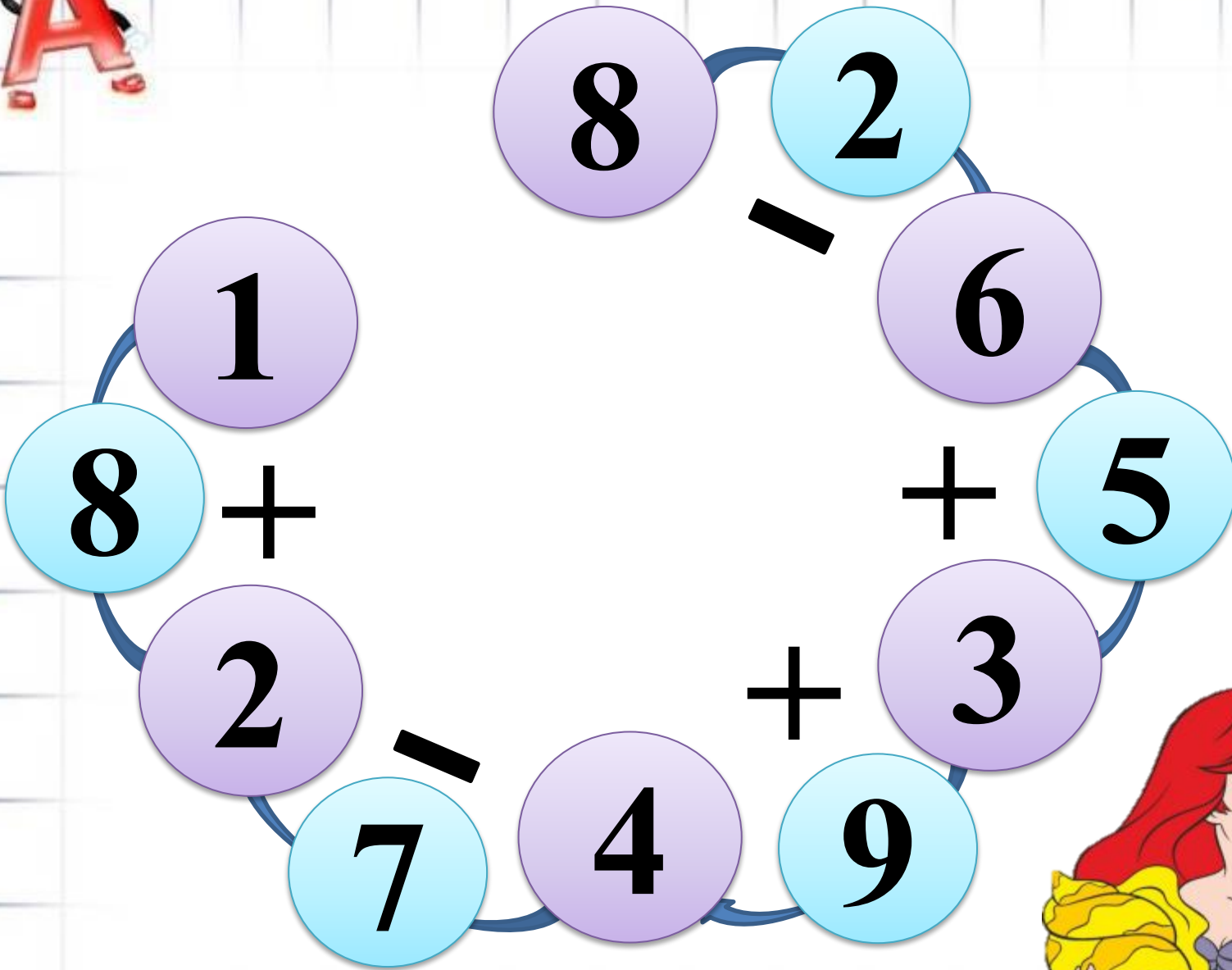




# Математика



A whimsical illustration of a fairy with large, translucent wings and braided hair, standing in a forest. She is wearing a green dress and has her hands near her face. The background features trees and a stream. A large white circle is overlaid on the image, containing the equation 10+4.
$$10+4$$






1. Найди массу в килограммах котёнка, собаки и кролика, если масса петуха — 2 кг.



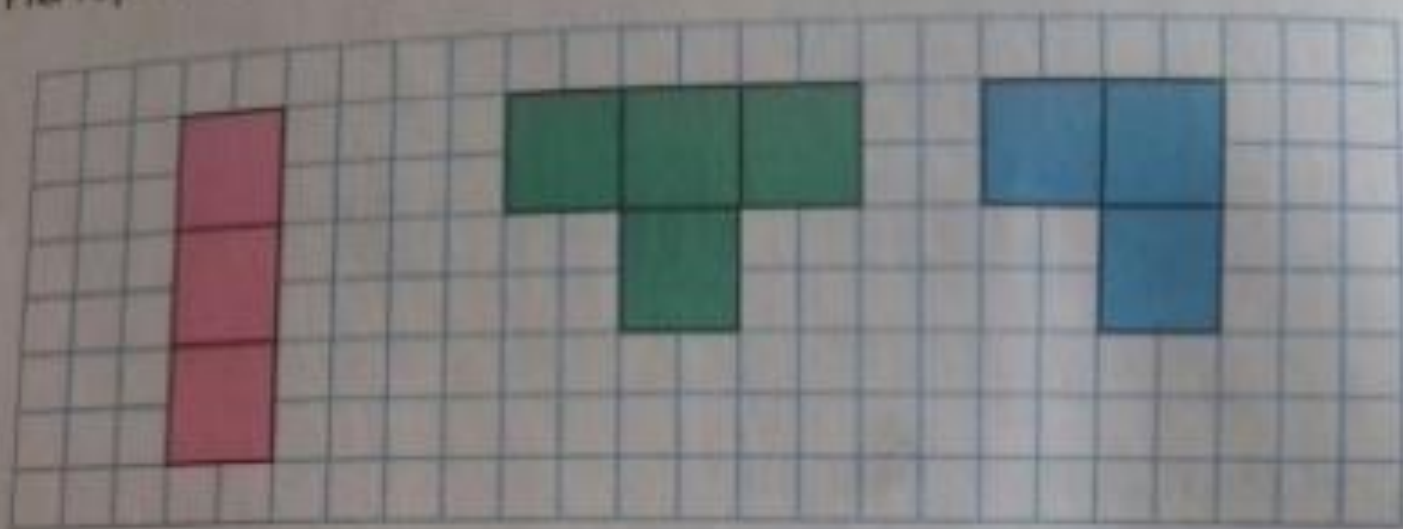
Масса котёнка —  кг.

Масса собаки —  кг.

Масса кролика —  кг.



2. Начерти в тетради такие фигуры.



Сравни все фигуры между собой.


Догадайся, сколько квадратов и как нужно до-  
рисовать к каждой фигуре, чтобы все фигуры  
отличались друг от друга только цветом.








3. Около дерева, на разном расстоянии от него, находятся волк, заяц и лиса. Рассмотрй рисунок, а затем назови пропущенные в задании названия животных.



- 1) Ближе всех к дереву находится ... .
- 2) ... находится от дерева дальше, чем ... , но ближе, чем ... .







4. Сохраняя знаки арифметических действий, переставляй числа так, чтобы получать новые.

$$3 + 4 - 7 = \square$$





$6 + 4 + = 14$        $12 - 2 - = 2$

4  
0

- 10
- 6
- 8
- 4

