

# Математика 6-7 лет

## «Счет в пределах 20 с Совёнком»



Презентацию подготовил  
воспитатели:

Урман А.В.

Смирнова Е.С.

## ***ЗАДАЧИ:***

- Закреплять знания цифр первого десятка, чисел второго десятка, прямой счёт до 20.
- Продолжать учить решать математические примеры.
- Развивать логическое мышление, зрительную память, внимание.

# Посчитай вместе с совенком от 1 до 10

1

2

3

4

5

6

7

8

9

10



А теперь от 10 до 20

10

11

12

13

14

15

16

17

18

19

20





# Поставь числа в порядке возрастания



(проговори, щёлкни мышкой и увидишь правильный  
ответ)


**5, 1, 4, 2, 3, 0**

**0 1 2 3 4 5**

# Математические цепочки

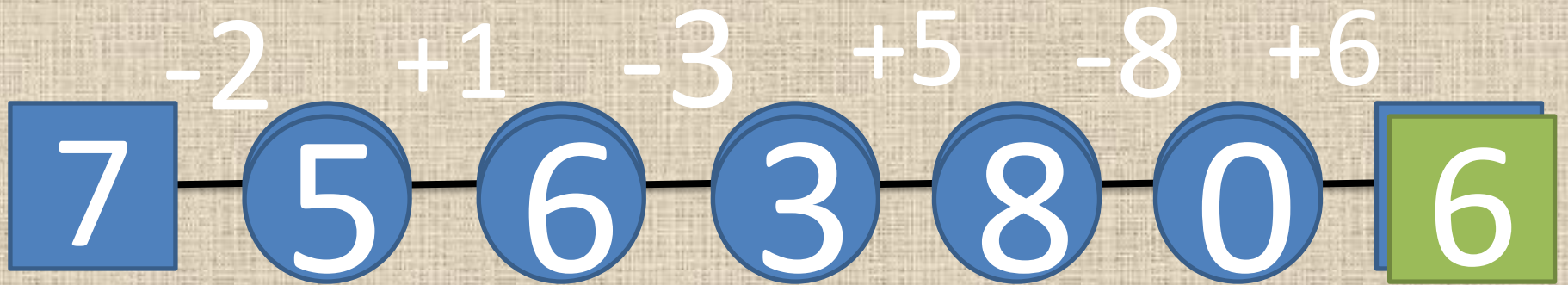


(считай каждое действие по порядку, щёлкай мышкой в окошко и проверяй себя)







# Математические цепочки





# Игровое упражнение «Помогите утятам»

У двух уток, двух соседок,  
Вышла ссора из-за деток:  
На лужайке утром этим  
Перепутались все дети.





# Игровое упражнение «Помогите утятам»



(посчитай, назови правильный ответ и нажми на овал)

$5+5$

$7+2$

$6+3$

$8+2$


$5+4$

$9+1$


$6+4$

$4+3$

$7+3$



10



9

# Игровое упражнение «Зайки на лужайке»



Крошки-зайки на лужайке  
Тёплым солнечным деньком  
Собирали землянику  
И несли корзины в дом.  
Но зайчишки-шалунишки  
Не подумали о том,  
Что корзиночки у мамы  
Все с каким-то номерком.  
Что же делать? А всё просто!  
Номерок-помощник вам:  
Столько ягодок положим,  
Сколько он покажет вам!







Посчитай и нажми на клубничку



$7+2$



$5+3$



$10-1$



$5+4$



$7+1$



$10-2$



9



$7+3$



10



$4+4$



8



$7+0$



$6+4$










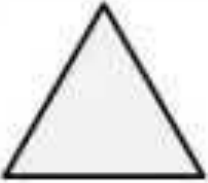
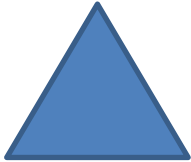















$6+3$

# Игра «Чего не хватает»

На поле пропущены геометрические фигуры разного цвета, подумай какую фигуру по цвету ты поставишь в окошечко.  
(Расставляй фигуры в окошки по порядку от 1 до 8. Называй и нажимай на ячейку)



				
		1 		2 
	3 		4 	
		5 	6 	
	7 			8 

Молодец!  
Ты справился со всеми  
заданиями!

