

24

10 11 13 сентябрь..

я.

Найди закономерность и продолжи
числовой ряд.



УРАВНЕНИЕ

УРОК 12

- ЭТО _____ С _____.

3*

Найди уравнения и отметь их знаком ✓.

$5 + x = 9$

$a - 4 = 2$

$3 + 2 = 5$

$x - 7$

$6 = m - 3$

$x + 7 < 9$



Алгоритм решения уравнения

Выделю целое и части.

Нам неизвестно...

Чтобы найти..., нужно..

Найду неизвестное число.

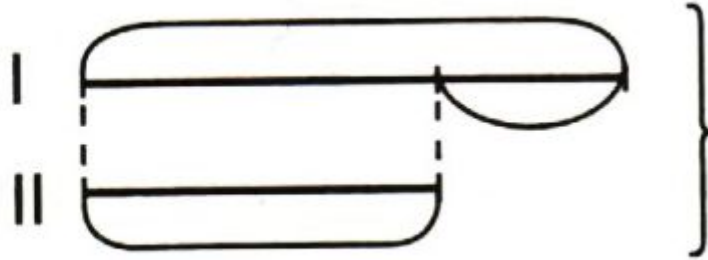
Подчеркну ответ.

Выполню проверку.

5

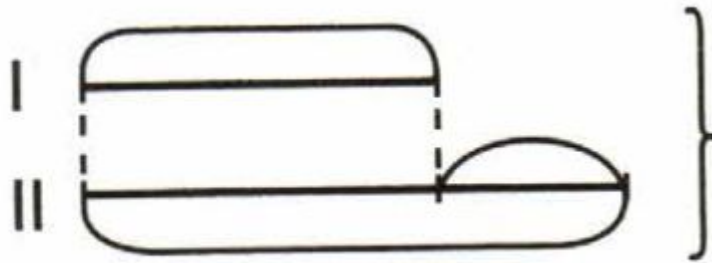
УРОК 11

В первом кувшине было 3 л молока, а во втором – на 1 л молока меньше, чем в первом. Сколько литров молока в двух кувшинах вместе?



6

В первой коробке 2 кг конфет, а во второй – на 2 кг больше, чем в первой. Сколько килограммов конфет в двух коробках вместе?



Самостоятельная работа

1

1. Реши уравнения.

а) $\triangle \triangle \triangle \triangle \triangle + x = \triangle \triangle \triangle \triangle \triangle \triangle \triangle$

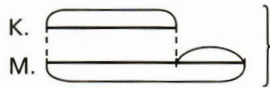
$x =$

$x =$



б) $x + 3 = 9$

2. Коля загадал Маше 3 загадки, а Маша Коле – на 2 загадки больше. Сколько всего загадок загадали друг другу Маша и Коля?



1)

2)

Ответ:

2

1. Реши уравнения.

а) $x + \triangle \triangle \triangle \triangle \triangle = \triangle \triangle \triangle \triangle \triangle \triangle \triangle$

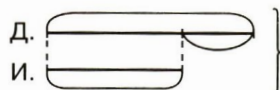
$x =$

$x =$



б) $1 + x = 8$

2. Дима купил 4 марки, а Ира – на 1 марку меньше. Сколько всего марок купили Дима и Ира вместе?



1)

2)

Ответ: