


# Урок математики

## 21.09



# Проверим ваши знания

$$30 \text{ мм} = 3 \text{ см}$$

$$50 \text{ мм} = 5 \text{ см}$$

$$80 \text{ мм} = 8 \text{ см}$$

$$7 \text{ см } 2 \text{ мм} = 72 \text{ мм}$$

$$7 \text{ см} = 70 \text{ мм}$$

$$9 \text{ см} = 90 \text{ мм}$$

$$2 \text{ см} = 20 \text{ мм}$$



# Единицы измерения длины:

ММ

СМ

ДМ

М

Тема урока

Метр




**Запомни!**

$$1 \text{ м} = 10 \text{ дм}$$



$$1 \text{ дм} = 10 \text{ см}$$

$$1 \text{ м} = 100 \text{ см}$$



Что можно  
измерить при  
помощи метра?

Высоту дома, ширину комнаты,  
длину коридора и многое другое.



**Выполни письменно в своей тетради**

**№ 2 из учебника на стр. 13**

**Проверяем**

**1 м**

**>**

**99 см**

**1 м**

**=**

**100 см**

**1 м**

**>**

**9 дм**

**1 дм**

**=**

**100 мм**

**10 см**

**<**

**1 м**

**1 см**

**=**

**10 мм**

Выполни письменно в своей тетради  
№ 3 из учебника на стр. 13

4

7

0

Проверяем

47


40

70

74

44

77



Выполни письменно № 4 из своего  
учебника на стр. 13

Проверяем

1 сказка

40 стр.

2 сказка


60 стр.

?

1)  $40 + 20 = 60$  (стр.)

2)  $40 + 60 = 100$  (стр.)

Ответ: 100 страниц занимают обе  
сказки.





Сегодня ты  
познакомился с ещё  
одной единицей  
измерения длины.  
Дальше тебя ждет  
еще много нового и  
увлекательного!

