

Урок математики

2 класс

УМК «Школа России»



Тема урока:

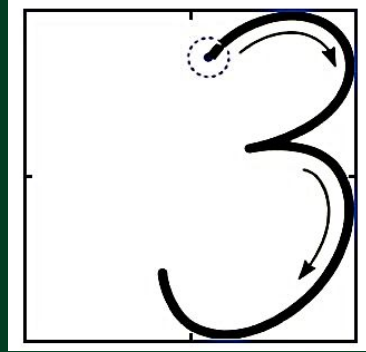
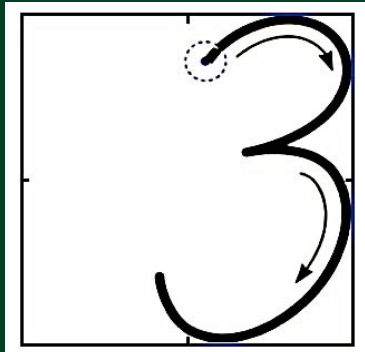
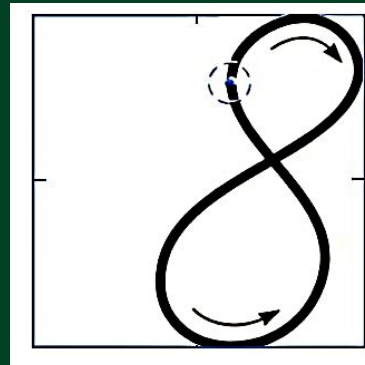
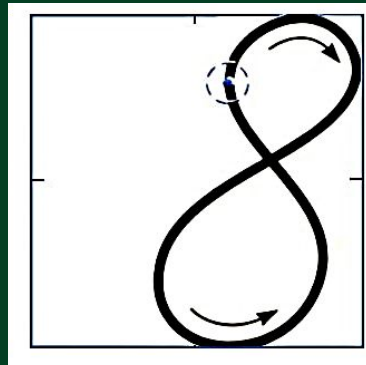
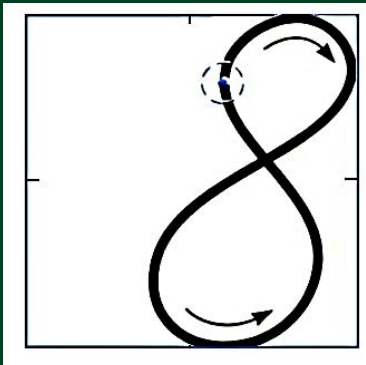
Что узнали. Чему научились

Учебник с. 40-41



15 февраля

Классная работа



Работа с учебником с. 40

2.

a	28	36	17	54
$a + 9$	37	45	26	63

b	64	43	52	76
$b - 8$	56	35	44	68

Работа с учебником с. 40

4. Выпиши уравнения, решением которых является число 7.

$$15 - x = 8$$

$$13 - x = 7$$

$$x + 40 = 47$$

$$21 - x = 20$$

$$14 - x = 7$$

$$17 - x = 10$$

$$15 - x = 5$$

$$16 - x = 9$$

$$27 - x = 20$$

$$\begin{aligned} 15 - x &= 8 \\ x &= 15 - 8 \\ x &= 7 \\ 15 - 7 &= 8 \\ 8 &= 8 \end{aligned}$$

$$\begin{aligned} x + 40 &= 47 \\ x &= 47 - 40 \\ x &= 7 \\ 7 + 40 &= 47 \\ 47 &= 47 \end{aligned}$$

$$\begin{aligned} 14 - x &= 7 \\ x &= 14 - 7 \\ x &= 7 \\ 14 - 7 &= 7 \\ 7 &= 7 \end{aligned}$$

$$\begin{aligned} 17 - x &= 10 \\ x &= 17 - 10 \\ x &= 7 \\ 17 - 7 &= 10 \\ 10 &= 10 \end{aligned}$$

$$\begin{aligned} 16 - x &= 9 \\ x &= 16 - 9 \\ x &= 7 \\ 16 - 7 &= 9 \\ 9 &= 9 \end{aligned}$$

$$\begin{aligned} 27 - x &= 20 \\ x &= 27 - 20 \\ x &= 7 \\ 27 - 7 &= 20 \\ 20 &= 20 \end{aligned}$$

Работа с учебником с. 41

$$\begin{array}{lll} 6. & 80 - (24 \overset{18}{-} 6) = 62 & 48 + (13 \overset{20}{+} 7) = 68 & 89 - (64 \overset{60}{-} 4) = 29 \\ & 90 - (36 \overset{28}{-} 8) = 62 & 34 + (18 \overset{20}{+} 2) = 54 & 75 - (37 \overset{30}{-} 7) = 45 \end{array}$$

10. В одной группе детского сада было 20 детей, а в другой — на 3 ребёнка меньше. Сколько всего детей было в двух группах?

Задача 10

I. - 20 д.
II. - ?, на 3 р. < } ?

1) $20 - 3 = 17$ (д.) — в другой группе

2) $20 + 17 = 37$ (д.) — всего было в двух группах

Ответ: 37 детей.

Работа с учебником с. 41

11. Книга стоит \square р., пенал — на 10 р. дороже книги, а альбом на 5 р. дешевле пенала. Сколько стоит альбом?
Дополни задачу и реши её.

Задача 11

К. — 54 р.

П. - ?, на 10 р. >

Ал. — ?, на 5 р. <

1) $54+10=64$ (р.) — стоит пенал

2) $64-5=59$ (р.)

Ответ: 59 р. стоит альбом.

Дом. зад. С. 41 №12, с.40 №7

✓ 12. Утром в отделе игрушек было 12 легковых машинок и 20 грузовых. За день было продано 8 легковых и 12 грузовых машинок. Сколько легковых и сколько грузовых машинок осталось?

✓ 7. $8 + 7 - 6$
 $4 + 9 - 7$

$$12 - 7 + 9$$
$$16 - 8 + 9$$

$$6 + 6 - 8$$
$$7 + 7 - 5$$

Спасибо за урок!

