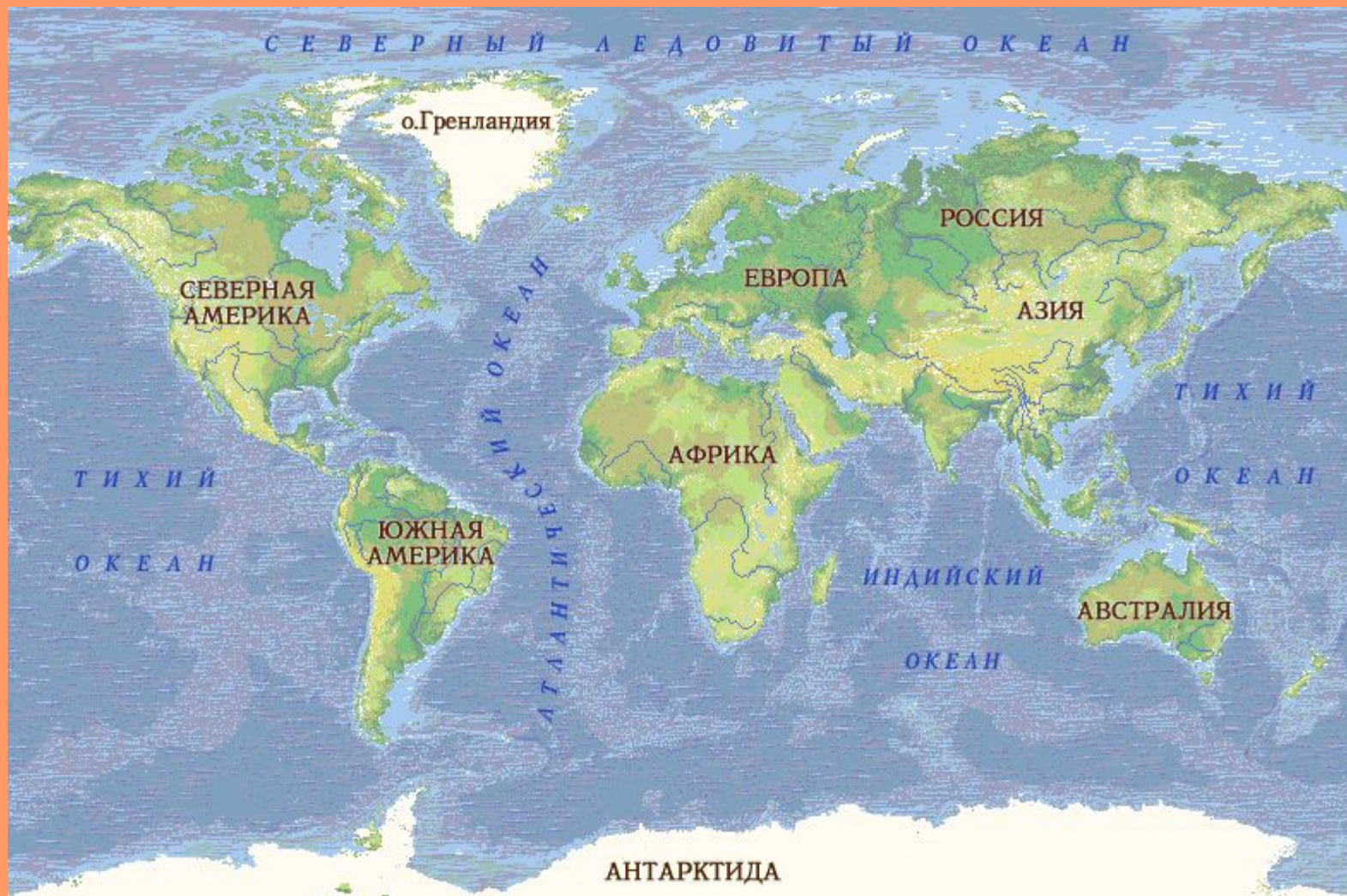


Урок по географии в 7 классе.

Тема: ГП Австралии.



Выполнила: учитель
географии МБОУ
Яминской СОШ
Рябова Надежда
Владимировна



**Австралия – наименьший из материков.
Приблизительно 50 млн. лет назад он отделился от
континента Гондвана и с тех пор существует в изоляции.**



Вести о «южной земле», открытой голландскими моряками, дошли до Европы в начале 17 века. Первооткрыватели назвали ее Новая Голландия. В 1770 г. к ее ю-в побережью приблизилась кругосветная экспедиция Джеймса Кука. Он назвал землю в память об Англии Новым Южным Уэльсом.

Австралия в переводе с латинского языка означает «южная», такое имя дал

гигантскому острову спутник Кука натуралист Фостер. Позже Австралию признали материком.

Географическое положение Австралии



Страна расположена на материке Австралия между Индийским и Тихим океанами и на многочисленных островах. Кроме того, Австралии принадлежит антарктическая территория (сектор Антарктиды – 6,1 млн. кв. км).

к востоку от Гринвича

180°

Южный тропик



120° 135° 150° 165° 180° 165° 1:60 000 000



1:60 000 000

в 1 см 600 км

Крайние точки Австралии

Северная – мыс Йорк	11° ю. ш., 143° в. д.;
Южная – мыс Юго- Восточный	38° ю. ш., 147° в. д.;
Западная – мыс Стип-Пойнт	26° ю. ш., 114° в. д.;
Восточная – мыс Байрон	28° ю. ш., 154° в. д.

Первооткрыватели материка



Виллем Янсзон



Абель Тасман



Абель Тасман в середине XVII века описал берега континента от мыса Йорк до Южного тропика. Тасман доказал, что Австралия – самостоятельный материк. В то время его называли новой Голландией.

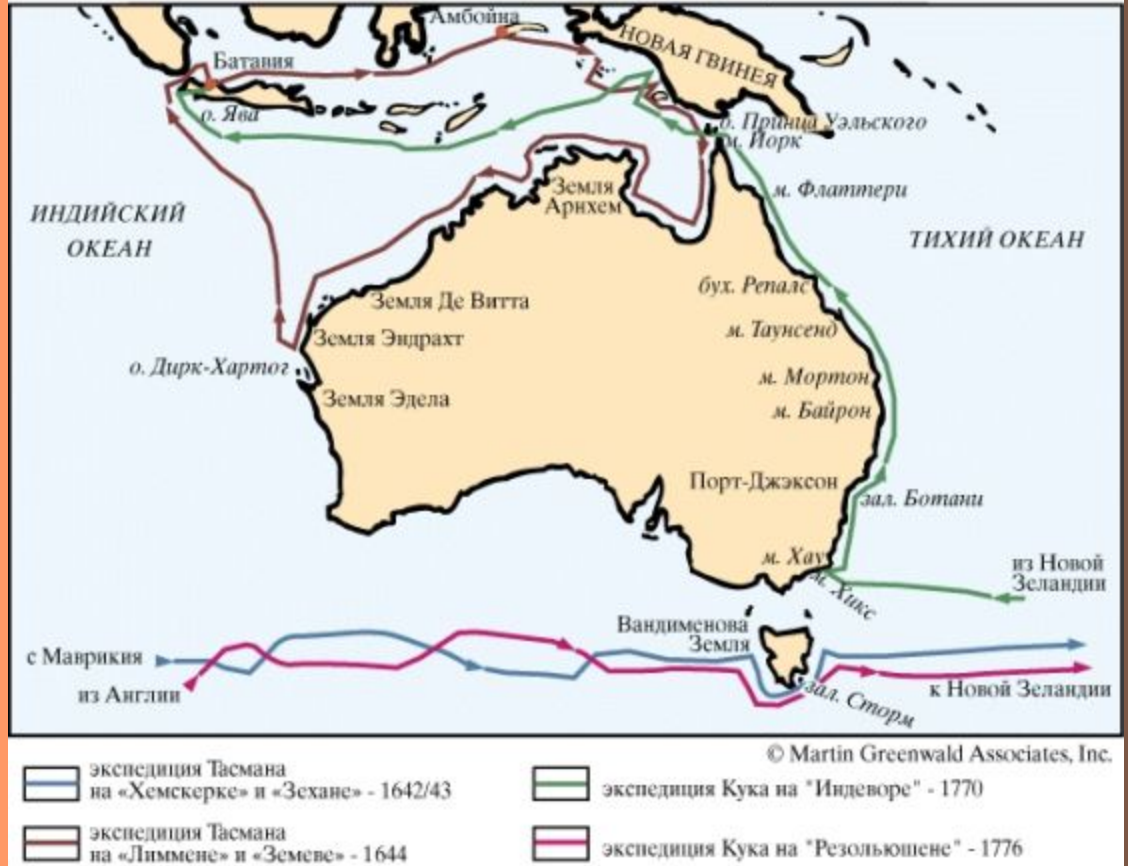




РАЗГОВОРЫ ЗАПОЛНОЧЬ

1770 г. английский мореплаватель Джеймс Кук повторно «открыл» Австралию, которая вскоре была объявлена колонией Англии

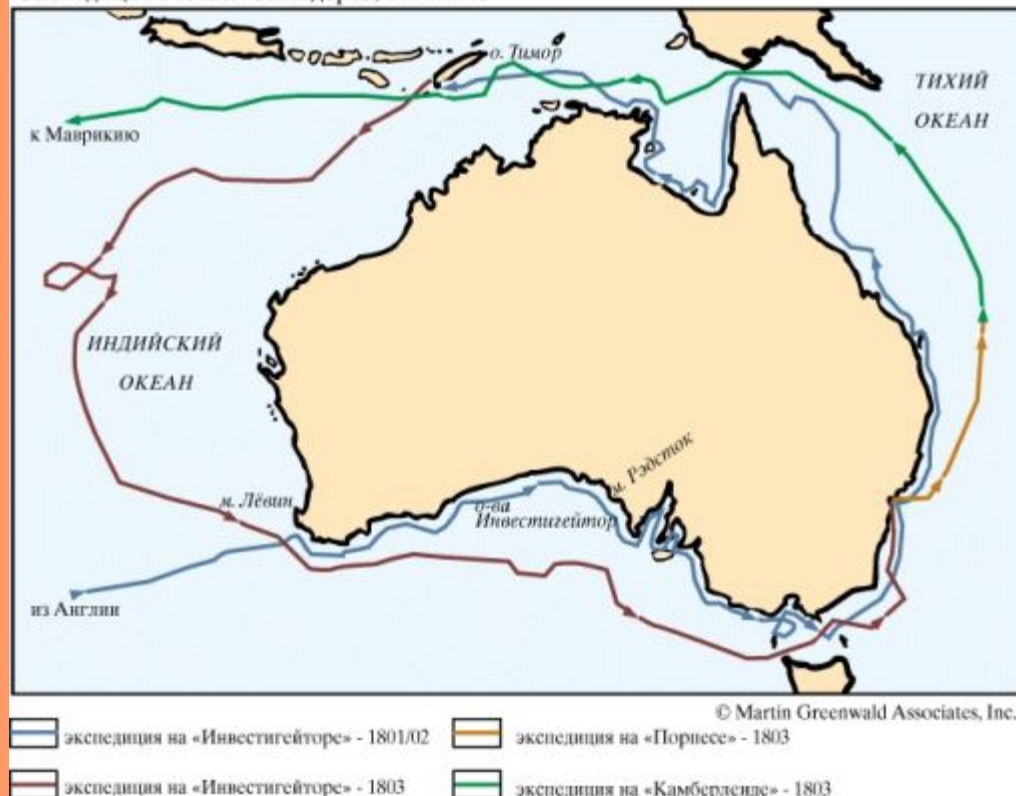
Экспедиции Абель Тасмана (1642-1644) и Джеймса Кука (1770-1776)





В 1803 году Мэтью Флиндерс совершил плавание вокруг берегов материка и составил карту всего материка. Он предложил назвать его «Австралией».

Экспедиции Мэтью Флиндерса, 1801-1803



Оцените собственные знания и умения следующим образом:

1. Выберите один вариант ответа:

- А) Я все понял (а), смогу объяснить этот материал другому _____**
- Б) Я понял(а) материал, могу объяснить другому, но при некоторой помощи учителя _____**
- В) Я понял(а) материал частично _____**
- Г) Я ничего не понял(а) _____**

2. Могу оценить свою работу на уроке оценкой «__»