



Математика
1 класс
УМК «Перспектива»

Урок 1.
«Форма предметов»

Автор:
Ефремова А.Н.




$$a + b$$
$$2 \times 2 = 4$$



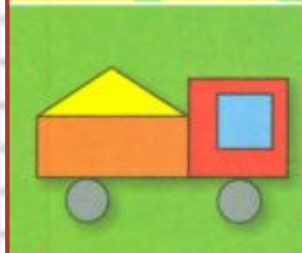
**Чтоб водить корабли,
Чтобы в небо взлететь,
Надо много знать,
Надо много уметь.
И при этом, и при этом
Вы заметьте -ка, друзья,
Очень важная наука -
математика!**







А



Российская академия наук
Российская академия образования
Издательство «Просвещение»

Академический школьный учебник

Г.В. Дорофеев Т.Н. Миракова

МАТЕМАТИКА



Условные обозначения:



— начало урока



— объяснение нового материала



— вставь вместо кружка (○) один из этих знаков, чтобы получилась верная запись



— задание повышенной сложности



— образец для выполнения в тетради



— работа в паре



Дорогой первоклассник!

Перед тобой учебник, который называется «Математика».

А знаешь ли ты, что такое математика, когда она возникла, зачем нужно её изучать?

Математика — древняя наука. Она возникла много-много лет назад. Изучая математику, ты научишься считать, складывать и вычитать, решать задачи и примеры. Ты станешь умнее. Ведь, как говорил великий русский учёный М. В. Ломоносов, математику уже затем учить следует, что она ум в порядок приводит.

Математика откроет перед тобой интересный мир чисел, фигур и величин. Она научит тебя рассуждать, находить закономерности и применять математические знания в жизни.

Счастливого тебе пути в удивительную страну, которая называется

МАТЕМАТИКА!

Авторы





СРАВНЕНИЕ И СЧЁТ ПРЕДМЕТОВ

КАКАЯ БЫВАЕТ ФОРМА

■ Есть ли среди этих рисунков тот, на котором нарисована твоя любимая форма одежды? Кто её носит? Люди каких ещё профессий носят специальную форму?



■ Рассмотрни рисунок. Пряник какой формы кажется тебе самым вкусным?



Физкультминутка

Встали дружно мы с тобой,

Развели руками. – Хлоп!

Треугольник над головой

Сделали мы сами.

Хлоп руками перед собой -


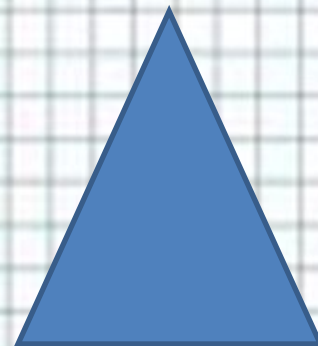
И в замочек их заключим,

Появился круг большой,

Тот, который мы здесь учим.

А теперь он будет рад,

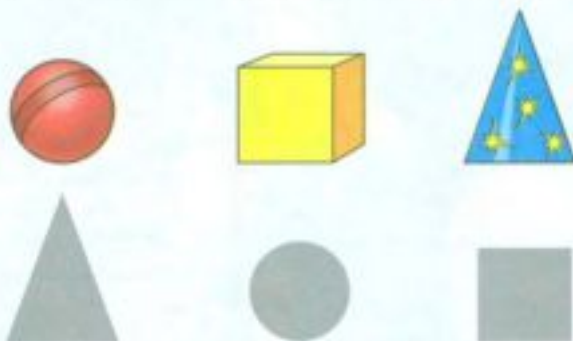
Если сложишь ты квадрат.



■ Узнай предмет по его тени.



■ Покажи на рисунке предмет и фигуру, форма которой напоминает его тень. Прочитай названия фигур.



Треугольник.

Круг.

Квадрат.

■ Найди на рисунке знакомые тебе фигуры.





Российская академия наук
Российская академия образования
Издательство «Просвещение»

А



$2 > 1$



ЧАСТЬ
ПЕРВАЯ

Г. В. Дорофеев Т. Н. Миракова

МАТЕМАТИКА

рабочая тетрадь



1 класс

ПРОСВЕЩЕНИЕ
ИЗДАТЕЛЬСТВО



КАКАЯ БЫВАЕТ ФОРМА

- 1 Раскрась столы квадратной формы оранжевым карандашом, круглой формы жёлтым, а треугольной — зелёным.



Покажи на схеме, сколько столов каждой формы раскрашено.

- 2 Вася сделал три необыкновенных цветка и придумал им названия. Покажи стрелкой, какое название подходит каждому цветку.



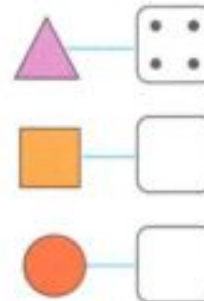
Треугольчик



Круголица



Квадрин



На схеме отметь точками, сколько треугольников, квадратов и кругов на этом рисунке.



- 3 Раскрась красным карандашом фигуры, одинаковые по форме.



Нарисуй столько крестиков, сколько фигур раскрашено.



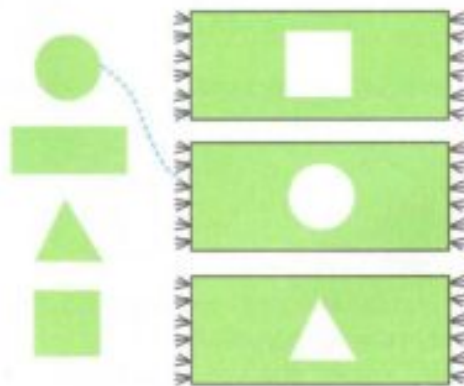
- 4 Раскрась все треугольники синим карандашом.



Зачеркни столько палочек, сколько треугольников раскрашено.



- 5 Подбери подходящую заплату для каждого коврика.



- 6 Рисуй по точкам.



Рефлексия



Плохо !



Отлично !



Не понял !



Супер!



Очень плохо !

