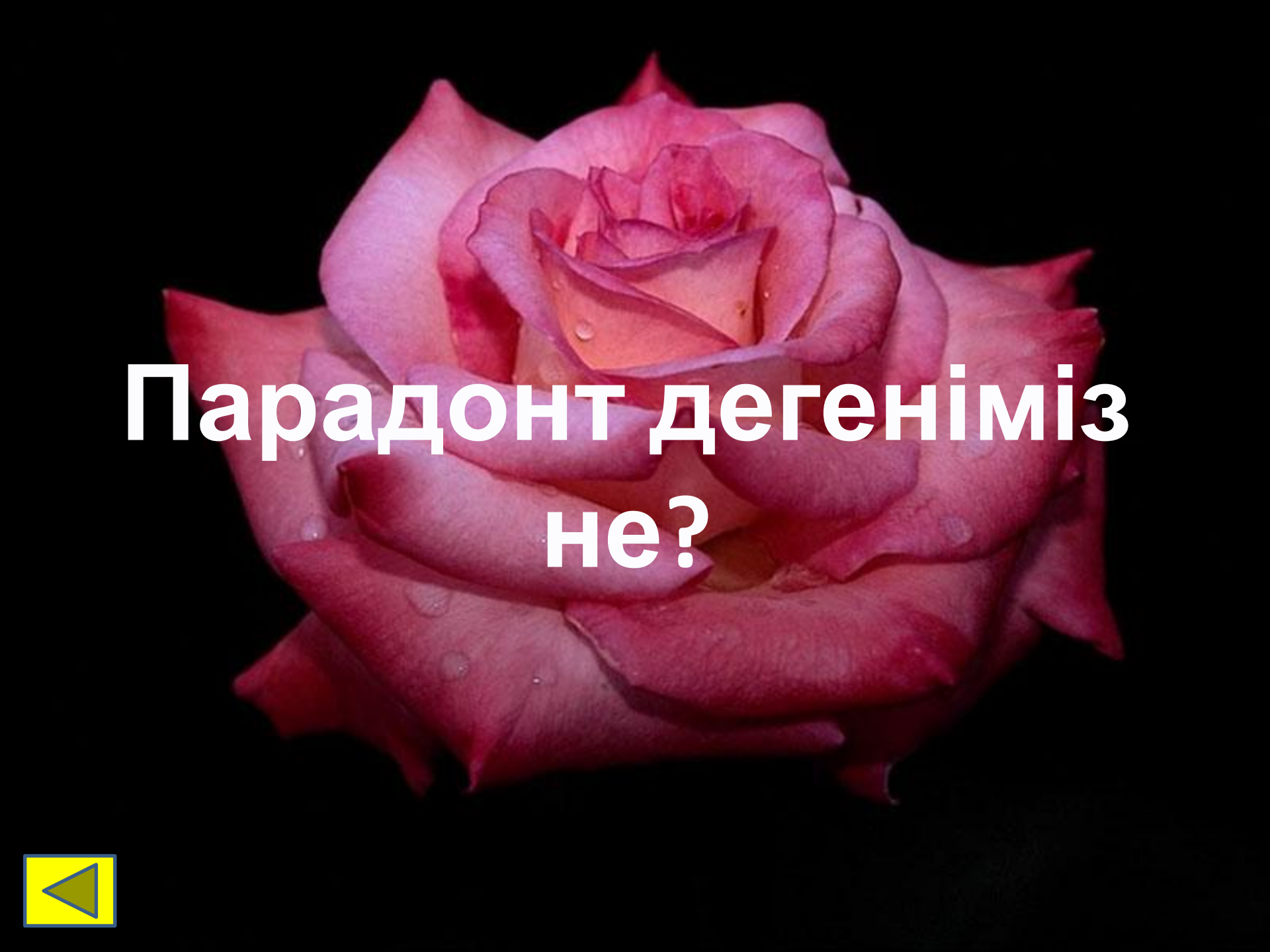



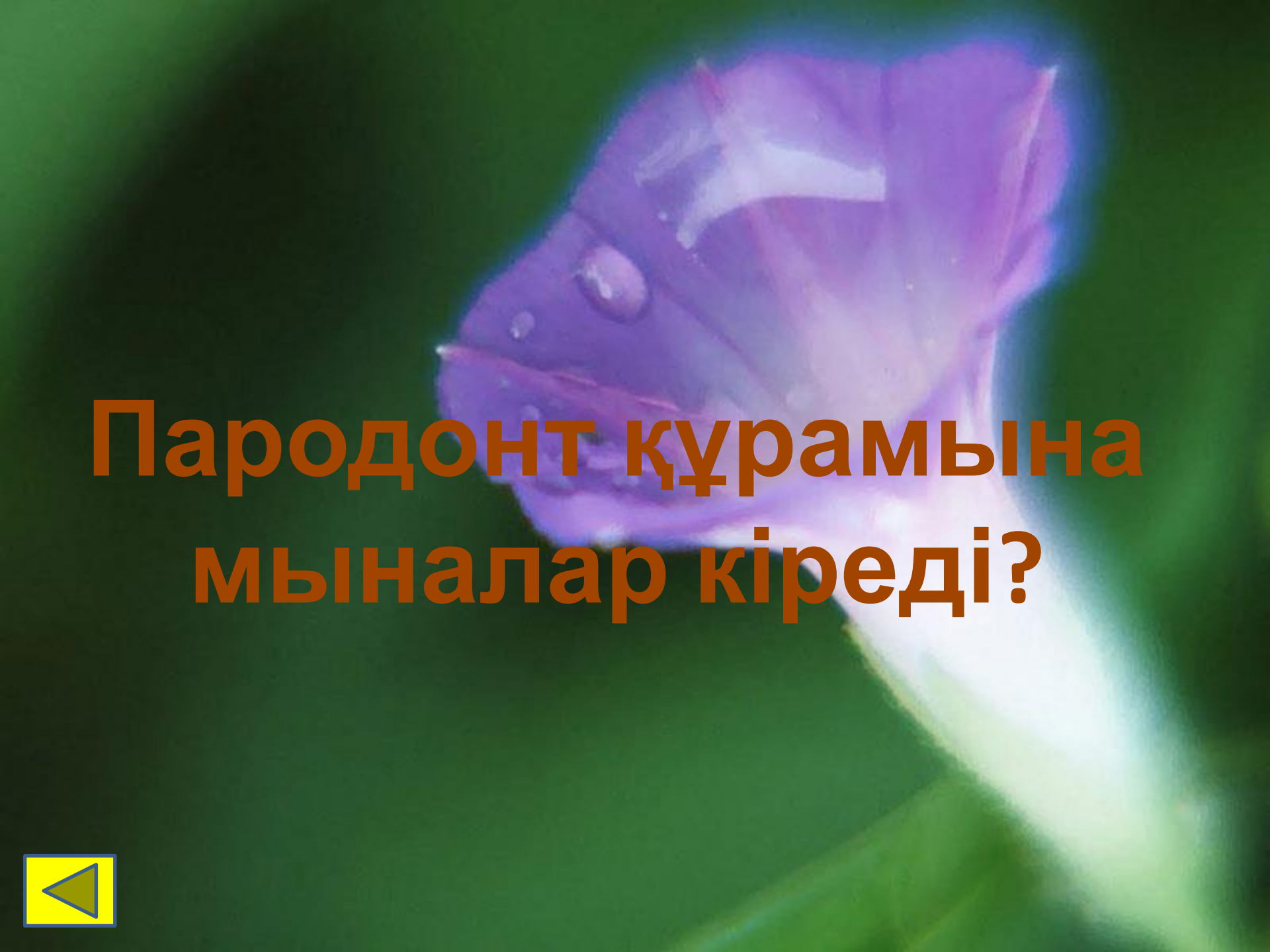
A 4x3 grid of numbers is centered on a landscape background. The background features rolling green hills in the foreground, snow-capped mountains in the mid-ground, and a blue sky with light clouds. The grid consists of 12 cells, each containing a number. The numbers are arranged in a pattern that increases from top-left to bottom-right. The colors of the cells alternate in a checkerboard pattern: dark blue for the top-left, top-right, middle-right, and bottom-right cells, and white for the top-middle, middle-left, middle-middle, and bottom-middle cells.

10	10	20
30	40	40
60	60	70
80	90	90




**Парадонт дегеніміз
не?**





**Пародонт құрамына
мыналар кіреді?**




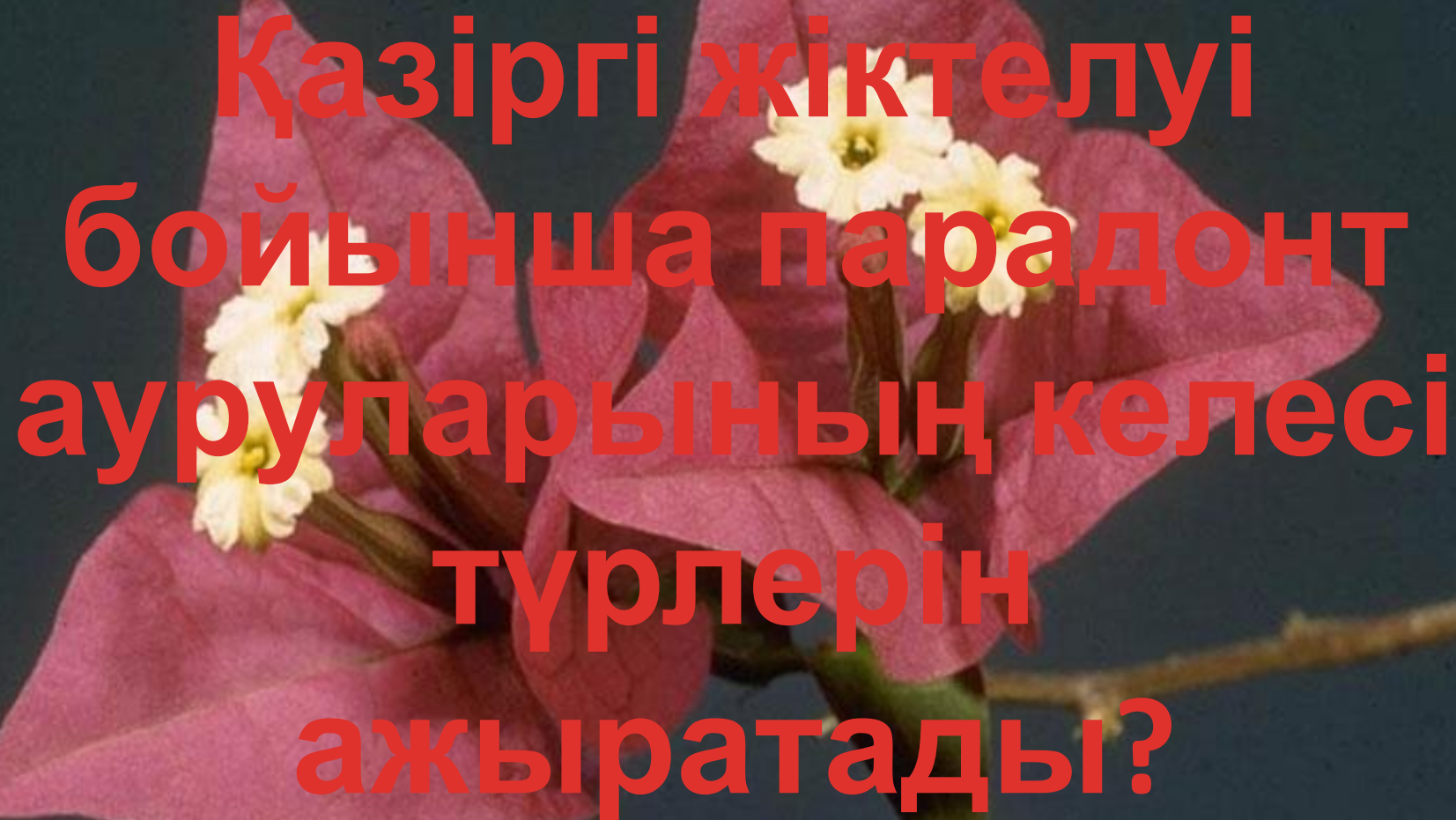
**ПАРАДОНТИТ
БОЛҒАН ЖАҒДАЙДА
МИКРООРГАНИЗМД
ЕРДІҢ БІРНЕШЕ
ТҮРЛЕРІ
БАЙҚАЛАДЫ?**






Парадонтит кезіндегі
емдеу жолдары?





**Қазіргі жіктелуі
бойынша парадонт
ауруларының келесі
түрлерін
ажыратады?**



**ПАРАДОНТ
ҚАБЫНУЫ
БОЛУЫНА ҮЛКЕН
МАНЫЗДЫ РӨЛДІ
АТҚАРАДЫ?**



**Парадонт ауруының
дамуына әкелетін ең
басты себептерінің
бірі болып
табылады?**



**Дамып келе жатқан
қан жасушаларының
I класына сипаттама
беріңіз?**



**ДАМЫП КЕЛЕ
ЖАТҚАН ҚАН
ЖАСУШАЛААРЫНЫҢ,
II КЛАСЫНА
СИПАТТАМА
БЕРІҢІЗ?**

