

Математик


а

1 Вася нарисовал 4 кораблика, а Петя 3 кораблика. Сколько всего корабликов нарисовали мальчики?




2

Яйцо всмятку
варится 3 минуты.
Сколько времени
потребуется, чтобы
сварить 5 яиц?



3. На берёзе 4 ветки. На каждой ветке висит по яблоку. Сколько всего яблок?



4. На сколько 70
меньше 85?




5. Сколько ушей у пяти



?



ALLDAY.RU



6.

Сколько в двух неделях дней?

