

МАТЕМАТИКА

1 класс


Приглашаем на урок!



- *Мы – умные!*
- *Мы- дружные!*
- *Мы- внимательные!*
- *Мы – старательные!*
- *В первом классе учимся!*
- *Всё у нас получится.*



Разминка



Какие карточки первёрнуты?

$$4 - \boxed{2} = 2 \quad 3 + \boxed{2} = 5$$

$$\boxed{1} + 2 = 3 \quad 4 + \boxed{1} = 5$$

$$3 + \boxed{1} = 4 \quad 5 - \boxed{2} = 3$$



«Засели домик»



«Засели домик»



«Называй – не зевай!»

1 2 3 4 5 6 7 8 9

Работа в тетради



КАКОЕ
НЕРАВЕНСТВО
ПРОПУЩЕНО?

$$6 > 5$$

$$5 > 4$$


$$4 > 3$$

$$2 > 1$$


$$3 > 2$$









1



2



3



4

0

0

1

2

3

4

5

6

7

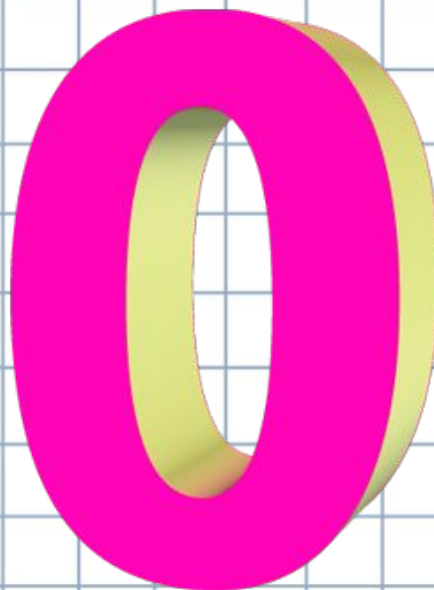
8

9

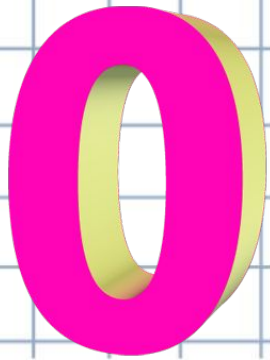
10



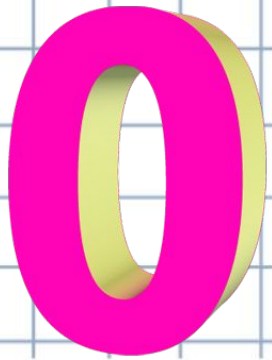
На что похож наш **НОЛЬ**?
Попробуй угадай!



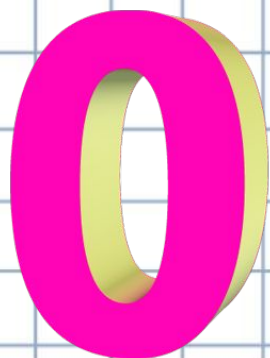
Нет прощя ничего:
Похож на букву «**О**»!



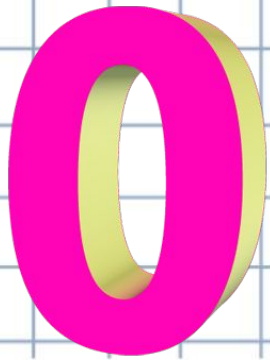
На вкусную баранку.



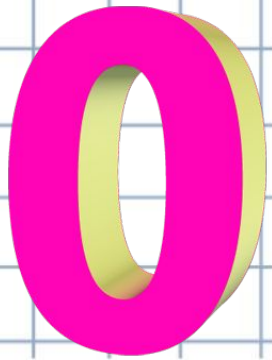
На обруч, что крутит
сестра спозаранку.



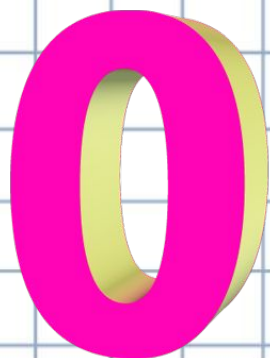
На **НОЛЬ** похожа
полная луна.



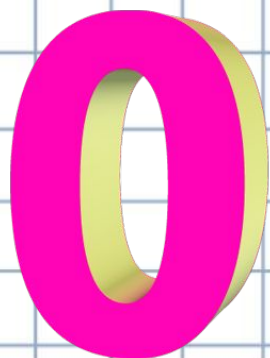
На **НОЛЬ** похожа
круглая Земля.



Похожи на **НОЛЬ** круглые
часы,
что в комнате у бабушки висят.



На мячик, что
любимец всех ребят.


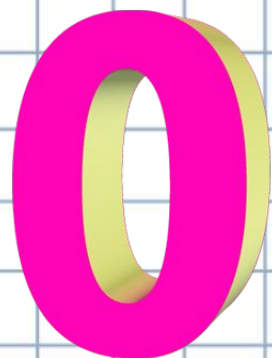


И Колобок из детской сказки,
который убежал от всех,
похож на **НОЛЬ**.

0

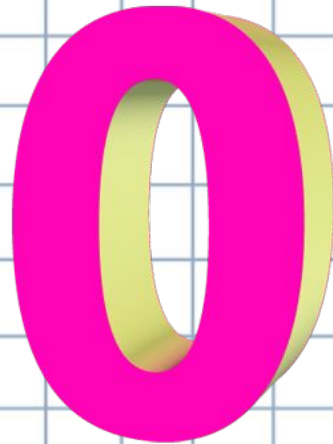


И солнце в вышине такое ж
круглое, как **НОЛЬ**.



Наш **НОЛЬ** не значит ничего.
А в математике нельзя и без
него.

Без этой цифры нам не
обойтись,
Писать его скорей учись.




Как сидеть за партой




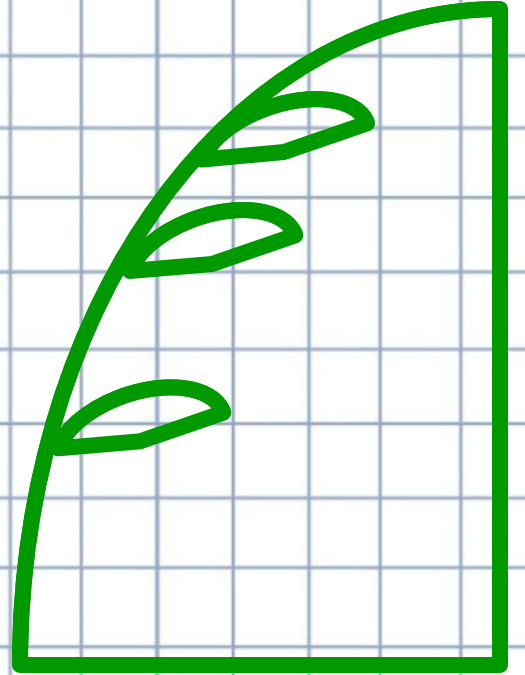

Правила письма

Правильно сиди



Правильно держи
ручку






«Памятник НУЛЮ в Венгрии»



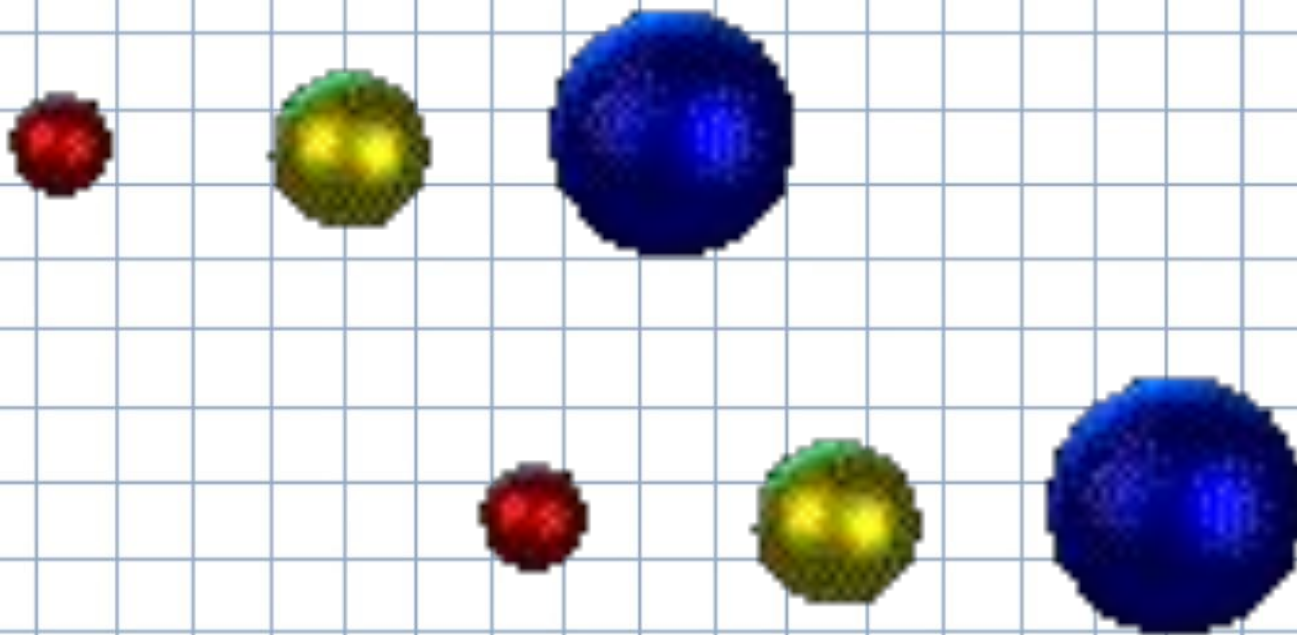
«Физминутка»

*Сколько елочек зелёных,
столько выполним наклонов*




«Физминутка»

*Сколько здесь у нас кружков,
столько сделаем хлопков*




«Физминутка»

*Сколько палочек до точки,
столько встанем на носочки*



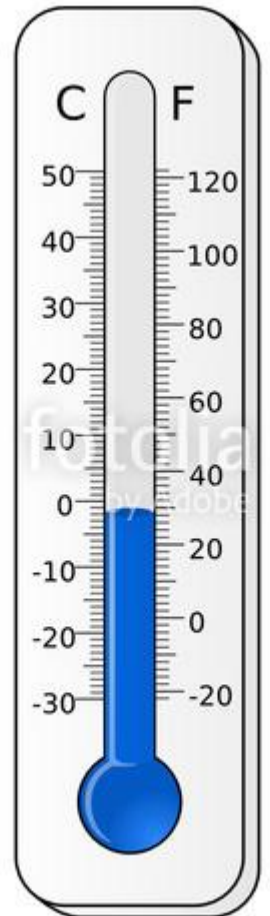
«Физминутка»

*Сколько точек будет в круге,
столько раз поднимем руки*



0

30
1000



#33949779



ТЕЛЕФОНЫ



101
пожарная
охрана




102
ПОЛИЦИЯ



103
скорая
ПОМОЩЬ



РАБОТА ПО УЧЕБНИКУ



Стр. 70 - 71



Число 0

0

На первой тарелке 3 ягоды, на второй тарелке ягод нет. Как это записать с помощью цифры?



СРАВНИ: Какое равенство подходит к картинкам? Составь рассказы по двум другим равенствам.



$$3 - 3 = 0$$

$$5 - 5 = 0$$

$$8 - 8 = 0$$

Расскажи, что было, что изменилось.



3

$$3 - 1 = 2$$

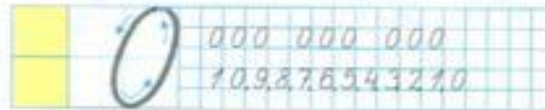
$$2 \bigcirc 3$$

$$2 - 1 = 1$$

$$1 \bigcirc 2$$

$$1 - 1 = 0$$


$$0 \bigcirc 1$$





Число 0

0

▶ На первой тарелке 3 ягоды, на второй тарелке ягод нет. Как это записать с помощью цифры?



Какое равенство подходит к картинкам? Составь рассказы по двум другим равенствам.




$$3 - 3 = 0$$

$$5 - 5 = 0$$

$$8 - 8 = 0$$



Расскажи, что было, что изменилось.



3



$3 - 1 = 2$

2 ○ 3



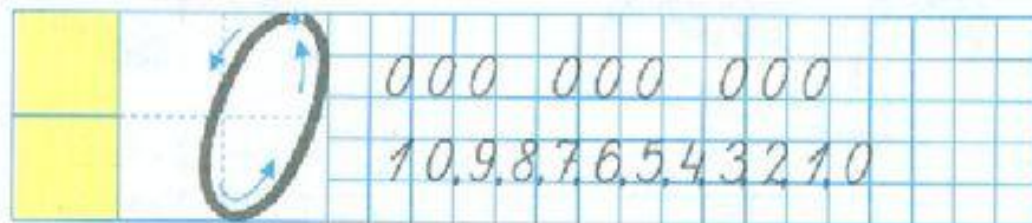
$2 - 1 = 1$

1 ○ 2



$1 - 1 = 0$

0 ○ 1






Когда так говорят?


- Ноль без палочки...
- С нуля начинать...
- Ноль внимания...



РАБОТА В ТЕТРАДИ



Работа в рабочей тетради стр. 26



0 1 2 3 4 5 6 7 8 9 10



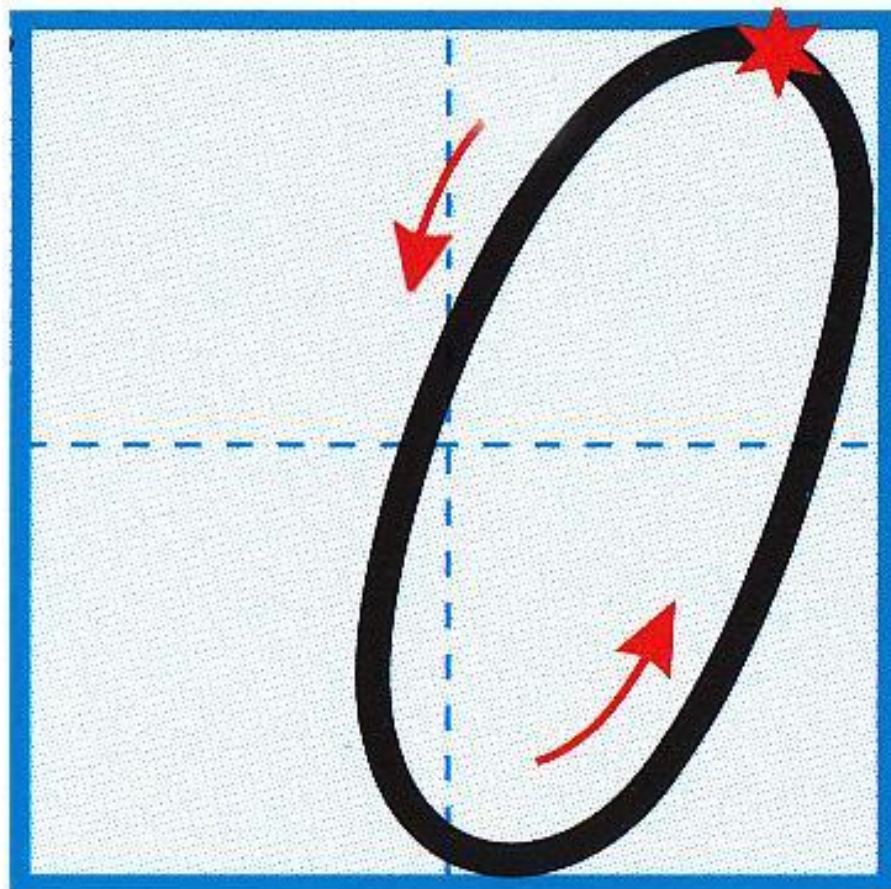
Работа в рабочей тетради стр. 26




000 000 000

1,2,3,4,5, 7,8, 10.







Работа в рабочей тетради стр. 26



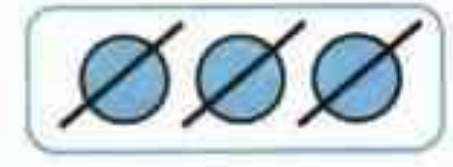
Используя рисунки, запиши в окошки нужные числа.



$$3 - 1 = 2$$




$$3 - 2 = 1$$



$$3 - 3 = 0$$

Вывод: если от числа отнять то же самое число, 0 то получится.....







Спасибо за урок!

