


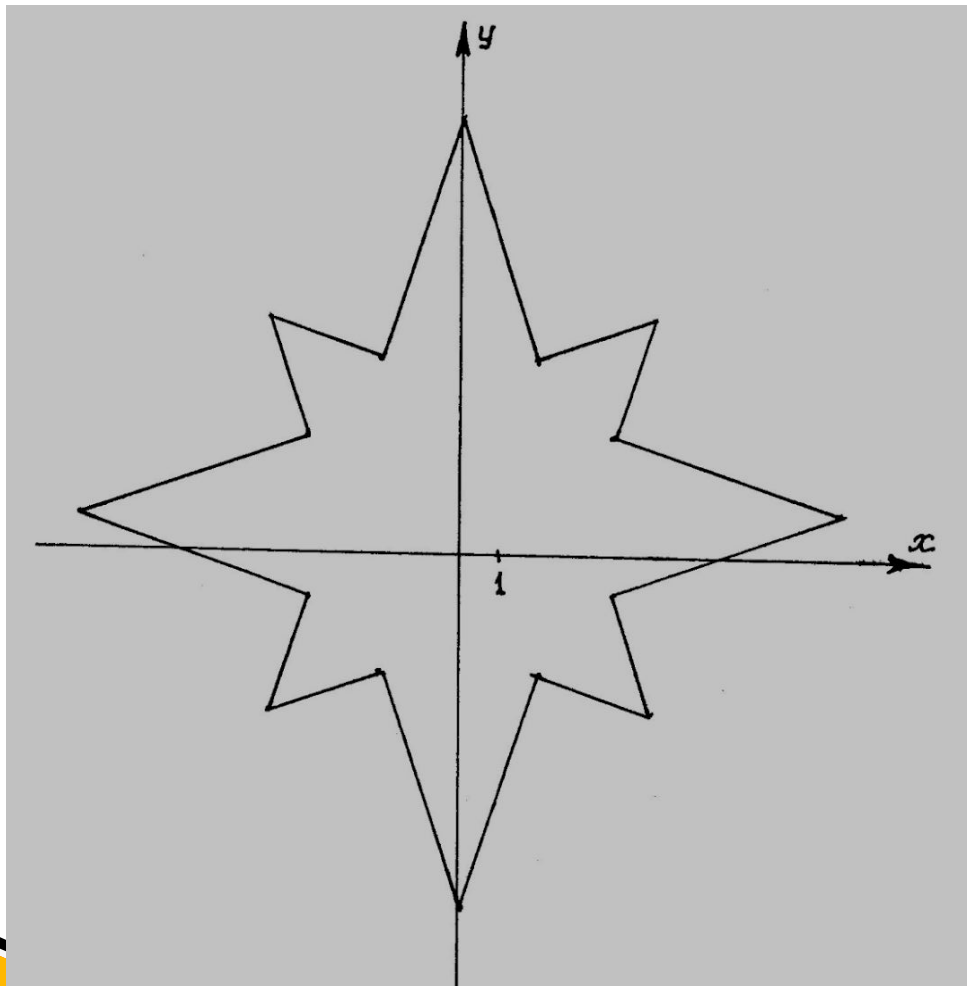

Графики.
Рисуем

на уроке

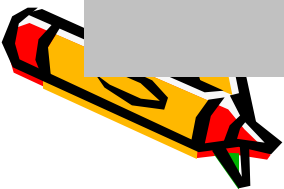
математики



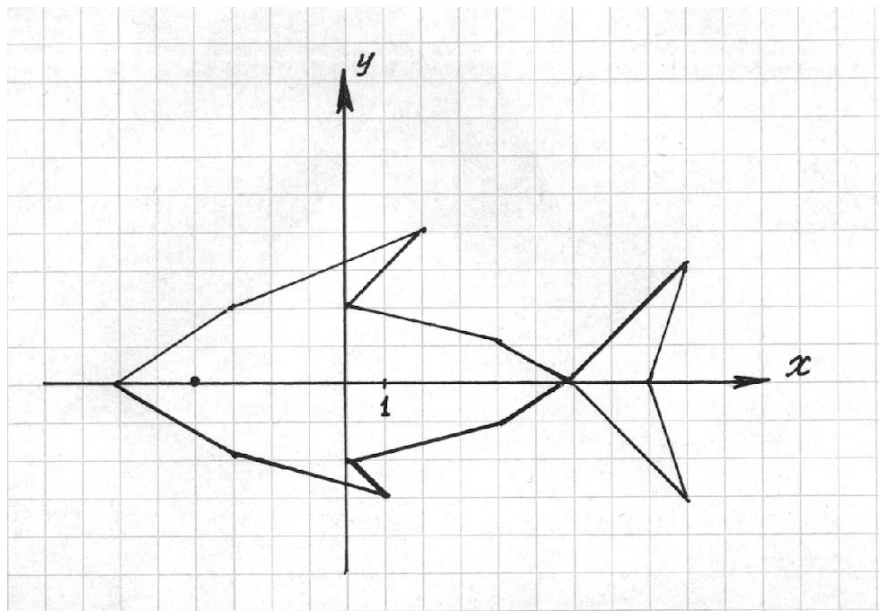
Звездочка



$(0;11); (2;5);$
 $(5;6); (4;3);$
 $(10;1); (4;-1);$
 $(5;-4); (2;-3);$
 $(0;-9); (-2;-3);$
 $(-5;-4); (-4;-1);$
 $(-10;1); (-4;3);$
 $(-5;6); (-2;5);$
 $(0;11)$



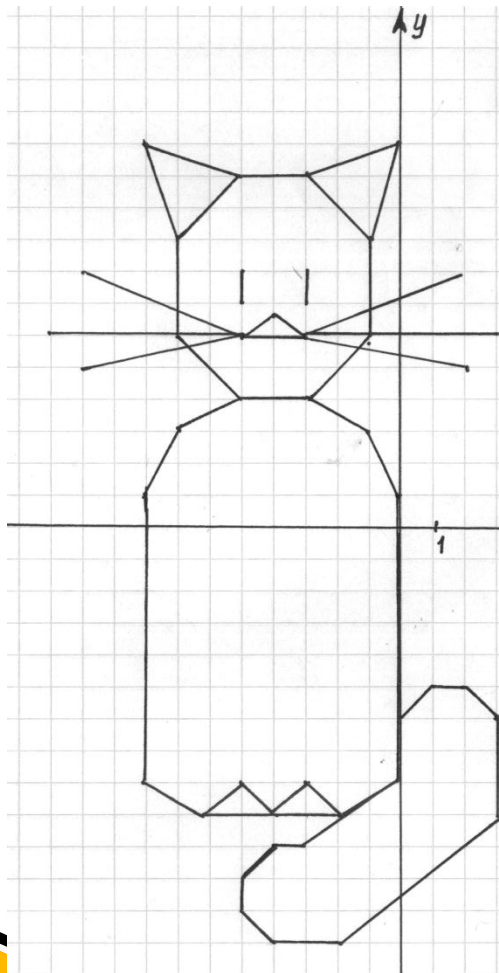
Рыбка




$(-6;0)$; $(-3;2)$; $(2;4)$; $(0;2)$; $(4;1)$; $(6;0)$; $(9;3)$; $(8;0)$; $(3;-3)$; $(6;0)$; $(4;-1)$; $(0;-2)$;
 $(1;-3)$; $(-3;-2)$; $(-6;0)$; глаз $(-4;0)$



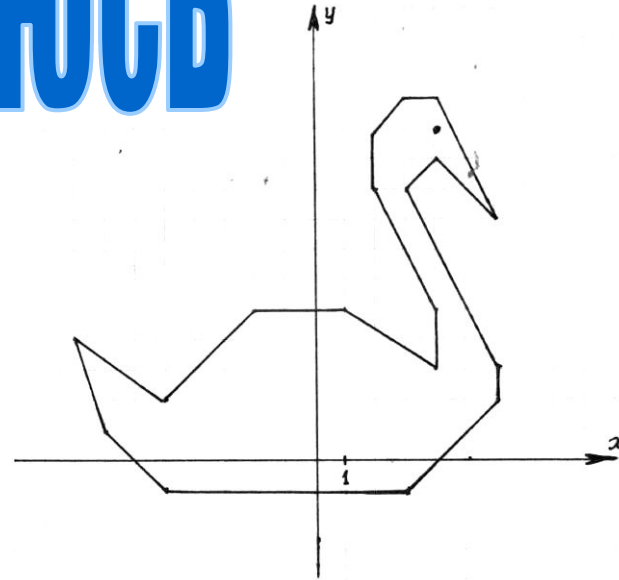
КОТ ВАСИЛИЙ



1. $(-5;12); (-7;9); (-8;12); (-5;12); (-3;12); (0;12); (-1;9); (-3;12)$
2. $(-7;9); (-7;6); (-5;4); (-3;4); (-1;6); (-1;9)$
3. $(-5;4); (-7;3); (-8;1); (-8;8); (-6;9); (-5;-8); (-4;-9); (-3;-8); (-2;-9); (0;-8); (0;1); (-1;3); (-3;4)$
4. $(-6;-9); (-2;9); (-3;-10); (-4;-10); (-5;-11); (-5;-12); (-4;-13); (-2;-13); (3;-9); (3;-6); (2;-5); (1;-5); (0;-6)$
5. $(-10;8); (-5;6); (-4;6,5); (-3;6); (2;8)$
6. $(-11;6); (3;6)$
7. $(-10;5); (-5;6); (-3;6); (2;5)$
8. Глаза $(-5;8); (-5;7)$ и $(-3;7); (-3;8)$



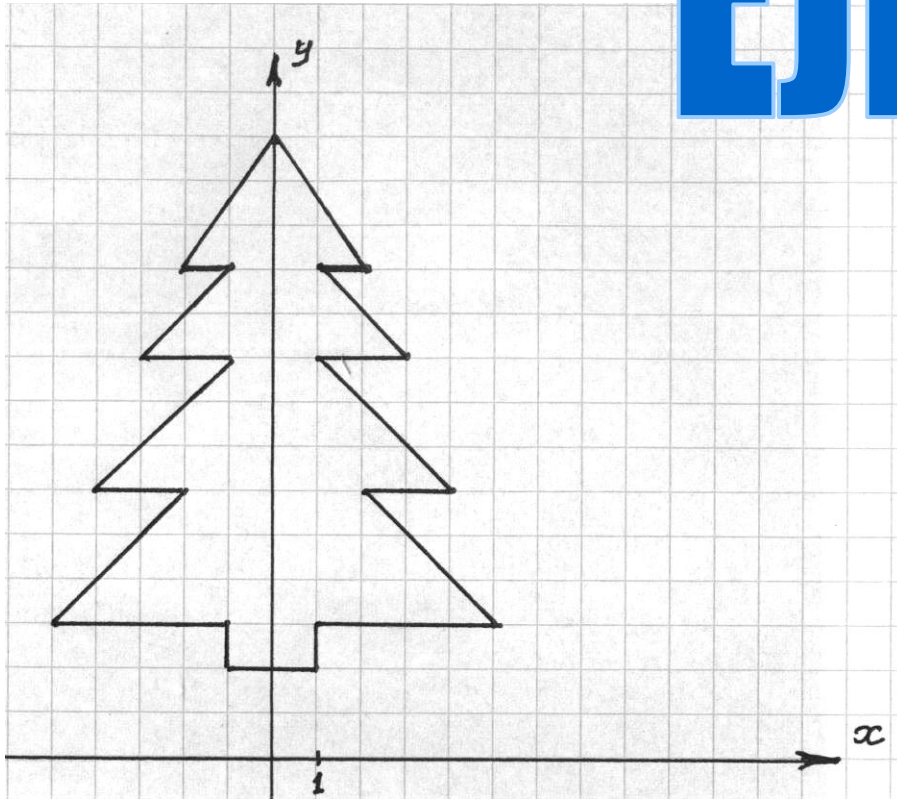
Гусь... Ой... ой боюсь



$(-8;4); (-7;1); (-5;-1); (3;-1); (5;0); (6;2); (6;3);$
 $(3;10); (4;11); (6;9); (4;13); (3;13); (2;12);$
 $(2;10); (4;5); (4;3); (1;5); (-2;5); (-5;2); (-8;4)$
глаз $(4;12)$



Елка




(0;14); (2;11);
(1;11); (3;9);
(1;9); (4; 6);
(2;6); (5;3);
(1;3); (1;2);
(-1;2); (-1;3);
(-5;3); (-2;6);
(-4;6); (-1;9);
(-3;9); (-1;11);
(-2;11); (0;14)

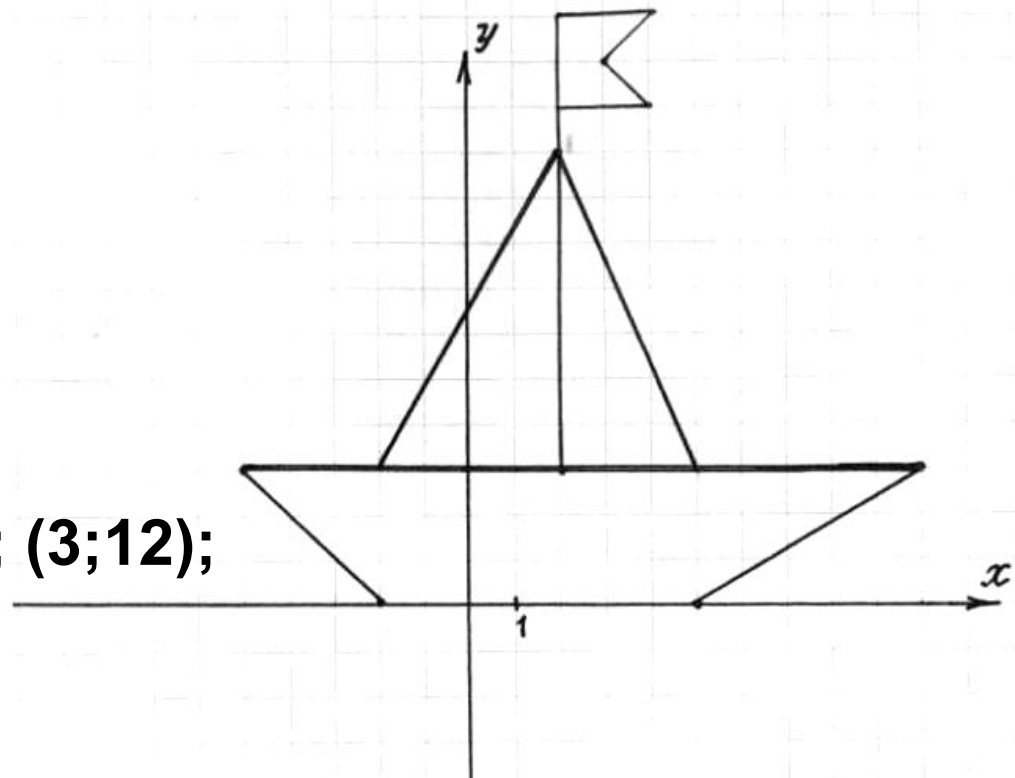





Парусник



$(-5;3); (10;3); (5;0);$
 $(-2;0); (-5;3)$
 $(-2;3); (2;10); (5;3)$
 $(-2;3); (2;13); (4;13); (3;12);$
 $(4;11); (2;11)$



Домашнее задание



- Придумать и выполнить рисунок
Записать алгоритм выполнения
рисунка (координаты точек).

