



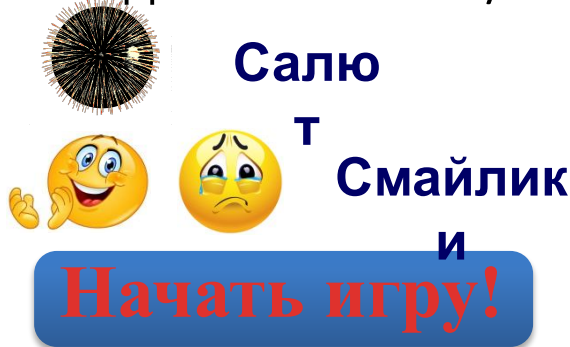
Отличником ПДД

# Правила игры

Ребенку предлагаются вопросы на знание правил дорожного движения. На каждый вопрос имеются четыре варианта ответа. Игроку необходимо выбрать правильный ответ.

При правильном ответе раздаются аплодисменты, салют и появляются баллы, если ответ неправильный- появляется грустный смайлик и заработанные ребенком баллы.

Если ребенок затрудняется в ответе, то можно воспользоваться подсказками «50/50», «звонок другу», «помощь зала».



Гиперссылки для  
перехода  
на другой слайд или  
выход из игры.

## Удачной игры!!!!



**Начать игру!**

50/50



15	1 000 000
14	500 000
13	250 000
12	125 000
11	64 000
10	32 000
9	16 000
8	8 000
7	4 000
6	2 000
5	1 000
4	500
3	300
2	200
1	100

СКОЛЬКО СВЕТОВЫХ СИГНАЛОВ У СВЕТОФОРА?

1

3

2

4

50/50



15	1 000 000
14	500 000
13	250 000
12	125 000
11	64 000
10	32 000
9	16 000
8	8 000
7	4 000
6	2 000
5	1 000
4	500
3	300
2	200
1	100

СКОЛЬКО СВЕТОВЫХ СИГНАЛОВ У СВЕТОФОРА?


1



3

2

4

0





**100**


50/50



15	1 000 000
14	500 000
13	250 000
12	125 000
11	64 000
10	32 000
9	16 000
8	8 000
7	4 000
6	2 000
5	1 000
4	500
3	300
2	200
1	100

Какой цвет сигнала светофора разрешает начать движение?


1



3



2



4






50/50



15	1 000 000
14	500 000
13	250 000
12	125 000
11	64 000
10	32 000
9	16 000
8	8 000
7	4 000
6	2 000
5	1 000
4	500
3	300
2	200
1	100

Какой цвет сигнала светофора разрешает начать движение?


1



3




2





4



0






**200**

50/50



15	1 000 000
14	500 000
13	250 000
12	125 000
11	64 000
10	32 000
9	16 000
8	8 000
7	4 000
6	2 000
5	1 000
4	500
3	300
2	200
1	100

Какой цвет сигнала светофора запрещает движение?




50/50



15	1 000 000
14	500 000
13	250 000
12	125 000
11	64 000
10	32 000
9	16 000
8	8 000
7	4 000
6	2 000
5	1 000
4	500
3	300
2	200
1	100

Какой цвет сигнала светофора  
запрещает движение?


1



3




2





4



0





**300**

50/50



15	1 000 000
14	500 000
13	250 000
12	125 000
11	64 000
10	32 000
9	16 000
8	8 000
7	4 000
6	2 000
5	1 000
4	500
3	300
2	200
1	100

В какую сторону необходимо посмотреть, прежде чем начать переходить дорогу?

1. На лево

3. На право

2. Прямо

4. На зад



50/50



15	1 000 000
14	500 000
13	250 000
12	125 000
11	64 000
10	32 000
9	16 000
8	8 000
7	4 000
6	2 000
5	1 000
4	500
3	300
2	200
1	100

В какую сторону необходимо посмотреть, прежде чем начать переходить дорогу?


1. На лево


3. На право

2. Прямо

4. На зад

0





**500**

50/50



15	1 000 000
14	500 000
13	250 000
12	125 000
11	64 000
10	32 000
9	16 000
8	8 000
7	4 000
6	2 000
5	1 000
4	500
3	300
2	200
1	100

Сколько световых сигналов у пешеходного светофора?

1

3

2

4

50/50



15	1 000 000
14	500 000
13	250 000
12	125 000
11	64 000
10	32 000
9	16 000
8	8 000
7	4 000
6	2 000
5	1 000
4	500
3	300
2	200
1	100

Сколько световых сигналов у пешеходного светофора?


1


3

2

4

0





0001

50/50



15	1 000 000
14	500 000
13	250 000
12	125 000
11	64 000
10	32 000
9	16 000
8	8 000
7	4 000
6	2 000
5	1 000
4	500
3	300
2	200
1	100

Как называется место пересечения дорог?

1 Проезжая часть

3 Тротуар

2 Тропинка

4 Перекресток



50/50



15	1 000 000
14	500 000
13	250 000
12	125 000
11	64 000
10	32 000
9	16 000
8	8 000
7	4 000
6	2 000
5	1 000
4	500
3	300
2	200
1	100

Как называется место пересечения дорог?

1 Проезжая часть


3 Тротуар

2 Тропинка

4 Перекресток



1000



**2000**

50/50



15	1 000 000
14	500 000
13	250 000
12	125 000
11	64 000
10	32 000
9	16 000
8	8 000
7	4 000
6	2 000
5	1 000
4	500
3	300
2	200
1	100

В каком месте можно переходить улицу?

1 У автобусной остановки

2 На пешеходном переходе

3 В любом месте

4 По африканской зебре

50/50



15	1 000 000
14	500 000
13	250 000
12	125 000
11	64 000
10	32 000
9	16 000
8	8 000
7	4 000
6	2 000
5	1 000
4	500
3	300
2	200
1	100

В каком месте можно переходить улицу?

1 У автобусной остановки



2 На пешеходном переходе

3 В любом месте

4 По африканской зебре



1000



**4000**

50/50



15	1 000 000
14	500 000
13	250 000
12	125 000
11	64 000
10	32 000
9	16 000
8	8 000
7	4 000
6	2 000
5	1 000
4	500
3	300
2	200
1	100

# Определите знак

1 Автобусная остановка

3 Телефон

2 Автозаправочная станция

4 Медицинский пункт



50/50



15	1 000 000
14	500 000
13	250 000
12	125 000
11	64 000
10	32 000
9	16 000
8	8 000
7	4 000
6	2 000
5	1 000
4	500
3	300
2	200
1	100

Определите знак

1 Автобусная остановка


3 Телефон

2 Автозаправочная станция

4 Медицинский пункт



1000



**8000**

50/50



15	1 000 000
14	500 000
13	250 000
12	125 000
11	64 000
10	32 000
9	16 000
8	8 000
7	4 000
6	2 000
5	1 000
4	500
3	300
2	200
1	100

Как нужно обходить автобус  
и машины стоящие у  
дороги?

1

Сзади

3

Спереди

2

С любой стороны

4

Сверху

50/50



15	1 000 000
14	500 000
13	250 000
12	125 000
11	64 000
10	32 000
9	16 000
8	8 000
7	4 000
6	2 000
5	1 000
4	500
3	300
2	200
1	100

Как нужно обходить  
машины, стоящие у  
тротуара?

1

Сзади

3

Спереди

2



С любой стороны

4

Сверху



1000



***16000***

50/50



15	1 000 000
14	500 000
13	250 000
12	125 000
11	64 000
10	32 000
9	16 000
8	8 000
7	4 000
6	2 000
5	1 000
4	500
3	300
2	200
1	100

Что обозначает ребус?

1 Скоро лесная улица

3 Дорога

2 Осторожно рядом дом

4 Осторожно дикие животные



50/50



15	1 000 000
14	500 000
13	250 000
12	125 000
11	64 000
10	32 000
9	16 000
8	8 000
7	4 000
6	2 000
5	1 000
4	500
3	300
2	200
1	100

Что обозначает ребус?

1 Скоро лесная улица


3 Дорога

2 Домашние животные

4 Осторожно дикие животные



1000



***32000***

50/50



1



2



3



4



15	1 000 000
14	500 000
13	250 000
12	125 000
11	64 000
10	32 000
9	16 000
8	8 000
7	4 000
6	2 000
5	1 000
4	500
3	300
2	200
1	100

Под каким номером находится знак «Внимание- дикие животные!»

1

3

2

4



50/50




1



2



3



4



15	1 000 000
14	500 000
13	250 000
12	125 000
11	64 000
10	32 000
9	16 000
8	8 000
7	4 000
6	2 000
5	1 000
4	500
3	300
2	200
1	100

Под каким номером находится  
знак «Внимание- дикие  
животные!»

1

3

2

4



32000



**64000**

50/50



1



2



3



4



15	1 000 000
14	500 000
13	250 000
12	125 000
11	64 000
10	32 000
9	16 000
8	8 000
7	4 000
6	2 000
5	1 000
4	500
3	300
2	200
1	100

Под каким номером находится знак «Движение людей запрещено»?

1

3

2

4



50/50



1



2



3



4



15	1 000 000
14	500 000
13	250 000
12	125 000
11	64 000
10	32 000
9	16 000
8	8 000
7	4 000
6	2 000
5	1 000
4	500
3	300
2	200
1	100

Под каким номером находится знак «Движение людей запрещено»?

1

3

2

4



32000



***125000***

50/50



15	1 000 000
14	500 000
13	250 000
12	125 000
11	64 000
10	32 000
9	16 000
8	8 000
7	4 000
6	2 000
5	1 000
4	500
3	300
2	200
1	100

Что означает знак?

1 Внимание- пешеходы!

3 Внимание – светофор!

2 Внимание- перегон домашних животных!

4 Внимание – дети!

50/50



15	1 000 000
14	500 000
13	250 000
12	125 000
11	64 000
10	32 000
9	16 000
8	8 000
7	4 000
6	2 000
5	1 000
4	500
3	300
2	200
1	100

Что означает знак?

1 Внимание- пешеходы!


3 Внимание – светофор!

2 Внимание- перегон домашних животных!

4 Внимание – дети!



**32000**



***250000***

50/50



1



2



3



4

15	1 000 000
14	500 000
13	250 000
12	125 000
11	64 000
10	32 000
9	16 000
8	8 000
7	4 000
6	2 000
5	1 000
4	500
3	300
2	200
1	100

Какой из знаков является запрещающим?

1

3

2

4



50/50




1



2

3



4

15	1 000 000
14	500 000
13	250 000
12	125 000
11	64 000
10	32 000
9	16 000
8	8 000
7	4 000
6	2 000
5	1 000
4	500
3	300
2	200
1	100

Какой из знаков является запрещающим?

1

3

2

4







**500000**

50/50



15	1 000 000
14	500 000
13	250 000
12	125 000
11	64 000
10	32 000
9	16 000
8	8 000
7	4 000
6	2 000
5	1 000
4	500
3	300
2	200
1	100

В каком направлении можно двигаться по краю проезжей части, если отсутствует тротуар?

1 Нельзя идти по краю дороги

3 В любом направлении

2 На встречу транспорту

4 По направлению транспорта

50/50



15	1 000 000
14	500 000
13	250 000
12	125 000
11	64 000
10	32 000
9	16 000
8	8 000
7	4 000
6	2 000
5	1 000
4	500
3	300
2	200
1	100

В каком направлении можно двигаться по краю проезжей части, если отсутствует тротуар?

1 Нельзя идти по краю дороги


3 В любом направлении

2 На встречу транспорту

4 По направлению транспорта



**32000**



***1000000***