



$$2 + 3 = ?$$

МБДОУ «Репьевский детский сад «Солнышко»

Презентация к занятию по фэмп в
подготовительной группе «Составление
и решение арифметических задач на
сложение и вычитание»

Подготовила: Аралова Н.В.

4

5

6

7

Составить и решить задачи по рисунку



Составьте задачу



$$3 + 1 = 4$$



3

+

2

=

5

Реши задачи на вычитание и запиши их решения.

В гараже стояли пять машин. Утром две уехали. Сколько машин осталось?



$$5 - 2 = 3$$



$$7 - 3 = 4$$

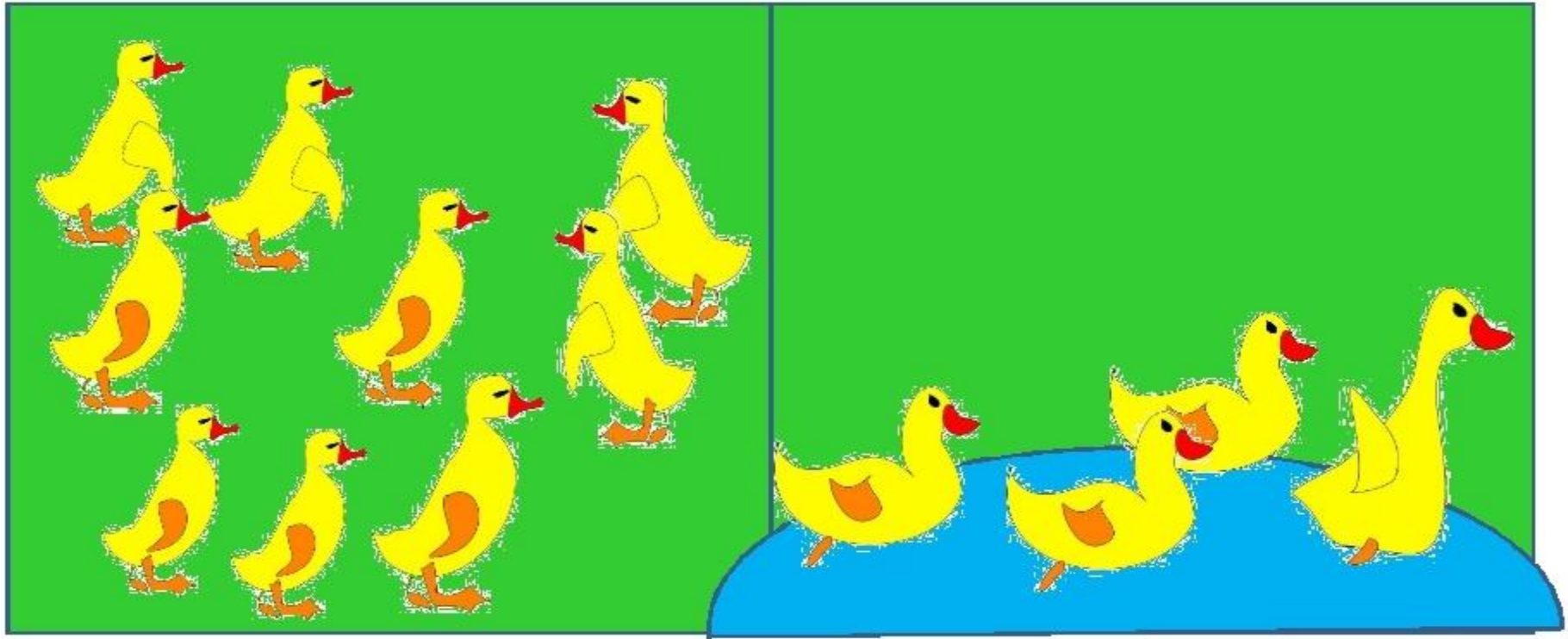
В гнезде сидели семь птичек. Три птички улетели. Сколько птичек осталось?

Около елки росло восемь грибов. Четыре из них несъедобных. Сколько съедобных грибов росло под елкой?



$$8 - 4 = 4$$





$$9 - 4 =$$

5

Составить задачу по картинке
и решить её



$$6 + 2 = 8$$



$$2 + 3 = 5$$

Составь задачу по картинке




$$6+1=7$$



Реши примеры на вычитание и впиши полученные ответы.



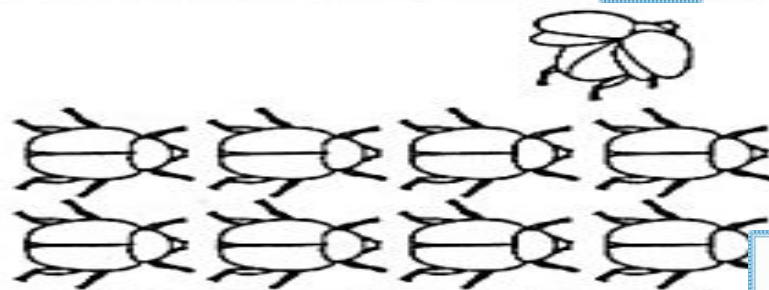
$$7 - 3 = \boxed{4}$$




$$6 - 1 = \boxed{5}$$



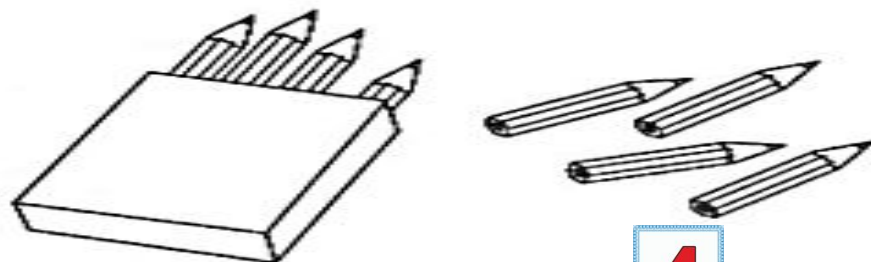
$$8 - 2 = \boxed{6}$$



$$9 - 1 = \boxed{8}$$



$$6 - 2 = \boxed{4}$$



$$8 - 4 = \boxed{4}$$