

# Состав чисел в пределах 10.

## Решение задач.

### Урок №

### 72



# УСТНЫЙ СЧЁТ



Запиши числа в тетрадь, увеличь их на 4.



2 5 1 6 0

6 9 5 10 4



Запиши числа в тетрадь, уменьши их на 5.



9 5 7 10 8

4 0 2 5 3



Распредели неравенства на 2 группы.



1

$$8 > 1$$

3

$$9 > 5$$

2

$$4 < 6$$

4

$$2 < 9$$

1

группа:




2

группа:

$< 2, 4$

$> 1, 3$

Распредели фигуры на 2 группы.



1

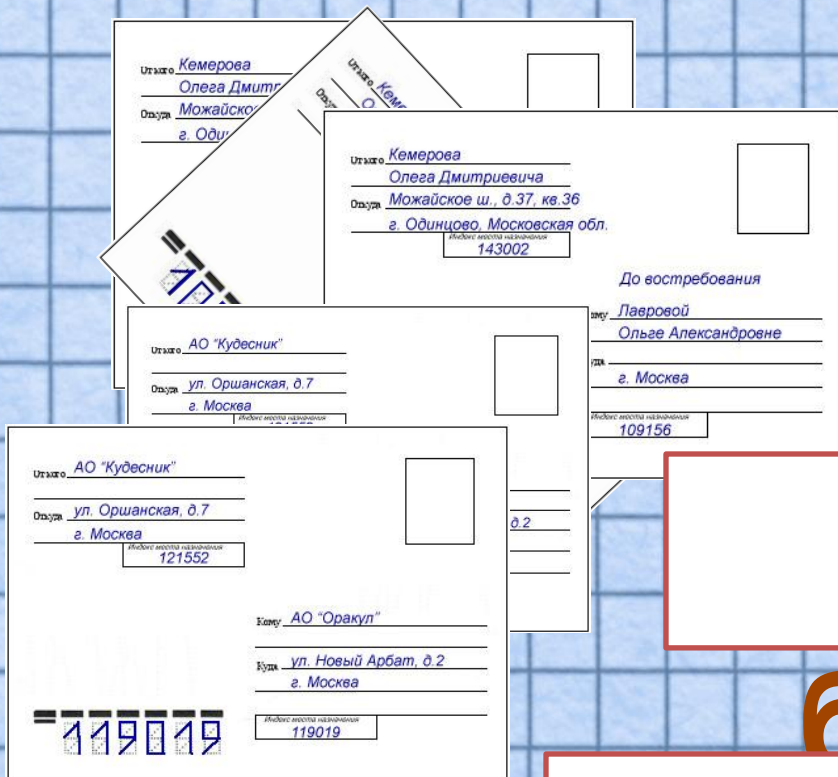
2

1, 3, 5

г 2, 4 а



Почтальон Печкин разнёс 5 писем и 3 посылки. На сколько писем он разнёс больше, чем посылок?



на 2

больше

$$5 - 3 = 2$$



Кот Матроскин купил 5 тарелок, 2 ведра для молока, 3 кружки. Сколько всего посуды купил Матроскин?

$$5 + 2 + 3 = 10$$




10





# РАБОТА ПО УЧЕБНИКУ



Стр. 19

1.



Девочка кормила голубей. Сначала было 3 голубя, а потом прилетели ещё 2, но 1 голубь улетел. Сколько стало голубей, когда прилетели ещё 2 голубя? Сколько осталось голубей, когда 1 улетел?

2. 1) У Сони были монеты:







Сколько всего рублей было у Сони?

2) У Сони было  $\square$  р. Она купила ручку за 3 р. Сколько рублей осталось у Сони?

3.  $9 \bigcirc \square = 7$   
 $9 \bigcirc \square = 6$

$4 \bigcirc \square = 10$   
 $2 \bigcirc \square = 10$



5. Выложи из 9 палочек такую фигуру. Догадайся, как переложить 2 палочки, чтобы стало 4 треугольника. Сколько получилось четырёхугольников?

---

$2 + 7$

$1 + 6$

$10 - 3$

$4 + 5 - 3$


$2 + 6$

$1 + 7$

$10 - 4 - 2$

$4 + 6 - 2$

# ЗАКРЕПЛЕНИЕ





**Самостоятельная работа в тетради.**

$10 - 7 + 2 =$	<b>5</b>
$8 - 3 + 1 =$	<b>6</b>
$9 - 2 - 3 =$	<b>4</b>

# ЗАДАНИЯ ПОВЫШЕННОЙ ТРУДНОСТИ





Реши примеры.

$$12 - 2 + 4 =$$

14

$$16 - 3 + 2 =$$

15

$$11 - 2 + 4 =$$

12

$$14 - 4 + 5 =$$

15

**коне**

**ц**

