


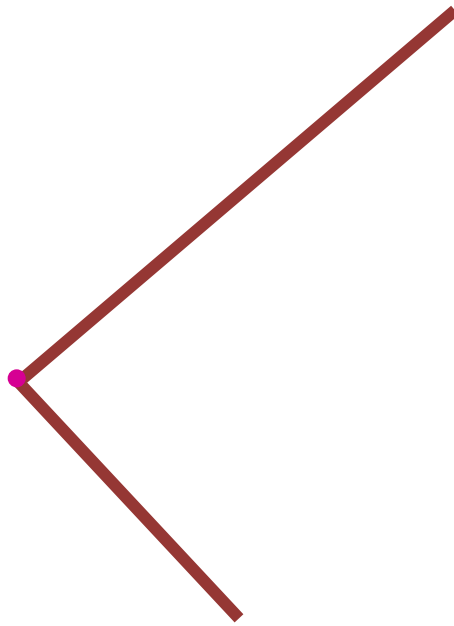
# Угол. Прямой угол

*24 апреля*

*Прямой угол*



*Угол – это геометрическая фигура. Её образуют два луча, исходящие из одной точки*



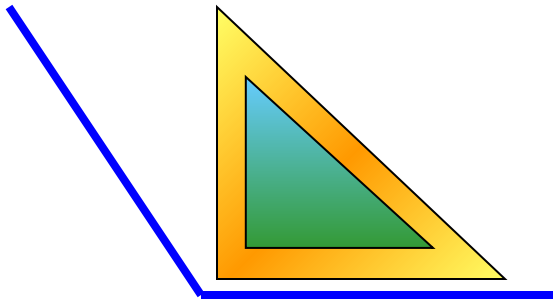
*Угол состоит из:*



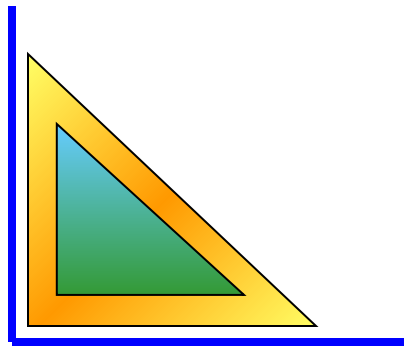
**Стороны угла - это лучи**

# *Виды углов*

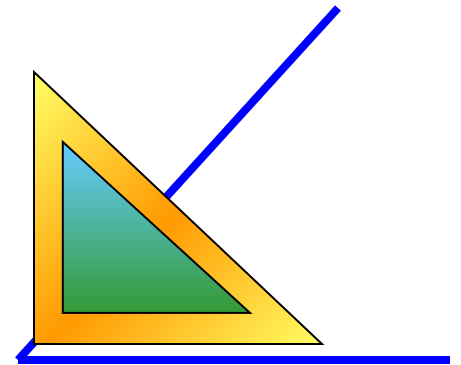
**тупой**



**прямой**



**острый**



*Работа по учебнику стр. 74 № 1*

**Углы обозначают Буквами.  
Вершина угла пишется в  
середине**

**Прямые углы: БДГ, НИЛ.**

**№ 2 стр. 74 в учебнике**

**Прямые углы: 2, 4, 5, 8, 9**

# Работа с учебником

1. прочитать объяснение в рамке на стр.  
73.

**2. Выполнить задание стр. 74 № 3**

$$46 - 30 + 14 = 30$$

$$53 + 7 - 20 = 40$$

$$76 + 4 + 19 = 99$$

$$27 + 5 + 36 = 68$$

$$65 - 24 - 9 = 32$$

$$97 - 5 - 40 = 52$$

# Домашнее задание

*Работа по рабочей тетради*

*стр. 76 № 1, 3.*

*стр. 77 № 6*