





Таблица сложения.



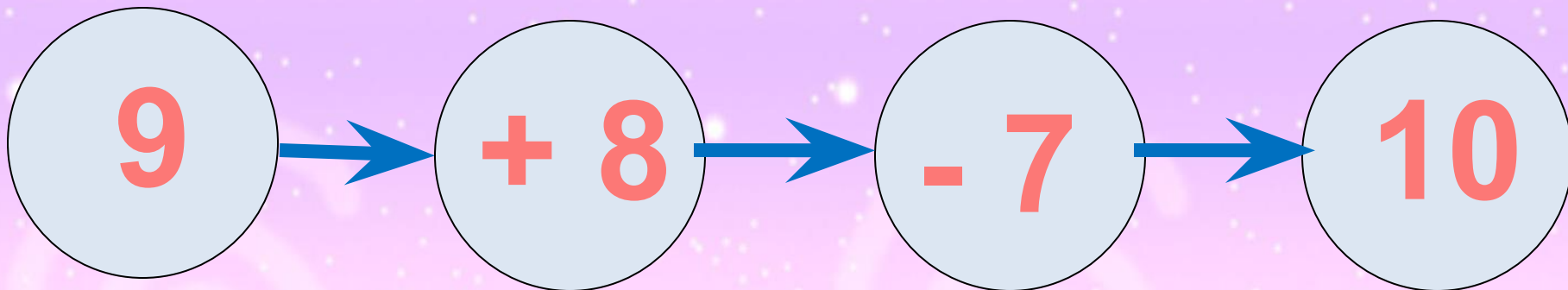
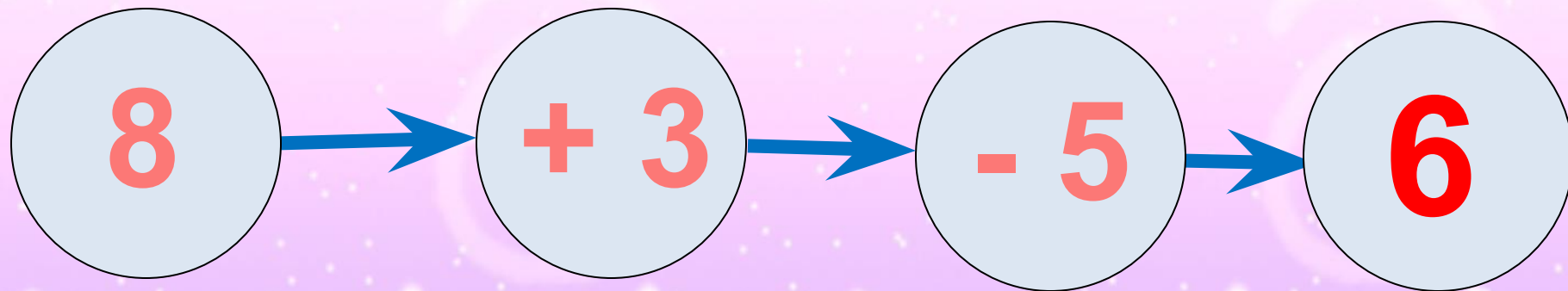
УСТНЫЙ СЧЁТ





Найди вагончики
с ответом 14 .

Реши цепочки примеров.




Купили **5** бананов и **7** яблок. За ужином съели **4** фрукта. Сколько всего фруктов осталось?



8 фруктов

$$5 + 7 - 4 = 8$$



Составьте задачи по рисункам и выражениям.




$$5 - 3$$

$$5 + 3$$



$$5 + 3 - 2$$

Над рекой летели птицы: голубь, щука, **2** синицы,
2 стрижа и **5** угрей. Сколько птиц? Ответ скорей.



5 ПТИЦ



Галя веселее **Оли**, а **Оля** веселее **Иры**. Кто самый веселый?

Галя



Таблица сложения

Проследи, как изменяется первое слагаемое; сумма (рассмотри столбцы, строки).

$9 + 2 = 11$

$8 + 3 = 11$

$7 + 4 = 11$

$6 + 5 = 11$

$9 + 3 = 12$

$8 + 4 = 12$

$7 + 5 = 12$

$6 + 6 = 12$

$9 + 4 = 13$

$8 + 5 = 13$

$7 + 6 = 13$

$9 + 5 = 14$

$8 + 6 = 14$

$7 + 7 = 14$

$9 + 6 = 15$

$8 + 7 = 15$

$9 + 7 = 16$

$8 + 8 = 16$

$9 + 8 = 17$

$9 + 9 = 18$



Реши примеры.



$$9 + 7 - 4 - 3 =$$

$$8 + 8 + 4 - 10 =$$

$$11 - 2 + 4 - 3 =$$



ЗАДАНИЯ НА СМЕКАЛКУ



Летела стая гусей. **Один** гусь впереди, **два** - сзади. **Один** гусь между **двумя** и три гуся рядом. Сколько гусей в стае?



3



Сестра старше брата на **5** лет. На сколько лет она будет старше брата через **7** лет?



на 5



Двое пошли - **3** гвоздя нашли. Следом **четверо** пойдут - много ли гвоздей найдут?



**Скорей всего
ничего не найдут.**



Шла баба в Москву и повстречала **3** мужиков.
Каждый из них нес по мешку, в каждом мешке по **1**
коту. Сколько существ направлялось в Москву?



МОСКВА

Только баба.

конец

