


Подготовка к ЕГЭ

Практический расчёт,
оценка и прикидка

Решите задачу:




Пирожное стоит 9 руб. 30 коп.
Какое наибольшее число
пирожных можно купить на
60 рублей?

Ответ: 6 пирожных.




Решите задачу:



В пачке 250 гвоздей. За неделю в мастерской расходуется 900 гвоздей. Какое наименьшее количество пачек гвоздей нужно купить в мастерскую на 7 недель?

Ответ: 26 пачек.

Решите задачу:



Магазин закупает тарелки по оптовой цене 20 рублей за штуку и продаёт с наценкой 30%. Какое наибольшее число таких тарелок можно купить в этом магазине на 140 рублей?

Ответ: 5 тарелок.