




Лисица учила своих малышей
Ловить под кустами весёлых мышей.
Мыши слышали злую лису
И спрятались все под ёлкой в лесу.
Мышек же было всего только 5,
У каждой мамы по 9 мышат.
Так сколько, скажите, мышей и мышат
Тихо под елью ветвистой сидят?





45

Какое это число?

*Можно ли представить число
45 в виде суммы двух таких
чисел, каждое из которых
делилось бы на 5?*

Ответ:

$$40+5$$

$$20+25$$

$$10+35$$




$$30+15$$


Тема урока:

Деление суммы на число



ЗАДАЧА

*4 красных и 6 зелёных яблок
разложили поровну на две
тарелки. Сколько яблок
положили на каждую
тарелку?*





10





1) $4 + 6 = 10$ (я.) - всего

2) $10 : 2 = 5$ (я.)

или $(4 + 6) : 2 = 5$ (я.)

Ответ: 5 яблок



1) $4 : 2 = 2$ (я.) - красных

2) $6 : 2 = 3$ (я.) - зелёных

3) $2 + 3 = 5$ (я.)

или $4 : 2 + 6 : 2 = 5$

Ответ: 5 яблок.

